

3.
Sınıf

TÜM

DERSLER

SORU

BANKASI

Türkçe - Matematik
Fen Bilimleri - Hayat Bilgisi
İngilizce

 tudem®

Sevgili Öğrenci,

İyi bir eğitim, hayallerinizi gerçekleştirmeniz ve hedeflerinize ulaşmanız için en gerekli unsurlardan biridir. Elinizdeki bu yayın, derslerdeki başarınızı artırmaya yardımcı olacak temel ve seçici bir kaynaktır.

Bu kitapta Türkçe, matematik, fen bilimleri, hayat bilgisi ve İngilizce derslerine ait testler yer almaktadır. Bu testler, Millî Eğitim Bakanlığının belirlediği öğretim programlarında yer alan kazanımlara uygun olarak hazırlanmıştır. Testler, ünitelerde yer alan konu başlıklarına göre düzenlenmiştir ve her testin ilgili olduğu konu başlığı belirtilmiştir. Bu özellik sayesinde elinizdeki kaynaktan en verimli biçimde yararlanacağınızı düşünüyoruz.

Hayatın her aşamasında başarılı olmanız dileğiyle...

Yazı Kurulu

3.SINIF TÜM DERSLER SORU BANKASI

©Tudem Eğitim Hiz. San. ve Tic. AŞ
1476/1 Sokak No: 10/51 Alsancak / Konak / İZMİR

YAZARLAR: Tudem Yazı Kurulu
DİZGİ VE GRAFİK: Tudem Grafik Ekibi

BASKI VE CİLT: Ertem Basım Yayın Dağıtım San. Tic. Ltd. Şti.
Eskişehir Yolu 40. km Başkent OSB 22. Cadde No: 6 Malıköy / ANKARA
0 312 284 18 14

ISBN: 978-605-285-383-2
YAYINEVİ SERTİFİKA NO: 45041
MATBAA SERTİFİKA NO: 16031

Tüm hakları saklıdır.
Bu yayının hiçbir bölümü, telif hakkı sahibinin önceden yazılı izni olmaksızın tekrar üretilemez, bir erişim sisteminde tutulamaz, herhangi bir biçimde elektronik, mekanik, fotokopi, kayıt ya da diğer yollarla iletilemez.

www.tudem.com

TÜRKÇE

1 - SÖZLÜK, HARF VE HECE BİLGİSİ, NEZAKET KURALLARI

Kazanım Testi 1 (Sözlük Sıralaması)	10
Kazanım Testi 2 (Harf ve Hece Bilgisi, Nezaket Kuralları)	12
Ünite Testi (Sözlük, Harf ve Hece Bilgisi, Nezaket Kuralları)	14

2 - SÖZCÜKTE ANLAM

Kazanım Testi 1 (Sözcükte Anlam)	17
Kazanım Testi 2 (Sözcükte Anlam)	19
Ünite Testi (Sözcükte Anlam)	21
Tekrar Testi (Sözcük, Harf ve Hece Bilgisi, Sözcükte Anlam)	24

3 - SÖZCÜKLER ARASI ANLAM İLİŞKİLERİ

Kazanım Testi 1 (Zıt Anımlı Sözcükler)	28
Kazanım Testi 2 (Eş Anımlı ve Eş Sesli Sözcükler)	30
Ünite Testi (Sözcükler Arası Anlam İlişkileri)	32

4 - CÜMLE BİLGİSİ

Kazanım Testi 1 (Cümle Oluşturma)	35
Kazanım Testi 2 (Cümle Tamamlama ve Cümlenin Anlamı)	37
Ünite Testi (Cümle Bilgisi)	39
Tekrar Testi (Sözcükler Arası Anlam İlişkileri, Cümle Bilgisi)	42
1. Dönem Tekrar Testi (Sözlük, Harf ve Hece Bilgisi, Sözcükte Anlam, Sözcükler Arası Anlam İlişkileri, Cümle Bilgisi)	46

5 - OKUDUĞUNU ANLAMA

Kazanım Testi 1 (Okuduğunu Anlama)	50
Kazanım Testi 2 (Okuduğunu Anlama)	52
Ünite Testi (Okuduğunu Anlama)	54

6 - BÜYÜK HARFLERİN KULLANIMI

Kazanım Testi 1 (Büyük Harflerin Kullanımı)	57
Kazanım Testi 2 (Büyük Harflerin Kullanımı)	59
Ünite Testi (Büyük Harflerin Kullanımı)	61
Tekrar Testi (Okuduğunu Anlama, Büyük Harflerin Kullanımı)	64

7 - NOKTALAMA İŞARETLERİ

Kazanım Testi 1 (Noktalama İşaretleri)	68
Kazanım Testi 2 (Noktalama İşaretleri)	70
Ünite Testi (Noktalama İşaretleri)	72

8 - GÖRSEL OKUMA

Kazanım Testi 1 (Tablo ve Grafik Yorumu)	75
Kazanım Testi 2 (Şekil, Sembol ve İşaretlerin Anlamı)	77
Ünite Testi (Görsel Okuma)	79
Tekrar Testi (Noktalama İşaretleri, Görsel Okuma)	82
2. Dönem Tekrar Testi (Okuduğunu Anlama, Büyük Harflerin Kullanımı, Noktalama İşaretleri, Görsel Okuma)	86
Genel Tekrar Testi	90

MATEMATİK

1 - SAYILAR VE İŞLEMLER

Kazanım Testi 1 (Doğal Sayılar)	96
Kazanım Testi 2 (Doğal Sayılarla Toplama ve Çıkarma İşlemleri)	98
Ünite Testi (Sayılar ve İşlemler)	100

2 - SAYILAR VE İŞLEMLER - VERİ İŞLEME

Kazanım Testi 1 (Doğal Sayılarla Toplama ve Çıkarma İşlemleri)	103
Kazanım Testi 2 (Veri Toplama ve Değerlendirme)	105
Ünite Testi (Sayılar ve İşlemler - Veri İşleme)	107
Tekrar Testi (Sayılar ve İşlemler - Veri İşleme)	110

3 - SAYILAR VE İŞLEMLER

Kazanım Testi 1 (Doğal Sayılarla Çarpma İşlemi)	114
Kazanım Testi 2 (Doğal Sayılarla Bölme İşlemi)	116
Ünite Testi (Sayılar ve İşlemler)	118
1. Dönem Tekrar Testi.....	121

4 - SAYILAR VE İŞLEMLER - ÖLÇME

Kazanım Testi 1 (Kesirler, Zaman Ölçme)	125
Kazanım Testi 2 (Paralarımız, Tartma)	127
Ünite Testi (Sayılar ve İşlemler - Ölçme)	129
Tekrar Testi (Sayılar ve İşlemler - Ölçme)	132

5 - GEOMETRİ

Kazanım Testi 1 (Geometrik Cisimler ve Şekiller, Geometrik Örüntüler)	136
Kazanım Testi 2 (Geometride Temel Kavramlar - Uzamsal İlişkiler)	138
Ünite Testi (Geometri)	140

6 - ÖLÇME

Kazanım Testi 1 (Uzunluk Ölçme, Çevre Ölçme)	143
Kazanım Testi 2 (Alan Ölçme, Sıvı Ölçme)	145
Ünite Testi (Ölçme)	147
Tekrar Testi (Geometri - Ölçme)	150
2. Dönem Tekrar Testi.....	154
Genel Tekrar Testi	158

FEN BİLİMLERİ

1 - GEZEĞENİMİZİ TANIYALIM

Kazanım Testi 1 (Dünya'nın Şekli).....	164
Kazanım Testi 2 (Dünya'nın Yapısı)	166
Ünite Testi (Gezegelimizi Tanıyalım)	168

2 - BEŞ DUYUMUZ

Kazanım Testi 1 (Duyu Organları ve Görevleri)	171
Kazanım Testi 2 (Duyu Organları ve Görevleri)	173
Ünite Testi (Beş Duyumuz)	175
Tekrar Testi (Gezegelimizi Tanıyalım, Beş Duyumuz)	178

3 - KUVVETİ TANIYALIM

Kazanım Testi 1 (Varlıkların Hareket Özellikleri)	182
Kazanım Testi 2 (Cisimleri Hareket Ettirme ve Durdurma)	184
Ünite Testi (Kuvveti Tanıyalım)	186

4 - MADDEYİ TANIYALIM

Kazanım Testi 1 (Maddeyi Niteleyen Özellikler)	189
Kazanım Testi 2 (Maddenin Halleri)	191
Ünite Testi (Maddeyi Tanıyalım)	193
Tekrar Testi (Kuvveti Tanıyalım, Maddeyi Tanıyalım)	196
1.Dönem Tekrar Testi (Gezegelimizi Tanıyalım, Beş Duyumuz, Kuvveti Tanıyalım, Maddeyi Tanıyalım)	200

5 - ÇEVREMİZDEKİ IŞIK VE SESLER

Kazanım Testi 1 (Işığın Görmedeki Rolü, Işık Kaynakları)	204
Kazanım Testi 2 (Çevremizdeki Sesler, Sesin İşitmedeki Rolü)	206
Ünite Testi (Çevremizdeki Işık ve Sesler)	208

6 - CANLILAR DÜNYASINA YOLCULUK

Kazanım Testi 1 (Çevremizdeki Varlıkları Tanıyalım)	211
Kazanım Testi 2 (Ben ve Çevrem)	213
Ünite Testi (Canlılar Dünyasına Yolculuk)	215
Tekrar Testi (Çevremizdeki Işık ve Sesler, Canlılar Dünyasına Yolculuk)	218

7 - ELEKTRİKLİ ARAÇLAR

Kazanım Testi 1 (Elektrikli Araç-Gereçler, Elektrik Kaynakları)	222
Kazanım Testi 2 (Elektriğin Güvenli Kullanımı)	224
Ünite Testi (Elektrikli Araçlar)	226
2.Dönem Tekrar Testi (Çevremizdeki Işık ve Sesler, Canlılar Dünyasına Yolculuk, Elektrikli Araçlar)	229
Genel Tekrar Testi (Gezegelimizi Tanıyalım, Beş Duyumuz, Kuvveti Tanıyalım, Maddeyi Tanıyalım, Çevremizdeki Işık ve Sesler, Canlılar Dünyasına Yolculuk, Elektrikli Araçlar)	233

HAYAT BİLGİSİ

1 - OKULUMUZDA HAYAT

Kazanım Testi 1 (Davranışların Gücü)	238
Kazanım Testi 2 (Okulumun Katkıları ve Meslekler)	240
Ünite Testi (Okulumuzda Hayat)	242

2 - EVİMİZDE HAYAT

Kazanım Testi 1 (Dünden Bugüne Değişenler)	245
Kazanım Testi 2 (Planlıyım Başarılyım)	247
Ünite Testi (Evimizde Hayat)	249
Tekrar Testi (Okulumuzda Hayat, Evimizde Hayat)	252

3 - SAĞLIKLI HAYAT

Kazanım Testi 1 (Bilinçli Olmanın Faydaları)	256
Kazanım Testi 2 (Dengeli Beslenme)	258
Ünite Testi (Sağlıklı Hayat)	260
1.Dönem Tekrar Testi (Okulumuzda Hayat, Evimizde Hayat, Sağlıklı Hayat)	263

4 - GÜVENLİ HAYAT

Kazanım Testi 1 (Trafikte Kurallara Uyalım)	267
Kazanım Testi 2 (Önce Güvenlik)	269
Ünite Testi (Güvenli Hayat)	271
Tekrar Testi (Sağlıklı Hayat, Güvenli Hayat)	274

5 - ÜLKEMİZDE HAYAT

Kazanım Testi 1 (Ülkemizde Yönetim)	278
Kazanım Testi 2 (Toplum Hayatı)	280
Ünite Testi (Ülkemizde Hayat)	282

6 - DOĞADA HAYAT

Kazanım Testi 1 (Çevremizdeki Canlılar)	285
Kazanım Testi 2 (Doğayı Koruma)	287
Ünite Testi (Doğada Hayat)	289
Tekrar Testi (Ülkemizde Hayat, Doğada Hayat)	292
2. Dönem Tekrar Testi (Güvenli Hayat, Ülkemizde Hayat, Doğada Hayat)	296
Genel Tekrar Testi (Okulumuzda Hayat, Evimizde Hayat, Sağlıklı Hayat, Güvenli Hayat, Ülkemizde Hayat, Doğada Hayat)	300

İNGİLİZCE

1 - GREETING

Kazanım Testi 1 (Greeting and Saluting - Naming Numbers)	306
Kazanım Testi 2 (Naming Numbers - Introducing Oneself)	307
Ünite Testi (Greeting)	308

2 - MY FAMILY

Kazanım Testi 1 (Introducing Family Members)	310
Kazanım Testi 2 (Asking about Family Members)	311
Ünite Testi (My Family)	312

3 - PEOPLE I LOVE

Kazanım Testi 1 (Describing Characters and People)	314
Kazanım Testi 2 (Expressing Ability and Inability)	315
Ünite Testi (People I Love)	316
Tekrar Testi (Greeting - My Family - People I Love).....	318

4 - FEELINGS

Kazanım Testi 1 (Expressing Feelings)	322
Kazanım Testi 2 (Making Simple Suggestions)	323
Ünite Testi (Feelings)	324

5 - TOYS AND GAMES

Kazanım Testi 1 (Expressing Quantity - Naming Colors)	326
Kazanım Testi 2 (Naming Colors - Talking about Possessions)	327
Ünite Testi (Toys and Games)	328
1. Dönem Tekrar Testi.....	330

6 - MY HOUSE

Kazanım Testi 1 (Describing Sizes and Shapes - Talking about Locations of Things)	332
Kazanım Testi 2 (Talking about Locations of Things - Talking about Possessions)	333
Ünite Testi (My House)	334
Tekrar Testi (Feelings - Toys and Games - My House)	336

7 - IN MY CITY

Kazanım Testi 1 (Apologizing - Talking about Locations of Things and People)	340
Kazanım Testi 2 (Talking about Locations of Things and People - Making Simple Inquiries)	341
Ünite Testi (In My City)	342

8 - TRANSPORTATION

Kazanım Testi 1 (Talking about Locations of Things - Making Simple Inquiries)	344
Kazanım Testi 2 (Asking and Giving Information about Transportation)	345
Ünite Testi (Transportation)	346

9 - WEATHER

Kazanım Testi 1 (Describing the Weather)	348
Kazanım Testi 2 (Making Simple Inquiries)	349
Ünite Testi (Weather)	350

10 - NATURE

Kazanım Testi 1 (Expressing Likes and Dislikes)	352
Kazanım Testi 2 (Making Simple Inquiries - Talking about Nature and Animals)	353
Ünite Testi (Nature)	354
Tekrar Testi (In My City - Transportation - Weather - Nature).....	357

YANIT ANAHTARI.....	361
----------------------------	------------

Kazanım Testi 1 - Sözlük Sıralaması

1. “Aydınlık, ayı, ayna, aydın, aylık, ay” sözcükleri sözlük sırasına göre dizildiğinde baştan üçüncü sözcük aşağıdakilerden hangisidir?

- A) Aydınlık
- B) Ayı
- C) Aylık

2. Aşağıdakilerin hangisinde sözcükler, sözlük sırasına göre dizilmiştir?

- A) Penye - Pense - Penisilin
- B) Çamur - Çamlık - Çamaşır
- C) Dayanıklı - Dayatma - Dayı

3. 1. Anayasa
2. Analiz
3. Anahtar
4. Anatomi
5. Ana

Numaralanmış sözcüklerin alfabetik sıralanışı aşağıdakilerden hangisidir?

- A) 4 - 5 - 3 - 2 - 1
- B) 5 - 3 - 2 - 4 - 1
- C) 5 - 4 - 3 - 1 - 2

4. Aşağıdaki sözcüklerden hangisi sözlükte diğerlerinden önce gelir?

- A) Teknoloji
- B) Teknik
- C) Tekne

5. Aşağıdaki görselleri verilen meyvelerden hangisini karşılayan sözcük, sözlükte diğerlerinden önce gelir?

A)



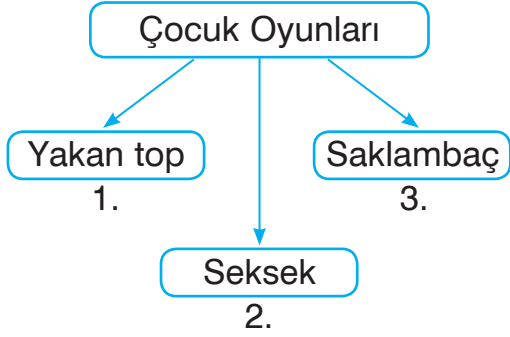
B)



C)



6.



Şekilde “çocuk oyunları”nın adları sözlük sırasına göre yazılı olmalıdır.

Buna göre hangi iki sözcük yer değiştirmelidir?

- A) 1 ve 2
- B) 1 ve 3
- C) 2 ve 3

7. 1. Karanlık
2. Karar
3. Karavana
4. Kara
5. Karaca

Numaralanmış sözcüklerin alfabetik sıralaması aşağıdakilerden hangisinde doğru verilmiştir?

- A) 4 - 5 - 1 - 2 - 3
- B) 5 - 4 - 2 - 3 - 1
- C) 1 - 2 - 3 - 4 - 5

8.

Bilge Bilgi ? Bilimsel

Kutulardaki sözcükler sözlük sırasına göre dizilmiştir.

Buna göre ? olan yere aşağıdakilerden hangisi getirilemez?

- A) Bilgin
- B) Bilim
- C) Bilinç

tudem

9. **Aşağıdaki sözcük gruplarından hangisi alfabetik sıra ile yazılmamıştır?**

- A) Alt - Altı - Altıgen
- B) Ada - Adalet - Adak
- C) Akademi - Akarsu - Akasya

10. **Aşağıdaki sözcüklerden hangisi sözlükte diğerlerinden önce gelir?**

- A) Demir
- B) Demircilik
- C) Demirci

◆◆ Ünite Testi

11. Her yerden daha güzel,
Bizim için burası.
Okul, sevgili okul,
Neşe, bilgi yuvası!

Rakım ÇALAPALA

Bu şiirde kaç ünlü harf vardır?

- A) 35 B) 31 C) 28

12. Ünlü harfler □, ünsüz harfler ● ile gösterilirse “Bugün parka gittik.” cümlesinin kodlaması aşağıdakilerden hangisi olur?

- A) □●□●● ●□●□● □●□□●□
B) ●□□□● ●□●●□ ●□●●□□
C) □●□●□ □●□□● □●□□□

13. Murat, ders sırasında anlamadığı yeri söz hakkı istemeden öğretmenine sormuştur.
Hatalı davrandığını fark ettiğinde;

1. Özür dilerim.
2. Lütfen.
3. Kusura bakmayın.

ifadelerinden hangilerini kullanması doğrudur?

- A) Yalnız 1
B) 2 ve 3
C) 1 ve 3

- 14.

		Doğru	Yanlış
1.	Derste konuşmadan önce söz hakkı istemeliyiz.	X	
2.	Ders sırasında başka şeylerle ilgilenmemeliyiz.		X
3.	Dersi dikkatimizi yoğunlaştırarak dinlemeliyiz.	X	

Numaralanmış kuralların doğru mu, yanlış mı olduğu işaretlenmiştir.

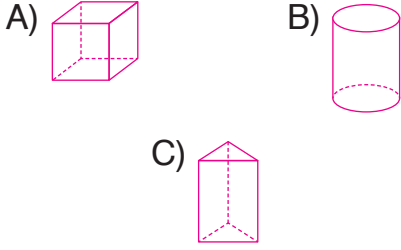
Buna göre hangisiyle ilgili işaretleme hatalıdır?

- A) 1 B) 2 C) 3

15. Aşağıdaki sözcük dizilerinin hangisinde sözcükler, sözlük sırasına göre dizilmemiştir?

- A) Menajer - Mendil - Mentol
B) Dizi - Dizilim - Dizlik
C) Yakıcı - Yaklaşık - Yakın

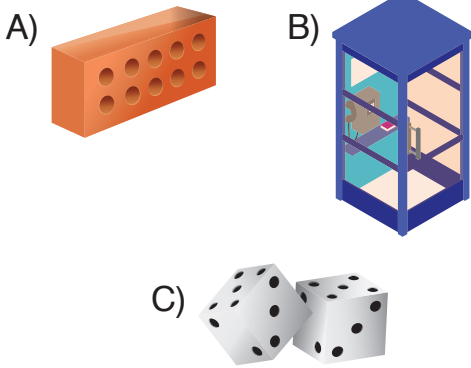
1. Aşağıdaki geometrik cisimlerden hangisinin köşesi yoktur?



2. Bütün yüzleri karesel bölge olan geometrik cisim aşağıdakilerden hangisidir?

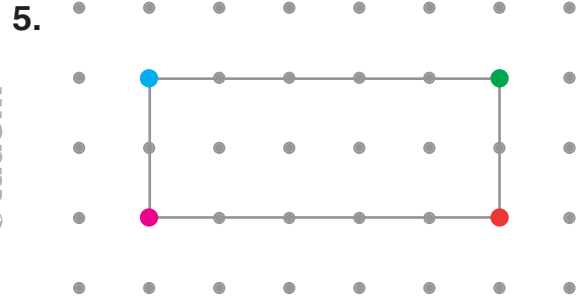
- A) Küp
B) Küre
C) Kare prizma

3. Aşağıdaki geometrik cisim modellerinden hangisinin yüzlerinden biri dikdörtgenel bölge değildir?



4. Aşağıdaki geometrik cisimlerden hangisinin ayrıt sayısı en azdır?

- A) Küp
B) Üçgen prizma
C) Dikdörtgen prizma

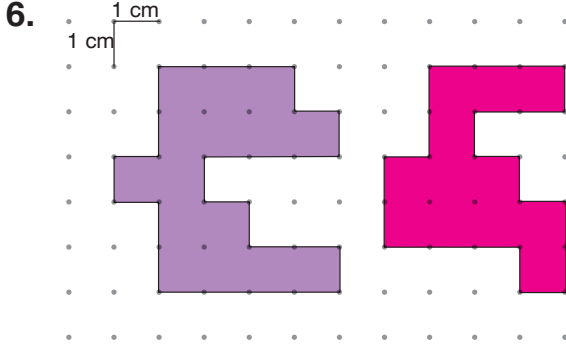


Noktalı kâğıtta verilen dikdörtgenin köşeleri farklı renkte noktalarla belirtilmiştir.

Buna göre hangi renkteki iki nokta düz bir çizgi ile birleştirildiğinde dikdörtgenin köşegenlerinden biri elde edilmez?

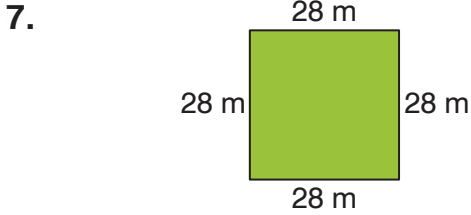
- A) Pembe ve mavi
B) Mavi ve kırmızı
C) Yeşil ve pembe

◆◆ Ünite Testi



İki nokta arası 1 cm olan noktalı kâğıtta verilen mor renkli şekil ile pembe renkli şeklin çevre uzunlukları farkı kaç santimetredir?

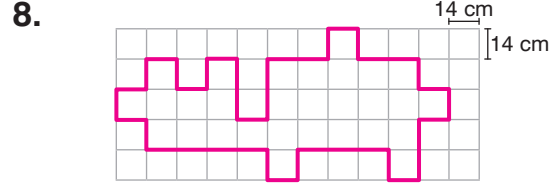
- A) 4 B) 6 C) 8



Bir kenarının uzunluğu 28 m olan kare şeklindeki bir bahçenin çevresi 148 m telle çevrenmek isteniyor.

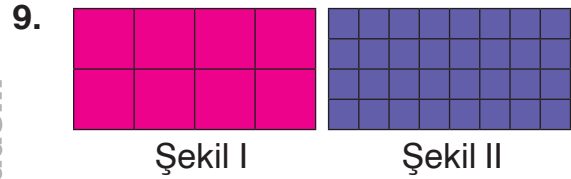
Buna göre kaç metre uzunluğunda tel artar?

- A) 24 B) 36 C) 42



Kareli kâğıttaki şeklin çevre uzunluğu kaç santimetredir?

- A) 532 B) 546 C) 560



Düz bir yüzeyin üstü önce şekil I'deki gibi eş pembe kâğıtlarla, sonra şekil II'deki gibi eş mor kâğıtlarla boşluk kalmayacak şekilde kaplanıyor.

Buna göre aşağıdakilerden hangisi yanlıştır?

- A) Yüzeyin alanı 8 pembe kâğıda eşittir.
B) Yüzeyin alanı 32 mor kâğıda eşittir.
C) Pembe kâğıtla ölçüldüğünde alan daha büyüktür.

◆◆ Tekrar Testi

Geometri - Ölçme

1. Aşağıdakilerden hangisi küp ve kare prizmanın ortak özelliği değildir?

- A) 8 köşesi vardır.
- B) 6 yüzü karesel bölgedir.
- C) 12 ayrıtı vardır.

2. Aşağıdakilerden hangisinin köşe sayısı farklıdır?

- A) Küp
- B) Kare prizma
- C) Üçgen prizma

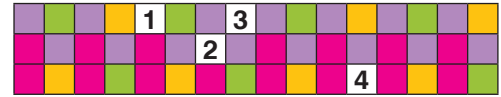
3. Aşağıdaki cisimlerden hangisini oluşturan yüzler arasında karesel bölge bulunmaz?

- A) Dikdörtgen prizma
- B) Küp
- C) Kare prizma

4. Aşağıdaki geometrik şekillerden hangisinin kenar sayısı tek sayıdır?

- A) Beşgen
- B) Altıgen
- C) Sekizgen


5.



Kaplama örüntüsü tamamlandığında numaralandırılmış kareler sırasıyla hangi renk kaplanır?


- A) Mor, turuncu, yeşil, pembe
- B) Mor, pembe, turuncu, yeşil
- C) Mor, yeşil, pembe, turuncu

6. Aşağıdakilerden hangisi bir açının çizgi modelidir?



Kazanım Testi 1 - Dünya'nın Şekli

1. Dünya'nın şekli aşağıdaki resimlerdeki meyvelerden hangisine benzer?



2. Maceraperest bir denizci olan Dünya'nın yuvarlak olduğunu kitaplardan okumuştur. 1492 yılında üç gemi ile yola çıktı. Devamlı batıya doğru gitti. Hindistan'a ulaştığını zannetti ama gittiği yer Amerika kıtasıydı.

Metinde bahsedilen kâşif kimdir?

- A) Kristof Kolomb
- B) Amerigo Vespucci
- C) Macellan

3. Dünya'nın şekliyle ilgili birçok bilim insanı bazı görüşler öne sürmüştür.

Buna göre, aşağıdaki bilim insanlarından hangisi gerçeğe uygun bir görüş bildirmiştir?

- A) Biruni, Dünya'nın şeklinin silindirdir olduğunu söylemiştir.
- B) Pisagor, Dünya'nın yuvarlak olduğunu söylemiştir.
- C) Aristo, Dünya'nın şeklinin yumurtaya benzediğini söylemiştir.

©tudem


4.



Pisagor



Macellan



Edison

Verilen bilim insanlarından hangisi Dünya'nın şekli ile ilgili yorumda bulunmamıştır?

- A) Pisagor
- B) Macellan
- C) Edison


5. Dünya'nın şeklinin küre olduğunun kesin kanıtı aşağıdakilerden hangisidir?

- A) Ay'ın küre şeklinde olması.
- B) Gece ve gündüzün oluşması.
- C) Dünya'nın uzaydan çekilen fotoğrafları.

7. Aşağıdakilerden hangisi eski dönemlerde Dünya'nın yuvarlak olduğunu söylemiş bilim insanı değildir?


- A) Pisagor
- B) Galileo
- C) Einstein

6. Günümüzden yüzyıllar önce yaptığı gemi yolculuğu ile Dünya'nın yuvarlak olduğunu kanıtlayan bilim insanı aşağıdakilerden hangisidir?



Pisagor


Macellan



Newton

8. Tamer Öğretmen Dünya modeli yapmak için öğrencilerin evlerinden bazı eşyalar getirmelerini istemiştir.

Buna göre, hangi öğrencinin getirdiği eşya uygun değildir?



Tenis topu

Yumurta

C)



Portakal

◆◆ Kazanım Testi - 2

Dünya'nın Yapısı

1. Dünya ile ilgili verilen bilgilerden hangisi doğrudur?

- A) Dünya'nın büyük bölümü karalarla kaplıdır.
- B) Dünya'nın şekli küreye benzer.
- C) Dünya'da canlılık sadece karalardadır.

2.



Dünyamız için kullanılan "Mavi Küre" ifadesi ile aşağıdakilerden hangisi anlatılmak istenmektedir?

- A) Uzaydan çekilen resimlerde Dünya'nın büyük çoğunluğunun sularla kaplı olduğunun görünmesi.
- B) Dünya'nın atmosferinin mavi renkte olması.
- C) Karaların mavi renkte görünmesi.

3. küre, canlıların solunumu için gerekli gazların karışımından oluşur.

Cümlede boş kalan yere aşağıdakilerden hangisi gelmelidir?

- A) Su
- B) Hava
- C) Taş

© tudem

4. Depremler, Dünya'nın hangi tabakasında meydana gelir?

- A) Kara
- B) Su
- C) Hava

5. Dünyamız'ın 1/4'ünü kaplar.

Noktalı yere aşağıdakilerden hangisi gelebilir?

- A) karalar
- B) sular
- C) hava

Kazanım Testi 1 - Davranışların Gücü

1.

	E	H
Okula her gün hazırlıklı giderim.	✓	
Ödevlerimi zamanında yapamam.		✓
Ödevlerimi eksik yaparım.		✓
Okula hazırlıklı geldiğimde derslere daha fazla katılırım.	✓	

Yukarıdaki değerlendirme formunu dolduran bir öğrenci için aşağıdakilerden hangisi söylenemez?

- A) Başarılı bir öğrencidir.
- B) Okula hazırlıklı gitmenin önemini kavrayamamıştır.
- C) Okulda öğrendiklerini evde tekrar etmeyi alışkanlık haline getirmiştir.

2. **Amacımızı belirledikten sonra aşağıda belirtilen davranışlardan hangisini yapmamalıyız?**

- A) Kişisel çaba harcamalıyız.
- B) Araştırma yapıp yeniliklerden kaçınmalıyız.
- C) Zorlukları aşmak için gerekirse yardım almalıyız.

3. **Aşağıdaki ifadelerden hangisi yanlıştır?**

- A) Herkesin bizim gibi düşünmesini sağlamalıyız.
- B) İnsanlarla sağlıklı iletişim kurabilmek için öfkemizi kontrol etmeliyiz.
- C) Sorunlarımızı konuşarak çözmeliyiz.

4.

Öfkeyle baş edebilmek için

Gizem, arkadaşlarıyla sorun yaşamamak için cümlesini aşağıdakilerden hangisiyle tamamlamalıdır?

- A) içimden 10'a kadar sayarım.
- B) kavga ederim.
- C) arkadaşlarıma bağırırım.

5. **Aşağıdakilerden hangisi başkalarının haklarına saygısızlıktır?**

- A) Çevremizdekilerin düşüncelerine saygı göstermek
- B) Haklarımızı çiğneyenleri ikaz etmek
- C) Hep kendi isteklerimizi yapmak

◆◆ Kazanım Testi - 2

Okulumun Katkıları ve Meslekler

1.

Okullar, demokrasi bilincini oluşturmak için öğrencilere kendi istedikleri bir konuda çalışma olanağı sağlar.

Verilen açıklamaya göre aşağıdakilerden hangisi yanlıştır?

- A) Okullar bireysel gelişimi sağlar.
- B) Okul düzenini öğrenciler sağlar.
- C) Demokrasi bilincini oluşturur.

2. 1. Sorumluluk
2. Özgüven
3. Disiplin

Verilenlerden hangileri okulun bireysel gelişiminize katkılarındandır?

- A) 1 ve 2
- B) 2 ve 3
- C) 1, 2 ve 3

3. **Aşağıdakilerden hangisi okullardaki sosyal yardımlaşma ve dayanışma çalışmalarından biri değildir?**

- A) Resim yarışması düzenlemek
- B) İhtiyaç sahipleri için kermes düzenlemek
- C) Kardeş okul için kitap toplama kampanyası düzenlemek

4.

		D	Y
1.	Paylaşmayı öğretir.		
2.	Sorunları çözme becerisi kazandırır.		
3.	Bizi gelecek yaşama hazırlar.		

Tablo "Okulun bize kazandırdıkları nelerdir?" sorusuna göre doldurulduğunda aşağıdakilerden hangisi doğru olur?

- A)

D	Y
✓	
✓	
✓	

 B)

D	Y
	✓
✓	
✓	

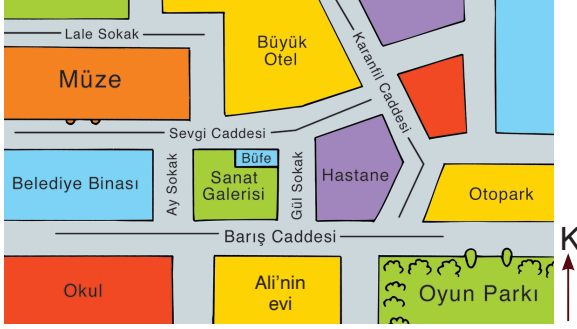
 C)

D	Y
✓	
	✓
✓	

5. **Öğretmenine oturduğu sırayla ilgili sorununu anlatmak isteyen Berna aşağıdaki davranışlardan hangisini sergilemelidir?**

- A) Öğretmeninin sözünü kesmeli
- B) Söz alarak konuşmalı
- C) Arkadaşının sözünü kesmeli

◆◆ Kazanım Testi - 1



(Verilen krokiye göre 6, 7 ve 8. soruları yanıtlayın.)

6. Krokiye göre aşağıdakilerden hangisi söylenemez?

- A) Müze belediye binasının kuzeyindedir.
- B) Ali'nin evi, okul ile oyun parkının arasındadır.
- C) Oyun parkı, otoparkın kuzeyindedir.

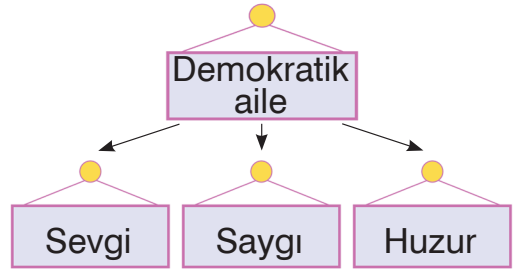
7. Ali evinden müzeye gidecektir. **Ali müzeye gidebilmek için hangi cadde ve sokaktan geçmelidir?**

- A) Barış Caddesi - Ay Sokak - Sevgi Caddesi
- B) Barış Caddesi - Lale Sokak - Ay Sokak
- C) Barış Caddesi - Gül Sokak - Lale Sokak

8. Krokiye göre Ali'nin evi hangi yödedir?

- A) Batı
- B) Kuzey
- C) Güney

9.



Aşağıdakilerden hangisi verilen kavram haritasında yer almaz?

- A) Kıskançlık
- B) İş birliği
- C) Güven

10. Aile bireylerinin iş bölümüne katılımı ailedeki huzur ve mutluluğu artırır.

Aşağıdakilerden hangisi çocukların ailedeki iş bölümüne katıldığını göstermez?

- A) Bir işte çalışarak para kazanmaları
- B) Odalarını temiz ve düzenli tutmaları
- C) Sofranın hazırlanmasına yardım etmeleri



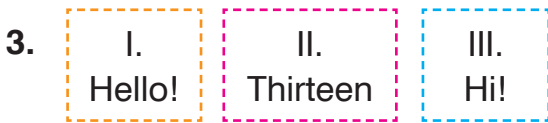
Diyaloğu uygun şekilde tamam-
lamayan ifade aşağıdakilerden
hangisidir?

- A) How do you spell your name?
B) Spell your name, please!
C) How old are you?



Resme uygun ifade aşağıdaki-
lerden hangisidir?

- A) Good afternoon!
B) Good morning!
C) Good night!



Farklı olan ifade hangisidir?

- A) III. B) II. C) I.




Which number is not in the photo?
Resimde yer almayan rakam
hangisidir?

- A) Twenty B) Twelve
C) Ten



Resme göre cümleyi tamamlı-
yan ifade aşağıdakilerden han-
gisidir?

- A) good bye! B) see you!
C) I am a student.




Good bye, Jack! Have a _____
day.

Cümleyi tamamlamayan ifade
aşağıdakilerden hangisidir?

- A) bad B) good C) Nice


1.



Aşağıdaki hangi sorunun cevabı resimde verilmemiştir?

- A) How are you today?
- B) How do you spell your name?
- C) How old are you?


2.



Aşağıdakilerin hangisinde cümle sırasıyla doğru tamamlanmıştır?

- A) I / My
- B) my / My
- C) my / I

3.



Örüntüye göre boşlukları sırasıyla doğru şekilde tamamlayan hangisidir?

- A) eight / twelve
- B) twenty / eleven
- C) four / fourteen

4. A: _____ are you today?

B: Fine, thank you.

Diyaloğu uygun şekilde tamamlayan ifade aşağıdakilerden hangisidir?

- A) What
- B) How
- C) Hello

5.



There are _____ students in the class.

Resme göre cümleyi tamamlayan ifade hangisidir?

- A) six
- B) ten
- C) eight

6.



Resme uygun ifade aşağıdakilerden hangisidir?

- A) Good evening!
- B) Good morning!
- C) Good night!

◆◆ Ünite Testi

Greeting

1. **Six** and **Six** is?

Yukarıdaki işlemin doğru cevabı hangisidir?

- A) Thirteen
- B) Twelve
- C) Twenty

2.

How old are you?

How are you today?

How do you spell your name?

Hangisi yukarıdaki sorulardan birinin cevabı olamaz?

- A) I'm ten years old.
- B) P-A-U-L
- C) I am Paul.

3. **Son:** Good bye daddy! See you.
Dad: Bye! See you honey, _____.
Diyaloğu tamamlayan ifade hangisidir?

- A) take care
- B) hi
- C) welcome

4.

name please spell your

Karışık olarak verilmiş cümlelerin doğru sıralaması hangisidir?

- A) Spell please your name!
- B) Spell your name, please!
- C) Spell name please, your!

5.



There are _____ balloons.
Resme göre cümleyi tamamlayan ifade hangisidir?

- A) sixteen
- B) seventeen
- C) eighteen

6.



Good _____ everybody!
Resme göre cümleyi tamamlayan ifade hangisidir?

- A) evening
- B) night
- C) afternoon

TÜM DERSLER SORU BANKASI

3. Sınıf

Türkçe - Matematik Fen Bilimleri Hayat Bilgisi - İngilizce

- Öğretim programlarına uygun olarak hazırlanan bu kitapta üniteler, konu başlıklarına göre bölümlenmiş ve testler bu düzende oluşturulmuştur.
- Kitapta yer alan 1729 soru, öğrenme eksiklerini giderici ve öğrenilenleri pekiştirici niteliktedir.

www.tudem.com

