

5. SINIF

Tüm Dersler



8 Adet 80 Soruluk Deneme Sınavı

Beceri Temelli Yeni Nesil Sorularla

BlokTest®

5. SINIF

Tüm Dersler

Türkçe • Sosyal Bilgiler • Din Kültürü ve Ahlak Bilgisi • İngilizce
Matematik • Fen Bilimleri



1

SINAVDAKİ SORULARIN DERSLERE GÖRE KONU ANALİZİ

SÖZEL	TÜRKÇE	Sözcükte ve Sözcük Gruplarında Anlam, Söz Sanatları, Kökler ve Ekler, Deyim - Atasözü - Özdeyiş, Cümlede Anlam, Okuduğunu Anlama ve Yorumlama
	SOSYAL BİLGİLER	Birey ve Toplum
	DİN KÜLTÜRÜ VE AHLAK BİLGİSİ	Allah İnancı
	İNGİLİZCE	Simple Present Tense, Expressing Likes and Dislikes, Asking for and Giving Directions, Locations of Things and People
SAYISAL	MATEMATİK	Doğal Sayılar, Doğal Sayılarla İşlemler
	FEN BİLİMLERİ	Güneş, Dünya ve Ay

ÖĞRENCİNİN DİKKATİNE!

- Bu kitapçıkta TÜRKÇE testinde 20 soru, SOSYAL BİLGİLER testinde 10 soru, DİN KÜLTÜRÜ VE AHLAK BİLGİSİ testinde 5 soru, İNGİLİZCE testinde 5 soru, MATEMATİK testinde 20 soru, FEN BİLİMLERİ testinde 20 soru, olmak üzere toplam 80 soru vardır.
- Kitapçıkta soruların tümünü cevaplamak için önerilen süre 120 dakikadır.
- Cevaplarınızı, cevap kâğıdındaki ilgili alanlara yuvarlağın dışına taşırmadan kodlayınız.
- Her sorunun tek bir doğru cevabı vardır. Birden fazla cevap işaretlenmişse o soru yanlış cevaplanmış sayılır.
- Soruların çözümü için size ayrıca boş kâğıt verilmeyecektir. Soru kitapçığınızın içindeki boş alanları çözümlerinizi için kullanabilirsiniz.
- Puanlama: Her bir ders testine ait ham puan; ilgili teste ait doğru cevap sayısından yanlış cevap sayısının üçte biri çıkarılarak hesaplanacaktır.

Adı Soyadı :

Sınıf - Şube - No :

Okulu :

BlokTest®

1. Bu testte 20 soru vardır.
2. Cevaplarınızı, bu sayfanın altında Türkçe testi için ayrılan yere işaretleyiniz.

1. Resim yapmaya küçük yaşlarda başlayan ressam, oldukça yeteneklidir. Özellikle doğa manzaralarının resmini yapar. Yaptığı bu resimlerde insanlara ve yapay unsurlara yer vermemesi, onun en belirgin özelliğidir. Doğa manzaraları oldukça yalındır ve insanın huzur, öfke, hırçılık gibi duygularını yansıtıcı niteliktedir. Bunun yanı sıra resimlerini yaparken tamamen gerçekçi bir yaklaşım izler. Doğayı, olduğu gibi aktarır kâğıda.


Buna göre aşağıdakilerden hangisinin bu metinde sözü edilen ressama ait olması beklenmez?



2. Deyimler, bir dilin söz varlığını, zenginliğini ve kültür birikimini gösteren en önemli belgelerdir. Deyimler, genellikle gerçek anlamından az çok ayrı, kendine özgü bir anlam taşıyan kalıplaşmış söz öbeği yani tabirlerdir. Bu söz öbekleri, belli durumları ifade eder. Örneğin; birinin sevgi ve ilgisini kazanma durumunu ifade etmek için “gözüne girmek” deyimini kullanırsınız. Deyimlerde esas nokta, az sözle çok şey anlatmaktır.

Bu açıklamaya göre aşağıdaki cümlelerin hangisinde deyim kullanılmamıştır?

- A) Tanıdığım diğer eski topraklar gibi Fehmi Amca da yetinmeyi bilir, her çok azdan olur, diye nasihat ederdi bizlere.
- B) Polisiye roman türünde okuduğum onlarca kitabın içinde en gözü kara çıkan karakter kim, diye soracak olsanız hiç düşünmeden cevap veririm.
- C) Yıllarca sessiz kalmış bu duruma ama ne fayda, kardeşinin yaptığı hatalar yüzünden ona dış bileyip durmuş içten içe.
- D) Ona ilettiğim yardım teklifimi kabul etmiyor ama ne olur ne olmaz diye, yine de açık kapı bırakıyordu.



BlokTest

Cevaplarınızı Bu Bölüme İşaretleyiniz

Soru	A	B	C	D	Soru	A	B	C	D
1	<input type="radio"/>	<input type="radio"/>	<input type="radio"/>	<input type="radio"/>	14	<input type="radio"/>	<input type="radio"/>	<input type="radio"/>	<input type="radio"/>
2	<input type="radio"/>	<input type="radio"/>	<input type="radio"/>	<input type="radio"/>	15	<input type="radio"/>	<input type="radio"/>	<input type="radio"/>	<input type="radio"/>
3	<input type="radio"/>	<input type="radio"/>	<input type="radio"/>	<input type="radio"/>	16	<input type="radio"/>	<input type="radio"/>	<input type="radio"/>	<input type="radio"/>
4	<input type="radio"/>	<input type="radio"/>	<input type="radio"/>	<input type="radio"/>	17	<input type="radio"/>	<input type="radio"/>	<input type="radio"/>	<input type="radio"/>
5	<input type="radio"/>	<input type="radio"/>	<input type="radio"/>	<input type="radio"/>	18	<input type="radio"/>	<input type="radio"/>	<input type="radio"/>	<input type="radio"/>
6	<input type="radio"/>	<input type="radio"/>	<input type="radio"/>	<input type="radio"/>	19	<input type="radio"/>	<input type="radio"/>	<input type="radio"/>	<input type="radio"/>
7	<input type="radio"/>	<input type="radio"/>	<input type="radio"/>	<input type="radio"/>	20	<input type="radio"/>	<input type="radio"/>	<input type="radio"/>	<input type="radio"/>
8	<input type="radio"/>	<input type="radio"/>	<input type="radio"/>	<input type="radio"/>	21	<input type="radio"/>	<input type="radio"/>	<input type="radio"/>	<input type="radio"/>
9	<input type="radio"/>	<input type="radio"/>	<input type="radio"/>	<input type="radio"/>	22	<input type="radio"/>	<input type="radio"/>	<input type="radio"/>	<input type="radio"/>
10	<input type="radio"/>	<input type="radio"/>	<input type="radio"/>	<input type="radio"/>	23	<input type="radio"/>	<input type="radio"/>	<input type="radio"/>	<input type="radio"/>
11	<input type="radio"/>	<input type="radio"/>	<input type="radio"/>	<input type="radio"/>	24	<input type="radio"/>	<input type="radio"/>	<input type="radio"/>	<input type="radio"/>
12	<input type="radio"/>	<input type="radio"/>	<input type="radio"/>	<input type="radio"/>	25	<input type="radio"/>	<input type="radio"/>	<input type="radio"/>	<input type="radio"/>
13	<input type="radio"/>	<input type="radio"/>	<input type="radio"/>	<input type="radio"/>	26	<input type="radio"/>	<input type="radio"/>	<input type="radio"/>	<input type="radio"/>

Öğrenci No

0	<input type="radio"/>	<input type="radio"/>	<input type="radio"/>	<input type="radio"/>
1	<input type="radio"/>	<input type="radio"/>	<input type="radio"/>	<input type="radio"/>
2	<input type="radio"/>	<input type="radio"/>	<input type="radio"/>	<input type="radio"/>
3	<input type="radio"/>	<input type="radio"/>	<input type="radio"/>	<input type="radio"/>
4	<input type="radio"/>	<input type="radio"/>	<input type="radio"/>	<input type="radio"/>
5	<input type="radio"/>	<input type="radio"/>	<input type="radio"/>	<input type="radio"/>
6	<input type="radio"/>	<input type="radio"/>	<input type="radio"/>	<input type="radio"/>
7	<input type="radio"/>	<input type="radio"/>	<input type="radio"/>	<input type="radio"/>
8	<input type="radio"/>	<input type="radio"/>	<input type="radio"/>	<input type="radio"/>
9	<input type="radio"/>	<input type="radio"/>	<input type="radio"/>	<input type="radio"/>

3, 4, 5 ve 6. soruları aşağıdaki metinlere göre yanıtlayın.

1. metin

Filler insanlar yüzünden evrime uğramaya başladı. Nasıl mı? İnsanlar yıllardır dişleri için filleri avlıyor. Birçok fil sürüsü bu şekilde yok ediliyor. Az miktarda doğan dişsiz filler, bu avlanmanın sonucunda hayatta kalıyor ve çoğalıyor. Böylece dişsiz bir hayvan hâline gelerek evrimleşiyor. Peki, dişsiz olmaları ne anlama geliyor? Kendilerini koruyamıyorlar, su için toprağı kazamıyorlar, düşmüş ağaçları oynatıp yollarını açamıyorlar.

2. metin

Ötücü kuğular genellikle sudan kalkış yaparak oldukça yüksekte uçuş yapabiliyorlar. Göç uçuşları, 1300 km'ye kadar uzayabiliyor ve bunun bir kuğu için en uzun uçuş olduğu düşünülüyor. İnsanlardan çekinmedikleri için turist çeken bu kuşlar turistler tarafından beslenebiliyor. Ne yazık ki bu yolla turistler onlara zarar verebiliyorlar. Bu sosyal hayvanların bir diğer düşmanı da yine insan ırkından: avcılar.

3. Bu iki metnin ortak özelliğı aşağıdakilerden hangisidir?

- A) Eleştiri türünde olmaları
- B) Nesnel bir dille kaleme alınmaları
- C) Bir türün ortaya çıkışı ile ilgili bilgi vermeleri
- D) Bahsedilen canlı türlerine insanların zarar verdiğini dile getirmeleri

4. 1. metne göre fillerle ilgili asıl sorun aşağıdakilerden hangisidir?

- A) Evrime uğramaları
- B) Su bulamamaları
- C) Dişleri için avlanmaları
- D) Kendilerini savunamamaları

5. 2. metinde ötücü kuğularla ilgili aşağıdakilerden hangisine değnilmemiştir?

- A) Bir kuğu için en uzun uçuşu yapabildiklerine
- B) Uçuşlarını bir hayli yüksekte gerçekleştirebildiklerine
- C) Turistler tarafından beslenirken zarar görebiliyor olmalarına
- D) Avcıların av mevsimi dışında da ötücü kuğuları avladığına

6. Az miktarda doğan dişsiz filler, bu avlanmanın sonucunda hayatta kalıyor ve çoğalıyorlar.

1. metinden alınan bu cümlede aldığı ekle anlamı değişen kaç sözcük vardır?

- A) 4
- B) 5
- C) 6
- D) 7

7. Bir dilde sözcükler, ilk ortaya çıktığı zaman tek bir anlam ifade etmekteydi. Ancak zaman içinde sözcükler, bu anlamlarının dışında da farklı anlamlar ifade edecek şekilde yani birden fazla anlamı karşılayacak biçimde kullanılır olmuştur. Türkçe sözlüğü açıp baktığımızda bazı sözcüklerin karşısında numaralanmış anlamlar görürüz. İşte bu durum, sözcüklerin çok anlamlılık özelliğiyle bağlantılıdır. Çok anlamlı olan bir sözcüğün hangi anlamda kullanıldığı ise cümleye göre belirlenir. **Bu açıklamaya göre aşağıdaki cümlelerin hangisinde “almak” sözcüğünün anlamı, yanlış belirlenmiştir?**

- A) Uzun uğraşlar sonucu arayıp bulduğu işte yalnızca iki gün çalışmasına rağmen iyi para aldı. (Kazanmak, elde etmek)
 B) Çocuğun yemek yerken yere döktüğü kırıntıları, ıslak bir bez yardımıyla yerden aldı. (Temizlemek)
 C) Sencer Bey, başka bir şehre ataması çıktığı için oğlu Can'ı da okulundan almak zorunda kaldı. (Görevden çekmek)
 D) İyice kötüleşen hava şartları, sokak hayvanlarına zarar vermesin diye geceleri onları dükkânına alıyor. (İçeri girmesini sağlamak)

8.

Yalnız

Yani

Çünkü

Fakat

- I. Yemeği çok beğendi midesi ağrıdığı için fazla yiyemedi.
 II. Bir daha ona güvenmeyeceğim ona verdiğim sırlarımı saklamıyor.
 III. Biz gelmeden önce bütün hazırlıkları tamamlamış işler yolunda gidiyor.
 IV. O, olumsuz tavırları ve sivri diliyle tanındığı için genellikle kalır.

Numaralanmış cümlelerdeki boşluklara kutularda yer alan sözcüklerden uygun olanı getirilecektir.

Buna göre numaralanmış cümlelerden hangisini tamamlamak için kullanılan sözcük, geçiş ve bağlantı ifadesi değildir?

- A) I B) II C) III D) IV

9. Fazıl Hüsnü Dağlarca'nın şiirlerinde imza niteliği taşıyan önemli bir alışkanlığı vardır: Başlık, asla şiirde geçmez. Bu durumu şair “Başlık üç, şiir beş; şiirin değeri üç kere beşten on beş.” diye açıklar. **Buna göre, Fazıl Hüsnü Dağlarca için başlığın işlevi aşağıdakilerden hangisidir?**

- A) Şiirin anlamını katlamak B) Şiir ile uyumlu olmak
 C) Okuyucuda duygu uyandırmak D) Şiirden daha az anlam taşımak

10. Kitap sanatının püf noktasına değindiniz şimdi. Bir ressam olarak kitap resmine yaklaşımım da ressamca oldu; her resmimin tek başına sanat değeri taşımasına ve ait olduğu sayfaya, kitaba yeni bir boyut kazandırmasına çalıştım. Kimi kez sözle söyleyemediğimi resimde gösterdim.

Bu paragraf, aşağıdaki sorulardan hangisinin yanıtı olabilir?

- A) Kitaplarda resimlendirme önemli midir?
 B) Çocuklar resimli kitapları neden daha çok sever?
 C) Sizce hangi tür kitapların resimlendirilmesi gerekiyor?
 D) Kitaplarındaki resim – metin ilişkisini nasıl açıklarsınız?

11. Gerçek anlam, bir sözcüğün akla gelen ilk anlamı ve buna bağlı olarak kazandığı yan anlamları ifade eder. Mecaz anlam ise sözcüğün gerçek anlamının dışında, gerçek anlamıyla anlam bağlantısı bulunmayan anlamlarını ifade eder.

		Gerçek	Mecaz
I.	O olaydan sonra Arzu ile ilişkiye <u>mesafe</u> koydum.		✓
II.	Çarkın <u>dişleri</u> aşınca makineden duman çıkmış.	✓	
III.	Yorgunluğun <u>yüzünden</u> belli oluyor.	✓	
IV.	Televizyonun sesini <u>kısar</u> mısın, okuduğumu anlayamıyorum.		✓

Buna göre, numaralanmış cümlelerin hangisinde altı çizili sözcüğün anlam özelliği yanlış işaretlenmiştir?

- A) I B) II C) III D) IV

12. Aşağıdakilerin hangisinde “baş” sözcüğü “bir şeyin yakını ya da çevresi” anlamında kullanılmıştır?

- A) Piknik boyunca mangalın başından ayrıldı.
B) Köprünün iki başında nöbetçiler varmış.
C) Erken gelince sıranın başına geçebilmiş.
D) Dağın başındaki bir köyde yaşıyor.

13. Aşağıdaki cümlelerin hangisinde amaç-sonuç ilişkisi yoktur?

- A) Güneşten korunmak için bolca krem sürdü.
B) Gözleri bozulduğu için gözlük takmaya başlamış.
C) Evi geniş göstermek için duvarları açık renk boyadı.
D) Eğlenmek için eve arkadaşlarını davet etti.

14. Onun yarattığı boşluk kolay dolmayacak. Aşağıdaki cümlelerin hangisinde altı çizili sözcüğün kökü, tür bakımından bu cümledeki altı çizili sözcüğün köküyle özdeştir?

- A) Ne yüreksiz biriymiş!
B) Gözde, başarılı bir vuruş yaptı.
C) Yanan evler çok eskiydi.
D) Seninle daha fazla küskün kalmayalım.

15. Aşağıdakilerin hangisinde altı çizili sözcük diğerlerinden farklı türde bir ek almıştır?

- A) İstanbul'dan arkadaşım geldi.
B) En büyük hayali gerçekleşmiş.
C) Salgın hastalık kol geziyor.
D) Sonbaharla birlikte ağaçlar yapraklarını döküyor.

16.

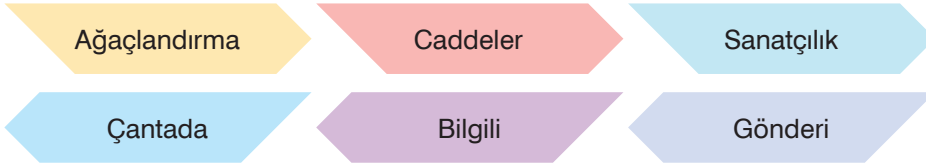
İsim kökü: 1

Fiil kökü: 2

Yapım eki: 3

Çekim eki: 4

Bir şifreleme sisteminde sözcükler, kök türlerine ve aldığı eklere göre şifrelenecektir. Örneğin “kırmızılık” sözcüğü “kırmızı” isim kökü (1) ve “-lık” yapım ekinden (3) oluştuğu için “13” olarak şifrelenecektir. Bu sistemde şu sözcüklerin şifrelendiği bilinmektedir:



Buna göre şifresi aynı olan sözcükler aşağıdakilerden hangisidir?

- A) Ağaçlandırma-Bilgili
C) Caddeler-Çantada

- B) Sanatçılık-Gönderi
D) Çantada-Gönderi

17. Çizgiyi aşmak farklı sonuçlar doğuracak.

I II III IV

Bu cümledeki numaralanmış sözcüklerden hangisinin kökü, sözcük türü bakımından diğerlerinden farklıdır?

- A) I B) II
C) III D) IV

18. Nereye gitsin nasıl etsin

Şaşırp kalmış ağaçcık
II

Hem üşümüş hem ağlamış
III

Her bir yerleri açık
IV

Bu dizelerdeki numaralanmış sözcüklerden hangisinin aldığı ek, sözcüğün anlamını değiştirmiştir?

- A) I B) II
C) III D) IV

19. Aşağıdaki cümlelerin hangisindeki altı çizili sözcüğün kökü, tür bakımından diğerlerinden farklıdır?

- A) Havasız bir ortamda çalışamazsınız.
B) Bu yıl satışlar oldukça iyi.
C) Küçük yaşına karşın bilgiç tavırları var.
D) Günün sonunda çok bitkin hâldeydi.

20. Aşağıdaki cümlelerin hangisinde “sitem” anlamı vardır?

- A) Bu işleri çok geç olmadan bitirmelisin.
B) Mahalleme kadar gelip de bana uğramadan mı gittin?
C) Yanımda bir arkadaşımı da getirebilir miyim?
D) Son filmini çok beğenmedim.

TÜRKÇE TESTİ BİTTİ.

1. Bu testte 10 soru vardır.
2. Cevaplarınızı, bu sayfanın altında sosyal bilgiler testi için ayrılan yere işaretleyiniz.

1. Aşağıdakilerden hangisi sosyal bilgiler dersinin içeriğini oluşturan bilim dallarından biri değildir?

- A) Coğrafya
B) Hukuk
C) Tarih
D) Matematik

2.



Birleşmiş Milletler tarafından kabul edilen “Çocuk Hakları Sözleşmesi” ülkemizde tarafından da imzalanmıştır.

Buna göre aşağıdakilerden hangisi söylenebilir?

- A) Ülkemizde çocukların korunmasına önem verildiği
B) Çocukların kendi haklarını koruyabildiği
C) Birleşmiş Milletler’in Türkiye tarafından oluşturulduğu
D) Çocukların her istediğini yapabildiği

3. Anayasanın 61. maddesine göre, “Devlet korunmaya muhtaç çocukların topluma kazandırılması için her türlü tedbiri alır. Bu amaçlarla gerekli teşkilat ve tesisleri kurar veya kurdurur.”

Bu madde doğrultusunda aşağıdaki kurumlardan hangisinin devlet tarafından kurulduğu söylenebilir?

- A) Kızılay
B) Umut Çocukları Derneği
C) Çocuk Hizmetleri Genel Müdürlüğü
D) Sosyal Güvenlik Kurumu

4. Aşağıdakilerden hangisi okulumuzdaki sorumluluklarımızdan biri değildir?




Dersi dikkatli dinlemek



Sofra hazırlanırken annemize yardım etmek



Okul araç gereçlerini dikkatli kullanmak



Sınıf ve okulu temiz tutmak

BlokTest

Öğrenci No

--	--	--	--

Cevaplarınızı Bu Bölüme İşaretleyiniz															
Soru	A	B	C	D	Soru	A	B	C	D						
1	<input type="radio"/>	<input type="radio"/>	<input type="radio"/>	<input type="radio"/>	14	<input type="radio"/>	<input type="radio"/>	<input type="radio"/>	<input type="radio"/>						
2	<input type="radio"/>	<input type="radio"/>	<input type="radio"/>	<input type="radio"/>	15	<input type="radio"/>	<input type="radio"/>	<input type="radio"/>	<input type="radio"/>						
3	<input type="radio"/>	<input type="radio"/>	<input type="radio"/>	<input type="radio"/>	16	<input type="radio"/>	<input type="radio"/>	<input type="radio"/>	<input type="radio"/>						
4	<input type="radio"/>	<input type="radio"/>	<input type="radio"/>	<input type="radio"/>	17	<input type="radio"/>	<input type="radio"/>	<input type="radio"/>	<input type="radio"/>						
5	<input type="radio"/>	<input type="radio"/>	<input type="radio"/>	<input type="radio"/>	18	<input type="radio"/>	<input type="radio"/>	<input type="radio"/>	<input type="radio"/>						
6	<input type="radio"/>	<input type="radio"/>	<input type="radio"/>	<input type="radio"/>	19	<input type="radio"/>	<input type="radio"/>	<input type="radio"/>	<input type="radio"/>						
7	<input type="radio"/>	<input type="radio"/>	<input type="radio"/>	<input type="radio"/>	20	<input type="radio"/>	<input type="radio"/>	<input type="radio"/>	<input type="radio"/>						
8	<input type="radio"/>	<input type="radio"/>	<input type="radio"/>	<input type="radio"/>	21	<input type="radio"/>	<input type="radio"/>	<input type="radio"/>	<input type="radio"/>						
9	<input type="radio"/>	<input type="radio"/>	<input type="radio"/>	<input type="radio"/>	22	<input type="radio"/>	<input type="radio"/>	<input type="radio"/>	<input type="radio"/>						
10	<input type="radio"/>	<input type="radio"/>	<input type="radio"/>	<input type="radio"/>	23	<input type="radio"/>	<input type="radio"/>	<input type="radio"/>	<input type="radio"/>						
11	<input type="radio"/>	<input type="radio"/>	<input type="radio"/>	<input type="radio"/>	24	<input type="radio"/>	<input type="radio"/>	<input type="radio"/>	<input type="radio"/>						
12	<input type="radio"/>	<input type="radio"/>	<input type="radio"/>	<input type="radio"/>	25	<input type="radio"/>	<input type="radio"/>	<input type="radio"/>	<input type="radio"/>						
13	<input type="radio"/>	<input type="radio"/>	<input type="radio"/>	<input type="radio"/>	26	<input type="radio"/>	<input type="radio"/>	<input type="radio"/>	<input type="radio"/>						

5. Aynı toprak üzerinde yaşayan ve aynı devlete vatandaşlık bağı ile bağlı olan kişilere vatandaş adı verilirken, haklarını ve sorumluluklarını bilen ve bunlara göre hareket eden kişilere etkin vatandaş denir.

Buna göre,

I.



Askerlik görevini yerine getirmek

II.



Ülke yönetimine katılmak

III.



Çevre korumasına önem vermemek

IV.



Üretime katkı sağlamak

görsellerinden hangileri etkin vatandaşın yapması gerekenlere örnek oluşturmaz?

A) I

B) II

C) III

D) IV

- 6.

İçinde bulunduğumuz duruma göre sergilediğimiz davranışlara rol denir.

Doğru ↓

↓ Yanlış

Rollerimizi yerine getirirken birtakım kararlar almamız gerekir.

Kararlarımızın sonuçlarını kabul etmek içinde bulunduğumuz role göre değişebilir.

Doğru

Yanlış

I

II

Doğru

Yanlış

III

IV

Şema doğru yanıtlanarak ilerlendiğinde aşağıdakilerden hangisine ulaşılabilir?

A) I

B) II

C) III

D) IV

7. Yaşadığımız köyün yakınında bir fabrika kuruldu. Köyümüzden çok sayıda kişi buraya işçi olarak girdi. İnsanlar daha çok para kazanmaya başladı. Ancak bu fabrikanın bacalarında filtre kullanılmıyor ve sabahları köyün üstü toz bulutuyla kaplanıyor.

Verilen bilgiye göre aşağıdaki değerlendirmelerden hangisi yapılabilir?

- A) Fabrikanın kurulmasıyla bölgedeki insanların sağlığı tehlikeye girmiştir.
 B) Köylüler toprağı ekip biçmekten tamamen vazgeçmiştir.
 C) Ekonomik gelişmenin sağlanması için mutlaka fabrikalarda çalışılmalıdır.
 D) Fabrikalar köylerin yanına kurulmalıdır.

8.

I.



Başkalarının haklarına saygılı olmak

II.



Dersleri dikkatlice dinlemek

III.



Anne ve babamıza yardımcı olmak

Bu sorumlulukların ait olduğu gruplar aşağıdakilerin hangisinde doğru olarak verilmiştir?

	I	II	III
A)	Sınıf	Arkadaş	Akraba
B)	Toplum	Okul	Sınıf
C)	Okul	Aile	Arkadaş
D)	Toplum	Okul	Aile

9. • Ayşe, gittiği alışveriş merkezinde sigara yasağına uymayan birini uyarmıştır.
• Zeynep Hanım, Haydi Kızlar Okula Kampanyası için yardımda bulunmuştur.
• Ali, bozulan bilgisayarını garanti belgesiyle aldığı yere götürmüştür.

Aşağıdaki haklardan hangisi verilen sorumluluklarla eşleştiremez?

- A) Tüketici hakkı
B) Sağlık hakkı
C) Seçme ve seçilme hakkı
D) Eğitim hakkı

10.



Zeynep Hanım, bir hastanede doktor olarak çalışmakta, çalışmadığı zamanlarda torunlarıyla vakit geçirmektedir.

Buna göre Zeynep Hanım'ın mesleki eğitim sonucunda yerine getirdiği rolü aşağıdakilerden hangisidir?

- A) Arkadaşlarıyla vakit geçirmesi
B) Hastalarını tedavi etmesi
C) Hastalarını ziyaret etmesi
D) Torunlarıyla ilgilenmesi

SOSYAL BİLGİLER TESTİ BİTTİ.

1. Bu testte 5 soru vardır.
2. Cevaplarınızı, bu sayfanın altında din kültürü ve ahlak bilgisi testi için ayrılan yere işaretleyiniz.

1. “Eğer yerde ve gökte Allah’tan başka ilahlar olsaydı kesinlikle ikisinin de düzeni bozulurdu.”

(Enbiyâ suresi, 22. ayet.)

Verilen ayet aşağıdakilerden hangisiyle aynı doğrultudadır?

- A) Allah yaradandır.
 - B) Allah vardır ve birdir.
 - C) Allah rahman ve rahimdir.
 - D) Allah görür ve işitir.
2.
 - Allah’ın (c.c.) güzel isimlerindedir.
 - Allah’ın (c.c.) her şeye gücünün yetmesi anlamına gelir.

Verilen açıklamalar Allah’ın aşağıdaki isimlerinden hangisine aittir?

- A) er-Rahman
 - B) es-Semî
 - C) el-Kâdir
 - D) el-Kerîm
3. 2. Kul huvallâhu ehad.
 1. Allâhu’s Samed.
 4. Lem yelid ve lem yûled.
 3. Ve lem yekun lehû küfüven ehad.

İhlas suresinin doğru sıralaması aşağıdakilerin hangisinde yer alır?

 - A) 2-1-4-3
 - B) 1-2-3-4
 - C) 3-2-1-4
 - D) 4-3-2-1


4. “El açıp yalvarmaya lâyık olan ancak O’dur.”
(Ra’d suresi, 14. ayet.)

Verilen ayette vurgulanan ifadeyle aşağıdakilerin hangisi aynı doğrultudadır?

- A) “Rabbimiz! Bize dünyada da iyilik ver, ahirette de iyilik ver ve bizi ateş azabından koru.”
(Bakara suresi, 201. ayet.)
- B) “Rabbim! Gönlüme ferahlık ver. İşimi bana kolaylaştır.”
(Tâhâ suresi, 25-26. ayetler.)
- C) “Bir şeyi dilediği zaman O’nun emri, o şeye ancak ‘Ol!’ demektir. O da hemen oluverir.”
(Yâsîn suresi, 82. ayet.)
- D) “Yalnız sana ibadet eder ve yalnız senden yardım dileriz.”
(Fâtiha suresi, 5. ayet.)

5. **Aşağıdakilerden hangisi okula giderken edilen dualardan biridir?**

- A) Allah zihin açıklığı versin!
- B) Allah şifa versin!
- C) Allah mesut etsin!
- D) Allah rahmet eylesin!



BlokTest

Öğrenci No

--	--	--	--

Cevaplarınızı Bu Bölüme İşaretleyiniz

Soru	A	B	C	D	Soru	A	B	C	D
1	<input type="radio"/>	<input type="radio"/>	<input type="radio"/>	<input type="radio"/>	14	<input type="radio"/>	<input type="radio"/>	<input type="radio"/>	<input type="radio"/>
2	<input type="radio"/>	<input type="radio"/>	<input type="radio"/>	<input type="radio"/>	15	<input type="radio"/>	<input type="radio"/>	<input type="radio"/>	<input type="radio"/>
3	<input type="radio"/>	<input type="radio"/>	<input type="radio"/>	<input type="radio"/>	16	<input type="radio"/>	<input type="radio"/>	<input type="radio"/>	<input type="radio"/>
4	<input type="radio"/>	<input type="radio"/>	<input type="radio"/>	<input type="radio"/>	17	<input type="radio"/>	<input type="radio"/>	<input type="radio"/>	<input type="radio"/>
5	<input type="radio"/>	<input type="radio"/>	<input type="radio"/>	<input type="radio"/>	18	<input type="radio"/>	<input type="radio"/>	<input type="radio"/>	<input type="radio"/>
6	<input type="radio"/>	<input type="radio"/>	<input type="radio"/>	<input type="radio"/>	19	<input type="radio"/>	<input type="radio"/>	<input type="radio"/>	<input type="radio"/>
7	<input type="radio"/>	<input type="radio"/>	<input type="radio"/>	<input type="radio"/>	20	<input type="radio"/>	<input type="radio"/>	<input type="radio"/>	<input type="radio"/>
8	<input type="radio"/>	<input type="radio"/>	<input type="radio"/>	<input type="radio"/>	21	<input type="radio"/>	<input type="radio"/>	<input type="radio"/>	<input type="radio"/>
9	<input type="radio"/>	<input type="radio"/>	<input type="radio"/>	<input type="radio"/>	22	<input type="radio"/>	<input type="radio"/>	<input type="radio"/>	<input type="radio"/>
10	<input type="radio"/>	<input type="radio"/>	<input type="radio"/>	<input type="radio"/>	23	<input type="radio"/>	<input type="radio"/>	<input type="radio"/>	<input type="radio"/>
11	<input type="radio"/>	<input type="radio"/>	<input type="radio"/>	<input type="radio"/>	24	<input type="radio"/>	<input type="radio"/>	<input type="radio"/>	<input type="radio"/>
12	<input type="radio"/>	<input type="radio"/>	<input type="radio"/>	<input type="radio"/>	25	<input type="radio"/>	<input type="radio"/>	<input type="radio"/>	<input type="radio"/>
13	<input type="radio"/>	<input type="radio"/>	<input type="radio"/>	<input type="radio"/>	26	<input type="radio"/>	<input type="radio"/>	<input type="radio"/>	<input type="radio"/>

DİN KÜLTÜRÜ VE AHLAK BİLGİSİ TESTİ BİTTİ.

1. Bu testte 5 soru vardır.
2. Cevaplarınızı, bu sayfanın altında İngilizce testi için ayrılan yere işaretleyiniz.

1. It's an airport.

Which picture below describes the given sentence?

(Cümleye uygun resim hangisidir?)



2.



mosque

cinema


bakery

Where's the cinema?

Which one below answers the question?

(Yukarıda verilen bilgilere göre soruya uygun yanıt hangisidir?)

- A) It's between the mosque and the bakery.
- B) It's opposite the mosque.
- C) It's in front of the bakery.
- D) It's under the bakery.



BlokTest

Öğrenci No

--

Cevaplarınızı Bu Bölüme İşaretleyiniz									
Soru	A	B	C	D	Soru	A	B	C	D
1	<input type="radio"/>	<input type="radio"/>	<input type="radio"/>	<input type="radio"/>	14	<input type="radio"/>	<input type="radio"/>	<input type="radio"/>	<input type="radio"/>
2	<input type="radio"/>	<input type="radio"/>	<input type="radio"/>	<input type="radio"/>	15	<input type="radio"/>	<input type="radio"/>	<input type="radio"/>	<input type="radio"/>
3	<input type="radio"/>	<input type="radio"/>	<input type="radio"/>	<input type="radio"/>	16	<input type="radio"/>	<input type="radio"/>	<input type="radio"/>	<input type="radio"/>
4	<input type="radio"/>	<input type="radio"/>	<input type="radio"/>	<input type="radio"/>	17	<input type="radio"/>	<input type="radio"/>	<input type="radio"/>	<input type="radio"/>
5	<input type="radio"/>	<input type="radio"/>	<input type="radio"/>	<input type="radio"/>	18	<input type="radio"/>	<input type="radio"/>	<input type="radio"/>	<input type="radio"/>
6	<input type="radio"/>	<input type="radio"/>	<input type="radio"/>	<input type="radio"/>	19	<input type="radio"/>	<input type="radio"/>	<input type="radio"/>	<input type="radio"/>
7	<input type="radio"/>	<input type="radio"/>	<input type="radio"/>	<input type="radio"/>	20	<input type="radio"/>	<input type="radio"/>	<input type="radio"/>	<input type="radio"/>
8	<input type="radio"/>	<input type="radio"/>	<input type="radio"/>	<input type="radio"/>	21	<input type="radio"/>	<input type="radio"/>	<input type="radio"/>	<input type="radio"/>
9	<input type="radio"/>	<input type="radio"/>	<input type="radio"/>	<input type="radio"/>	22	<input type="radio"/>	<input type="radio"/>	<input type="radio"/>	<input type="radio"/>
10	<input type="radio"/>	<input type="radio"/>	<input type="radio"/>	<input type="radio"/>	23	<input type="radio"/>	<input type="radio"/>	<input type="radio"/>	<input type="radio"/>
11	<input type="radio"/>	<input type="radio"/>	<input type="radio"/>	<input type="radio"/>	24	<input type="radio"/>	<input type="radio"/>	<input type="radio"/>	<input type="radio"/>
12	<input type="radio"/>	<input type="radio"/>	<input type="radio"/>	<input type="radio"/>	25	<input type="radio"/>	<input type="radio"/>	<input type="radio"/>	<input type="radio"/>
13	<input type="radio"/>	<input type="radio"/>	<input type="radio"/>	<input type="radio"/>	26	<input type="radio"/>	<input type="radio"/>	<input type="radio"/>	<input type="radio"/>

(Answer questions 3-5 according to the dialogue between Kylie and Marilyn.)
(3-5. soruları Kylie ve Marilyn arasındaki diyaloga göre cevaplayın.)

- Kylie** : Hi. My name is Kylie. What's your name?
Marilyn : Hello. I am Marilyn. Glad to meet you.
Kylie : Glad to meet you, too. _____ ?
Marilyn : I study at Central Secondary School.
Kylie : Do you like your school?
Marilyn : Yes, I do.
Kylie : _____ ?
Marilyn : I like maths and science. And you?
Kylie : History is my favourite class.
 _____ ?
Marilyn : Because I like doing experiments.
 _____ ?
Kylie : Because I like learning about the past.



3. Which question does not Kylie ask Marilyn?

(Kylie Marilyn'e aşağıdaki sorulardan hangisini sormamaktadır?)

- A) Where do you study?
- B) What are your favourite lessons?
- C) Why do you like maths?
- D) Why do you like science?

4. Which question does Marilyn ask Kylie?

(Marilyn Kylie'ye aşağıdaki sorulardan hangisini sorar?)

- A) Why do you like history?
- B) Why do you study at Central Secondary School?
- C) What's your favourite lesson?
- D) Where do you live?

5. Which one below is incorrect?

(Aşağıdakilerden hangisi yanlıştır?)

- A) Marilyn likes history.
- B) Kylie likes history.
- C) Marilyn goes to Central Secondary School.
- D) Kylie likes learning about the past.

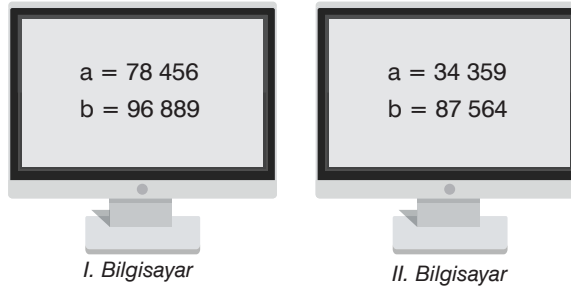
İNGİLİZCE TESTİ BİTTİ.

1. Bu testte 20 soru vardır.
2. Cevaplarınızı, bu sayfanın altında matematik testi için ayrılan yere işaretleyiniz.

1. Aşağıda klavyeden a ve b sayıları girildikten sonra bir bilgisayar programının işlemler zinciri verilmiştir.

1. **Adım:** Girilen a ve b sayılarını oku.
2. **Adım:** a ve b sayılarının binler bölüğündeki rakamların sayı değerleri toplamı eşitse 3. adımdan devam et, değilse 4. adıma git.
3. **Adım:** a ve b sayılarını topla, elde edilen toplamın rakamlarının sayı değerleri toplamını bul, 5. adıma git.
4. **Adım:** a ve b sayılarını topla, elde edilen toplamın rakamlarının basamak değerleri toplamını bul, 5. adıma git.
5. **Adım:** Sonucu ekrana yazdır.

Aşağıda iki farklı bilgisayarda bu programa girilen a ve b sayıları gösterilmiştir.



Buna göre program çalıştırdıktan sonra bilgisayarların ekranlarında yazan değerler aşağıdakilerden hangisidir?

	I. Bilgisayar	II. Bilgisayar
A)	175 345	121 923
B)	175 345	18
C)	25	121 923
D)	25	18

2. **Tablo:** Toptancıda Satılan Aynı Ürünlerin Fiyatları

Ürünler	Toptancılar	A	B
Ütü Masası		125 TL	115 TL
Çamaşır Kurutma Askısı		155 TL	185 TL

Tabloda iki toptancıda satılan aynı ürünlerin fiyatları gösterilmiştir.

Bu toptancılarda tabloda fiyatları verilen ütü masasından 120 tane ve çamaşır kurutma askısından 70 tane alan biri en az kaç lira ödeme yapar?

- A) 24 650 B) 25 850 C) 27 950 D) 36 750

BlokTest

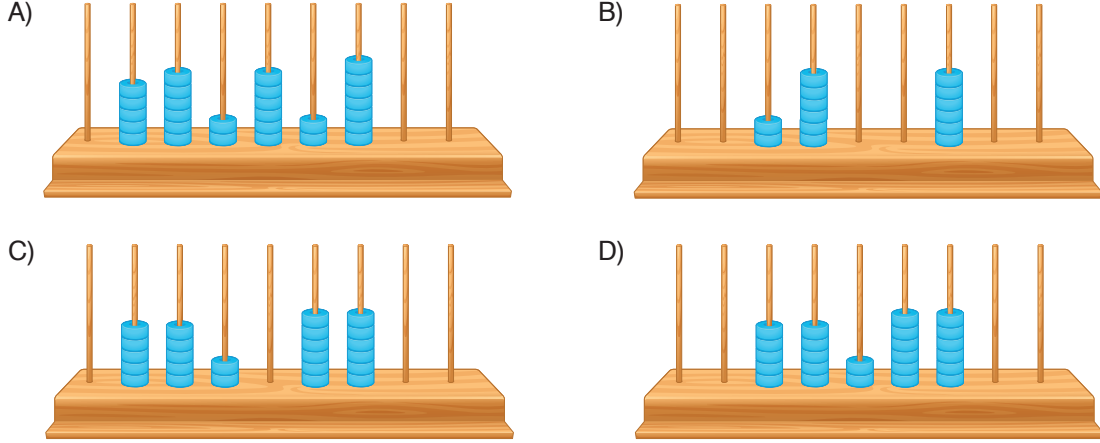
Öğrenci No

Soru	A	B	C	D	Soru	A	B	C	D
1					14				
2					15				
3					16				
4					17				
5					18				
6					19				
7					20				
8					21				
9					22				
10					23				
11					24				
12					25				
13					26				

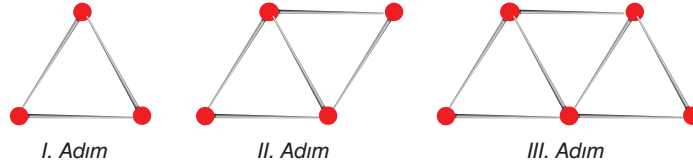
3. Aşağıda yayımlanan bir gazetede haberin bir bölümü verilmiştir.

“2016 yılındaki sinema seyirci sayısı, 2015 yılına göre azalarak elli beş milyon iki yüz altmış bin altı yüz kişi oldu.”

Buna göre 2015 yılındaki sinema seyirci sayısının abaküste gösterimi aşağıdakilerden hangisi olabilir?



4. Bir toplu iğne kutusunun içerisinde 150 adet toplu iğne bulunmaktadır. Eray, bu toplu iğneleri kullanarak bir şekil örüntüsünün ilk üç adımını aşağıdaki gibi oluşturmuştur.



Eray, oluşturabileceği en fazla sayıda örüntü adımını oluşturmuş ve elinde bir miktar toplu iğne kalmıştır.

Buna göre, Eray bu örüntünün bir sonraki adımını oluşturmak isterse kaç tane daha toplu iğneye ihtiyacı olur?

- A) 7 B) 8 C) 17 D) 18
5. Aşağıdaki tabloda Seda'nın üç günde attığı adım sayısı verilmiştir

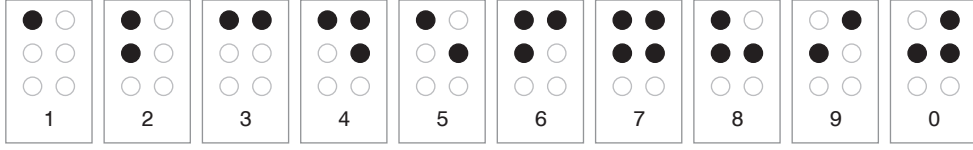
Tablo: Günlere Göre Attığı Adım Sayısı

Günler	Pazartesi	Salı	Çarşamba
Attığı Adım Sayısı	12 480	17 615	10 854

Buna göre Seda'nın üç günde attığı adım sayısının toplamı kaçtır ?

- A) 39 949 B) 40 849 C) 40 949 D) 40 959

6. Görme engellilerin okuyup yazmaları için geliştirilmiş Braille yazı sisteminde, rakamlar aşağıdaki gibi tanımlanmıştır.



Engin, bu rakamları kullanarak toplam 15 siyah nokta olacak şekilde rakamları farklı 7 basamaklı en büyük doğal sayıyı oluşturmuştur.

Buna göre Engin'in oluşturduğu sayının okunuşu aşağıdakilerden hangisidir?

- A) Dokuz milyon sekiz yüz yetmiş beş bin dört yüz on
 B) Dokuz milyon sekiz yüz altmış beş bin üç yüz yirmi bir
 C) Dokuz milyon sekiz yüz elli dört bin üç yüz yirmi bir
 D) Dokuz milyon yedi yüz altmış beş bin dört yüz yirmi bir

7. Bir yayınevi bir matematik kitabından, 1. basımda 14 500 adet; 2. basımda 1. basım adetinden 1500 adet fazla, 3. basımda ilk iki basım adedinin farkı kadar sayıda bastırmıştır.

Bu kitaptan ilk üç basımda toplam kaç adet basılmıştır?

- A) 34 000 B) 32 500
 C) 32 000 D) 30 500

8.

$$128 \times 141$$

Verilen çarpma işleminin sonucunun yüzler basamağındaki rakam kaçtır?

- A) 0 B) 1 C) 4 D) 8

9.

$$58 - 10 = 48$$

$$48 - 10 = 38$$

$$38 - 10 = 28$$

$$28 - 9 = 19$$

Zihinden yapılışının işlem basamakları verilen çıkarma işlemi aşağıdakilerden hangisidir?

- A) 58 - 19 B) 58 - 29
 C) 58 - 39 D) 48 - 19

10. $896 \div 27$ işlemi sayılar en yakın onluğa yuvarlanarak yapılırsa elde edilen tahmini sonuç kaç olur?

- A) 27 B) 28 C) 29 D) 30

11. Bir internet sitesinde satılan dört oyuncak ayının fiyatları aşağıda gösterilmiştir.



I. Oyuncak Ayı



II. Oyuncak Ayı



III. Oyuncak Ayı



IV. Oyuncak Ayı

Aşağıdaki tabloda bir ayın sonunda bu oyuncak ayıların satışından elde edilen toplam para miktarı verilmiştir.

Tablo: Oyuncak Ayıların Satışından Elde Edilen Toplam Para Miktarı

Oyuncak Ayılar	Para Miktarı (TL)
I	2720
II	3420
III	2310
IV	2886

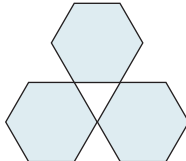
Buna göre bir ayda hangi oyuncak ayıdan daha az sayıda satılmıştır?

- A) I B) II C) III D) IV

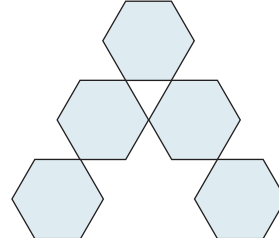
12. Aşağıda altıgenlerle oluşturulan bir şekil örüntüsünün ilk üç adımı verilmiştir.



I. Adım



II. Adım

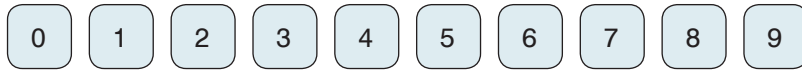


III. Adım

Buna göre bu örüntünün 8. adımında kaç tane altıgen bulunur?

- A) 15 B) 16 C) 17 D) 18

13. Akın ve Beril on tane kartın bir yüzüne rakamları aşağıdaki gibi yazmıştır.



Akın, bu kartların beş tanesini seçip yan yana dizerek binler basamağı 2, onlar basamağı 4 olan en büyük beş basamaklı sayıyı oluşturmuştur.

Beril, kalan kartları yan yana dizerek oluşturulabilecek en küçük beş basamaklı sayıyı oluşturmuştur.

Buna göre Akın ve Beril'in oluşturdukları sayıların toplamı kaçtır?

- A) 40 203 B) 103 203 C) 103 221 D) 106 407

5. SINIF Tüm Dersler

8 Adet 80 Soruluk Deneme Sınavı

Beceri Temelli Yeni Nesil Sorularla



TÜM DERSLER KILAVUZ DENEME SINAVLARI VE İÇERDİĞİ ÜNİTELER

Ders Adı	Deneme 1	Deneme 2	Deneme 3	Deneme 4	Deneme 5	Deneme 6	Deneme 7	Deneme 8
Türkçe	1-2-3 4-5-6	1-2-3-4 5-6-8	1-2-3-4 5-6-8-9	1-2-3-4 5-6-8-9	1-2-3-4-5 6-7-8-9	1-2-3-4 5-6-7 8-9-10	1-2-3-4 5-6-7 8-9-10	1-2-3-4 5-6-7 8-9-10
Sosyal Bilgiler	1	1-2	1-2-3	1-2-3-4	1-2-3-4	1-2-3 4-5	1-2-3 4-5-6-7	1-2-3 4-5-6-7
Din Kültürü ve Ahlak Bilgisi	1	1-2	1-2-3	1-2-3	1-2-3-4	1-2-3-4	1-2-3 4-5	1-2-3 4-5
İngilizce	1-2	1-2-3	3-4-5	1-2-3-4	1-4-5	1-4-5-7	3-4-5 8-9	4-9-10
Matematik	1	1-2	1-2	1-2-3	1-2-3-4	1-2-3 4-5-6	1-2-3 4-5-6	1-2-3 4-5-6
Fen Bilimleri	1	1-2	1-2-3	1-2-3-4	1-2-3 4-5	1-2-3 4-5-6	1-2-3 4-5-6-7	1-2-3 4-5-6-7

DERSLERDEKİ ÜNİTE VE KONU NUMARALARININ KAPSAMLARI

Türkçe	1. Sözcükte ve Sözcük Gruplarında Anlam	6. Okuduğunu Anlama ve Yorumlama
	2. Söz Sanatları	7. Ses Bilgisi
	3. Kökler ve Ekler	8. Yazım Kuralları
	4. Deyim-Atasözü-Özdeyiş	9. Noktalama İşaretleri
	5. Cümlede Anlam	10. Metin Türleri
Sosyal Bilgiler	1. Birey ve Toplum	5. Üretim, Dağıtım ve Tüketim
	2. Kültür ve Miras	6. Etkin Vatandaşlık
	3. İnsanlar, Yerler ve Çevreler	7. Küresel Bağlantılar
	4. Bilim, Teknoloji ve Toplum	
Din Kültürü ve Ahlak Bilgisi	1. Allah İnancı	4. Hz. Muhammed ve Aile Hayatı
	2. Ramazan ve Oruç	5. Çevremizde Dinin İzleri
	3. Adap ve Nezaket	
İngilizce	1. Hello!	6. Movies
	2. My Town	7. Party Time
	3. Games and Hobbies	8. Fitness
	4. My Daily Routine	9. The Animal Shelter
	5. Health	10. Festivals
Matematik	1. Doğal Sayılar – Doğal Sayılarla İşlemler	4. Temel Geometrik Kavramlar ve Çizimler – Üçgen ve Dörtgenler
	2. Kesirler – Kesirlerle İşlemler	5. Veri Toplama ve Değerlendirme – Uzunluk ve Zaman Ölçme
	3. Ondalık Gösterim – Yüzdeler	6. Alan Ölçme – Geometrik Cisimler
Fen Bilimleri	1. Güneş, Dünya ve Ay	5. Işığın Yayılması
	2. Canlılar Dünyası	6. İnsan ve Çevre
	3. Kuvvetin Ölçülmesi ve Sürtünme	7. Elektrik Devre Elemanları
	4. Madde ve Değişim	