

1. Sınıf Öğrenci Kitabı

16 Hafta - 80 Ev Çalışması

HER
ÖĞRENCİYE
AKAS
HEDİYE

EVDE

30

DAKİKA

Türkçe

Matematik

Hayat Bilgisi

A Doğru mu Yanlış mı? / 10 PUAN

- D** **Y**
- Alfabemizde 28 harf vardır.
 - Sesli harflerin sayısı sekizdir.
 - Yirmi bir tane sessiz harf vardır.
 - Türkçe'de "ğ" harfi ile başlayan sözcük vardır.
 - "K" harfinden sonra "m" harfi gelir.

B Eksikleri Yazmaca / 10 PUAN

A - a - B - b - C - c - -
D - d - -
G - g - - H - h -
..... - J - j -
K - k - -
..... - O - o - -
..... - R - r -
- Ş - ş - -
- Ü - ü - - Y - y
-

C İsim, Şehir, Hayvan / 30 PUAN

Aşağıdaki harfler ile başlayan sözcükler bularak tabloyu doldurun.

Harfler	İnsan ismi	Şehir	Hayvan	Bitki	Eşya	Puan
E						
K						
İ						
M						
Z						

D Alıştırma: Alfabetik Sıralama / 50 PUAN

Aşağıdaki sözcükleri alfabetik sıraya dizin.

silgi - cetvel - kalem

kedi - deve - ayı

bahar - yaz - kış

sarı - mavi - yeşil

çizme - terlik - bot

kazak - atlet - gömlek

perde - halı - koltuk

uçak - gemi - araba

leylek - ceylan - baykuş

üzüm - vişne - incir



TOPLAM: / 100 PUAN

Öğretmenin İmzası

Velinin İmzası

A Bul Bakalım / 10 PUAN

Aşağıda, bazı sözcüklerin harfleri karışık olarak verilmiştir. Bu sözcükleri bularak boşluklara yazın.

1. SANAL →
2. ITĞKA →
3. IFRNI →
4. EMKKE →
5. VAPİL →

B Eksik Harf Ne? / 10 PUAN

Aşağıdaki sözcüklerde bazı harfler eksiktir. Bu harfleri bulun ve yazın.

- | | |
|------------|----------|
| ya.....mur | a.....aç |
| çif.....çi | da..... |
| yan.....ış | ya..... |
| ya.....nız | ba..... |
| pa.....ate | sa..... |

C Karışan Heceler / 30 PUAN

Aşağıda heceleri karışık olarak verilen sözcükleri bularak boşluklara yazın.

1. li na da man →
2. ğan pa pa →
3. di ye he →
4. do la buz bı →
5. al be fa →
6. lık kar şı →

D Etkinlik: Adını Yaz, Hecelerine Ayır / 50 PUAN

Aşağıdaki görsellerin adlarını yazın. Daha sonra hecelerine ayırın ve hece sayısını yazın.

	Adı	Heceleri	Hece Sayısı
			
			
			
			
			
			

TOPLAM: / 100 PUAN

Öğretmenin İmzası

Velinin İmzası

A Doğru mu Yanlış mı? / 8 PUAN

- | | D | Y |
|--|--------------------------|--------------------------|
| 1. Satır sonuna sığmayan sözcükleri ayırmak için nokta kullanılır. | <input type="checkbox"/> | <input type="checkbox"/> |
| 2. Yanıt bekleyen cümlelerin sonuna soru işareti gelir. | <input type="checkbox"/> | <input type="checkbox"/> |
| 3. Özel isimlere gelen ekler nokta ile ayrılır. | <input type="checkbox"/> | <input type="checkbox"/> |
| 4. Eş görevli sözcüklerin aralarına virgül konur. | <input type="checkbox"/> | <input type="checkbox"/> |

B İşaretler Nerede? / 10 PUAN

Aşağıdaki cümlelerde () ile belirtilen yerlere uygun noktalama işaretlerini getirin.

- Kardeşim erik() elma() armut yedi mi()
- Eyvah() yemek yandı()
- Dün akşam uzun uzun ki() tap okudum()
- Yağız()ın evi nerede()
- Aslı kaç yaşındasın()

C Doğrusunu Yazalım / 32 PUAN

Cümlelerdeki yazım yanlışlarını bulun ve belirtilen boşluğa cümlelerin doğrusunu yazın.

- bugün sinemaya gideceğiz.

.....

- Ablam, 23 nisan için şiir ezberledi.

.....

- Manafdan, patatez ile sovan aldın mı?

.....

- Yavru köpeğimizin adı köpüş.

.....



D Alıştırma: Karışık Sözcükten Cümleye / 50 PUAN

Aşağıda karışık olarak verilen sözcüklerden anlamlı ve kurallı cümleler kurun, yazın.

1 sabah - Zeynep - her - sulardı - çiçekleri

2 dün - yolda - akşam - onu - gördüm


3 mi - Ankara'ya - Efe - trenle - gitti

4 topu - hızlı - fırlattı - çok - Kemal

5 Yalın - eder - herkese - yardım

6 nerede - Özlem - okuyor - kitap

7 benim - yaptı - çorba - için - annem



TOPLAM: / 100 PUAN

Öğretmenin İmzası

Velinin İmzası

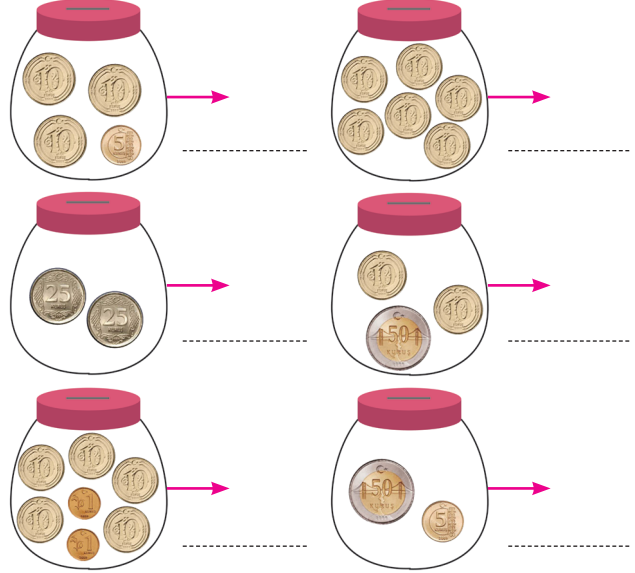
MATEMATİK Paralarımız

A Doğru mu Yanlış mı? / 10 PUAN

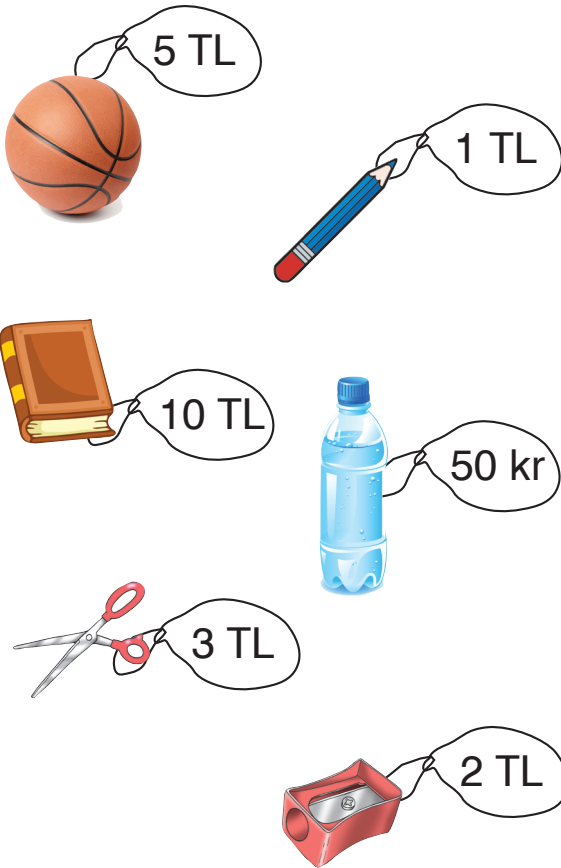
- | | D | Y |
|---------------------------------------|--------------------------|--------------------------|
| 1. Kuruş kısaca "kur" olarak yazılır. | <input type="checkbox"/> | <input type="checkbox"/> |
| 2. En küçük madenî para 1 kuruştur. | <input type="checkbox"/> | <input type="checkbox"/> |
| 3. En büyük kâğıt para 200 liradır. | <input type="checkbox"/> | <input type="checkbox"/> |
| 4. 10 lira madenî para-
dır. | <input type="checkbox"/> | <input type="checkbox"/> |
| 5. 5 lirada 6 tane 1 lira
vardır. | <input type="checkbox"/> | <input type="checkbox"/> |

B Hesaplayalım / 10 PUAN

Kavanozlardaki paraları he-
saplayıp yazın.



C Alış Veriş Yapalım / 30 PUAN



- Kitap, kalem ve top kaç liradır?
.....
- İki şişe su kaç lira eder?
.....
- 5 liram var. Makas alırsam kaç liram kalır?
.....
- Kalem ve kalemıraş kaç liradır?
.....

A

Çizelim Yazalım

..... / 50 PUAN

Modellenmiş toplama işlemlerini inceleyin. Örnekteki gibi boş kutulara kareler çizerek işlemleri tamamlayın.

$$\begin{array}{|c|} \hline \square \square \\ \hline \square \square \\ \hline \end{array} + \begin{array}{|c|} \hline \square \square \\ \hline \end{array} = \begin{array}{|c|} \hline \square \square \square \\ \hline \square \square \square \\ \hline \end{array}$$

$$\begin{array}{|c|} \hline \square \square \square \\ \hline \square \square \\ \hline \end{array} + \begin{array}{|c|} \hline \square \square \square \\ \hline \square \square \square \\ \hline \end{array} = \begin{array}{|c|} \hline \square \square \square \\ \hline \square \square \square \\ \hline \square \square \square \\ \hline \end{array}$$

$$\begin{array}{|c|} \hline \square \square \square \\ \hline \end{array} + \begin{array}{|c|} \hline \square \square \square \\ \hline \square \square \square \\ \hline \end{array} = \begin{array}{|c|} \hline \square \square \square \\ \hline \square \square \square \\ \hline \square \square \square \\ \hline \end{array}$$

$$\begin{array}{|c|} \hline \square \square \\ \hline \square \square \\ \hline \end{array} + \begin{array}{|c|} \hline \square \square \square \\ \hline \square \square \square \\ \hline \square \square \square \\ \hline \end{array} = \begin{array}{|c|} \hline \square \square \square \\ \hline \square \square \square \\ \hline \square \square \square \\ \hline \square \square \square \\ \hline \end{array}$$

$$\begin{array}{|c|} \hline \square \square \square \\ \hline \square \square \square \\ \hline \end{array} + \begin{array}{|c|} \hline \square \square \square \\ \hline \square \square \square \\ \hline \square \square \square \\ \hline \end{array} = \begin{array}{|c|} \hline \square \square \square \\ \hline \square \square \square \\ \hline \square \square \square \\ \hline \square \square \square \\ \hline \end{array}$$

$$\begin{array}{|c|} \hline \square \\ \hline \end{array} + \begin{array}{|c|} \hline \square \square \square \\ \hline \square \square \square \\ \hline \end{array} = \begin{array}{|c|} \hline \square \square \square \\ \hline \square \square \square \\ \hline \end{array}$$

Verilmeyen toplananı bulun.

$$\begin{array}{r} 7 \\ + \square \\ \hline 10 \end{array}$$

$$\begin{array}{r} 1 \\ + \square \\ \hline 8 \end{array}$$

$$\begin{array}{r} 9 \\ + \square \\ \hline 14 \end{array}$$

$$\begin{array}{r} 6 \\ + \square \\ \hline 19 \end{array}$$

$$\begin{array}{r} 8 \\ + \square \\ \hline 12 \end{array}$$

$$\begin{array}{r} 6 \\ + \square \\ \hline 11 \end{array}$$

$$\begin{array}{r} 4 \\ + \square \\ \hline 17 \end{array}$$

$$\begin{array}{r} 5 \\ + \square \\ \hline 15 \end{array}$$

$$\begin{array}{r} 3 \\ + \square \\ \hline 12 \end{array}$$

$$\begin{array}{r} 9 \\ + \square \\ \hline 16 \end{array}$$

$$\begin{array}{r} 7 \\ + \square \\ \hline 20 \end{array}$$

$$\begin{array}{r} 6 \\ + \square \\ \hline 10 \end{array}$$

$$\begin{array}{r} 4 \\ + \square \\ \hline 15 \end{array}$$

$$\begin{array}{r} 9 \\ + \square \\ \hline 17 \end{array}$$

$$\begin{array}{r} 12 \\ + \square \\ \hline 16 \end{array}$$

$$\begin{array}{r} 15 \\ + \square \\ \hline 19 \end{array}$$

$$\begin{array}{r} 18 \\ + \square \\ \hline 18 \end{array}$$

$$\begin{array}{r} 14 \\ + \square \\ \hline 18 \end{array}$$

$$\begin{array}{r} 11 \\ + \square \\ \hline 16 \end{array}$$

$$\begin{array}{r} 13 \\ + \square \\ \hline 15 \end{array}$$

B Alıştırma: Çizelim Yazalım / 50 PUAN

Modellenmiş toplama işlemlerini inceleyin. Örnekteki gibi boş kutulara yuvarlaklar çizerek işlemleri tamamlayın.

$$\begin{array}{|c|} \hline \text{○○○} \\ \hline \end{array} + \begin{array}{|c|} \hline \text{○○○} \\ \hline \end{array} = \begin{array}{|c|} \hline \text{○○○○} \\ \text{○○○○} \\ \hline \end{array}$$

$$\begin{array}{|c|} \hline \\ \hline \end{array} + \begin{array}{|c|} \hline \text{○} \\ \hline \end{array} = \begin{array}{|c|} \hline \text{○○} \\ \text{○○} \\ \hline \end{array}$$

$$\begin{array}{|c|} \hline \\ \hline \end{array} + \begin{array}{|c|} \hline \text{○○} \\ \text{○○} \\ \hline \end{array} = \begin{array}{|c|} \hline \text{○○○○} \\ \text{○○○○} \\ \hline \end{array}$$

$$\begin{array}{|c|} \hline \\ \hline \end{array} + \begin{array}{|c|} \hline \text{○○} \\ \hline \end{array} = \begin{array}{|c|} \hline \text{○○○○} \\ \text{○○○○} \\ \text{○○○○} \\ \hline \end{array}$$

$$\begin{array}{|c|} \hline \\ \hline \end{array} + \begin{array}{|c|} \hline \text{○○○○} \\ \text{○○} \\ \hline \end{array} = \begin{array}{|c|} \hline \text{○○○○} \\ \text{○○○○} \\ \text{○○○○} \\ \hline \end{array}$$

$$\begin{array}{|c|} \hline \\ \hline \end{array} + \begin{array}{|c|} \hline \text{○○○○} \\ \text{○○○○} \\ \hline \end{array} = \begin{array}{|c|} \hline \text{○○○○} \\ \text{○○○○} \\ \text{○○○○} \\ \hline \end{array}$$

Verilmeyen toplananı bulun.

$$\begin{array}{r} \square \\ + 6 \\ \hline 10 \end{array}$$

$$\begin{array}{r} \square \\ + 2 \\ \hline 9 \end{array}$$

$$\begin{array}{r} \square \\ + 8 \\ \hline 19 \end{array}$$

$$\begin{array}{r} \square \\ + 3 \\ \hline 15 \end{array}$$

$$\begin{array}{r} \square \\ + 5 \\ \hline 12 \end{array}$$

$$\begin{array}{r} \square \\ + 4 \\ \hline 10 \end{array}$$

$$\begin{array}{r} \square \\ + 0 \\ \hline 20 \end{array}$$

$$\begin{array}{r} \square \\ + 6 \\ \hline 13 \end{array}$$

$$\begin{array}{r} \square \\ + 5 \\ \hline 17 \end{array}$$

$$\begin{array}{r} \square \\ + 7 \\ \hline 15 \end{array}$$

$$\begin{array}{r} \square \\ + 1 \\ \hline 14 \end{array}$$

$$\begin{array}{r} \square \\ + 4 \\ \hline 14 \end{array}$$

$$\begin{array}{r} \square \\ + 9 \\ \hline 19 \end{array}$$

$$\begin{array}{r} \square \\ + 6 \\ \hline 18 \end{array}$$

$$\begin{array}{r} \square \\ + 2 \\ \hline 18 \end{array}$$

$$\begin{array}{r} \square \\ + 3 \\ \hline 20 \end{array}$$

$$\begin{array}{r} \square \\ + 7 \\ \hline 8 \end{array}$$

$$\begin{array}{r} \square \\ + 10 \\ \hline 20 \end{array}$$

$$\begin{array}{r} \square \\ + 9 \\ \hline 11 \end{array}$$

$$\begin{array}{r} \square \\ + 8 \\ \hline 11 \end{array}$$

TOPLAM: / 100 PUAN

Öğretmenin İmzası

Velinin İmzası

HAYAT BİLGİSİ Evde ve Trafikte Güvenlik Kuralları

A Boşlukları Dolduralım / 30 PUAN

Resimleri inceleyin. Boşlukları resimlere göre örnekteki gibi tamamlayın.



Camdan veya bal-
kondan sarkarsam
düşebilirim.








B Doğru mu Yanlış mı? / 20 PUAN

- | | D | Y |
|--|--------------------------|--------------------------|
| 1. Bıçak, makas gibi kesici aletlerle oynamamalıyız. | <input type="checkbox"/> | <input type="checkbox"/> |
| 2. Evde tek başımıza kıyafetlerimizi ütüleyebiliriz. | <input type="checkbox"/> | <input type="checkbox"/> |
| 3. Kibrit, ocak ve sobayla oynamak tehlikelidir. | <input type="checkbox"/> | <input type="checkbox"/> |
| 4. Islak zeminlerde yalınayak yürüeyebiliriz. | <input type="checkbox"/> | <input type="checkbox"/> |
| 5. Islak elle elektrikli alet ve makineleri çalıştırırsak elektrik çarpabilir. | <input type="checkbox"/> | <input type="checkbox"/> |
| 6. Evdeki kurallara uyarsak tehlikeler meydana gelmez. | <input type="checkbox"/> | <input type="checkbox"/> |

C Trafikte Doğru Davranışı Bulalım / 30 PUAN

Resimleri inceleyin. Doğru davranışların kutucuklarını kırmızıya boyayın.



D Trafik Levhaları / 20 PUAN

Trafik levhalarının anlamlarını yazın.



TOPLAM: / 100 PUAN

Öğretmenin İmzası

Velinin İmzası

HAYAT BİLGİSİ Acil Durum Numaraları

A Ne Zaman Hayır Demeliyim? / 20 PUAN

Aşağıda günlük yaşamda karşılaşacağımız olaylardan “hayır” dememiz gerekenlerin kutularını kırmızıya boyayın.

1. Tanımadığın biri seni eve götürmek istiyor.
2. Arkadaşın okula farklı yoldan gitmeyi teklif etti.
3. Dersin bitti. Arkadaşın oyun oynamaya davet ediyor.
4. Oyun iznin bitti. Arkadaşların kal diye ısrar ediyor.
5. İnternet arkadaşın anne ve babanın özel bilgilerini istiyor.
6. Arkadaşların sana senin hoşlanmadığın şakalar yapıyor.


B Doğru mu Yanlış mı? / 30 PUAN

- | | D | Y |
|--|--------------------------|--------------------------|
| 1. “Hayır” demeyi bilmiyorsak annemiz, babamız ve biz, bizi üzecek sorunlar yaşayabiliriz. | <input type="checkbox"/> | <input type="checkbox"/> |
| 2. “Hayır” diyerek karşımızdakini incitmeyiz, teklifini reddetmiş oluruz. | <input type="checkbox"/> | <input type="checkbox"/> |
| 3. Arkadaşımıza hayır dediğimizde nedenini açıklamamıza gerek yoktur. | <input type="checkbox"/> | <input type="checkbox"/> |
| 4. Tanımadığım insanların arabalarına binebilirim. | <input type="checkbox"/> | <input type="checkbox"/> |
| 5. Sanal ortamdaki arkadaşıma babamın nüfus bilgilerini verebilirim. | <input type="checkbox"/> | <input type="checkbox"/> |
| 6. Oyun daveti, planımıza uygun değilse hayır diyebiliriz. | <input type="checkbox"/> | <input type="checkbox"/> |



C İmdat Yardım Edin! / 25 PUAN

Aşağıdaki acil durum numaralarını kurumları ve araçlarıyla eşleştirin.



1 - 1 - 0



JANDARMA



1 - 1 - 2



AMBULANS



1 - 5 - 5



İTFAİYE



1 - 5 - 6



POLİS

D Kimi Aramalıyım? / 25 PUAN

Aşağıdaki boşlukları “ambulans, itfaiye, polis, jandarma” sözcüklerinden uygun olanıyla tamamlayın.

1. Evde veya çevremizde yangın varsa ararım.
2. Yaralanma, zehirlenme gibi durumlarda aramalıyız.
3. Evimize hırsız girerse ararım.
4. Şehirler arası yolda kaza olursa ararım.

TOPLAM: / 100 PUAN

Öğretmenin İmzası

Velinin İmzası