

# 6. sınıf

- Türkçe
- Matematik
- Fen Bilimleri
- Sosyal Bilgiler
- İngilizce

6 Deneme Sınavı

## Deneme Sınavı Seti

Yeni  
Nesil  
Sorularla

# 6. SINIF DENEME SINAVI



Türkçe - Matematik - Fen Bilimleri  
Sosyal Bilgiler - İngilizce

## **ÖĞRENCİNİN DİKKATİNE!**

1. Cevaplarınızı, cevap kâğıdındaki ilgili alanlara soru numarasını dikkate alarak yuvarlağın dışına taşırmadan kurşun kalemle kodlayınız.
2. Bu kitapçıkta testlerde yer alan her sorunun yalnızca bir doğru cevabı vardır. Bir soru için birden çok cevap yeri işaretlenmişse o soru yanlış cevaplanmış sayılacaktır.
3. Değiştirmek istediğiniz her cevabı, yumuşak bir silgiyle cevap kâğıdınızı örselemeden temizce siliniz ve yeni cevabınızı kodlayınız.
4. Soruların çözümü için size ayrıca boş kâğıt verilmeyecektir. Soru kitapçığının içindeki boş alanları çözümlerinizi için kullanabilirsiniz.
5. Bu kitapçıkta 20 Türkçe, 20 Matematik, 20 Fen Bilimleri, 10 Sosyal Bilgiler, 10 İngilizce sorusu vardır.

## TÜRKÇE TESTİ

9, 10, 11 ve 12. soruları metne göre yanıtlayınız.

(I)Orta Asya'daki Aral Gölü'nün kuruması, tarih boyunca insan eliyle gerçekleştirilen en büyük doğal felaketlerden biridir. Eskiden 60 bin km<sup>2</sup>lik bir alana yayılan Aral Gölü, yer yer 40 m derinliğe ulaşıyordu. Şimdilerde ise bu doğa harikasının sadece %10'u geride kaldı. (II) Pamuk rekoltesini artırmak için Sovyetler Birliği tarafından yapılan bilinçsiz sulama projeleri, dünyanın en büyük dördüncü gölü olan Aral'ın %90'ını kurutmuştur. (III) Göl, 40 yıl gibi kısa bir sürede bu plansızlık yüzünden çöle dönmüş durumdadır. (IV) Bir zamanlar teknelerin yüzdüğü yerde şimdi çorak bir toprağın ortasında paslanmış gemi kalıntıları yer alıyor.

**Sovyetler Birliği'nin planlamacıları, Orta Asya'yı dünyanın en büyük pamuk üreticisi hâline getirmek istemişti.** Hatta 1980'lerde Özbekistan, dünyanın en büyük pamuk üreticisi hâline geldi.

Ancak bu tablo çok uzun sürmedi. Aral'ı besleyen Amu Derya ve Siri Derya Nehirleri, pamuk tarlalarını sulamak için kullanıldığında Aral, susuz kaldı. Aral'ın yüzölçümü daraldıkça gölde balıkçılık bitti, böcek ve haşereler çoğaldı. Gölün kurumasıyla bölgedeki iklim de değişti. Yağmurlar azaldı, yeşil alanlar kuraklaştı. Aral'a yakın konumdaki tatlı su gölleri de Aral'la birlikte kurudu. Aral'ın beslediği bitki örtüsü içinde yaşayan antilop sürüleri yeryüzünden silindi.



9. Metnin ilk paragrafında numaralanmış cümlelerin hangisinde karşılaştırma yapılmamıştır?

- A) I      B) II      C) III      D) IV

10. Metindeki koyu yazılmış cümle için aşağıdakilerden hangisi söylenemez?

- A) Karşılaştırma ifadesi kullanılmıştır.  
B) Amaç – sonuç anlamı taşımaktadır.  
C) İsim tamlamasına yer verilmiştir.  
D) Sıfat tamlaması bulunmaktadır.

11. Aşağıdakilerden hangisi Aral Gölü'nün kurumasının sonuçlarından biri değildir?

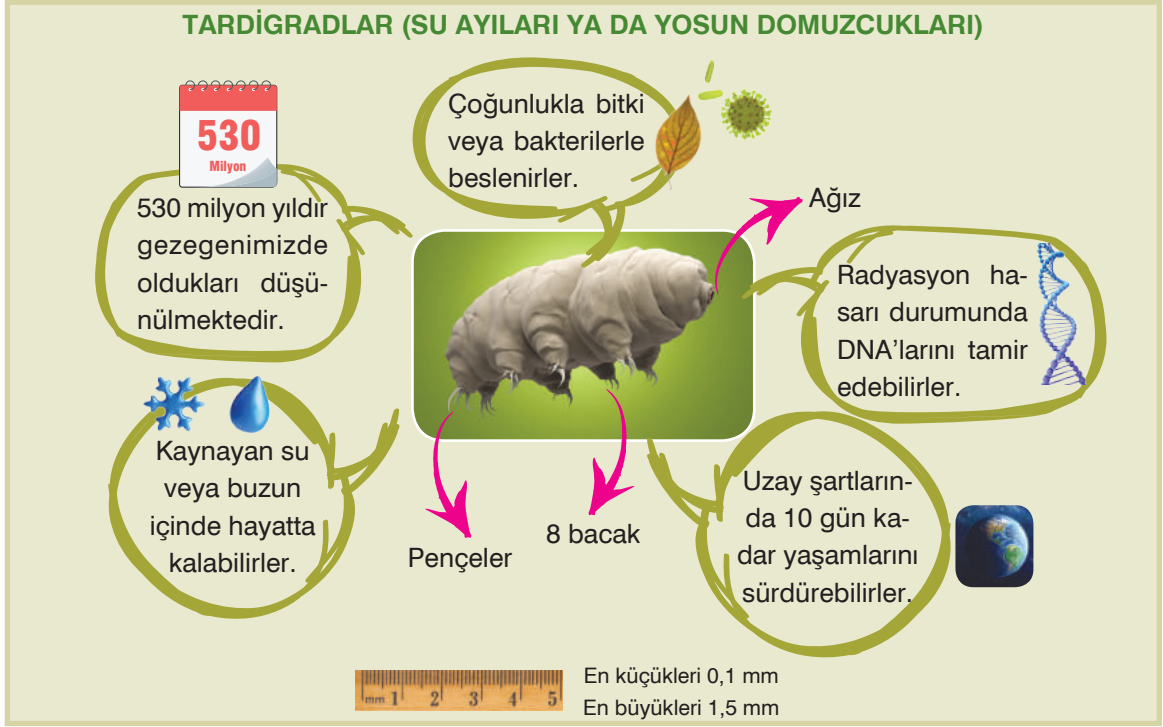
- A) Bölgedeki antilop sürülerinin neslinin tükenmesi  
B) Aral çevresindeki bazı küçük göllerin kuruması  
C) Amu Derya ve Siri Derya'nın sulamada kullanılması  
D) Bölgedeki balıkçılık faaliyetlerinin son bulması

12. Metinde sembollerle gösterilen sözcüklerden hangisi yapıca diğerlerinden farklıdır?

- A) ●      B) ★      C) ■      D) ▲

## TÜRKÇE TESTİ

19 ve 20. soruları görsel göre yanıtlayın.



19. Bu görselden hareketle tardigradlarla ilgili aşağıdaki bilgilerden hangisine ulaşamaz?

- A) Ucunda pençeleri olan sekiz tane ayağı vardır ve çok küçük canlılardır.
- B) Çok zorlu koşullarda bile hayatta kalabilirler.
- C) Zararlı bakterileri yedikleri için insanlığa faydalıdır.
- D) Uzun zamandır dünyada oldukları düşünülmektedir.

20. Bu görseldeki cümleler için

- I. Birden fazla isim tamlaması kullanılmıştır.
- II. Sıfat tamlaması kullanılmıştır.
- III. Bağlaç ve edat görevli sözcük yoktur.

yargılarının hangileri doğrudur?

- A) I ve II
- B) II ve III
- C) I ve III
- D) I, II ve III


TÜRKÇE TESTİ BİTTİ.

## TÜRKÇE TESTİ

19 ve 20. soruları broşüre göre yanıtlayın.

# ALERJİ














**Alerji vücudumuzdaki antikorların, başkaları için zararsız olabilecek bazı maddelere karşı savaş açmasıdır.**



**Alerji Testi Yaptır**

**Çok yaygındır ve her yaş grubunda görülebilir.**

**Alerjiye Neden Olan Bazı Maddeler**


 Kauçuk	 Süt	 Hayvan Tüyleri	 Narenciye
 Bal	 İlaç	 Aşı	 Yumurta
 Deniz Ürünleri	 Küf	 Hububat	 Fıstık
 Böcek	 Kimyasal	 Toz	 Polen

**Tedavisi**




Doktorunuz hangi ilacı ve tedaviyi önerirse onu uygulayın.


**Belirtileri**




Gözlerde kızamıklık ve akıntı




Burun akıntısı




Baş ağrısı



Ödem



İsilik



Öksürük

19. Alerji ile ilgili hazırlanan bu afişten aşağıdakilerin hangisine ulaşamaz?

- A) Pek çok madde alerjiye neden olabilmektedir.
- B) Alerji tedavisi için doktor kontrolünde ilaç kullanılmalıdır.
- C) Burun ve göz akıntısı, baş dönmesi, ödem, kaşıntı alerji belirtileri arasındadır.
- D) Alerji vücudun bazı maddelere karşı savaşmasıdır ve her yaşta görülebilir.

20. Bu afişte

- I. Tanım cümlesi kullanılmıştır.
- II. Neden - sonuç cümlesi kullanılmıştır.
- III. Koşul - sonuç cümlesi kullanılmıştır.

yargılarının hangileri doğrudur?

- A) Yalnız I
- B) I ve III
- C) II ve III
- D) I, II ve III

TÜRKÇE TESTİ BİTTİ.

## MATEMATİK TESTİ

- Bu testte 20 soru vardır.
- Cevaplarınızı, cevap kâğıdının matematik testi için ayrılan kısmına işaretleyiniz.

1. Aşağıdaki kartlarda 1'den 20'ye kadar olan doğal sayılar bulunmaktadır.

1	2	3	4	5
6	7	8	9	10
11	12	13	14	15
16	17	18	19	20

I. Kart

1	2	3	4	5
6	7	8	9	10
11	12	13	14	15
16	17	18	19	20

II. Kart

1	2	3	4	5
6	7	8	9	10
11	12	13	14	15
16	17	18	19	20

III. Kart

- I. kartta 3 ile tam bölünebilen doğal sayıların bulunduğu kareler boyanıyor.
- II. kartta 4 ile tam bölünebilen doğal sayıların bulunduğu kareler boyanıyor.
- III. kartta asal sayıların bulunduğu kareler boyanıyor.

Buna göre her bir karttaki boyalı olan karelerin sayısı boyalı olmayan karelerin sayısına oranlandığında aşağıdakilerden hangisi elde edilemez?

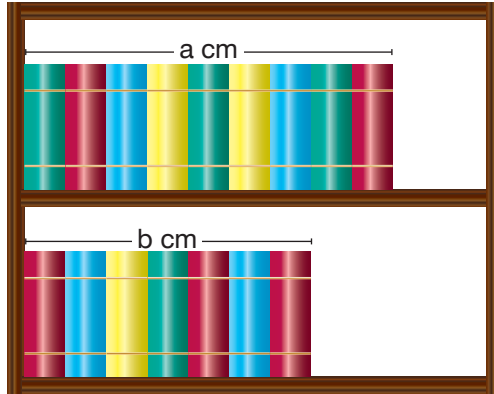
A)  $\frac{1}{3}$

B)  $\frac{3}{7}$

C)  $\frac{3}{5}$

D)  $\frac{2}{3}$

2.



Leyla, 16 ciltten oluşan ve her biri eşit kalınlıkta olan kitap serisini aralarında boşluk kalmayacak şekilde kitaplığının rafına görseldeki gibi diziyor.

Buna göre bir kitabın kalınlığını santimetre cinsinden veren cebirsel ifade aşağıdakilerden hangisine eşit olamaz?

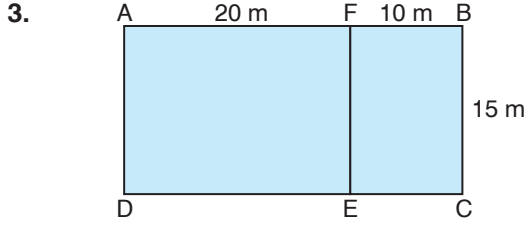
A)  $\frac{a-b}{2}$

B)  $\frac{a}{9}$

C)  $\frac{a+b}{16}$

D)  $\frac{b}{2}$

## MATEMATİK TESTİ

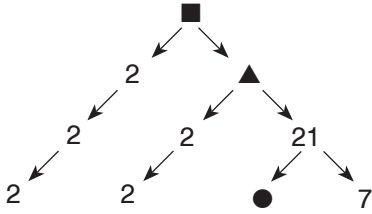


ABCD dikdörtgeninde  $|AF| = 20$  m,  
 $|BF| = 10$  m ve  $|BC| = 15$  m'dir.

Buna göre aşağıdaki işlemlerden hangisinin sonucu ABCD dikdörtgeninin metrekare cinsinden alanına eşittir?

- A)  $20 \cdot (10 + 15)$   
B)  $15 \cdot (10 + 20)$   
C)  $10 \cdot (15 + 20)$   
D)  $15 \cdot (15 + 10)$

4. Aşağıda ■ sayısının çarpan ağacı verilmiştir.



Buna göre  $\blacktriangle - \blacksquare \div \bullet$  işleminin sonucu kaçtır?

- A) 7      B) 14      C) 28      D) 42

5. Aşağıdaki ifadelerden hangisi küme belirtmez?

- A) "EZGİ" kelimesinin harfleri  
B) 37 sayısının doğal sayı bölenleri  
C) Güzel gözlü yazarlar  
D) 100'den büyük iki basamaklı doğal sayılar

6. ■ =  $|-3|$   
▲ = 3  
● =  $-|3|$   
★ =  $(-3)$

Verilenlere göre aşağıdaki sıralamalardan hangisi doğrudur?

- A) ■ = ▲ > ● = ★  
B) ■ = ▲ = ★ > ●  
C) ▲ > ■ = ● > ★  
D) ▲ = ■ > ★ > ●

7.  $\frac{12}{26} \cdot \frac{13}{42} \div \frac{2}{7}$

Verilen işlemin sonucu kesirler çeyreğe, yarıma veya üçte bire yakınlığına göre yuvarlanarak tahmin ediliyor.

Buna göre tahmini sonuç ile işlem sonucu arasındaki fark kaçtır?

- A)  $\frac{1}{7}$       B)  $\frac{1}{6}$       C)  $\frac{4}{9}$       D)  $\frac{1}{2}$

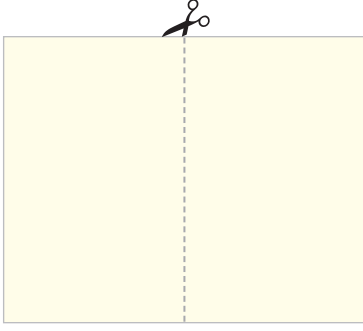
8. 4,8 m uzunluğundaki bir tahta çubuk 0,6 m uzunluğunda eş parçalara ayrılmak isteniyor.

Marangoz Okan Usta, her bir kesim işlemi için 115 kr. aldığına göre bu işten toplam kaç lira kazanır?

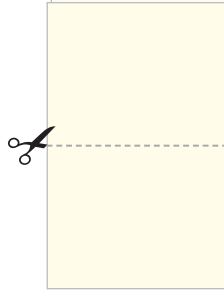
- A) 9,20      B) 9,05  
C) 8,20      D) 8,05

## MATEMATİK TESTİ

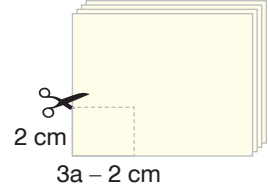
9.



I. Şekil



II. Şekil



III. Şekil

I. şekilde verilen dikdörtgen şeklindeki kâğıt belirtilen yerden kesilerek iki eş parçaya ayrılıyor. Elde edilen parçalar üst üste koyularak II. şekilde belirtilen yerden tekrar kesilerek eş parçalar oluşturuluyor. Oluşturulan bu parçalar tekrar üst üste koyularak III. şekilde belirtilen yerden kesiliyor.

**Elde edilen dikdörtgen şeklindeki eş parçaların kısa kenarlarının uzunluğu 2 cm, uzun kenarlarının uzunluğu  $3a - 2$  cm olduğuna göre bu dikdörtgenlerin alanlarının toplamını santimetrekare cinsinden veren cebirsel ifade aşağıdakilerden hangisidir?**

A)  $2 \cdot (3a - 2)$

B)  $4 \cdot 2 \cdot (3a - 2)$

C)  $2 \cdot 2 \cdot (3a - 2)$

D)  $4 \cdot (3a - 4)$

10. 2005 yılında gerçekleşen Orta Amerika ve Karayipler Atletizm Şampiyonası'nda Usain Bolt 200 m koşusunda 1. olmuştur. Bu yarışta Usain Bolt, 200 metreyi 20 saniyede koşmuştur.

**Verilen bilgiye göre Usain Bolt'un aldığı yolun geçen süreye birimli oranı kaç km/sa.tir?**

A) 36

B) 18

C) 10

D) 9



## FEN BİLİMLERİ TESTİ

- Bu testte 20 soru vardır.
- Cevaplarınızı, cevap kâğıdının fen bilimleri testi için ayrılan kısmına işaretleyiniz.

1, 2 ve 3. soruları görsele göre yanıtlayın.

Güneş sistemindeki gezegenler farklı büyüklükteki toplar ile gösterilmiştir.



Pilates topu



Sağlık topu



Basketbol topu



Voleybol topu



Su topu



Tenis topu





Pinpon topu



Bilye topu

1. Her bir görsel farklı bir gezegeni temsil ettiğine göre aşağıda verilen eşleştirmelerden hangisi doğrudur?



2. Güneş'e en yakın ve en uzak gezegenler hangi görsellerle gösterilmiştir?

En yakın

- A) Basketbol topu
- B) Bilye
- C) Pilates topu
- D) Pinpon topu

En uzak

- Sağlık topu
- Voleybol topu
- Su topu
- Bilye

3. Güneş'e en yakın 4. gezegenin görseli aşağıdakilerden hangisinde doğru verilmiştir?



## FEN BİLİMLERİ TESTİ

4. • Güneş sisteminin oluşumundan arta kalan, Mars ile Jüpiter gezegenleri arasında yer alan kaya ve metal parçalarının bulunduğu yerdir.
- Atmosfere giren meteorların sürtünme sonucunda yanmaya başlaması ve akkor hâline gelip ışık saçması olayıdır.
  - Atmosfere girdikten sonra yeryüzüne ulaşan meteorlardır.

Yukarıda bazı kavramların tanımları verilmiştir.

**Aşağıdaki kavramlardan hangisi tanımları verilenlerden biri değildir?**

- A) Asteroit kuşağı
- B) Yıldız kayması
- C) Gök taşı
- D) Göktaşı çukuru

5.



NASA, 26 Kasım 2011'de kızıl gezegene Curiosity (Merak) adını verdiği yeni bir yüzey aracı fırlattı. Görevi önceki yüzey araçlarından devralacak olan Curiosity'nin eksikleri önemli ölçüde tamamlayacağı düşünülüyor. Curiosity, diğer hareketli yüzey robotlarının topladığı veriler ışığında toprağı, kayaları ve atmosferi daha derinlemesine inceleyecek. Bu aracın ana görevi gönderildiği Güneş sisteminin en büyük dağının olduğu gezegende yaşam için uygunluk olup olmadığına karar verebilmektir.

**Yukarıda bahsedilen yüzey aracı Curiosity, hangi gezegene gönderilmiştir?**

- A) Venüs
- B) Dünya
- C) Mars
- D) Merkür

6. Jüpiter gibi tümüyle gazdan oluşan bir gezegendir. Çıplak gözle görülebilse de halkasını görebilmek için teleskop kullanılır. Yörüngesinde 60'tan fazla uydusu bulunmaktadır. Bunlardan biri olan Titan, Merkür gezegeninden bile büyüktür.

**Özellikleri anlatılan gezegen ile ilgili aşağıdaki ifadelerden hangisi yanlıştır?**

- A) Halk arasında Çoban Yıldızı olarak bilinir.
- B) Dış gezegenler arasında yer alır.
- C) Güneş'e yakınlık sıralamasında 6. sıradadır.
- D) Büyüklük açısından Jüpiter'den sonra 2. gezegendir.

7. Meteoritler zaman zaman gezegenlerin, hatta Dünya'nın da çekim alanına girerler. Atmosfere giren meteoritler ise artık ..... olarak adlandırılırlar. Atmosferde ilerlerken sürtünme kuvvetinin etkisi ile ısınır, yanar ve ışık saçmaya başlar. Halk arasında buna ..... denir. Yeryüzüne ulaşan meteorların düştükleri yerlerde oluşturduğu çukurlara ..... çukuru denir.

**Verilen parçadaki boşluklar aşağıdakilerle tamamlandığında, hangi sözcük boşta kalacaktır?**

- A) asteroit kuşağı
- B) gök taşı
- C) yıldız kayması
- D) meteor

## FEN BİLİMLERİ TESTİ

8.



**Yukarıdaki görselde gerçekleşmekte olan tutulmayla ilgili;**


- I. Olayı gözlemek için filtreli gözlükler ya da teleskoplar kullanılmalıdır.
- II. Ay'ın, Dünya ile Güneş arasına girmesi sonucu meydana gelir.
- III. Ay'ın dolunay evresindeyken gerçekleşir.

**İfadelerinden hangileri doğrudur?**

- A) Yalnız I                      B) I ve II                      C) II ve III                      D) I,II ve III

9. Cem ile Cemre aralarında bir oyun kurmuşlardır. Oyunun kuralları şu şekildedir: Cem, Cemre'ye soru soracaktır. Eğer Cemre, Cem'in sorduğu soruyu doğru yanıtlar ise 2 sayı ileriye sekecek, yanlış yanıtlarda ise bulunduğu yerden 1 sayı geriye sekecektir. Cemre'nin verdiği cevaplar sırasıyla şöyledir;

- Merkür, Venüs, Dünya ve Mars iç gezegenlerdir.
- Jüpiter gazsal gezegenlerin en büyüğüdür.
- Halkası olmayan gezegenler sadece Merkür ve Venüs'tür.
- Neptün, Güneş'e en uzak gezegendir.
- Merkür, Güneş sisteminin yüzeyi en sıcak gezegenidir.



**Buna göre Cem'in sorularının hepsini yanıtlayan Cemre oyun sonucunda kaç numaralı kutucukta olacaktır?**

- A) 5                      B) 4                      C) 3                      D) 2

10. Yan tarafta verilen bulmaca kesitinde aşağıdaki sorulardan hangisinin yanıtı bulunmamaktadır?

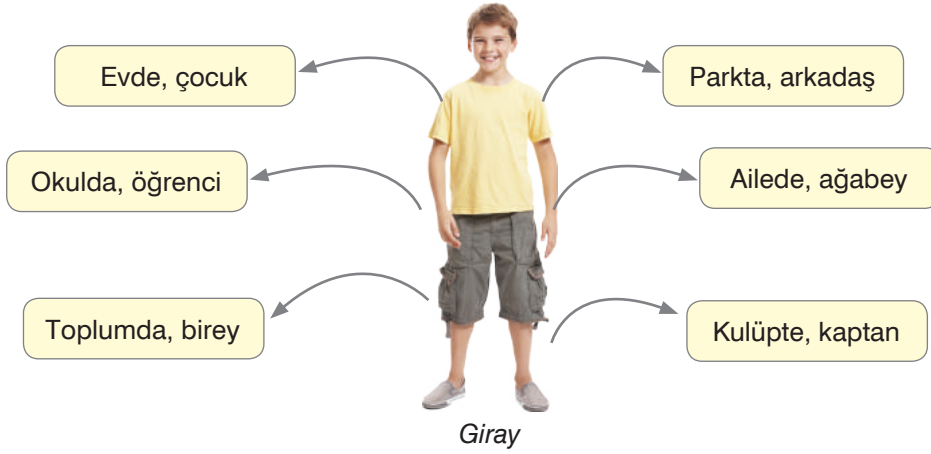
- A) Güneş sisteminin en büyük gezegeni hangisidir?
- B) Yörüngeleri Mars ile Jüpiter arasında kalan gök cisimlerine ne ad verilir?
- C) Bir gezegen çevresinde belli bir yörüngede dolanan gök cismi nedir?
- D) Asteroidlerin parçalanması sonucu oluşan parçalardan yeryüzüne kaya şeklinde düşenlerine ne denir?



## SOSYAL BİLGİLER TESTİ

- Bu testte 10 soru vardır.
- Cevaplarınızı, cevap kâğıdının sosyal bilgiler testi için ayrılan kısmına işaretleyiniz.

1.



Giray'la ilgili verilenlere göre aşağıdakilerden hangisi söylenemez?

- A) Kişiler aynı grupta yer alsa da rolleri değişebilir.
- B) Bir kişi hem öğrenci hem sporcu olabilir.
- C) Bireylerin katıldığı gruplar değişse de rolleri aynı kalır.
- D) Birey olarak dünyaya geldiğimiz andan itibaren çeşitli sosyal roller üstleniriz.

2.

### “Medinetü’l Fazıla” (Erdemli İdeal Toplum)

“...İnsan tek başına medeniyeti yakalayarak kendi hayatını sürdüremez ve mükemmelleşemez. Yaratılışın gayesi olan mükemmelliğe, ancak birbiriyle yardımlaşan birçok insanın bir araya gelmesiyle ulaşılabilir. Gerçek mutluluk vasıtası olan hususlarda yardımlaşmayı amaçlayan bir şehir, erdemli mükemmel bir şehirdir. Birbirlerine yardım eden milletler erdemli, mükemmel milletlerdir.”

(Farabî Nazif Öztürk, Osmanlı Dönemi'nde Vakıflar, C. 10, s. 433)

Farabî verilen açıklamasında ideal toplum için aşağıdakilerin hangisinin gerekli olduğunu savunmuştur?

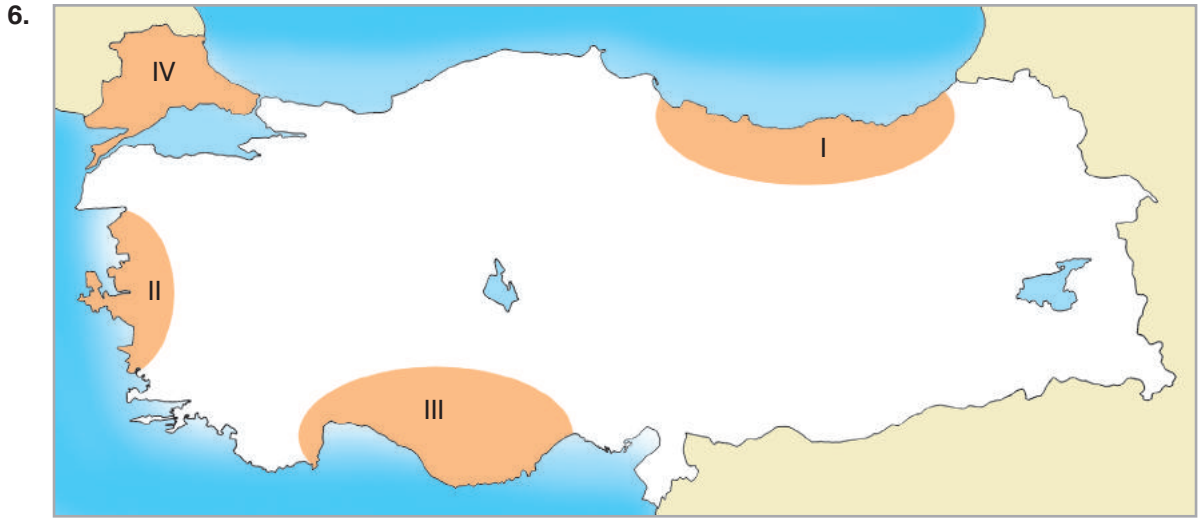
- A) Uygarlığın
- B) Yardımlaşmanın
- C) Erdemin
- D) Mutluluğun

## SOSYAL BİLGİLER TESTİ



Türkiye'nin bulunduğu koordinat düzlemine bakarak aşağıdaki değerlendirmelerden hangisi yapılamaz?

- A) 26° - 45° Doğu meridyenleri ile 36°-42° Kuzey paralelleri arasındadır.
- B) Kuzey yarım kürede yer almaktadır.
- C) Çevresinde Karadeniz, Ege denizi ve Akdeniz yer alır.
- D) Yükseltisi batıdan doğuya doğru artar.




Haritada Türkiye'de belli başlı yörelerde yetiştirilen tarım ürünleri numaralandırılarak verilmiştir. Bu numaraların ait olduğu tarım ürünleri aşağıdakilerden hangisinde doğru olarak yer alır?

- | I           | II       | III          | IV       |
|-------------|----------|--------------|----------|
| A) Çay      | Zeytin   | Turunçgiller | Ayçiçeği |
| B) Zeytin   | Pamuk    | Fındık       | Ayçiçeği |
| C) Ayçiçeği | Zeytin   | Çay          | Fındık   |
| D) Fındık   | Ayçiçeği | Zeytin       | Pamuk    |



## SOSYAL BİLGİLER TESTİ

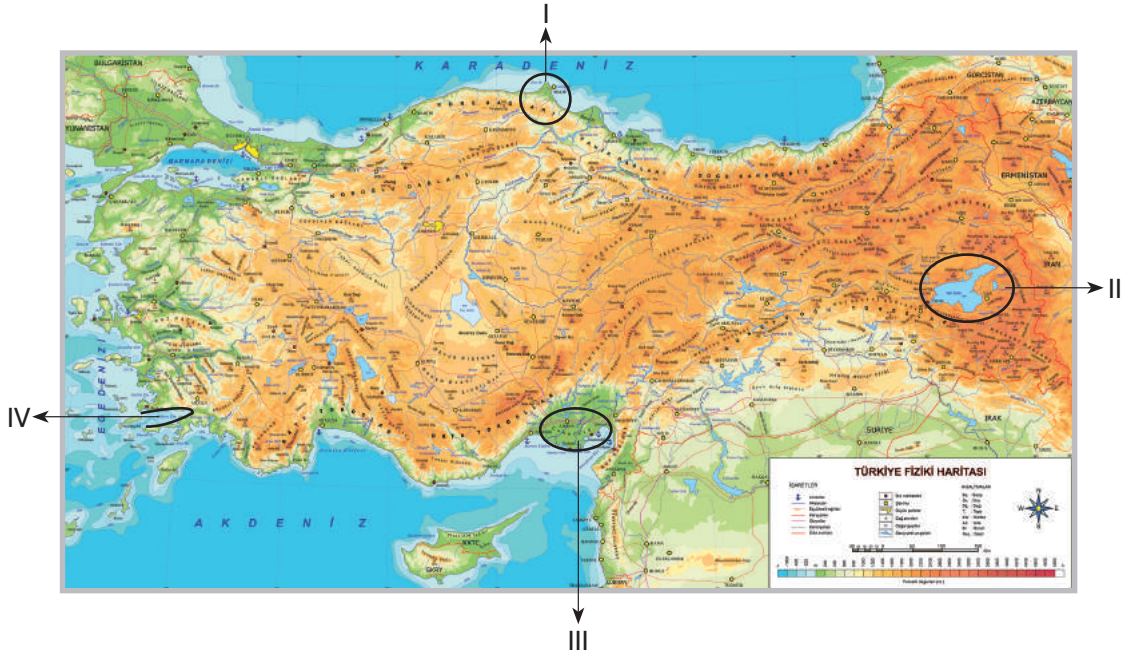
5.



Haritada bir iklim tipinin dağılışı gösterilmiştir. Görsel de bu iklim tipinin görüldüğü bir yere aittir. **Buna göre verilenlerin aşağıdaki iklimlerden hangisine ait olduğu söylenebilir?**

- A) Kutup iklimi      B) Ekvatorial iklim      C) Akdeniz iklimi      D) Muson iklimi

6.



Haritada ülkemizdeki bazı yer şekilleri numaralandırılarak gösterilmiştir.

**Buna göre numaralandırılmış yerlere aşağıdaki yer şekillerinden hangileri getirilmelidir?**

- | I              | II          | III         | IV     |
|----------------|-------------|-------------|--------|
| A) Burun       | Delta ovası | Körfez      | Göl    |
| B) Göl         | Delta ovası | Körfez      | Burun  |
| C) Delta ovası | Burun       | Göl         | Körfez |
| D) Burun       | Göl         | Delta ovası | Körfez |

## İNGİLİZCE TESTİ

- Bu testte 10 soru vardır.
- Cevaplarınızı, cevap kâğıdının İngilizce testi için ayrılan kısmına işaretleyiniz.

(For questions 1-5, choose the best option to fill in the blanks.)

(1-5. sorularda boşluklara uygun olan seçeneği işaretleyin.)

1.



**Yiğit:** What do you do at the weekends?

**Deniz:** \_\_\_\_\_.

- A) I go to a tennis course with my friends.
- B) I visit my friends.
- C) I go shopping with my friends.
- D) I rest at home.

2. My sister \_\_\_\_\_ before she goes to sleep in the evenings. She likes doing it because she thinks it is a good idea to write about her day. She says she feels happy when she reads it later.

- A) writes in her diary
- B) helps me with my homework
- C) writes short stories
- D) plays with our dog

3.

Salty Food:
I. Omelette
II. Sausages
III. _____
IV. Bagel

- A) Butter
- B) Fig jam
- C) Junk food
- D) Chocolate muffins

4.

Sweet Food:
I. Marmelade
II. _____
III. Cherry jam
IV. Chocolate paste

- A) Salami
- B) Honey
- C) Toast
- D) Boiled eggs

5.



It's \_\_\_\_\_.

- A) ten to ten
- B) ten past ten
- C) ten past eleven
- D) ten to eleven

6.

When do you go to your step dance class?

Which one below can't be the answer of the given question?

(Aşağıdakilerden hangisi verilen sorunun doğru cevabı olamaz?)

- A) After school on Mondays.
- B) At the weekends.
- C) On Saturday mornings.
- D) In the library of our school.

7.

This is my favourite food for my breakfast menu. My mum cooks it for me frequently. I usually add some strawberry jam and butter in it. It is so delicious.

Which one below is the food the writer of the sentences explains?

(Aşağıdakilerden hangisi cümleleri anlatan kişinin açıkladığı yiyecektir?)

- A) Crepes
- B) Toast
- C) Bagel
- D) Chocolate cake

## İNGİLİZCE TESTİ

(Answer questions 8-10 according to the dialogue below.)

(8-10. soruları aşağıdaki diyaloga göre cevaplayın.)

**Jordan:** Hello Miranda. How are you?

**Miranda:** I'm doing great Jordan. What about you?

**Jordan:** I am also doing great.

**Miranda:** I am on my way to my salsa dance class. Would you like to join me?

**Jordan:** Well, I'd love to but I have my drama course half an hour later.

**Miranda:** Oh, I see. How often do you go to your drama course?

**Jordan:** Twice a week, every Wednesday and Friday.

**Miranda:** That sounds fun!

**Jordan:** Yes, it is fun. I really enjoy it!



**8. Which one below is correct according to the dialogue?**

(Diyaloga göre aşağıdakilerden hangisi doğrudur?)

- A) Miranda has a salsa course twice a week.
- B) Jordan does not feel good.
- C) Jordan dislikes going to the drama course.
- D) Jordan has a salsa course twice a week.

**9. Which one below is incorrect according to the dialogue?**

(Diyaloga göre aşağıdakilerden hangisi yanlıştır?)

- A) Jordan feels great.
- B) Jordan does not enjoy drama.
- C) Miranda feels very good.
- D) Miranda enjoys salsa dance.

**10. Which one below does not have an answer in the dialogue?**

(Diyalogda aşağıdakilerden hangisinin cevabı yoktur?)

- A) How often does Jordan go to a drama course?
- B) Does Miranda enjoy the salsa dance course?
- C) Does Miranda go to a salsa dance course?
- D) How often does Jordan go to a dance course?



## İNGİLİZCE TESTİ

(Look at the visuals and read the text. Answer questions 8-10 according to them.)

(Görsellere bakın ve metni okuyun. 8-10. soruları verilen bilgilere göre cevaplayın.)

According to a recent survey among Turkish teenagers, they enjoy different activities at the funfair. Some of them enjoy some rides more than the others but it is fun to spend some time at the funfair for all of them. Here are some of the results of this survey.



TURKISH TEENAGERS

8. Which sentence can be correct according to the survey?

(Ankete göre aşağıdakilerden hangisi doğru olabilir?)

- A) Turkish teenagers enjoy roller coasters a lot.
- B) Turkish teenagers love riding the chain swings.
- C) Turkish teenagers don't enjoy bumper cars.
- D) Turkish teenagers really hate thrill rides.

9. Which sentence cannot be correct according to the survey?

(Ankete göre aşağıdakilerden hangisi doğru olamaz?)

- A) Thrill rides are amazing for Turkish teenagers.
- B) Roller coasters are dull for Turkish teenagers.
- C) Turkish teenagers don't enjoy riding chain swings much.
- D) Turkish teenagers enjoy thrill rides.

10. Which cannot be one of the questions in the survey?

(Aşağıdakilerden hangisi anketin sorularından biri olamaz?)

- A) How often do Turkish teenagers ride the roller coaster?
- B) Do Turkish teenagers enjoy chain swings?
- C) Which rides are the favourites of Turkish teenagers at the funfair?
- D) Do Turkish teenagers enjoy riding the roller coaster more than riding the thrill rides?

İNGİLİZCE TESTİ BİTTİ.