

Tüm Dersler 4 Soru Bankası

Türkçe - Matematik
Fen Bilimleri - Sosyal Bilgiler - İngilizce



4.SINIF TÜM DERSLER SORU BANKASI

©Tudem Eğitim Hiz. San. ve Tic. AŞ
1476/1 Sokak No: 10/51 Alsancak / Konak / İZMİR

YAZARLAR: Tudem Yazı Kurulu
DİZGİ VE GRAFİK: Tudem Grafik Ekibi

BASKI VE CİLT: Ertem Basım Yayın Dağıtım San. Tic. Ltd. Şti.
Eskişehir Yolu 40. km Başkent OSB 22. Cadde No: 6 Malıköy / ANKARA
0 312 284 18 14

ISBN: 978-605-69329-5-3
YAYINEVİ SERTİFİKA NO: 45041
MATBAA SERTİFİKA NO: 16031

Tüm hakları saklıdır.
Bu yayının hiçbir bölümü, telif hakkı sahibinin önceden yazılı izni olmaksızın tekrar üretilemez, bir erişim sisteminde tutulamaz, herhangi bir biçimde elektronik, mekanik, fotokopi, kayıt ya da diğer yollarla iletilemez.

www.bilgikupuyayinlari.com.tr

Sevgili Öğrenci,

İyi bir eğitim almak, hayallerinizi gerçekleştirmek ve hedeflerinize ulaşmak için en gerekli unsurlardan biridir. Elinizdeki bu yayın okulunuzdaki derslere yardımcı olacak temel ve seçici bir kaynaktır.

Bu kitapta her üniteyle ilgili tüm kazanımları içeren testler yer almaktadır. Bu testlerde çalıştığınız bir konuyu ne kadar kavradığınızı ölçecek ve konularla ilgili ağırlıklı olarak yer verilen önemli bilgileri kavrayacaksınız.

Hayatın her aşamasında başarılı olmanız dileğiyle...

Yazı Kurulu

1

Ünite: Sözcükte ve Sözcük Gruplarında Anlam

Test No	Sayfa No
1	10
2	13
3	16
4	19

2

Ünite: Cümlede Anlam

Test No	Sayfa No
1	22
2	25

3

Ünite: Zıt Anımlı, Eş Anımlı ve Eş Sesli Sözcükler

Test No	Sayfa No
1	28
2	31

4

Ünite: Noktalama İşaretleri

Test No	Sayfa No
1	34
2	37
3	40

5

Ünite: Yazım Kuralları

Test No	Sayfa No
1	43
2	46
3	49

6

Ünite: Metin Türleri

Test No	Sayfa No
1	52
2	56

7

Ünite: Okuduğunu Anlama

Test No	Sayfa No
1	59
2	63
3	67

8

Ünite: Görsel Okuma

Test No	Sayfa No
1	71

MATEMATİK

1

Ünite: Sayılar ve İşlemler

Test No	Sayfa No
1.....	76
2.....	79
3.....	82
4.....	85

4

Ünite: Sayılar ve İşlemler – Ölçme – Veri İşleme

Test No	Sayfa No
1.....	107
2.....	110
3.....	113
4.....	116

2

Ünite: Sayılar ve İşlemler

Test No	Sayfa No
1.....	88
2.....	91
3.....	94

5

Ünite: Geometri - Ölçme

Test No	Sayfa No
1.....	120
2.....	124
3.....	127
4.....	130

3

Ünite: Sayılar ve İşlemler

Test No	Sayfa No
1.....	97
2.....	99
3.....	102
4.....	104

6

Ünite: Ölçme

Test No	Sayfa No
1.....	133
2.....	136
3.....	139
4.....	142

1

Ünite: Yer Kabuğunun Yapısı - Dünya'mızın Hareketleri

Test No	Sayfa No
1.....	146
2.....	149
3.....	152

2

Ünite: Besinler ve Özellikleri

Test No	Sayfa No
1.....	155
2.....	158
3.....	161

3

Ünite: Kuvvetin Cisimler Üzerindeki Etkileri-Mıknatısların Uyguladığı Kuvvet

Test No	Sayfa No
1.....	164
2.....	167

4

Ünite: Maddeyi Niteleyen Özellikler-Maddenin Ölçülebilir Özellikleri

Test No	Sayfa No
1.....	170
2.....	173
3.....	176
4.....	179

5

Ünite: Aydınlatma Teknolojileri- Uygun Aydınlatma- Işık Kirliliği

Test No	Sayfa No
1.....	182
2.....	185
3.....	188
4.....	191

6

Ünite: Bilinçli Tüketici

Test No	Sayfa No
1.....	194
2.....	197

7

Ünite: Basit Elektrik Devreleri

Test No	Sayfa No
1.....	200
2.....	203
3.....	206

SOSYAL BİLGİLER

1

Ünite: Birey ve Toplum

Test No	Sayfa No
1.....	210
2.....	213

2

Ünite: Kültür ve Miras

Test No	Sayfa No
1.....	216
2.....	219
3.....	222
4.....	225

3

Ünite: İnsanlar, Yerler ve Çevreler

Test No	Sayfa No
1.....	228
2.....	231
3.....	234
4.....	237

4

Ünite: Bilim, Teknoloji ve Toplum

Test No	Sayfa No
1.....	240
2.....	243
3.....	246

5

Ünite: Üretim, Dağıtım ve Tüketim

Test No	Sayfa No
1.....	249
2.....	252
3.....	255
4.....	258

6

Ünite: Etkin Vatandaşlık

Test No	Sayfa No
1.....	261
2.....	264

7

Ünite: Küresel Bağlantılar

Test No	Sayfa No
1.....	267
2.....	270

İNGİLİZCE

1

Ünite: Classroom Rules

Test No	Sayfa No
---------	----------

1.....	274
2.....	277

2

Ünite: Nationality

Test No	Sayfa No
---------	----------

1.....	280
2.....	283

3

Ünite: Cartoon Characters

Test No	Sayfa No
---------	----------

1.....	286
2.....	289

4

Ünite: Free Time

Test No	Sayfa No
---------	----------

1.....	292
2.....	295

5

Ünite: My Day

Test No	Sayfa No
---------	----------

1.....	298
2.....	301

6

Ünite: Fun with Science

Test No	Sayfa No
---------	----------

1.....	304
2.....	307

7

Ünite: Jobs

Test No	Sayfa No
---------	----------

1.....	310
2.....	313

8

Ünite: My Clothes

Test No	Sayfa No
---------	----------

1.....	316
2.....	319

9

Ünite: My Friends

Test No	Sayfa No
---------	----------

1.....	322
2.....	325

10

Ünite: Food and Drinks

Test No	Sayfa No
---------	----------

1.....	328
2.....	331

1. I. El kazanı ile aş kaynamaz.
II. Elden gelen öğün olmaz, o da vaktinde bulunmaz.
III. Bir el bir eli yıkar, iki el bir yüzü yıkar.
IV. El atına binen, tez iner.

Numaralanmış atasözlerinden hangisi anlam bakımından diğerlerinden farklıdır?

- A) I B) II C) III D) IV

2. Paraya kıyıp kaliteli bir çanta alsaydın şimdi böyle çantasız kalmazdın.

Bu cümledeki “paraya kıymak” sözcüğünün anlamı aşağıdakilerden hangisidir?

- A) Para biriktirmek
B) Para kazanmak
C) Para kaybetmek
D) Para harcamak

3. Açsam rüzgâra yelkenimi;
Dolaşsam ben de deniz deniz

Bu dizelerdeki “açmak” sözcüğünün anlamı aşağıdaki cümlelerin hangisinde kullanılmıştır?

- A) Kapıyı açınca bir de ne göreyim, teyzem karşımda!
B) Görevliler karla kaplı yolu açınca yolcular rahat bir nefes aldı.
C) Çantasını açıp belgelerini kontrol etti.
D) Başkan geldi ve toplantıyı açtı.

4. Aşağıdaki cümlelerin hangisinde “yapıştırmak” sözcüğü mecaz anlamıyla kullanılmıştır?

- A) Çocuk geri kalır mı, cevabı yapıştırdı hemen.
B) Biblonun kopan parçasını yapıştırdı ama biblo eskisi gibi sağlam olmadı.
C) Yanağını annesinin yüzüne yapıştırıp sakinleşti.
D) Avuçlarımızı karşımızdakinin avuçlarına yapıştırıp oyuna başladık.

5. Aşağıdaki altı çizili deyimlerden hangisinin anlamı cümlede yanlış kullanılmıştır?

- A) Yeni işine dört elle sarılmasından memnunuz. (Bir işe önem vererek girişmek)
B) Merve'nin bu kadar içten pazarlıklı biri olduğunu bilmiyordum. (Kinini içinde saklayan, yapacağı kötülüğü sezdirmeyen)
C) Desene Ahmet hapı yuttu, haberi yok. (İyileşmek, hastalıktan kurtulmak)
D) Durumun böyle olduğu su götürmez. (Yoruma açık olmayan, kesin)

5, 6 ve 7. soruları metne göre yanıtlayın.

Tilki ile kedi bahçede sohbet ediyorlarmış. Tilki bir sürü oyun ve hile bildiğini söyleyip övünüyor. Kedi: “Ben fazla oyun bilmem ki!” demiş. “Düşmanlarımın elinden kaçmak için kaçırım.” Biraz sonra bir sürü köpek, onlara doğru hızla koşmaya başlamış. Kedi hemen bir ağaca tırmanarak saklanmış. Tilki ise “Acaba şu hileyi mi yapsam yoksa öbür hileyi mi?” diye düşünmeye başlamış. Bu sırada köpekler tilkinin çevresini sarmış. Olanları yukarıdan izleyen kedi, çok hile bilmediğine sevinmiş.

5. Bu metnin ana fikri aşağıdakilerden hangisidir?

- A) Tilki çok kurnaz bir hayvandır.
- B) Kediler bencil ve korkaktırlar.
- C) Düşmanlarımıza karşı dikkatli olmalıyız.
- D) Çok şey bilmek bizi her zaman kurtarmaz.

6. Bu metinde aşağıdakilerden hangisi yoktur?

- A) Zaman
- B) Kişiler
- C) Yer
- D) Olay

7. Aşağıdakilerin hangisi metindeki tilkinin özelliğidir?

- A) Kararsız
- B) Zeki
- C) Bilgili
- D) Yardımsever

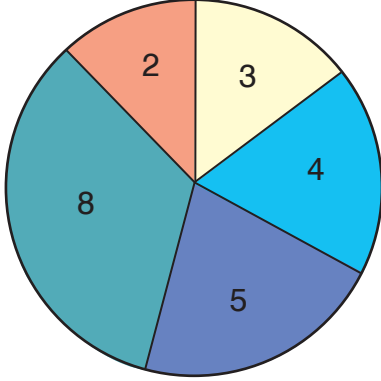
8. Hiç kimse kendini yazamaz. Çünkü kendimi yazıyorum derken ya iyice yana çekilir, kendini anlatıyormuş gibi özlediği, olmak istediği kişiyi anlatır ya da gereğinden fazla yargılar kendini. Hak ettiğinden fazla sorguya çeker, üstelik suçlu çıkarır. Dışarıdan bakan biri yazarın kendisine karşı böylesine acımasız olabileceğini düşünemez ve yazdıklarının doğru olduğuna hemen inanır.

Bu metnin ana düşüncesi aşağıdakilerden hangisidir?

- A) Kişinin kendisini gerçekçi bir şekilde anlatması mümkün olmaz.
- B) Kendimizi anlatmak yerine başkalarının bizi anlatmasını tercih etmeliyiz.
- C) Herkes kendisine olduğundan fazla değer vermeli.
- D) İnsanlar alçakgönüllü olmalı.

6 ve 7. soruları grafiğe göre yanıtlayın.

Grafikte 4B sınıfındaki öğrencilerin okuldaki kulüplere dağılımı gösterilmiştir.



6. Hangi iki kulübün toplam öğrenci sayısı, basketbol kulübündeki öğrenci sayısına eşittir?

- A) Voleybol ve resim
- B) Fotoğrafçılık ve resim
- C) Voleybol ve müzik
- D) Fotoğrafçılık ve müzik

7. Spor kulüplerini seçen öğrencilerin toplamı, hangi kulüplerdeki öğrencilerin toplamına eşittir?

- A) Müzik ve resim kulüpleri
- B) Müzik ve fotoğrafçılık kulüpleri
- C) Fotoğrafçılık ve resim kulüpleri
- D) Fotoğrafçılık, müzik ve resim kulüpleri

8. Etkin dinlemek, göz teması kurarak, duygularını adlandırarak, karşındakine "beni anlıyor" hissini uyandırarak gerçekleştirilen dinlemedir. Anlaşıldığını, dinlenildiğini hisseden kişi, kendini daha iyi ifade edecek, daha fazla paylaşımda bulunacaktır.

Aşağıdaki görsellerin hangisinde etkin dinleme yapılmamaktadır?

A)



B)



C)



D)



6. **Tablo:** İlçelere Göre Nüfus Bilgileri

İlçeler	Nüfus
Buca	492 252
Çeşme	41 278
Karşıyaka	342 062
Bornova	442 839

Tablo, İzmir ilindeki bazı ilçelerin nüfusunu göstermektedir.

Bu ilçelerin nüfuslarına göre sıralaması aşağıdakilerden hangisinde doğru olarak verilmiştir?

- A) Buca > Karşıyaka > Bornova > Çeşme
 B) Çeşme < Karşıyaka < Buca < Bornova
 C) Çeşme < Karşıyaka < Bornova < Buca
 D) Buca < Bornova < Karşıyaka < Çeşme

7.



Şekildeki hesap makinesinde 9, 7, 4 ve 3 rakamlarının bulunduğu tuşlar bozuktur.

Bozuk olmayan sarı renkli tuşlar birer kez kullanılarak yazılabilen en büyük sayının birler bölümündeki rakamların toplamı kaçtır?

- A) 3 B) 7 C) 8 D) 19

8. Aylin defterine rakamları toplamı 2 olan altı basamaklı en küçük doğal sayıyı yazıyor.

Bu sayının çözümlenmiş hâli aşağıdakilerden hangisidir?

- A) 1 yüz binlik + 1 on binlik
 B) 1 yüz binlik + 1 birlik
 C) 2 yüz binlik
 D) 1 yüz binlik + 2 on binlik

9. **Aşağıdaki sayılardan hangisinin en yakın yüzlüğe yuvarlanmış hâli ile en yakın onluğa yuvarlanmış hâli aynı sayıya eşittir?**

- A) 5889 B) 1014
 C) 8440 D) 3202

10.

828 701

Verilen sayı ile ilgili aşağıdakilerden hangisi yanlıştır?

- A) Onlar basamağında bulunan rakamının basamak değeri 0'dır.
 B) Yüz binler ve yüzler basamağında ki rakamları aynıdır.
 C) Binler bölümünde bulunan rakamların toplamı 18'dir.
 D) 2 rakamının basamak değeri 20 000'dir.

12. **Tablo:** Beyaz Eşyalar ve Fiyatları

Beyaz Eşyalar	Fiyatları (lira)
Buzdolabı	3325
Çamaşır Makinesi	1751
Fırın	2560

Yeni taşınacağı ev için buzdolabı, çamaşır makinesi ve fırın almak isteyen Utku Bey, beğendiği ürünlerin fiyatları ile yukarıdaki tabloyu oluşturmuştur.

Utku Bey bu ürünler için toplam kaç lira öder?

- A) 7636 B) 7536
C) 6636 D) 6536

13. 5951 → 6051 → 6151 → 6251 → 6351

Rüya, iki doğal sayıyı zihinden toplamak için verilen ritmik saymayı yapıyor.

Buna göre aşağıdakilerden hangisi doğrudur?

- A) Rüya, 6351 ile 400'ü toplamıştır.
B) Rüya'nın toplamlarını bulduğu sayılar 5951 ve 400'dür.
C) Rüya $5951 + 6351$ işlemini zihinden yapmıştır.
D) Rüya, 5951 sayısından ileriye doğru 6 adım yüzer ritmik saymıştır.

14. Bir fabrikada pazartesi günü 2408 m, salı günü 950 m kumaş üretilmiştir. Çarşamba günü ise pazartesi günü üretilen kumaş miktarından 519 m daha fazla kumaş üretilmiştir. Salı, perşembe ve cuma günleri üretilen kumaş miktarları ise birbirine eşittir.

Bu fabrikada hafta sonu kumaş üretimi yapılmadığına göre bir haftada toplam kaç metre kumaş üretilmiştir?

- A) 8195 B) 8185
C) 5777 D) 5757

15.



298 TL



324 TL

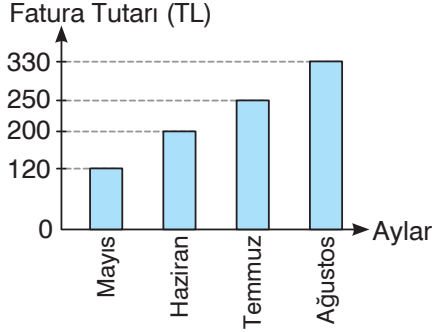
Selin yukarıda fiyatları verilen ürünlerden birer tane aldığında toplam kaç lira ödeyeceğini tahmin etmek için ürünlerin fiyatlarını en yakın oldukları onluğa yuvarlayarak toplama işlemi yapıyor.

Selin'in bulunduğu tahminî toplam kaç liradır?

- A) 660 B) 610
C) 620 D) 930

1 ve 2. soruları aşağıdaki grafiğe göre yanıtlayın.

Grafik: Aylara Göre Elektrik Faturası Tutarları



Grafikte bir evin dört aydaki elektrik faturalarının tutarları gösterilmektedir.

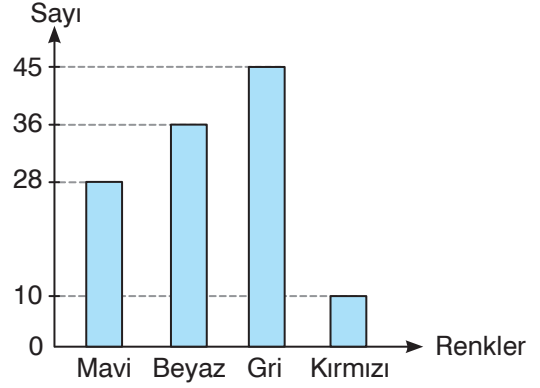
1. Temmuz ayına ait fatura tutarı ile mayıs ayına ait fatura tutarının toplamı kaç liradır?

- A) 580 B) 450
C) 370 D) 320

2. Aşağıdaki ifadelerden hangisi doğrudur?

- A) Haziran ve temmuz ayındaki faturaların toplam tutarı, mayıs ve ağustos ayındaki faturaların toplam tutarına eşittir.
B) Ağustos ayındaki fatura tutarı, temmuz ayındaki fatura tutarından 120 TL fazladır.
C) Dört aydaki faturaların toplam tutarı 800 TL'dir.
D) Mayıs ayındaki fatura tutarı, haziran ayındaki fatura tutarından çoktur.

3. Grafik: Otoparktaki Otomobillerin Renklerine Göre Sayıları

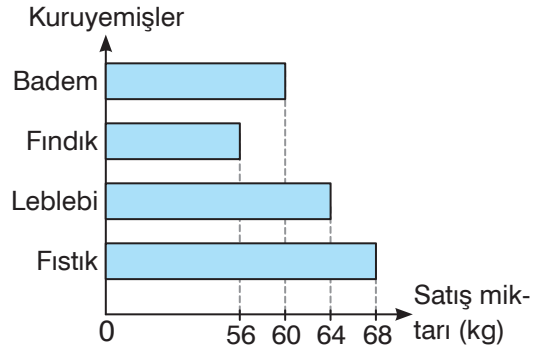


Grafik, bir otoparkta bulunan otomobillerin renklerine göre sayılarını göstermektedir.

Buna göre gri renkli arabaların sayısı mavi renkli arabaların sayısından kaç fazladır?

- A) 9 B) 17 C) 18 D) 35

4. Grafik: Kuruyemiş Çeşitlerine Göre Satış Miktarı



Bir kuruyemişçide bir haftada satılan kuruyemiş miktarları grafikte verilmiştir.

Buna göre aşağıdakilerden hangisi yanlıştır?

- A) Toplam 248 kg kuruyemiş satılmıştır.
B) En az satılan ürün fındıktır.
C) En fazla satılan ürün fıstıktır.
D) Satılan badem miktarı, leblebi miktarından 4 kg daha fazladır.

1. Kayaçlar ile ilgili aşağıdaki bilgilerden hangisi yanlıştır?

- A) Dünya'nın ateş küre katmanında bulunurlar.
- B) Bir ya da birden fazla mineralin birleşmesiyle oluşurlar.
- C) Zamanla parçalanarak kum haline gelebilirler.
- D) Yapısındaki mineral çeşidine göre farklı özelliğe sahip olabilirler.

2. Ekonomik değeri yüksek olan kayaçlara denir.

Yukarıdaki bilgideki boşluğa aşağıdakilerden hangisi gelmelidir?

- A) Kaya
- B) Maden
- C) Çakıl
- D) Kum

3. I. Çok uzun yıllarda oluşur.
II. Taş ve toprakla karışık olarak çıkarılır.
III. Yalnızca ısınma amacıyla kullanılırlar.

Madenler ile ilgili verilen bilgilerden hangileri doğrudur?

- A) Yalnız II
- B) I ve II
- C) I ve III
- D) I, II ve III

4.



Bor

Verilen maden ile ilgili aşağıdakilerden hangisi yanlıştır?

- A) Isıya dayanıklı cam yapımında kullanılır.
- B) Uçak yakıtlarında kullanılır.
- C) Ev ve iş yerlerinde ısınma amacıyla kullanılır.
- D) Temizlik ürünlerinde bor bileşiklerinden yararlanılır.

5.



Jeolojik geçmişte yaşamış canlı kalıntlarına fosil denir.

Buna göre fosiller ile ilgili aşağıdaki bilgilerden hangisi yanlıştır?

- A) Fosiller, oluştukları yer ve zamana ait iklim gibi coğrafya şartları hakkında bilgi verir.
- B) Canlıların yaşadıkları dönemlerden yola çıkarak fosil bulunan sahanın olduğu jeolojik zaman bilinebilir.
- C) Kayaçlar, deniz dipleri, ağaç reçinelerin veya buzullarda fosillere rastlayabiliriz.
- D) Fosilleri inceleyen bilim adamlarına jeolog denir.

6. I. Çam reçineleri
II. Kayaların içi
III. Deniz dipleri

Yukarıda verilen yapıların hangilerinde fosilleşme gerçekleşir?

- A) I ve II B) I ve III
C) II ve III D) I, II ve III

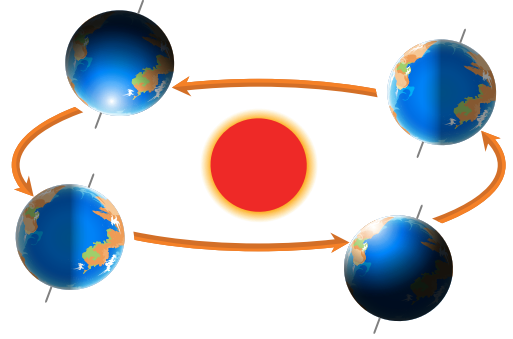
7. Güneş'in her gün doğudan doğup batıdan batmasının nedeni aşağıdakilerden hangisidir?

- A) Dünya'nın şekli
B) Dünya'nın kendi eksenini etrafında dönmesi
C) Dünya'nın Güneş'in etrafında dolanma hareketi yapması
D) Dünya'nın Güneş etrafındaki eliptik yörüngesi

8. Fosiller ile ilgili aşağıdakilerden hangisi yanlıştır?

- A) Canlıların bıraktığı izler de fosil olarak kabul edilir.
B) Canlıların yaşadığı bölgenin iklim koşulları hakkında bilgi verir.
C) Fosiller hakkında araştırma yapan bilim insanlarına meteorolog denir.
D) Soyları tükenen canlılar hakkında bilgi verir.

9.



Dünya Güneş etrafındaki dolanımını 365 gün 6 saatte tamamlar. 6 saati takvime eklemek için 4 yılda bir şubat ayı 29 gün çeker. Bu yıllara artık yıl denir.

Buna göre 2019 yılından sonra yaşayacağımız ilk artık yıl aşağıdakilerden hangisidir?

- A) 2020 B) 2022
C) 2024 D) 2026

10.



Dünya'nın şekilde verilen hareketinin sonucunda aşağıdakilerden hangisi oluşur?

- A) 24 saat B) 7 gün
C) 4 hafta D) 1 yıl

1. Aşağıdakilerden hangisi kuvvetin cisimler üzerindeki etkilerinden değildir?

- A) Yön değiştirme
- B) Hızlandırma
- C) Eritme
- D) Durdurma

2. Aşağıdaki durumlardan hangisinde kuvvet cismin yavaşlamasına neden olmuştur?

- A) Yarışı bitiren atlet
- B) Duraktan kalkan otobüs
- C) Yokuş aşağı yuvarlanan top
- D) Yeşil ışıkta harekete başlayan otomobil

3.



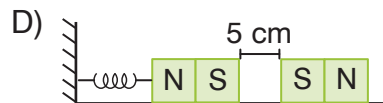
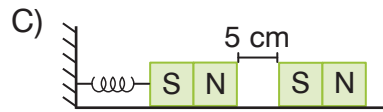
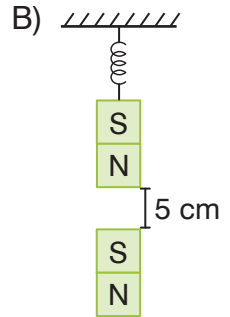
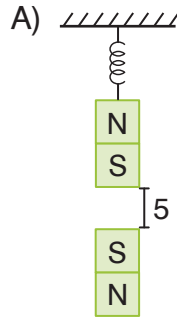
Tenis oynarken topu karşılayan Ayşe kuvvet uyguladığı topa aşağıdaki etkilerden hangisini gözlemler?

- A) Sallanma
- B) Yön değiştirme
- C) Yavaşlatma
- D) Şekil değiştirme

4. Mıknatıs aşağıda verilen cisimlerden hangisine etki etmez?



5. Özdeş yay ve mıknatıslardan oluşan aşağıdaki sistemlerde mıknatısların etkisiyle uzama miktarı en fazla olan yay aşağıdakilerden hangisidir?



1. Toplumsal yaşamda bizi diğer insanlardan ayıran şeylerden biri de kimlik kartlarımızdır. Kimlik kartlarımız geçmişten bugüne dönemin ihtiyaçlarına göre değişime uğramıştır.

Bu durumun temel nedenleri arasında aşağıdakilerden hangisi yer almaz?

- A) Güvenli kimlik uygulaması sağlayabilmek
B) E-Devlet uygulaması ile resmi işleri hızlıca yapabilmek
C) Sürücü belgesi olarak kullanabilmek
D) Seyahat Belgesi olarak kullanabilmek

2. Sosyal bilgiler dersi öğrencilerin bir birey olarak hak, ödev ve sorumluluklarının bilincinde olmasını sağlar ve toplumsal hayata hazırlar.

Buna göre aşağıdakilerden hangisi sosyal bilgiler dersinin bireye kazandırdığı olumlu davranışlardan biri değildir?

- A) İslam dininin manevi değerlerini öğrenmeyi sağlar.
B) Kültürüne özgü dil ve tarih bilinci oluşturur.
C) İnsan Hakları konusunda duyarlılık kazandırır.
D) Sorunlara akılcı çözüm üretme bilinci kazandırır.

3. • Yurt dışına çıkışlarda kullanılan belgedir.
• 18 yaşını dolduran vatandaşların motorlu taşıtları kullanmak amacıyla aldıkları belgedir.
• Türkiye Cumhuriyeti Kimlik Kartını aldığımız resmi kurumdur.

Aşağıdakilerin hangisi ile ilgili bir açıklama verilmemiştir?

- A) Nüfus Müdürlüğü
B) T.C. Kimlik Kartı
C) Pasaport Belgesi
D) Sürücü Belgesi

4. Bireyler arasında;

- I. İlgi ve yetenekler
II. Aile biçimleri
III. Fiziksel yapıları

gibi özelliklerden hangileri farklıdır?

- A) I ve II
B) I ve III
C) II ve III
D) I, II ve III

5.

Yürümeyi öğrenmek

Birinci sınıfa gitmek

Kreşe başlamak

Verilenler aşağıdakilerin hangisinde kronolojik olarak sıralanmıştır?

- A) Yürümeyi öğrenmek- Birinci sınıfa gitmek-Kreşe başlamak
B) Kreşe başlamak- Yürümeyi öğrenmek- Birinci sınıfa gitmek
C) Yürümeyi öğrenmek-Kreşe başlamak-Birinci sınıfa gitmek
D) Birinci sınıfa gitmek- Yürümeyi öğrenmek- Kreşe başlamak

6. Bir kimsenin bir şeyi anlama veya yapabilme özelliğine yetenek denir.

Aşağıdakilerin hangisi verilen açıklamaya uygun bir örnektir?

- A) Ayşe'nin odasında çiçek yetiştirilmesi
B) Mehmet'in kısa sürede gitar çalmayı öğrenmesi
C) Pelin'in barınak hayvanlarını ziyaret ederek onlarla ilgilenmesi
D) Emel'in yeni İngilizce sözcükleri öğrenmekten keyif alması

7. Bireysel farklılık; bir bireyi diğerinden ayıran kendine özgü nitelikleri ifade eder.

Buna göre aşağıdakilerden hangisi bireysel farklılıklarımızdan biri değildir?

- A) Göz rengi
B) Duygusal özellikler
C) Başarılı olma isteği
D) Uyuma ihtiyacı

8. Sosyal bir varlık olan insan toplu halde yaşama ihtiyacı hissetmiş ve bu durum beraberinde toplumsal dayanışmayı getirmiştir.

Buna göre aşağıdaki atasözlerinden hangisi toplumsal dayanışmanın önemini vurgulamaz?

- A) Damlaya damlaya göl olur.
B) Bir elin nesi var iki elin sesi var.
C) Birlikten kuvvet doğar.
D) Yalnız taştan duvar olmaz.

9. I. Ceren silgisini evde unutan sıra arkadaşına kendi silgisini ödünç olarak vermiştir.
II. Ozan arkadaşı Mehmet'e lakap taktığında onun mutsuz olabileceğini düşünerek bu davranışından vazgeçmiştir.

Buna göre;

- I. I numaralı cümle yardımlaşma davranışına örnek oluşturur.
II. I ve II numaralı cümleler empati davranışına örnek oluşturur.
III. II numaralı cümle yardımlaşma davranışına örnek oluşturur.

İfadelerinden hangilerine ulaşılabilir?

- A) I ve II
B) Yalnız III
C) I ve III
D) I, II ve III

10.

		D	Y
I.	Farklılıklara karşı saygılı olmak insanları farklı yönleri ile sevmek demektir.	✓	
II.	Rüya'nın boş zamanlarında resim yapması onun bu alanda yeteneği olduğunu gösterir.	✓	
III.	Empati, bir kişinin yaşadığı duygu durumunu anlamak için onun yerine kendini koymaktır.		✓

Verilen doğru-yanlış çalışmasındaki işaretlemelerden hangileri doğrudur?

- A) I ve II
B) I ve III
C) II ve III
D) I, II ve III

11. İlgi ve yeteneklerine uygun işlerde çalışan insanlar üretimde verimliliği ve kaliteyi artırır. Bu durum ülke ekonomisinin gelişmesine yardımcı olur.

Buna göre aşağıdaki yorumlardan hangisi yapılamaz?

- A) İlgi ve yeteneklerimize uygun bir meslek seçmeliyiz.
- B) İlgi ve yetenekleri belirleyen en önemli şey zekadır.
- C) Her bireyin sevdiği ve ilgi duyduğu mesleği yapması ekonomiyi olumlu etkiler.
- D) İlgi ve yeteneklerine uygun olmayan işlerde çalışmak mutsuzluk kaynağıdır.

12. I. Her bireyin T.C. Kimlik numarasının farklı olması
 II. Mustafa ve Mehmet'in ikiz olmalarına rağmen parmak izlerinin farklı olması
 III. Deniz gitar çalmayı seviyorken, kardeşi Azra'nın voleybol oynamaktan keyif alması
 IV. Ezgi'nin sarı, Banu'nun kahverengi saçlı olması

Verilen ifadelerden hangisi ilgi ve yetenekler kapsamında değerlendirilir?

- A) I B) II C) III D) IV

13.



Verilen görsele göre engelli bireyler ile ilgili aşağıdakilerden hangisine ulaşılabilir?

- A) Toplum tarafından dışlandıklarına
- B) Toplumsal hayatta yapılan düzenlemeler ile eşitliğin sağlandığına
- C) Toplumsal hayatta ayrıcalıklı olduklarına
- D) Eğitim ve öğretim hakkında yararlandıklarına

14.



Verilen görsele göre;

- I. İnsanlar birbirinden farklı özelliklere sahiptir.
 - II. Her birey kendini önemsemelidir.
 - III. Birlikte olmak insanları mutlu eder.
- İfadelerinden hangisi söylenebilir?**

- A) I ve II B) II ve III
 C) I ve III D) I, II ve III

15.



Verilen görsel;

- I. Empati
 - II. Bireysel farklılık
 - III. Kronoloji
- İfadelerinden hangileriyle ilişkilidir?**

- A) Yalnız II B) I ve II
 C) I ve III D) I, II ve III

(1-10. sorularda boşluklara uygun olan seçeneği işaretleyin)

1.



Sandra: May I come in?

Ms. Sam: _____ 😊

- A) I'm sorry.
- B) No, you can't.
- C) Not right now.
- D) Of course, you can.

2.



Jackie: Give me that book, please.

Michelle: _____ 😊

- A) No, I can't.
- B) Again, please?
- C) Sure, here you are.
- D) I don't think so.

3.



Look _____ the board, please.

- A) at
- B) in
- C) on
- D) to

4.

Go _____ to your place, please.

- A) from
- B) out
- C) back
- D) into

5.

leave x _____

- A) turn
- B) take
- C) join
- D) stay

6. Give me the _____, please.

- A) pencil B) classroom
C) students D) window

7. Open _____ window, please.

- A) the B) at
C) in D) on

8. _____ the blackboard,
please.

- A) Join B) Clean
C) Look D) Take

9. fifteen - ____ seventeen - ____

- A) eighteen / sixteen
B) nineteen / sixteen
C) sixteen / eighteen
D) sixteen / nineteen



twenty - _____ - _____ - fifty

- A) forty / thirty
B) ten / thirty
C) thirty / forty
D) thirty / ten

11. Larissa: May I go out?

Ms. Ally: _____.

Aşağıdakilerden hangisi diyalogu anlamca diğerlerinden farklı tamamlar?

- A) Sure!
- B) Yes, you may.
- C) Of course.
- D) Sorry, not now.

12.

Classroom Rules:

- Be quiet
- Listen to the teacher
- _____

Aşağıdakilerden hangisi tabloyu doğru tamamlar?

- A) Look at the board
- B) Leave the classroom
- C) Go back home
- D) Clean the bedroom

13. Aşağıdakilerden hangisi okul kurallarına göre doğrudur?

- A) You can eat in the classroom.
- B) You can run in the classroom.
- C) You can drink in the classroom.
- D) You can look at the board in the classroom.

14.

May I play with you?

Aşağıdakilerden hangisi bu sorunun cevabı olamaz?

- A) Of course.
- B) Sure.
- C) Yes, you may.
- D) Here it is.

15. Aşağıdaki zıt anlamlı sözcük eşleştirmelerinden hangisi doğrudur?

- A) turn on x turn off
- B) clean x leave
- C) come in x stay
- D) take x go out