

TÜRKÇE
MATEMATİK
HAYAT BİLGİSİ

2
SINIF

108 Test
1083 Soru

TÜM DERSLER TEKRAR TESTLERİ

- ✓ Kazanım Tekrar Testleri
- ✓ Ünite Tekrar Testleri
- ✓ Dönem Tekrar Testleri
- ✓ Genel Tekrar Testleri

BlokTest®

TÜRKÇE
MATEMATİK
HAYAT BİLGİSİ

TÜM DERSLER TEKRAR TESTLERİ

2.SINIF
TÜM DERSLER TEKRAR TESTLERİ

©Tudem Eğitim Hiz. San. ve Tic. AŞ
1476/1 Sokak No: 10/51 Alsancak / Konak / İZMİR

YAZARLAR: Tudem Yazı Kurulu
DİZGİ VE GRAFİK: Tudem Grafik Ekibi

BASKI VE CİLT: Ertem Basım Yayın Dağıtım San. Tic. Ltd. Şti.
Eskişehir Yolu 40. km Başkent OSB 22. Cadde No: 6 Malıköy / ANKARA
0 312 284 18 14

ISBN: 978-975-2418-99-8
YAYINEVİ SERTİFİKA NO: 45041
MATBAA SERTİFİKA NO: 16031

Tüm hakları saklıdır.
Bu yayının hiçbir bölümü, telif hakkı sahibinin önceden yazılı izni olmaksızın
tekrar üretilemez, bir erişim sisteminde tutulamaz, herhangi bir biçimde
elektronik, mekanik, fotokopi, kayıt ya da diğer yollarla iletilemez.

www.bloctest.com



MOBİL ÖLÇME

BlokTest®

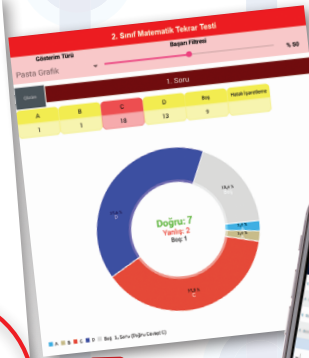

**OKUMA VE ÖLÇMEDE
YENİ DÖNEM !**

Sınıfta öğretilenleri test ile sınanan ve pekiştiren öğretmenlerin işi artık çok kolay! Ölçme sürecinin hatasız bir şekilde en kısa sürede gerçekleşmesi için Tudem, dijital bir yardımcıyı tamamen ücretsiz olarak öğretmenlerin hizmetine sunuyor: **BlokTest Mobil Ölçme!**

BlokTest®

10X20
**TEKRAR
TESTLERİ**

Tekrar Testleri ve **10x20 Kazanım Pekiştirme Denemeleri Seti**'ni sınıfında kullanan öğretmenler, yeni mobil uygulama **Bloktest Mobil Ölçme** ile öğrencilerin doğru ve yanlış cevap sayısını saniyeler içinde ölçecek. Çek-kopar formatındaki testlerin sonuna eklenen optik forma öğrenciler yanıtlarını işaretleyecek; öğretmenler de yanıtları telefonlarına indirdikleri **Mobil Ölçme** ile okutacak.



Öğrencinin gelişimini takip etmek çok kolay!

Öğretmenler için öğrencilerin zaman içindeki gelişimlerini takip etmek ve değerlendirmek çok kolay!

- ✓ Uygulamayı ücretsiz indir
- ✓ Optik formu okut
- ✓ Sonucu öğren
- ✓ Öğrencinin gelişimini izle
- ✓ Sınıfın durumunu gör



www.mobilolcme.com

App Store

Google Play



Sevgili Öğrenciler,

Eğitimin evrensel prensibi şudur:


“Öğrenilen bilgiyi kullanılabilir hâle getirmek için tekrar gereklidir.”


Bu kitap, eğitimin evrensel prensibini yerine getirmeniz amacıyla hazırlanmıştır.

Kitapta 4 tip test vardır:

- 1. Kazanım Tekrar Testleri (KTT)** : Kazanımları tekrar ettirerek bilginin pekiştirilmesini sağlar.
- 2. Ünite Tekrar Testleri (ÜTT)** : Üniteye ait Kazanım Tekrar Testleri bittikten sonra çözülecektir. Hazırlanış amacı, o üniteye ait bilgileri kullanılabilir hâle getirmektir.
- 3. Dönem Tekrar Testleri (DTT)** : 1. dönem ve 2. dönem olarak iki çeşittir. Dönemi değerlendirme amaçlıdır.
- 4. Genel Tekrar Testleri (GTT)** : Öğretim yılı sonuna doğru çözülecek testlerdir. Bunlar sınav amaçlıdır.

Elinizdeki kitabın tüm sayfaları perforajlıdır. Çekip koparabilirsiniz. Böylece kitabı yaprak test olarak kullanabileceğiniz gibi, sayfaları koparmayarak soru bankası kitabı olarak da kullanabilirsiniz.



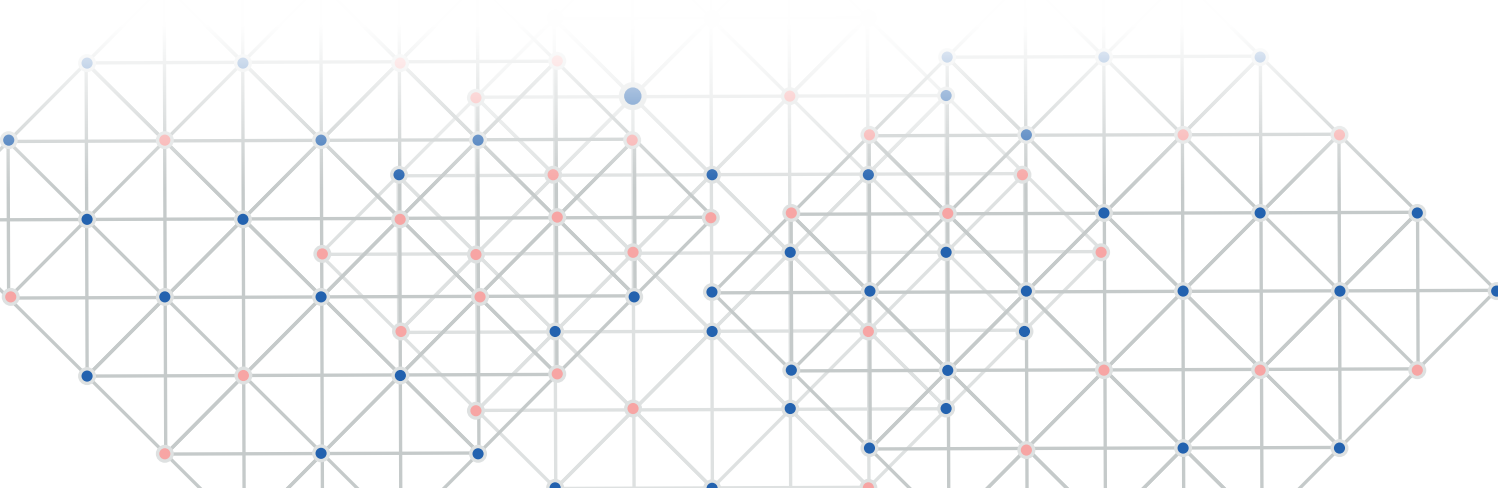


TÜRKÇE

NEZAKET KURALLARI, HARF VE HECE BİLGİSİ, SÖZLÜK SIRASI, NOKTA (.) VE KISA ÇİZGİ (-), ŞİİR, HAYAL VE GERÇEK	5-12
SÖZCÜĞÜN ANLAMI, VİRGÜL (,), HİKÂYE	13-22
CÜMLE BİLGİSİ, BÜYÜK HARFLER, KESME İŞARETİ (')	23-32
EŞ ANLAMLI SÖZCÜKLER, SORU İŞARETİ (?), SORU EKİ	33-42
Dönem Tekrar Testleri	43-46
CÜMLE BİLGİSİ, BÜYÜK HARFLER, KESME İŞARETİ (')	47-52
OKUDUĞUNU ANLAMA, ÜNLEM İŞARETİ (!)	53-60
GÖRSEL OKUMA, YAZIM KURALLARI VE NOKTALAMA İŞARETLERİ	61-66
OKUMA VE YAZMA ÇALIŞMALARI, İŞARETLER VE SEMBOLLER	67-72
Dönem Tekrar Testleri	73-76
Genel Tekrar Testleri	77-80

MATEMATİK

DOĞAL SAYILAR, DOĞAL SAYILARLA TOPLAMA İŞLEMİ, DOĞAL SAYILARLA ÇIKARMA İŞLEMİ	81-92
DOĞAL SAYILARLA TOPLAMA İŞLEMİ, DOĞAL SAYILARLA ÇIKARMA İŞLEMİ, SIVI ÖLÇME	93-104
GEOMETRİK CİSİMLER VE ŞEKİLLER, UZAMSAL İLİŞKİLER, GEOMETRİK ÖRÜNTÜLER	105-112
Dönem Tekrar Testleri	113-116
DOĞAL SAYILARLA ÇARPMA İŞLEMİ, DOĞAL SAYILARLA BÖLME İŞLEMİ	117-128
KESİRLER, ZAMAN ÖLÇME, PARALARIMIZ	129-138
VERİ TOPLAMA VE DEĞERLENDİRME, UZUNLUK ÖLÇME, TARTMA	139-148
Dönem Tekrar Testleri	149-152
Genel Tekrar Testleri	153-156
HAYAT BİLGİSİ	
OKULUMUZDA HAYAT	157-166
EVİMİZDE HAYAT	167-174
SAĞLIKLI HAYAT	175-182
Dönem Tekrar Testleri	183-186
GÜVENLİ HAYAT	187-194
ÜLKEMİZDE HAYAT	195-204
DOĞADA HAYAT	205-212
Dönem Tekrar Testleri	213-216
Genel Tekrar Testleri	217-220
YANIT ANAHTARI	221



1. Aşağıdaki sözcüklerden hangisi hecelerine yanlış ayrılmıştır?

- A) Kah - val - tı
- B) El - di - ven
- C) Bal - ık - çı

2. Aşağıdaki durumların hangisinde karşımızdakinden özür dileriz?

- A) Birine çarpınca
- B) Selamlaşırken
- C) Karnımız acıkınca

3.

1. Kristal

2. Kitap

3. Elektrik

Numaralanmış sözcüklerden hangilerinin hece sayısı eşittir?

- A) 1 ve 2
- B) 1 ve 3
- C) 2 ve 3

4. 1. par - ko - mak
2. ka - lik -lem
3. za - ko - lak

Heceleri karışık verilen numaralanmış sözcüklerden hangisi sözlükte diğerlerinden sonra gelir?

- A) 1 B) 2 C) 3

5. Aşağıdaki cümlelerin hangisinde hayal ürünü bir durum vardır?

- A) Bir süre daha kitap okuyacağım.
- B) Dağ ortadan yarılınca içinden altınlar çıkmış.
- C) İleride bir roman yayımlayacakmış.

6. O yıl kış uzun sürdü. Ulu çınar kesilirken öyle bir ah etti ki günlerce soğuk rüzgârlar toprağı dondurdu. Öfkeyle çatıları uçurdu.

Bu paragrafta gerçek olan olay aşağıdakilerden hangisidir?

- A) Kışın uzun sürmesi
- B) Ulu çınarın ah etmesi
- C) Rüzgârın öfkelenmesi

Ünite Tekrar Testi 1

6. 1. Merdiven
2. Merdane
3. Misket

Bu sözcüklerin sözlük sıralaması aşağıdakilerden hangisidir?

- A) 1 – 2 – 3
B) 2 – 1 – 3
C) 3 – 1 – 2

7. Büyükanem, üç ayda bir maaş alırdı. Maaş aldığı gün hepimize hediye alırdı. Dört çocuğu vardı. Her çocuğunda üç ay kalırdı. Bazen de memleketine giderdi. **Bu metinde iki heceli kaç tane sözcük vardır?**


- A) 3 B) 4 C) 5

8. Aşağıdaki görsellerin hangisinde nezaket kurallarına uyulmamıştır?

A)



B)



C)




9. Aşağıdakilerin hangisinde kısa çizgi kullanılmaz?

- A) Sözcükleri hecelerine ayırmada
B) Tamamlanmış cümlelerin sonunda
C) Satır sonuna sığmayan sözcükleri bölmede

10. Aşağıdaki cümlelerden hangisinin sonuna nokta (.) geti-
rilemez?

- A) Otobüse biniyorum()
B) Tepsiyi masaya koydu()
C) Niçin bekliyorsun burada()

 BlokTest

Cevaplarınızı Bu Bölüme İşaretleyiniz

Soru	A	B	C	Soru	A	B	C
1	<input type="radio"/>	<input type="radio"/>	<input type="radio"/>	14	<input type="radio"/>	<input type="radio"/>	<input type="radio"/>
2	<input type="radio"/>	<input type="radio"/>	<input type="radio"/>	15	<input type="radio"/>	<input type="radio"/>	<input type="radio"/>
3	<input type="radio"/>	<input type="radio"/>	<input type="radio"/>	16	<input type="radio"/>	<input type="radio"/>	<input type="radio"/>
4	<input type="radio"/>	<input type="radio"/>	<input type="radio"/>	17	<input type="radio"/>	<input type="radio"/>	<input type="radio"/>
5	<input type="radio"/>	<input type="radio"/>	<input type="radio"/>	18	<input type="radio"/>	<input type="radio"/>	<input type="radio"/>
6	<input type="radio"/>	<input type="radio"/>	<input type="radio"/>	19	<input type="radio"/>	<input type="radio"/>	<input type="radio"/>
7	<input type="radio"/>	<input type="radio"/>	<input type="radio"/>	20	<input type="radio"/>	<input type="radio"/>	<input type="radio"/>
8	<input type="radio"/>	<input type="radio"/>	<input type="radio"/>	21	<input type="radio"/>	<input type="radio"/>	<input type="radio"/>
9	<input type="radio"/>	<input type="radio"/>	<input type="radio"/>	22	<input type="radio"/>	<input type="radio"/>	<input type="radio"/>
10	<input type="radio"/>	<input type="radio"/>	<input type="radio"/>	23	<input type="radio"/>	<input type="radio"/>	<input type="radio"/>
11	<input type="radio"/>	<input type="radio"/>	<input type="radio"/>	24	<input type="radio"/>	<input type="radio"/>	<input type="radio"/>
12	<input type="radio"/>	<input type="radio"/>	<input type="radio"/>	25	<input type="radio"/>	<input type="radio"/>	<input type="radio"/>
13	<input type="radio"/>	<input type="radio"/>	<input type="radio"/>	26	<input type="radio"/>	<input type="radio"/>	<input type="radio"/>

Öğrenci No

0	<input type="radio"/>	<input type="radio"/>	<input type="radio"/>	<input type="radio"/>
1	<input type="radio"/>	<input type="radio"/>	<input type="radio"/>	<input type="radio"/>
2	<input type="radio"/>	<input type="radio"/>	<input type="radio"/>	<input type="radio"/>
3	<input type="radio"/>	<input type="radio"/>	<input type="radio"/>	<input type="radio"/>
4	<input type="radio"/>	<input type="radio"/>	<input type="radio"/>	<input type="radio"/>
5	<input type="radio"/>	<input type="radio"/>	<input type="radio"/>	<input type="radio"/>
6	<input type="radio"/>	<input type="radio"/>	<input type="radio"/>	<input type="radio"/>
7	<input type="radio"/>	<input type="radio"/>	<input type="radio"/>	<input type="radio"/>
8	<input type="radio"/>	<input type="radio"/>	<input type="radio"/>	<input type="radio"/>
9	<input type="radio"/>	<input type="radio"/>	<input type="radio"/>	<input type="radio"/>

1. Aşağıdaki sözcüklerden hangisinin hece sayısı diğerlerinden fazladır?

- A)
- B)
- C)

2. Aşağıdaki cümlelerin hangisinde hayal ürünü bir durum anlatılmıştır?

- A) Yağmur yağmayınca kuraklık başlamış.
- B) Masal dinlemeyi birçok çocuk sever.
- C) Kızın saçları kesilir kesilmez tekrar uzuyormuş.

3. ♥ oynamayı

★ çok

■ basketbol

● seviyorum

Şekillerle gösterilen sözcüklerle anlamlı ve kurallı bir cümle oluşturulduğunda doğru sıralama aşağıdakilerden hangisi olur?

- A) ■ - ♥ - ★ - ●
- B) ● - ★ - ■ - ♥
- C) ♥ - ● - ■ - ★

4. Aşağıdakilerden hangisi dinleme ve konuşma kuralı değildir?

- A) Saygılı bir dil kullanmak
- B) Heceleyerek okumamak
- C) Dikkatimizi konuşan kişiye vermek

5.

Koşul – Şart

Verilen sözcükler arasındaki anlam ilişkisi aşağıdakilerin hangisinde vardır?

- A) Giriş – Çıkış
- B) Tabiat – Doğa
- C) Gece – Gündüz

6. Ecem süt içmeyi sevmiyordu. Bu yüzden boyu arkadaşları kadar uzamamıştı. Doktor, Ecem'e süt içmenin ne kadar önemli olduğunu anlattı. Ecem de süt içmeye başladı ve boyu hızla uzadı.

Bu parçada aşağıdaki hikâye unsurlarından hangisi vardır?

- A) Yer
- B) Zaman
- C) Kişi

Sonbahar geldi yazık,
Yaz uzaklaştı artık.
Tadı yok bahçelerin;
Gök puslu ... Hava serin.

Ne diyor bak!
Zavallı kuru yaprak.
Yel esti birdenbire,
Sararıp düştüm yere.

Necdet Rüştü EFE
(1, 2 ve 3. soruları şiire göre
yanıtlayın.)

1. Şiire göre aşağıdakilerden hangisi sonbahar belirtilerinden değildir?

- A) Havaların soğuması
- B) Gökyüzünün puslu olması
- C) Okulların açılması

2. Kuru yaprak ne söylüyor?

- A) Rüzgâr esince düştüğünü
- B) Sonbahara kızdığını
- C) İlkbaharı özlediğini

3. Şiire verilebilecek en uygun başlık aşağıdakilerden hangisidir?

- A) Mevsimler
- B) Küçük Yaprak
- C) Sonbahar

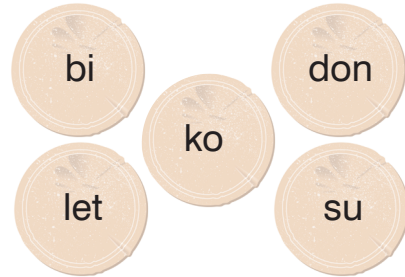
4.



Bu görsel için aşağıdakilerden hangisi söylenebilir?

- A) Kamp alanı kalabalıktır.
- B) Bir çocuk gitar çalmaktadır.
- C) Etrafta hiç hayvan yoktur.


5.



Bu hecelerle aşağıdaki sözcüklerden hangisi oluşturulamaz?

- A) bidon
- B) bilet
- C) atlet

1.



Yukarıdaki şekilde kaç tane balık vardır?

- A) 28 B) 30 C) 32

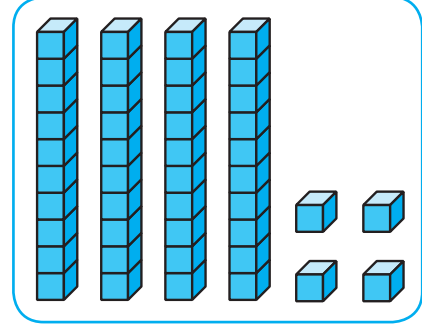
2.



Verilen şekildeki mantar sayısı ile aşağıdaki nesnelere hangisinin sayısı aynıdır?

- A) 
- B) 
- C) 

3.



Onluk ve birlik taban bloklarıyla modeli verilen sayı aşağıdakilerden hangisidir?

- A) 44 B) 45 C) 54

4. 7 onluk ve 8 birlikten oluşan sayı aşağıdakilerden hangisidir?

- A) 88 B) 87 C) 78

5. 56 sayısının onluk sayısı aşağıdaki sayılardan hangisinin onluk sayısına eşittir?

- A) 46 B) 53 C) 65

6. Aşağıdakilerden hangisinde 1 deste çiçek vardır?

A) 



B) 



C) 



7.



Akvaryumdaki balıklara kaç balık daha eklenirse balık sayısı 1 düzineye eşit olur?

A) 2

B) 3

C) 4

8.



Yukarıdaki balonların sayısını Ayça 11, Ceren 13 ve Burcu 12 olarak tahmin ediyor.

Buna göre kimin tahmini gerçek balon sayısına eşittir?

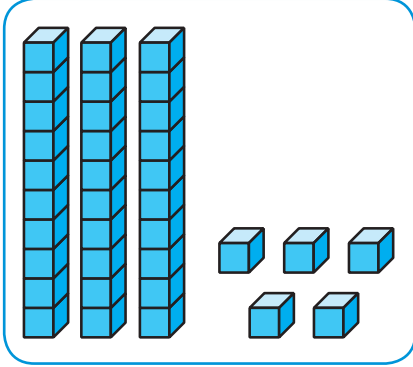
A) Ayça

B) Burcu

C) Ceren

Cevaplarınızı Bu Bölüme İşaretleyiniz			
Soru	A B C	Soru	A B C
1	<input type="radio"/> <input type="radio"/> <input type="radio"/>	14	<input type="radio"/> <input type="radio"/> <input type="radio"/>
2	<input type="radio"/> <input type="radio"/> <input type="radio"/>	15	<input type="radio"/> <input type="radio"/> <input type="radio"/>
3	<input type="radio"/> <input type="radio"/> <input type="radio"/>	16	<input type="radio"/> <input type="radio"/> <input type="radio"/>
4	<input type="radio"/> <input type="radio"/> <input type="radio"/>	17	<input type="radio"/> <input type="radio"/> <input type="radio"/>
5	<input type="radio"/> <input type="radio"/> <input type="radio"/>	18	<input type="radio"/> <input type="radio"/> <input type="radio"/>
6	<input type="radio"/> <input type="radio"/> <input type="radio"/>	19	<input type="radio"/> <input type="radio"/> <input type="radio"/>
7	<input type="radio"/> <input type="radio"/> <input type="radio"/>	20	<input type="radio"/> <input type="radio"/> <input type="radio"/>
8	<input type="radio"/> <input type="radio"/> <input type="radio"/>	21	<input type="radio"/> <input type="radio"/> <input type="radio"/>
9	<input type="radio"/> <input type="radio"/> <input type="radio"/>	22	<input type="radio"/> <input type="radio"/> <input type="radio"/>
10	<input type="radio"/> <input type="radio"/> <input type="radio"/>	23	<input type="radio"/> <input type="radio"/> <input type="radio"/>
11	<input type="radio"/> <input type="radio"/> <input type="radio"/>	24	<input type="radio"/> <input type="radio"/> <input type="radio"/>
12	<input type="radio"/> <input type="radio"/> <input type="radio"/>	25	<input type="radio"/> <input type="radio"/> <input type="radio"/>
13	<input type="radio"/> <input type="radio"/> <input type="radio"/>	26	<input type="radio"/> <input type="radio"/> <input type="radio"/>

1.



Onluk ve birlik taban bloklarıyla modeli verilen sayı ile ilgili aşağıdakilerden hangisi doğrudur?

- A) Birler basamağındaki rakamı 3'tür.
B) Onlar basamağındaki rakamın basamak değeri 50'dir.
C) "Otuz beş" şeklinde okunur.

2. Tunç'un 9 tane boyama kitabı, 15 tane boya kalemi vardır. Buna göre aşağıdakilerden hangisi yanlıştır?

- A) Boyama kitabı sayısı 1 deseden azdır.
B) Boya kalemi sayısı 1 düzineden azdır.
C) Boyama kitabı sayısı 1 düzineden azdır.

3. Aşağıdakilerden hangisi 51 sayısının rakamlarının basamak değerlerinden biri değildir?

- A) 50 B) 10 C) 1

4. 15'ten başlayarak ileriye üçer ritmik sayma yapıldığında aşağıdaki sayılardan hangisi söylenmez?

- A) 21 B) 27 C) 31

5. (9) (14) (19) (★) (29) (▲)

Verilen sayı örüntüsüne göre ★ + ▲ ifadesinin sonucu kaçtır?

- A) 53 B) 58 C) 63

1.

doksan altı

elli dokuz

on iki

yirmi dört

Aşağıdakilerden hangisi okunuşu verilen sayılardan biri değildir?

- A) 12 B) 59 C) 99

2. 34'ten başlayarak ileriye ikişer ritmik sayma yapıldığında söylenen 6. sayı ile 9. sayının toplamı kaçtır?

- A) 92 B) 94 C) 98

3.

♥, 91 sayısından küçüktür.

★, 24 sayısından büyüktür.

Verilen bilgiye göre ♥ ve ★ yerlerine aşağıdaki sayılardan hangileri yazılabilir?

- | | ♥ | ★ |
|----|----|----|
| A) | 86 | 10 |
| B) | 91 | 44 |
| C) | 88 | 35 |

4.

48 → 50

74 → 80

31 → 30

Yukarıda bazı sayıların en yakın oldukları onluk değerleri verilmiştir.

Buna göre kaç doğrudur?

- A) 1 B) 2 C) 3

5. 4 onluk ve 2 birlikten oluşan sayı, 22 sayısından kaç fazladır?

- A) 12 B) 20 C) 24

6.

49 – 32

Verilen işlemin sonucu için aşağıdakilerden hangisi söylenemez?

- A) Bir destenin sayısından 7 fazladır.
B) Bir düzinenin sayısından 5 fazladır.
C) Bir deste ve bir düzinenin toplam sayısına eşittir.

1.

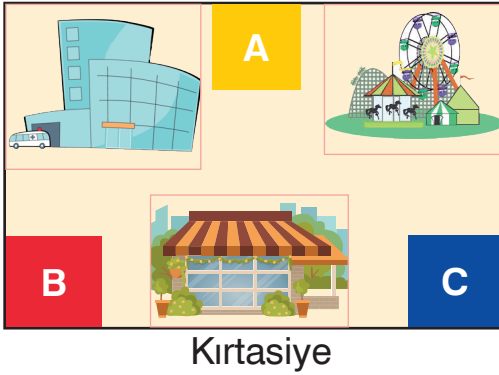
- tuvaletler
- müdür odası
- öğretmenler odası
- derslikler

Yukarıdakilerden kaç okulumuzun bölümleri arasında yer alır?

- A) 2 B) 3 C) 4

2. Hastane

Park

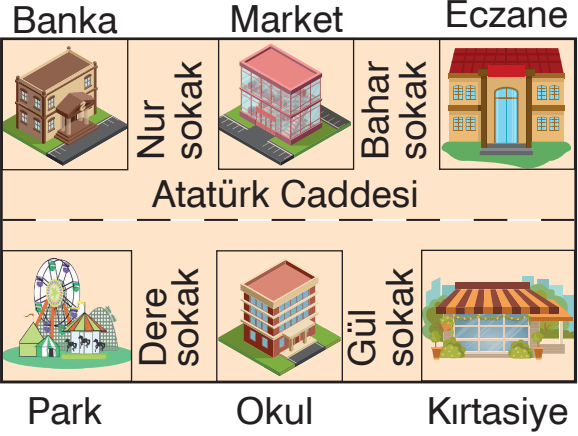


Onur

Okulumuzun karşısında hastane yanında kirtasiye vardır.

Onur'un verdiği bilgiye göre okul krokideki binalardan hangisidir?

- A) A B) B C) C



Yukarıda Ebru'nun okulunun krokisi verilmiştir.

(3. ve 4. soruları bu krokiye göre yanıtlayın.)

3. Aşağıdaki ifadelerden hangisi yanlıştır?

- A) Ebru'nun okulu marketin karşısında, parkın yanındadır.
 B) Ebru'nun okulu bankanın karşısında, eczanenin yanındadır.
 C) Ebru'nun okulu park ve kirtasiye arasındadır.

4. 1. Okulun sağında Gül sokak, solunda Dere sokak vardır.
 2. Banka parkın karşısındadır.
 3. Okulun karşısında eczane vardır.

Yukarıdakilerden hangileri doğrudur?

- A) 1 ve 2 B) 2 ve 3
 C) 1, 2 ve 3

1.



Babasının erkek kardeşini arkadaşıyla tanıştırmak isteyen Buğra, arkadaşına aşağıdakilerden hangisini söylemelidir?

- A) Bu benim dayım
- B) Bu benim amcam
- C) Bu benim eniştem

2. Annesinin kız kardeşi misafiriğe gelen Aslı, misafire nasıl hitap etmelidir?

- A) Hala
- B) Abla
- C) Teyze

3. “Kan veya evlilik yoluyla birbirine bağlı olan kişilere denir.” cümlesindeki boşluğa aşağıdakilerden hangisi getirilmelidir?

- A) akraba
- B) komşu
- C) kardeş

4. Aşağıdakilerden hangisi doğrudur?

- A) Babamızın kız kardeşi bizim halamızdır.
- B) Amcamızın kız çocuğu bizim yeğenimizdir.
- C) Annemizin annesi bizim babaannemizdir.

5.



Her ailede önemli olan bazı değerler vardır.

Buna göre, aşağıdakilerden hangisi bu değerlerden olamaz?

A)



Dürüstlük

B)



Adalet

C)



Saygısızlık

6. Aşağıdakilerden hangisi ailemizle ilişkilerimizde hissetmemiz gereken bir duygu değildir?

A)

Kıskançlık

B)

Sevgi

C)

Hoşgörü

6. Oyuncaklarıyla oynadıktan sonra, onları yerine kaldıran Mustafa için aşağıdakilerden hangisi söylenemez?


- A) Eşyalarını özenli kullanılır.
- B) Eşyalarını düzensiz kullanır.
- C) Eşyalarını dikkatli kullanır.

7. 8 yaşındaki Ezgi okuldan geldikten sonra evdeki sorumluluklarını yerine getirir.

Buna göre Ezgi'nin aşağıdakilerden hangisini yapması beklenir?

- A) Odasını toplaması
- B) Evi dağıtması
- C) Yemek yapması

8. Aşağıdaki davranışlardan hangisi yanlıştır?




- A)  Boşa akan muslukları kapatmalıyız.
- B)  Gereksiz yere para harcamamalıyız.
- C)  Kullanmadığımız odaları da ısıtmalıyız.




Yukarıdakilerden kaç evde kullanabileceğimiz kaynaklardır?

- A) 4
- B) 3
- C) 2

10. Aşağıdaki davranışlardan hangisi yanlıştır?

- A)  Kaynakları bilinçli tüketmeliyiz.
- B)  Suyu boşa kullanmamalıyız.
- C)  Elektrik tasarrufu yapmalıyız.

 BlokTest

Cevaplarınızı Bu Bölüme İşaretleyiniz

Soru	A	B	C	Soru	A	B	C
1	<input type="radio"/>	<input type="radio"/>	<input type="radio"/>	14	<input type="radio"/>	<input type="radio"/>	<input type="radio"/>
2	<input type="radio"/>	<input type="radio"/>	<input type="radio"/>	15	<input type="radio"/>	<input type="radio"/>	<input type="radio"/>
3	<input type="radio"/>	<input type="radio"/>	<input type="radio"/>	16	<input type="radio"/>	<input type="radio"/>	<input type="radio"/>
4	<input type="radio"/>	<input type="radio"/>	<input type="radio"/>	17	<input type="radio"/>	<input type="radio"/>	<input type="radio"/>
5	<input type="radio"/>	<input type="radio"/>	<input type="radio"/>	18	<input type="radio"/>	<input type="radio"/>	<input type="radio"/>
6	<input type="radio"/>	<input type="radio"/>	<input type="radio"/>	19	<input type="radio"/>	<input type="radio"/>	<input type="radio"/>
7	<input type="radio"/>	<input type="radio"/>	<input type="radio"/>	20	<input type="radio"/>	<input type="radio"/>	<input type="radio"/>
8	<input type="radio"/>	<input type="radio"/>	<input type="radio"/>	21	<input type="radio"/>	<input type="radio"/>	<input type="radio"/>
9	<input type="radio"/>	<input type="radio"/>	<input type="radio"/>	22	<input type="radio"/>	<input type="radio"/>	<input type="radio"/>
10	<input type="radio"/>	<input type="radio"/>	<input type="radio"/>	23	<input type="radio"/>	<input type="radio"/>	<input type="radio"/>
11	<input type="radio"/>	<input type="radio"/>	<input type="radio"/>	24	<input type="radio"/>	<input type="radio"/>	<input type="radio"/>
12	<input type="radio"/>	<input type="radio"/>	<input type="radio"/>	25	<input type="radio"/>	<input type="radio"/>	<input type="radio"/>
13	<input type="radio"/>	<input type="radio"/>	<input type="radio"/>	26	<input type="radio"/>	<input type="radio"/>	<input type="radio"/>

Öğrenci No

0	<input type="radio"/>	<input type="radio"/>	<input type="radio"/>
1	<input type="radio"/>	<input type="radio"/>	<input type="radio"/>
2	<input type="radio"/>	<input type="radio"/>	<input type="radio"/>
3	<input type="radio"/>	<input type="radio"/>	<input type="radio"/>
4	<input type="radio"/>	<input type="radio"/>	<input type="radio"/>
5	<input type="radio"/>	<input type="radio"/>	<input type="radio"/>
6	<input type="radio"/>	<input type="radio"/>	<input type="radio"/>
7	<input type="radio"/>	<input type="radio"/>	<input type="radio"/>
8	<input type="radio"/>	<input type="radio"/>	<input type="radio"/>
9	<input type="radio"/>	<input type="radio"/>	<input type="radio"/>

6.



Ela

17.30 : Akşam yemeği
18.00 : Dinlenme
18.30 : Ders çalışma
19.30 : Dinlenme
20.30 : Kitap okuma
21.30 : Yatma zamanı

Ela okuldan sonra evde geçireceği zamanı yukarıdaki gibi planlamıştır.

Aşağıdakilerden hangisi Ela'nın bu planı yapmasının sebeplerinden biri olamaz?

- A) Yapacağı işleri düzenlemek
B) Zamanı iyi kullanmak
C) Düzensiz yaşamak

7. **Planlı yaşayan Namık, bir gün içerisinde aşağıdakilerden hangisine daha fazla zaman ayırmalıdır?**

A)



B)



C)



8. **Pelin beğendiği oyuncak almak için aşağıdakilerden hangisini yapmalıdır?**

- A) Kantinde harçlığının hepsini harcamalı
B) Harçlığının bir kısmını biriktirmeli
C) Arkadaşlarından para toplamalı

9. 1. Yemek yemek
2. Barınma
3. Bisiklete binmek

Verilenlerden hangileri temel ihtiyaçlarımızdandır?

- A) 1 ve 2
B) 1 ve 3
C) 1, 2 ve 3


10.

	istek	ihtiyaç
ayakkabı		
cep telefonu		
oyuncak		
defter		

2. sınıfa giden Ahmet istek ve ihtiyaçlarını belirlemek için verilen tabloyu hazırlar.

Buna göre Ahmet tabloda ihtiyaçları için hangilerini işaretlemelidir?

- A) ayakkabı - cep telefonu
B) ayakkabı - defter
C) oyuncak - defter



BlokTest

Cevaplarınızı Bu Bölüme İşaretleyiniz

Soru	A	B	C	Soru	A	B	C
1	<input type="radio"/>	<input type="radio"/>	<input type="radio"/>	14	<input type="radio"/>	<input type="radio"/>	<input type="radio"/>
2	<input type="radio"/>	<input type="radio"/>	<input type="radio"/>	15	<input type="radio"/>	<input type="radio"/>	<input type="radio"/>
3	<input type="radio"/>	<input type="radio"/>	<input type="radio"/>	16	<input type="radio"/>	<input type="radio"/>	<input type="radio"/>
4	<input type="radio"/>	<input type="radio"/>	<input type="radio"/>	17	<input type="radio"/>	<input type="radio"/>	<input type="radio"/>
5	<input type="radio"/>	<input type="radio"/>	<input type="radio"/>	18	<input type="radio"/>	<input type="radio"/>	<input type="radio"/>
6	<input type="radio"/>	<input type="radio"/>	<input type="radio"/>	19	<input type="radio"/>	<input type="radio"/>	<input type="radio"/>
7	<input type="radio"/>	<input type="radio"/>	<input type="radio"/>	20	<input type="radio"/>	<input type="radio"/>	<input type="radio"/>
8	<input type="radio"/>	<input type="radio"/>	<input type="radio"/>	21	<input type="radio"/>	<input type="radio"/>	<input type="radio"/>
9	<input type="radio"/>	<input type="radio"/>	<input type="radio"/>	22	<input type="radio"/>	<input type="radio"/>	<input type="radio"/>
10	<input type="radio"/>	<input type="radio"/>	<input type="radio"/>	23	<input type="radio"/>	<input type="radio"/>	<input type="radio"/>
11	<input type="radio"/>	<input type="radio"/>	<input type="radio"/>	24	<input type="radio"/>	<input type="radio"/>	<input type="radio"/>
12	<input type="radio"/>	<input type="radio"/>	<input type="radio"/>	25	<input type="radio"/>	<input type="radio"/>	<input type="radio"/>
13	<input type="radio"/>	<input type="radio"/>	<input type="radio"/>	26	<input type="radio"/>	<input type="radio"/>	<input type="radio"/>

Öğrenci No

0	<input type="radio"/>	<input type="radio"/>	<input type="radio"/>	<input type="radio"/>
1	<input type="radio"/>	<input type="radio"/>	<input type="radio"/>	<input type="radio"/>
2	<input type="radio"/>	<input type="radio"/>	<input type="radio"/>	<input type="radio"/>
3	<input type="radio"/>	<input type="radio"/>	<input type="radio"/>	<input type="radio"/>
4	<input type="radio"/>	<input type="radio"/>	<input type="radio"/>	<input type="radio"/>
5	<input type="radio"/>	<input type="radio"/>	<input type="radio"/>	<input type="radio"/>
6	<input type="radio"/>	<input type="radio"/>	<input type="radio"/>	<input type="radio"/>
7	<input type="radio"/>	<input type="radio"/>	<input type="radio"/>	<input type="radio"/>
8	<input type="radio"/>	<input type="radio"/>	<input type="radio"/>	<input type="radio"/>
9	<input type="radio"/>	<input type="radio"/>	<input type="radio"/>	<input type="radio"/>