

4. SINIF

Tüm Dersler

KILAVUZ

D E N E M E

Beceri Temelli Yeni Nesil Sorularla

**8 Adet
62 Soruluk
Deneme
Sınavı**

BlokTest®

4. SINIF

Tüm Dersler

Türkçe • Sosyal Bilgiler • İngilizce • Matematik • Fen Bilimleri



SINAVDAKİ SORULARIN DERSLERE GÖRE KONU ANALİZİ

SÖZEL	TÜRKÇE	Harf ve Hece Bilgisi, Sözcük ve Sözcük Gruplarında Anlam, Okuduğunu Anlama, Yazım Kuralları
	SOSYAL BİLGİLER	Birey ve Toplum
	İNGİLİZCE	Making Simple Requests, Asking for Clarification, Naming Numbers, Identifying Countries and Nationalities
SAYISAL	MATEMATİK	Doğal Sayılar, Doğal Sayılarla Toplama İşlemi, Doğal Sayılarla Çıkarma İşlemi
	FEN BİLİMLERİ	Yer Kabuğu ve Dünya'mızın Hareketleri - Besinlerimiz

ÖĞRENCİNİN DİKKATİNE!

- Bu kitapçıkta TÜRKÇE testinde 15 soru, SOSYAL BİLGİLER testinde 15 soru, İNGİLİZCE testinde 5 soru, MATEMATİK testinde 15 soru, FEN BİLİMLERİ testinde 12 soru olmak üzere toplam 62 soru vardır.
- Kitapçıkta soruların tümünü cevaplamak için önerilen süre 82 dakikadır.
- Cevaplarınızı, mobil ölçme optiklerindeki ilgili alanlara yuvarlağın dışına taşırmadan kodlayınız.
- Her sorunun tek bir doğru cevabı vardır. Birden fazla cevap işaretlenmişse o soru yanlış cevaplanmış sayılır.
- Soruların çözümü için size ayrıca boş kâğıt verilmeyecektir. Soru kitapçığınızın içindeki boş alanları çözümlerinizi için kullanabilirsiniz.
- Puanlama: Her bir ders testine ait ham puan; ilgili teste ait doğru cevap sayısından yanlış cevap sayısının üçte biri çıkarılarak hesaplanacaktır.

Adı Soyadı :

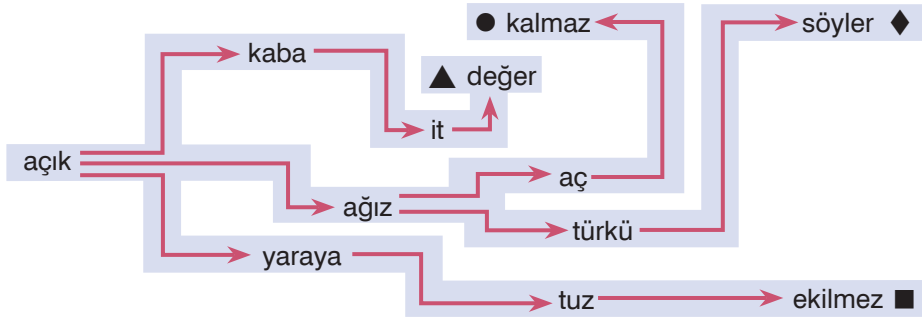
Sınıf - Şube - No :

Okulu :

TÜRKÇE

1. Bu testte 15 soru vardır.
2. Cevaplarınızı, bu sayfanın altında Türkçe testi için ayrılan yere işaretleyiniz.

1.



Labirentte “İsteklerini uygun biçimde söylemesini bilen kimse aç kalmaz.” anlamına gelen atasözünü oluşturan sözcükler takip edildiğinde sembollerle gösterilen çıkışların hangisine ulaşılır?

- A) ▲ B) ◆ C) ■ D) ●

2.

Deyim	Anlam
I. Ağır gelmek	Gücüne gitmek, onuruna dokunmak
II. Diş bilemek	Soyunun özelliklerini taşımak
III. Ucunu kaçırmak	İş kötüye gitmek, çıkmaza girmek
IV. Soya çekmek	Kötülük yapmak için fırsat beklemek

Numaralanmış deyimlerden hangileri yer değiştirdiğinde deyimlerle anlamları doğru eşleşmiş olur?

- A) I ve II B) I ve III C) II ve IV D) III ve IV

3. Aşağıdaki cümlelerin hangisinde “sürmek” sözcüğü diğerlerinden farklı bir anlamda kullanılmıştır?

- A) Yüzümü bu yumuşak kumaşa sürdüm.
B) Ellerimi sıcak zemine sürüp zeminin ısısına baktım.
C) Kolonyayı önce avuçlarına sonra tüm yüzüne sürdü.
D) Fırçayı kartona sürerek resmi boyamaya başladı.

4.

Güz ağaçları
 Altına dönüştürüp yapraklarını
 Savurganca ayaklarımızın altına
 serer
 Güz ağaçları
 Saçar dağıtır
 En güzel günlerini
 En yeşil anılarını
 Ayla ÇINAROĞLU

Aşağıdaki görsellerden hangisi bu şiirin konusuyla ilgili değildir?

A)



B)



C)



D)



5. Aşağıdaki cümlelerin hangisinde terim anlamlı bir sözcük vardır?

- A) Bir sayfa daha okuyup kitabı bırakacağım.
 B) Şiddetli rüzgâr yüzünden hayat felç oldu.
 C) Dinlediğim şarkının notalarını düz beyaz kâğıda geçirdim.
 D) Bu mahalle eskiden çok güzeldi.

6. Aşağıdaki cümlelerin hangisinde tek başına anlamı olmayan iki heceli bir sözcük vardır?

- A) Deniz ve güneşin tadını tek başıma çıkarıyorum.
 B) Düğüne gelirim ama geç kalırım.
 C) İlk defa burada gördüm onu.
 D) Süre yetmeyince işini yarım bırakmak zorunda kaldı.

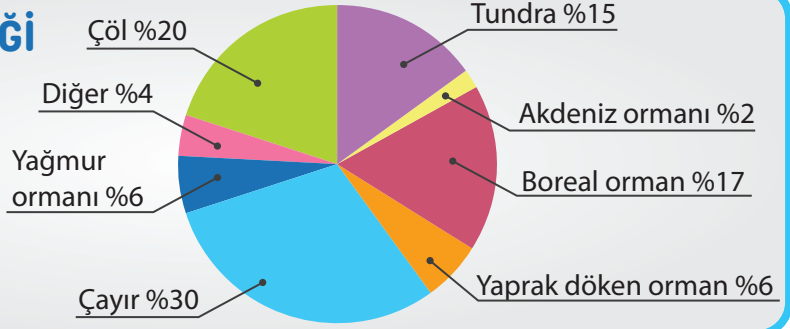
7. Aşağıdaki cümlelerin hangisinde mecaz anlamlı bir sözcük vardır?

- A) Bu film beni pek sarmadı.
 B) Koşan küçük kız, birden düştü.
 C) Düğüne giderken seni de alırım.
 D) Duman yüzünden neredeyse boğulacaklardı.

8.

DÜNYA'NIN İÇERİĞİ

Dünya'nın yüzde otuzu karadır. Karaların da beşte birini çöller oluşturmaktadır.



Aşağıdakilerden hangisi bu metindeki sözcüklerden birinin anlamı değildir?

- A) Üzerinde gür ot biten düz ve nemli yer
- B) Ağaçlarla örtülü geniş alan ve bu ağaçların bütünü
- C) Yeryüzünün denizle örtülü olmayan bölümü, toprak
- D) Dört mevsim yeşil kalabilen, iğne yapraklı bir orman ağacı

9.

Öğretmenimiz sınıfa deprem bölgesinden öğrenciler gelmeden bir gün önce, hepimizi tek tek uyarmıştı. Onlara asla ama asla deprem konusunda soru sormayacaktık. Böyle bir olayı yaşayan insanlar, hassas olabilirlerdi. Sanırım bu yüzden, ertesi gün yeni arkadaşlarımız sınıfa geldiğinde hepimizden kendimizi tanıtan bir kompozisyon yazmamızı istedi.

Bu metinle ilgili,

- I. Olay sınıfta geçmektedir.
- II. Öğretmen, öğrencilerine karşı hassas davranmaktadır.
- III. Anlatıcı, olayı yaşayan kişilerden biri değildir.
- IV. Olay, depremin hemen ertesi günü yaşanmıştır.

yargılarından hangileri yanlıştır?

- A) I ve II
- B) I ve III
- C) II ve IV
- D) III ve IV

10.

Bu cümlede yapısal özelliğine uygun yazılmamış harf bulunan iki heceli bir sözcük vardır. Bu sözcüğün ilk hecesi bir ünsüz, bir ünlü ve bir ünsüzden oluşmaktadır.

Açıklaması yapılan cümle aşağıdakilerden hangisi olabilir?

- A) Üzerine giydiği açık renk gömleğin kumaşı çok güzeldi.
- B) Tüm işini bitirince alışverişe gitmek üzere hazırlanmaya başladı.
- C) Öğrenciler, gözlüm yapmak için çadırlarından çıkıp yürüyüşe gittiler.
- D) Sabah giydiği çorap, toplantıya gitmek üzere ofisten çıkarken kaçmış.

11.

Türkçe sözcüklerin köklerinde iki ünsüz yan yana bulunmaz.

Aşağıdakilerin hangisinde bu kurala uymayan bir sözcük kullanılmıştır?

- A) Sokaktan geçen satıcının sesini duydum.
- B) Çocuklar kaydırdan kayıyorlar.
- C) Köylü kızları ellerinde sepetlerle yoldan geçti.
- D) Teşekkür etmek bir nezaket ifadesidir.

12. Aşağıdaki atasözlerinden hangisi “İnsan ummadığı, düşünmediği şeylerle karşılaşabilir.” anlamına gelmektedir?

- A) Ağaç kökünden yıkılır.
- B) Akla gelmeyen başa gelir.
- C) Alına yazılan başa gelir.
- D) Astar boş olmayınca yüze gelmez.

13. Aşağıdaki cümlelerin hangisinde yazım yanlışı vardır?

- A) Bana neden yardım et miyorsun?
- B) Beni eve kadar bırakır mısın?
- C) Biraz daha çay alır mısınız?
- D) Konuştuklarımızı bir türlü anlamıyor musun?

14 ve 15. soruları şiire göre yanıtlayın.





Rüya görür mü ağaçlar,
Kuzular, kuşlar?
Görürse ne görür,
Bilmek isterim.
Uykuları gelince iyi uykular kuşları
Konar mı üzerlerine,
Bilmek isterim.
Kuşlar uğramazsa düşlerine
Sıkılır mı canları bilmek isterim.
Sıkılırsa ne yaparlar
Onu da bilmek isterim.

Özlem KILINÇARSLAN SÖZBİLİR

14. Bu şiirin ana duygusu aşağıdakilerden hangisidir?

- A) İnsan sevgisi
- B) Doğaya özlem
- C) Merak
- D) Mutluluk

15. Aşağıdaki varlıklardan hangisi şiirde yer almamaktadır?

- A) 
- B) 
- C) 
- D) 

TÜRKÇE TESTİ BİTTİ.

SOSYAL BİLGİLER

1. Bu testte 15 soru vardır.
2. Cevaplarınızı, bu sayfanın altında sosyal bilgiler testi için ayrılan yere işaretleyiniz.

1.

Her insana doğduğu andan itibaren geçerli olmak üzere vatandaşı olduğu devlet tarafından aşağıdaki belge verilir.



Bu belge ülkemizde,

I.

Belediye

II.

Nüfus Müdürlüğü

III.

Millî Eğitim Müdürlüğü

kurumlarının hangilerinden alınmaktadır?

- A) Yalnız I B) Yalnız II C) I ve II D) II ve III

2. Aşağıdakilerden hangisi insanları birbirinden ayıran özellikler arasında yer almaz?

A)



İlgi alanları

B)



Temel ihtiyaçları

C)



Fiziksel özellikleri


D)



Duygusal özellikleri

3. Yeni kimlik kartları akıllı kart özelliğini aşağıdakilerden hangisiyle kazanmıştır?

- A) Parmak izinin yer almasıyla
B) Temel kimlik bilgilerinin bulunmasıyla
C) Elektronik çip (yonga) bölümünün olmasıyla
D) İmza bölümünün olmasıyla



BlokTest

Cevaplarınızı Bu Bölüme İşaretleyiniz

Soru	A	B	C	D	Soru	A	B	C	D
1	<input type="radio"/>	<input type="radio"/>	<input type="radio"/>	<input type="radio"/>	14	<input type="radio"/>	<input type="radio"/>	<input type="radio"/>	<input type="radio"/>
2	<input type="radio"/>	<input type="radio"/>	<input type="radio"/>	<input type="radio"/>	15	<input type="radio"/>	<input type="radio"/>	<input type="radio"/>	<input type="radio"/>
3	<input type="radio"/>	<input type="radio"/>	<input type="radio"/>	<input type="radio"/>	16	<input type="radio"/>	<input type="radio"/>	<input type="radio"/>	<input type="radio"/>
4	<input type="radio"/>	<input type="radio"/>	<input type="radio"/>	<input type="radio"/>	17	<input type="radio"/>	<input type="radio"/>	<input type="radio"/>	<input type="radio"/>
5	<input type="radio"/>	<input type="radio"/>	<input type="radio"/>	<input type="radio"/>	18	<input type="radio"/>	<input type="radio"/>	<input type="radio"/>	<input type="radio"/>
6	<input type="radio"/>	<input type="radio"/>	<input type="radio"/>	<input type="radio"/>	19	<input type="radio"/>	<input type="radio"/>	<input type="radio"/>	<input type="radio"/>
7	<input type="radio"/>	<input type="radio"/>	<input type="radio"/>	<input type="radio"/>	20	<input type="radio"/>	<input type="radio"/>	<input type="radio"/>	<input type="radio"/>
8	<input type="radio"/>	<input type="radio"/>	<input type="radio"/>	<input type="radio"/>	21	<input type="radio"/>	<input type="radio"/>	<input type="radio"/>	<input type="radio"/>
9	<input type="radio"/>	<input type="radio"/>	<input type="radio"/>	<input type="radio"/>	22	<input type="radio"/>	<input type="radio"/>	<input type="radio"/>	<input type="radio"/>
10	<input type="radio"/>	<input type="radio"/>	<input type="radio"/>	<input type="radio"/>	23	<input type="radio"/>	<input type="radio"/>	<input type="radio"/>	<input type="radio"/>
11	<input type="radio"/>	<input type="radio"/>	<input type="radio"/>	<input type="radio"/>	24	<input type="radio"/>	<input type="radio"/>	<input type="radio"/>	<input type="radio"/>
12	<input type="radio"/>	<input type="radio"/>	<input type="radio"/>	<input type="radio"/>	25	<input type="radio"/>	<input type="radio"/>	<input type="radio"/>	<input type="radio"/>
13	<input type="radio"/>	<input type="radio"/>	<input type="radio"/>	<input type="radio"/>	26	<input type="radio"/>	<input type="radio"/>	<input type="radio"/>	<input type="radio"/>

Öğrenci No

0	<input type="radio"/>	<input type="radio"/>	<input type="radio"/>	<input type="radio"/>
1	<input type="radio"/>	<input type="radio"/>	<input type="radio"/>	<input type="radio"/>
2	<input type="radio"/>	<input type="radio"/>	<input type="radio"/>	<input type="radio"/>
3	<input type="radio"/>	<input type="radio"/>	<input type="radio"/>	<input type="radio"/>
4	<input type="radio"/>	<input type="radio"/>	<input type="radio"/>	<input type="radio"/>
5	<input type="radio"/>	<input type="radio"/>	<input type="radio"/>	<input type="radio"/>
6	<input type="radio"/>	<input type="radio"/>	<input type="radio"/>	<input type="radio"/>
7	<input type="radio"/>	<input type="radio"/>	<input type="radio"/>	<input type="radio"/>
8	<input type="radio"/>	<input type="radio"/>	<input type="radio"/>	<input type="radio"/>
9	<input type="radio"/>	<input type="radio"/>	<input type="radio"/>	<input type="radio"/>

4.

Basketbol oynamayı çok seviyorum. Daha iyi basketbol oynayabilmek için hafta sonları kursa gidiyorum. İleride dünyaca ünlü bir basketbol takımında oynamak istiyorum.

Bu açıklamayı yapan kişiyle ilgili,

- I. Yetenekleri
- II. İlgisi
- III. Eğitim durumu

özelliklerinden hangilerine ulaşılabilir?

- A) Yalnız I
- B) I ve II
- C) II ve III
- D) I, II ve III

5. Aşağıdaki ifadelerden hangisi kronolojik sıralamada kullanılmaz?

- A) Ayberk doğunca ailemiz dört kişi oldu.
- B) İlkokul 2. sınıfa giderken basketbol oynamaya başladım.
- C) İzmir'e beş yıl önce taşınmıştık.
- D) 2007 yılında kardeşim dünyaya geldi.

6.

Arda, hayvanları özellikle köpekleri çok sevmekte ve ilerleyen yıllarda veteriner olmayı istemektedir.

Buna göre Arda'nın meslek seçiminde aşağıdakilerden hangisinin etkili olduğu söylenebilir?

- A) Arkadaşlarının
- B) Ailesinin isteğinin
- C) İlgisinin
- D) Veterinerliğin maddi kazancının

7.

Resmî kimlik belgesi insanların kim olduklarını gösterir.

Aşağıdakilerden hangisinde resmî kimlik belgesini kullanma zorunluğu yoktur?

- A) Sinema girişinde
- B) Okula kayıt yaptırırken
- C) Hastanede sağlık hizmeti alırken
- D) Pasaport başvurusunda

8.

Hepimiz bugüne kadar pek çok olay yaşamışızdır. Ancak hayat öykümüz anlatılmak istense önemli gördüğümüz etkilendiğimiz, unuttuğumuz olayları anlatırız. Bunu yaparken olayları oluş tarihlerine göre doğduğumuz andan günümüze doğru sıralarız.

Verilen metinde altı çizili cümle aşağıdaki kavramlardan hangisini ifade etmektedir?

- A) Kronoloji
- B) Zaman
- C) Tarih
- D) Öykü

9. Bir kişinin resmî kimlik kartından o kişiyle ilgili aşağıdaki bilgilerden hangisi edinilemez?

- A) Yaşı
- B) Baba adı
- C) Kardeşinin adı
- D) Vatandaşlık numarası

10.

Ülkemizde ilk resmî kimlik belgesi 1882 yılında Osmanlı Devleti zamanında düzenlenmiştir. Bu kimlik kartları “Sicilli Nüfus Ahali İdaresi Umumiyesi” tarafından Osmanlı vatandaşlarına dağıtılmıştır.

Metindeki verilen kimlik kartının adı aşağıdakilerden hangisidir?

- A) Nüfus Hüviyet Cüzdanı
- B) Devlet-i Aliyye Osmaniye Tezkiresi
- C) Türkiye Cumhuriyeti Nüfus Cüzdanı
- D) Türkiye Cumhuriyeti Kimlik Kartı

11.

Bireyler fiziksel özellikleriyle olduğu kadar ilgi alanlarıyla da birbirlerinden ayrılırlar.

Aşağıdakilerden hangisi verilen durumun toplumsal hayata sağladığı katkılardan biri değildir?

- A) Farklı meslek grupları oluşur.
- B) Çeşitli alanlarda bilimsel ve kültürel faaliyetler gelişir.
- C) Toplumun ihtiyaçları karşılanır.
- D) Toplumsal çeşitlilik azalır.

12. Aşağıdaki çocukların oyuncaklarından hangisinin ortaya çıktığı dönem diğerlerinden farklıdır?

- A) Tahta at
- B) Robot
- C) Bez bebek
- D) Topaç

13.

Taklide ve karşılıklı konuşmaya dayanan iki boyutlu tasvirlerle bir perdede oynatılan gölge oyunudur. Bu oyun Türk kültürünün, yaşam biçiminin, müziğinin aktarılmasında büyük rol oynamıştır.

Verilen metindeki oyun aşağıdakilerden hangisidir?

- A) Kukla
- B) Karagöz – Hacivat
- C) Orta oyunu
- D) Cirit

14. Aşağıdakilerden hangisi aile tarihimiz hakkında araştırma yaparken kullanabileceğimiz materyallerden biri değildir?

- A) Fotoğraflar
- B) Diplomalar
- C) Mektuplar
- D) Dinî kitaplar

15.

Berrak, bebeklikten itibaren çekildiği fotoğraflarla bir zaman şeridi oluşturmak istemektedir.

Buna göre Berrak aşağıdakilerin hangisinden yararlanmalıdır?

- A) tarih
- B) kültür
- C) sözlü tarih
- D) kronoloji

SOSYAL BİLGİLER TESTİ BİTTİ.

İNGİLİZCE

1. Bu testte 5 soru vardır.
2. Cevaplarınızı, bu sayfanın altında İngilizce testi için ayrılan yere işaretleyiniz.

1.



Görseli verilen eşya ile ilgili hangisi söylenebilir?

- A) It is a computer.
- B) It is a television.
- C) It is a notebook.
- D) It is a school bag.

2.

1.



Germany -
German

2.



Russia -
Russian

3.



Japan -
Japanese

4.



Iraq -
Iraqi

Numaralandırılmış eşleştirmelerden hangisi yanlıştır?

- A) 1 B) 2 C) 3 D) 4

3.

turn on X _____
_____ X close
stay X leave
come in X _____

Aşağıdakilerden hangisi tabloyu doğru tamamlar?

- A) turn off - open - go out
- B) turn off - join - take
- C) take - open - go out
- D) take - join - say


4.

1. Open the window, please.
2. Look at the board, please.
3. Go back to your place, please.
4. Sure, here you are.

Numaralandırılmış ifadelerden hangisi diğerlerinden farklıdır?

- A) 1 B) 2 C) 3 D) 4

5.



Resme göre aşağıdakilerden hangisi doğrudur?

- A) seventy - one
- B) seventy - two
- C) seventy - three
- D) seventy - five

İNGİLİZCE TESTİ BİTTİ.

Cevaplarınızı Bu Bölüme İşaretleyiniz												
Soru	A	B	C	D	Soru	A	B	C	D			
1					14							
2					15							
3					16							
4					17							
5					18							
6					19							
7					20							
8					21							
9					22							
10					23							
11					24							
12					25							
13					26							

Öğrenci No

0

1

2

3

4

5

6

7

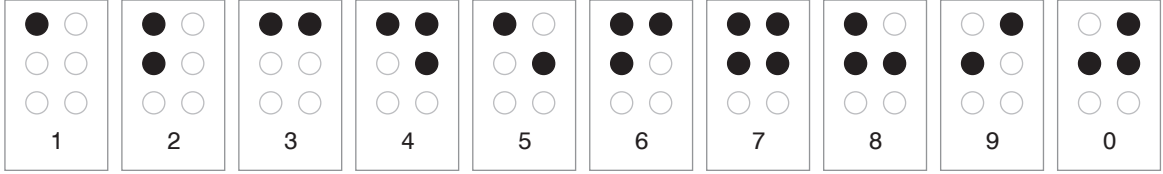
8

9

MATEMATİK

1. Bu testte 15 soru vardır.
2. Cevaplarınızı, bu sayfanın altında matematik testi için ayrılan yere işaretleyiniz.

1. Görme engellilerin okuyup yazmaları için geliştirilmiş Braille yazı sisteminde, rakamlar aşağıdaki gibi tanımlanmıştır. Bu rakamlarda siyah boyalı noktalar kabartmalıdır.



Arda, bu rakamları kullanarak oluşturduğu sayıda toplam 11 kabartmalı nokta olacak şekilde rakamları farklı dört basamaklı en büyük çift doğal sayı oluşturmuştur. Beyza ise bu rakamları kullanarak oluşturduğu sayıda toplam 8 kabartmalı nokta olacak şekilde 2000'den küçük rakamları farklı dört basamaklı en büyük doğal sayı oluşturmuştur.

Buna göre Arda'nın oluşturduğu doğal sayı Beyza'nın oluşturduğu doğal sayıdan kaç fazladır?

- A) 11 857 B) 8853 C) 7891 D) 7887

2. Aşağıda Simge'nin aldığı bisikletin fiyatı verilmiştir.



Buğra'nın aldığı bisikletin fiyatı; Simge'nin aldığı bisikletin fiyatından 350 TL eksik, Feyza'nın aldığı bisikletin fiyatından 585 TL fazladır.

Buna göre Feyza'nın aldığı bisiklet kaç liradır?

- A) 860 B) 1210
C) 1560 D) 2030

3. 370 904 sayısının okunuşu aşağıdakilerden hangisidir?

- A) Otuz yedi bin dokuz yüz dört
- B) Üç yüz yedi bin doksan dört
- C) Üç yüz yetmiş bin dokuz yüz dört
- D) Üç yüz yetmiş bin dokuz yüz kırk

4. 5600'den başlayarak ileriye doğru yüzer ritmik sayılırken söylenen yedinci sayı kaçtır?

- A) 6100
- B) 6200
- C) 6300
- D) 6400

5. Üç basamaklı en büyük doğal sayı ile dört basamaklı rakamları farklı en küçük doğal sayının toplamı kaçtır?

- A) 1999
- B) 2010
- C) 2022
- D) 2233

6. Aşağıdaki sıralamalardan hangisi yanlıştır?

- A) $8975 < 80\ 759 < 80\ 975$
- B) $12\ 005 < 12\ 505 < 12\ 555$
- C) $46\ 599 > 46\ 455 > 46\ 622$
- D) $63\ 868 > 62\ 886 > 62\ 688$

7. Aşağıdaki sayılardan hangisinin en yakın yüzlüğe yuvarlanmış hâli kendisinden küçüktür?

- A) 9169
- B) 5338
- C) 4281
- D) 2456

8. Aşağıdaki sayılardan hangisinde basamak değeri 40 000 olan bir rakam vardır?

- A) 42 689
- B) 64 350
- C) 226 488
- D) 457 703

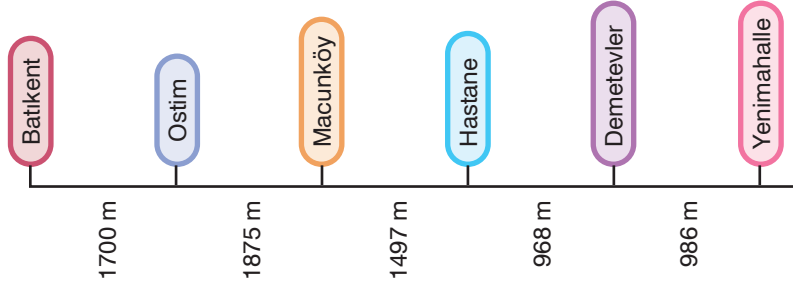
9. Seda Öğretmen, öğrencilerinin doğal sayılarla toplama işlemini pekiştirmeleri için dört eş bölmesinin her birinde birer doğal sayı yazılı olan iki çark tasarlamıştır. Seda Öğretmen'in tasarladığı çarklar aşağıda gösterilmiştir.



Seda Öğretmen, öğrencilerinden bu çarkların her birini bir kez çevirmelerini ve çarklar durduğunda her bir çarktaki kırmızı okun gösterdiği bölmelerin rengi aynıysa bölmelerdeki sayıları toplamalarını istemiştir.

Buna göre aşağıdakilerden hangisi Seda Öğretmen'in öğrencilerinden birinin bulduğu sonuçlardan biri olamaz?

- A) 8618 B) 8681 C) 9261 D) 10 582
10. Aşağıda Ankarada'ki bir metro hattının Batıkent ve Yenimahalle istasyonları arasındaki ardışık istasyonların birbirine olan mesafeleri verilmiştir.



Buna göre

- I. Batıkent ve Ostim istasyonları arasındaki mesafe ile Macunköy ve Hastane istasyonları arasındaki mesafenin toplamı 2197 metredir.
- II. Ostim ve Macunköy istasyonları arasındaki mesafe, Demetevler ve Yenimahalle istasyonları arasındaki mesafeden 889 metre fazladır.
- III. Hastane ve Demetevler istasyonları arasındaki mesafe Macunköy ve Hastane istasyonları arasındaki mesafeden 529 metre fazladır.
- IV. Ostim ve Hastane istasyonları arasındaki mesafe 3372 metredir.

ifadelerinden hangileri doğrudur?

- A) I ve III B) II ve IV C) I, II ve IV D) II, III ve IV

11. Aşağıdaki sayılardan hangisinin binler bölüğündeki sayı tek doğal sayıdır?

- A) 394 265 B) 640 794
C) 752 108 D) 863 522

12. Aşağıdaki işlemlerden hangisinin sonucu farklıdır?

- A) $3869 + 4107$
B) $5795 + 2281$
C) $6018 + 2058$
D) $4537 + 3539$

13. Aşağıdaki işlemlerden hangisinin sonucu yanlıştır?

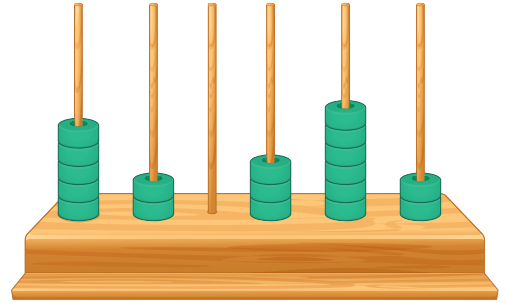
- A) $3517 - 588 = 2929$
B) $5068 - 3176 = 1992$
C) $6235 - 4089 = 2146$
D) $9370 - 417 = 8953$

14.  242 246 250 ■ 258 ▲

Verilen sayı örüntüsünde ■ ve ▲ yerine sırasıyla hangi sayılar gelmelidir?

- A) 252, 260
B) 252, 262
C) 254, 260
D) 254, 262

15. Ekin, bir abaküse boncuklar dizerek aşağıda modellemesi verilen sayıyı oluşturmuştur.



Daha sonra bu abaküsün bazı çubuklarından boncuklar çıkartıp bazılarına boncuklar ekleyerek okunuşu "altı yüz kırk beş bin otuz iki" olan sayıyı oluşturmuştur.

Buna göre abaküsteki toplam boncuk sayısı nasıl değişmiştir?

- A) 1 azalmıştır. B) 1 artmıştır.
C) 2 azalmıştır. D) 2 artmıştır.

MATEMATİK TESTİ BİTTİ.

FEN BİLİMLERİ

1. Bu testte 12 soru vardır.
2. Cevaplarınızı, bu sayfanın altında fen bilimleri testi için ayrılan yere işaretleyiniz.





1. Dünya, Güneş'in etrafındaki turunu 365 gün, kendi eksenini etrafındaki turunu ise 24 saatte tamamlar.

Buna göre Dünya, Güneş'in etrafında 1 tam tur attığında, kendi etrafında yaklaşık kaç defa döner?

- A) 12 B) 24 C) 30 D) 365

2. Bir mineralin maden olarak adlandırılması için ekonomik değerinin olması gerekir. Bu ekonomik değer her maden için farklı olabilir.

Metinde sözü edilen maddeye aşağıdakilerden hangisi örnek verilemez?

- A)  Altın
- B)  Demir
- C)  Odun
- D)  Krom

3. Yer bilimci, arazilerde dolaşarak taşların yapılarını inceler. Madenleri ve yer altındaki suları arar ve bulur. Deprem olabilecek yerleri belirler, doğal afetlerden korunmak için nerelere ev yapılabileceğini söyler.

Sözü edilen kişinin ilgilendiği bilim dalının ismi aşağıdakilerden hangisidir?

- A) Arkeoloji B) Paleontoloji
C) Jeoloji D) Biyoloji

- 4.


- Mevsimlerin oluşumu
- Gün içindeki sıcaklık farklılıklarının yaşanması
- Gece-gündüz uzunluğunun değişimi
- Güneş doğuş ve batış saatlerinin değişimi

Yukarıdaki olaylardan kaç tanesinin nedeni Dünya'nın yıllık hareketidir?

- A) 4 B) 3 C) 2 D) 1

5. Bir fosil bilimcinin incelediği fosil örneği aşağıdakilerden hangisi ile ilgili bilgi vermez?

- A) Canlının yaşadığı zaman dilimi
B) Canlının yaşadığı bölgenin iklim şartları
C) Canlının vücut büyüklüğü
D) Canlının neslinin ne zaman tükeneyeceği



BlokTest

Cevaplarınızı Bu Bölüme İşaretleyiniz

Soru	A	B	C	D	Soru	A	B	C	D
1	<input type="radio"/>	<input type="radio"/>	<input type="radio"/>	<input type="radio"/>	14	<input type="radio"/>	<input type="radio"/>	<input type="radio"/>	<input type="radio"/>
2	<input type="radio"/>	<input type="radio"/>	<input type="radio"/>	<input type="radio"/>	15	<input type="radio"/>	<input type="radio"/>	<input type="radio"/>	<input type="radio"/>
3	<input type="radio"/>	<input type="radio"/>	<input type="radio"/>	<input type="radio"/>	16	<input type="radio"/>	<input type="radio"/>	<input type="radio"/>	<input type="radio"/>
4	<input type="radio"/>	<input type="radio"/>	<input type="radio"/>	<input type="radio"/>	17	<input type="radio"/>	<input type="radio"/>	<input type="radio"/>	<input type="radio"/>
5	<input type="radio"/>	<input type="radio"/>	<input type="radio"/>	<input type="radio"/>	18	<input type="radio"/>	<input type="radio"/>	<input type="radio"/>	<input type="radio"/>
6	<input type="radio"/>	<input type="radio"/>	<input type="radio"/>	<input type="radio"/>	19	<input type="radio"/>	<input type="radio"/>	<input type="radio"/>	<input type="radio"/>
7	<input type="radio"/>	<input type="radio"/>	<input type="radio"/>	<input type="radio"/>	20	<input type="radio"/>	<input type="radio"/>	<input type="radio"/>	<input type="radio"/>
8	<input type="radio"/>	<input type="radio"/>	<input type="radio"/>	<input type="radio"/>	21	<input type="radio"/>	<input type="radio"/>	<input type="radio"/>	<input type="radio"/>
9	<input type="radio"/>	<input type="radio"/>	<input type="radio"/>	<input type="radio"/>	22	<input type="radio"/>	<input type="radio"/>	<input type="radio"/>	<input type="radio"/>
10	<input type="radio"/>	<input type="radio"/>	<input type="radio"/>	<input type="radio"/>	23	<input type="radio"/>	<input type="radio"/>	<input type="radio"/>	<input type="radio"/>
11	<input type="radio"/>	<input type="radio"/>	<input type="radio"/>	<input type="radio"/>	24	<input type="radio"/>	<input type="radio"/>	<input type="radio"/>	<input type="radio"/>
12	<input type="radio"/>	<input type="radio"/>	<input type="radio"/>	<input type="radio"/>	25	<input type="radio"/>	<input type="radio"/>	<input type="radio"/>	<input type="radio"/>
13	<input type="radio"/>	<input type="radio"/>	<input type="radio"/>	<input type="radio"/>	26	<input type="radio"/>	<input type="radio"/>	<input type="radio"/>	<input type="radio"/>

Öğrenci No

0	<input type="radio"/>	<input type="radio"/>	<input type="radio"/>	<input type="radio"/>
1	<input type="radio"/>	<input type="radio"/>	<input type="radio"/>	<input type="radio"/>
2	<input type="radio"/>	<input type="radio"/>	<input type="radio"/>	<input type="radio"/>
3	<input type="radio"/>	<input type="radio"/>	<input type="radio"/>	<input type="radio"/>
4	<input type="radio"/>	<input type="radio"/>	<input type="radio"/>	<input type="radio"/>
5	<input type="radio"/>	<input type="radio"/>	<input type="radio"/>	<input type="radio"/>
6	<input type="radio"/>	<input type="radio"/>	<input type="radio"/>	<input type="radio"/>
7	<input type="radio"/>	<input type="radio"/>	<input type="radio"/>	<input type="radio"/>
8	<input type="radio"/>	<input type="radio"/>	<input type="radio"/>	<input type="radio"/>
9	<input type="radio"/>	<input type="radio"/>	<input type="radio"/>	<input type="radio"/>

6.

1. Dünya'nın kendi etrafında yaptığı hareketin türüdür.
2. Dünya'nın hareketleri sırasında izlediği yola verilen addır.
3. Dünya Güneş'in etrafında yaptığı hareket sonucunda meydana gelen doğa olaylarından biridir.

Aşağıdakilerden hangisinde tanımı verilen kavramlar bir arada verilmiştir?

	1	2	3
A)	Dönme	Yörünge	Mevsim
B)	Elips	Dolanma	Hava durumu
C)	Dolanma	Yörünge	Mevsim
D)	Dönme	Dolanma	Yıl

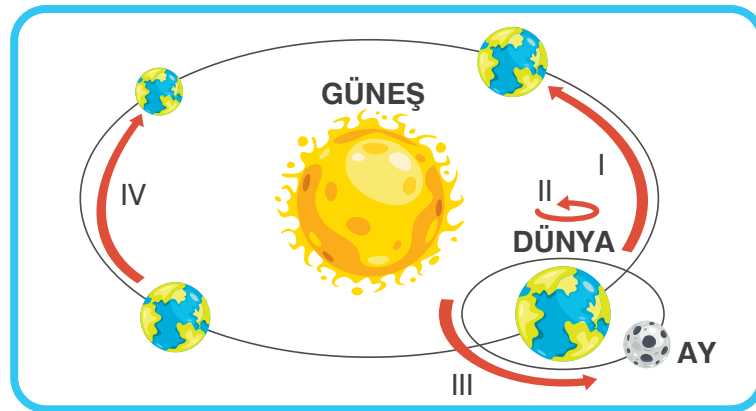
7. Canlılar fosilleşene kadar çeşitli aşamalardan geçerler. Aşağıda bu aşamalar karışık verilmiştir.

1. Hayvanların sert kısımları tortulların altına gömülür.
2. Su, kalıntıların üzerinden geçtikçe boşlukları minerallerle doldurarak kayacın fosilleşmesini sağlar.
3. Ölmüş hayvanların yumuşak yerleri çürür ya da başka canlılar tarafından yenir.
4. Tortullar, kalıntıları sıkıştırıp sertleştirir.

Buna göre fosilleşme sürecinin doğru sıralaması hangisidir?

- A) 1-3-2-4 B) 3-4-1-2 C) 3-1-4-2 D) 2-1-4-3

8.



Dünya'da gece ve gündüz oluşumunu sağlayan hareket hangi numarayla gösterilmiştir?

- A) I B) II C) III D) IV

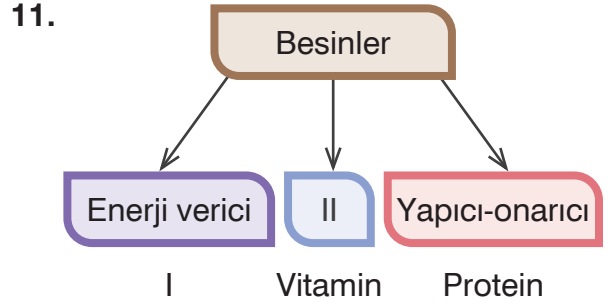
9. I.  Dürbün
- II.  Mikroskop
- III.  Teleskop
- IV.  Uzay aracı

Verilen araç ve aletler ile ilgili aşağıdakilerden hangisi söylenemez?

- A) I, uzay arařtırmalarında kullanılır.
B) II ile mikroskobik canlılar incelenir.
C) III'ün keřfiyle birçok gök cismi incelenebilmiştir.
D) IV'te görevli olan kişilere astronot ya da kozmonot adı verilir.

10. Aşağıdaki besinlerden hangisinin ağırlıklı içerięi dięerlerinden farklıdır?

- A)  Balık
- B)  Ekmek
- C)  Köfte
- D)  Yumurta







Şemada numaralanmış yerlere aşağıdakilerden hangileri yazılmaz?

- | | I | II |
|----|--------------|-------------|
| A) | Mineral | Su |
| B) | Karbonhidrat | Düzenleyici |
| C) | Yaę | Düzenleyici |
| D) | Protein | Düzenleyici |

12.



İlknur ve kardeři lokantada en sağlıklı menüyü seçmeye çalışmaktadır. Buna göre aşağıdakilerden hangisi sağlıklı bir öğlen yemeęi menüsü olabilir?

- A)  Köfte Kızartma Su
- B)  Börek Salata Pilav
- C)  Pilav Makarna Cacık
- D)  Tavuk Pilav Salata

FEN BİLİMLERİ TESTİ BİTTİ.

4. SINIF

Tüm Dersler

Beceri Temelli
Yeni Nesil Sorularla

8 Adet 62 Soruluk Deneme Sınavı

TÜM DERSLER KILAVUZ DENEME SINAVLARI VE İÇERDİĞİ ÜNİTELER

Ders Adı	Deneme 1	Deneme 2	Deneme 3	Deneme 4	Deneme 5	Deneme 6	Deneme 7	Deneme 8
Türkçe	1 - 2 6 - 11	2 - 4 - 5 - 6	2 - 3 - 4 - 6	2 - 3 - 4 - 5 6 - 10 - 11	2 - 3 - 4 - 5 6 - 10 - 11	2 - 3 - 4 - 5 6 - 7 - 10 11	2 - 3 - 4 6 - 7 - 8 10 - 11	2 - 3 - 4 - 5 6 - 7 - 8 - 9 10 - 11
Sosyal Bilgiler	1	1 - 2	1 - 2 - 3	1 - 2 - 3	1 - 2 - 3 - 4	1 - 2 - 3 4 - 5	1 - 2 - 3 4 - 5 - 6 - 7	1 - 2 - 3 4 - 5 - 6 - 7
İngilizce	1 - 2	1 - 2 - 3 - 4	1 - 2 - 3 4 - 5	1 - 2 - 3 4 - 5 - 6	1 - 2 - 3 - 4 5 - 6 - 7 - 8	1 - 2 - 3 - 4 5 - 6 - 7 8 - 9 - 10	1 - 2 - 3 - 4 5 - 6 - 7 8 - 9 - 10	1 - 2 - 3 - 4 5 - 6 - 7 8 - 9 - 10
Matematik	1	1 - 2	1 - 2 - 3	1 - 2 - 3 - 4	1 - 2 - 3 4 - 5	1 - 2 - 3 4 - 5	1 - 2 - 3 4 - 5 - 6	1 - 2 - 3 4 - 5 - 6
Fen Bilimleri	1 - 2	1 - 2	1 - 2 - 3	1 - 2 - 3 - 4	1 - 2 - 3 4 - 5	1 - 2 - 3 4 - 5	1 - 2 - 3 4 - 5 - 6 - 7	1 - 2 - 3 4 - 5 - 6 - 7

DERSLERDEKİ ÜNİTE VE KONU NUMARALARININ KAPSAMLARI

Türkçe	1. Harf ve Hece Bilgisi	7. Hikâye Unsurları
	2. Sözcükte ve Sözcük Gruplarında Anlam	8. Görsel Okuma
	3. Sözcükler Arası Anlam İlişkileri	9. Metin Türleri
	4. Cümlede Anlam	10. Noktalama İşaretleri
	5. Gerçek ve Hayalî Ögeler	11. Yazım Kuralları
	6. Okuduğunu Anlama	
Sosyal Bilgiler	1. Birey ve Toplum	5. Üretim, Dağıtım ve Tüketim
	2. Kültür ve Miras	6. Etkin Vatandaşlık
	3. İnsanlar, Yerler ve Çevreler	7. Küresel Bağlantılar
	4. Bilim, Teknoloji ve Toplum	
İngilizce	1. Classroom Rules	6. Fun with Science
	2. Nationality	7. Jobs
	3. Cartoon Characters	8. My Clothes
	4. Free Time	9. My Friends
	5. My Day	10. Food and Drinks
Matematik	1. Doğal Sayılar - Doğal Sayılarla Toplama İşlemi - Doğal Sayılarla Çıkarma İşlemi	4. Kesirler - Kesirlerle İşlemler - Zaman Ölçme - Veri Toplama ve Değerlendirme
	2. Doğal Sayılarla Toplama İşlemi - Doğal Sayılarla Çıkarma İşlemi	5. Geometrik Cisimler ve Şekiller - Geometride Temel Kavramlar - Uzamsal İlişkiler - Uzunluk Ölçme
	3. Doğal Sayılarla Çarpma İşlemi - Doğal Sayılarla Bölme İşlemi	6. Çevre Ölçme - Alan Ölçme - Tartma- Sıvı Ölçme
Fen Bilimleri	1. Yer Kabuğu ve Dünyaımızın Hareketleri	5. Aydınlatma ve Ses Teknolojileri
	2. Besinlerimiz	6. İnsan ve Çevre
	3. Kuvvetin Etkileri	7. Basit Elektrik Devreleri
	4. Maddenin Özellikleri	