

9 TARİH


Soru Bankası

22 Föy



Kavrama
Testleri

Pekiştirme
Testleri



Föy Planı

ÜNİTE	FÖY NO.	KONU
1. ÜNİTE: TARİH VE ZAMAN	1	İnsanlığın Hafızası Tarih, Tarihe Yardımcı Bilim Dalları
	2	Tarih Öğrenmenin Faydaları, Zamanın Taksimi
	3	1. ÜNİTE DEĞERLENDİRME SINAVI
2. ÜNİTE: İNSANLIĞIN İLK DÖNEMLERİ	4	İnsanlığın İlk İzleri, Yazının Gelişimi
	5	İlk Çağ'da Başlıca Medeniyet Havzaları
	6	İnsan ve Göç, Kabileden Devlete ve Kanunların Doğuşu
	7	2. ÜNİTE DEĞERLENDİRME SINAVI
3. ÜNİTE: ORTA ÇAĞ'DA DÜNYA	8	Orta Çağ'da Siyasi Yapılar, Tarımdan Ticarete Ekonomi, Ordu ve Kanunlar
	9	3. ÜNİTE DEĞERLENDİRME SINAVI
	10	1. DÖNEM DEĞERLENDİRME SINAVI
4. ÜNİTE: İLK VE ORTA ÇAĞLARDA TÜRK DÜNYASI	11	Avrasya'da İlk Türk İzleri, Boylardan Devlete
	12	Türklerin Göçebe Yaşam Tarzı ve Askerî Kültürü, Kavimler Göçü ve İlk Türk Devletlerinin Komşuları
	13	4. ÜNİTE DEĞERLENDİRME SINAVI
5. ÜNİTE: İSLAM MEDENİYETİNİN DOĞUŞU	14	İslamiyet'in Doğduğu Dönemde Dünya ve İslamiyet'in Yayılışı
	15	Dört Halife ve Emeviler Dönemi
	16	Abbasiler Dönemi ve Türkler-Gelişen Bilim Medeniyeti
	17	5. ÜNİTE DEĞERLENDİRME SINAVI
6. ÜNİTE: TÜRKLERİN İSLAMİYETİ KABULÜ VE İLK TÜRK İSLAM DEVLETLERİ	18	Türklerin İslamiyet'i Kabulü, İslamiyet'in Türk Devlet ve Toplum Yapısına Etkisi
	19	Oğuzların İslamiyet'i Kabulü ve Büyük Selçuklu Devleti
	20	Büyük Selçuklu Devleti'nde Yönetim ve Toplum Yapısı
	21	6. ÜNİTE DEĞERLENDİRME SINAVI
	22	2. DÖNEM DEĞERLENDİRME SINAVI

9. SINIF TARİH SORU BANKASI

©Tudem Eğitim Hiz. San. ve Tic. AŞ 1476/1 Sokak No: 10/51 Alsancak / Konak / İZMİR

YAZARLAR: Tudem Yazı Kurulu | DİZGİ VE GRAFİK: Tudem Grafik Ekibi

BASKI VE CİLT: Ertem Basım Yayın Dağıtım San. Tic. Ltd. Şti. Eskişehir Yolu 40. km Başkent OSB 22. Cadde No: 6
Malıköy / ANKARA 0 312 284 18 14

ISBN: 978-605-2031-91-9 | YAYINEVİ SERTİFİKA NO: 45041 | MATBAA SERTİFİKA NO: 48083

Tüm hakları saklıdır. Bu yayının hiçbir bölümü, telif hakkı sahibinin önceden yazılı izni olmaksızın tekrar üretilemez,
bir erişim sisteminde tutulamaz, herhangi bir biçimde elektronik, mekanik, fotokopi, kayıt ya da diğer yollarla iletilemez.



- **Tarih:** Geçmiş dönemlerdeki insanların yaşayışlarını, birbirleriyle olan ilişkilerini, kültürlerini, siyasi, sosyal ve ekonomik yapılarını yer ve zaman göstererek neden-sonuç ilişkisi içerisinde belgelere dayalı ve objektif olarak inceleyen bilim dalıdır.
- **Tarihî Olay:** Başlangıcı ve bitişi belli olan, kısa süreli gelişmelerdir.
- **Tarihî Olgu:** Bir olay sonucunda ortaya çıkan ve uzun bir döneme yayılan gelişmelerdir.
- Tarih biliminin yöntemleri; **tarama, tasnif, tahlil, tenkit ve terkip**'tir.

1.

TANIM	DURUM
Tarih: Geçmiş dönemlerdeki insanların birbirleriyle olan ilişkilerini; yer ve zaman göstererek neden-sonuç ilişkisi içerisinde belgelere dayalı ve objektif biçimde inceleyen bilim dalıdır.	Büyük Hun İmparatorluğu'nun yıkılmasından sonra Hunların Asya'dan Avrupa'ya doğru hareket etmesi, 410 yılında Roma'nın Vizigotlar tarafından yağmalanmasına neden olmuştur.

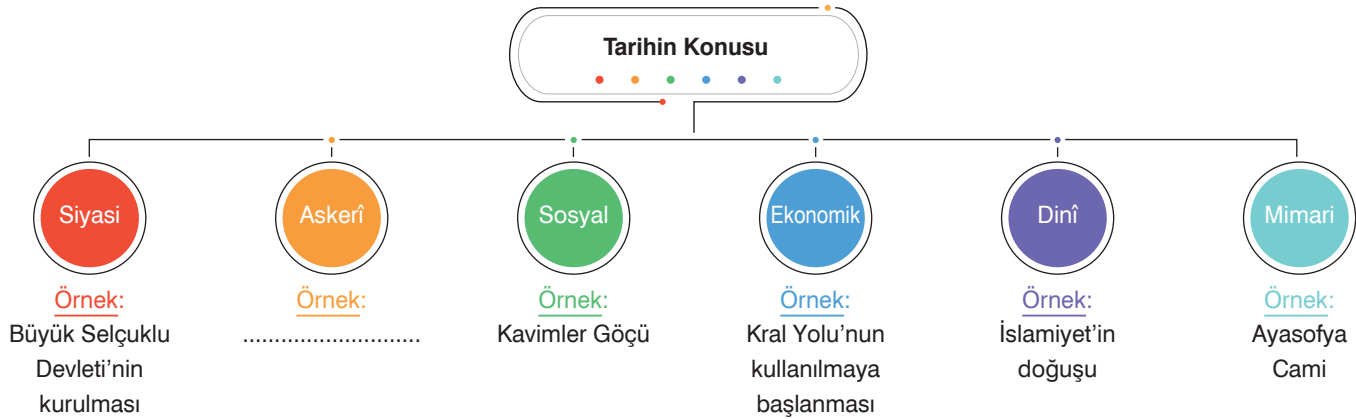
Buna göre verilen durum örneğinde tarihin tanımındaki

- Yer ve zaman belirtmesi
- Belgelere dayalı olması
- Neden-sonuç ilişkisi kurulması

unsurlarından hangilerine değinilmemiştir?

- A) Yalnız I B) Yalnız II C) I ve III D) II ve III E) I, II ve III

2.



Buna göre şemada boş bırakılan yere aşağıdakilerden hangisi getirilemez?

- A) İstanbul'un fethi B) Ridaniye Savaşı C) Ploşnik baskını
D) Viyana'nın kuşatılması E) Anadolu Hisarı'nın yapılması

3.

Fernand Braudel'e göre tarih: "Çevremizi saran ve bizi ilgilendiren bugünün sorunları adına geçmiş zamanların sorgulanmasıdır."

Edward Hallet Carr'a göre tarih: "Bugün ile geçmiş arasında bitmez bir diyalogtur."

Buna göre tarih ile ilgili verilen iki tanımın ortak noktası aşağıdakilerden hangisidir?

- A) Deney ve gözlem metodunun kullanılması
B) Tarihçilerin objektif olması
C) Tarihin temel konusunun devletlerin kültürü olması
D) Tarihin öznel bir bilim dalı olması
E) İnsanlığın geçmişte yaşadığı olaylara odaklanması, ders çıkarılmasını sağlaması ve bunları gelecek nesillere aktarması

4. **Aşağıdakilerden hangisi tarih bilimini doğrudan ilgilendiren alanlardan biri değildir?**

- A) Yer çekimi yasaları
B) Toplumların kültür öğeleri
C) Dünya savaşları
D) Yaşanan kitlesel göçler
E) Devletler arasında imzalanan antlaşmalar

5. Tarih, insanların geçmişteki faaliyetlerini inceleyen bilim dalıdır. Tarihi olaylar belirli mekânlarda ve zamanlarda meydana gelse de sonuçları geniş coğrafyalar ile kendisinden sonraki kuşakları etkileyebilir. Tarihi olaylar birbirine bağlı olduğundan tek başına, bağımsız bir şekilde incelenemez ve bu olaylar tekrarlanamaz.

Buna göre tarihî olaylar ile ilgili

- I. Deney ve gözlem metodu kullanılamaz.
II. Evrensel nitelik taşır.
III. Neden-sonuç ilişkisi içerisindedir.

yargılarından hangileri söylenebilir?

- A) Yalnız I
B) I ve II
C) I ve III
D) II ve III
E) I, II ve III

6.

Tarih Bilimin Yöntemleri	Tanım
Tarama	Araştırma yapılan konu ile ilgili kaynakların tespit edildiği aşamadır.
Tasnif	Bulunan kaynakların sınıflandırıldığı aşamadır.
Tahlil	Araştırma yapılacak konunun belirlendiği aşamadır.
Tenkit	Kaynakların araştırılması sonucunda elde edilen bilgilerin eleştirilmesi aşamasıdır.
Terkip	Elde edilen bilgilerin toplandığı ve yazıya geçirildiği aşamadır.

Tabloda verilen tanımların hangisinde hata yapılmıştır?

- A) I
B) II
C) III
D) IV
E) V

7. **Descartes tarafından söylenen "Tarihçi kendi çağına yabancılaşandır." sözleri tarih yazımında aşağıdaki özelliklerden hangisinin önemini vurgulamaktadır?**

- A) Deney ve gözlem yapmak
B) Yer ve zaman belirtmek
C) Sebep-sonuç ilişkisi kurmak
D) Araştırma yöntemi belirlemek
E) Dönemin koşullarını göz önünde bulundurmak

8. Konuları ve araştırmaları açısından bilimler; fen ve beşerî olarak ikiye ayrılır. Tarih de, beşerî bilimlerin inceleme alanında yer alır.

Buna göre

- I. Deney ve gözlem yapılması
II. Kesin kanunlar koyulması
III. Olaylarda rolü geçen insanların katkılarında değinilmesi

ifadelerinden hangileri fen bilimlerini tarihten ayıran özellikler arasında gösterilebilir?

- A) Yalnız I
B) I ve II
C) I ve III
D) II ve III
E) I, II ve III



Coğrafya, arkeoloji, antropoloji, kronoloji ve paleografya gibi bilimler tarihe yardımcı bilim dalları arasındadır.

1.



Galiçya, Birinci Dünya Savaşı'nda Osmanlı Devleti'nin sınırları içerisinde yer almayan ama yardım birliklerinin gönderildiği cephe'dir. Galiçya'da askerlik yapan M. Şevki Yazman, bu az bilinen cephe'deki olayların askerî, sosyal ve siyasi açılarını bu eserde kaleme almıştır. Kitabı okuyan tarihçiler cephenin tüm yönlerinin ele alındığını dile getirmişlerdir. Yazman'ın anıları, savaş kadar savaşımları ve savaşımların her şeye rağmen yaşama sevincini nasıl koruduklarının sıra dışı bir belgesi olmuştur.


Buna göre bu tarihî belge ile ilgili

- I. Birinci el kaynak olarak kabul edilir.
- II. Yaşanan olaylar savaşı bizzat yaşamış kişi tarafından yazılmıştır.
- III. Bu dönemi araştıran tarihçiler için sözlü kaynak niteliği taşır.

yargılarından hangileri söylenebilir?

- A) Yalnız I B) I ve II C) I ve III D) II ve III E) I, II ve III

2.



Nüsmatik

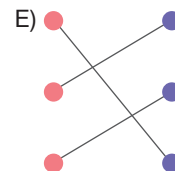
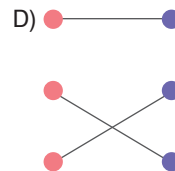
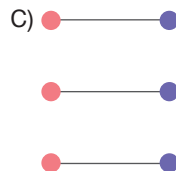
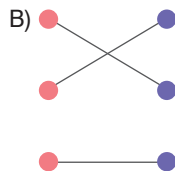
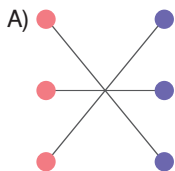


Antropoloji



Heraldik

Şemadaki tarihe yardımcı bilim dalları ve araştırma alanlarının eşleştirmesi aşağıdakilerin hangisinde doğru verilmiştir?



3. Tezi için araştırma yapan bir öğrenci bulduğu tüm belgeleri konusuna, mekânına ve zamanına göre sınıflandırmaya başlamıştır.

Buna göre öğrencinin

- I. Tarama
- II. Tahlil
- III. Tasnif
- IV. Tenkit
- V. Terkip

numaralanmış yöntemlerin hangisinde olduğu söylenebilir?

- A) I B) II C) III D) IV E) V

4. Truva halkının yaşayışı ve Truva Savaşı tarihçiler için önemli araştırma konularından biri olmuştur. Homeros'un ölümsüz destanı İlyada'da, Truva Savaşı'ndaki kahramanların dünyası dile getirilirken bir yandan da evin düzeninden sorumlu olan kadınların en önemli işlerinden birinin dokuma yapmak olduğu ve dolayısıyla günlerini dokuma tezgâhının başında geçirdikleri anlatılmıştır. Destan sadece kahramanların dünyasını değil, köylülerin görüldüğü zıt bir dünyayı da tanıtmıştır.

"İris, sofrada buldu Helene'yi,
büyücek bir kumaş dokuyordu
ıpişıldı kumaşın iki yüzü de,
üstüne savaş resimleri işlenmişti bir
sürü..."

Metindeki araştırmada aşağıdaki bilim dallarından hangilerinin tarih bilimine yardımcı olduğu söylenebilir?

- A) Etnografya-Edebiyat B) Coğrafya-Kimya
C) Heraldik-Antropoloji D) Arkeoloji-Filoloji
E) Edebiyat-Nümismatik

5. İlk Çağ'ın zaman sınırları her uygarlık için farklı olmuştur. Örneğin, Mezopotamya'da yazının ilk defa kullanılması MÖ 3200 yıllardır. Mısır hiyeroglifleri de MÖ 3000 yıllarında kullanılmaya başlanmıştır. Anadolu'nun tarihi devirlere girişinin MÖ 2000, Eski Yunanistan'ın MÖ 1200, Roma'nın ise MÖ 1000 yıllarına dayandığı bilinmektedir.

Bu bilgilerin elde edilmesinde aşağıdaki tarihe yardımcı bilim dallarının hangisinden faydalanılamaz?

- A) Arkeoloji B) Kronoloji C) Paleografya
D) Coğrafya E) Nümismatik

6. Aşağıdakilerden hangisi tarih araştırmalarında kullanılan birinci el kaynaklardan biri değildir?

A)



B)




C)



D)



E)



7. Herodot yaptığı seyahatler sırasında gördüğü olayları ve duyduklarını "Historia" adını verdiği kitabında toplamıştır. Herodot eserinde "Kroisos doğuştan Lidyalıydı. Güneyden girip Syria ve Paphlagonia arasında akan ve Karadeniz denilen denizdeki Boreas rüzgârı yöresinde son bulan Halys Irmağı'nın beri yakasındaki ulusların tiranı olan Alyattes'in oğluydu. İşte kimi Yunanlıları haraca bağlarken kimilerini de dost edinen ilk barbar, bizim bildiğimiz bu Kroisos'tur. İyonları ve Asya Dorlarını haraca bağlamış, Kroisos'un ortaya çıkışından önce bütün Yunanlılar özgürdüler." ifadelerini kullanmıştır.

Buna göre metindeki bilgiler aşağıdaki tarih yazıcılığı türlerinden hangisine örnek olarak verilebilir?

- A) Kronik B) Hikâyeci C) Öğretici
D) Sosyal E) Araştırmacı



1. Türkiye'nin en büyük adası olan Gökçeada'nın Uğurlu-Zeytinlik höyüğü 2009 yılından bu yana Akdeniz Üniversitesi adına Prof. Dr. Burçin Erdoğan başkanlığındaki bir ekip tarafından kazılmaktadır. Doğanlı Tepe'nin eteklerinde bir yamaç yerleşimi görünümündeki höyüğün boyutları 250×200 metredir. Arkeologlara göre Uğurlu-Zeytinlik, Doğu Ege adalarında şimdiye kadar bilinen en erken Neolitik Çağ yerleşmesidir. Bu kazılar hem Avrupa'da Neolitik yaşam biçiminin nasıl başladığı sorununa katkıda bulunacak hem de bu dönemde Ege Adaları, Anadolu ve Balkanlar arasındaki ilişkileri ortaya çıkartacaktır.

Buna göre Tarih bilimi ile ilgili

- I. Dinamik bir bilim dalı olduğuna
II. Arkeoloji biliminden yararlandığına
III. Sadece uzak geçmişte yaşanan olayları incelediğine

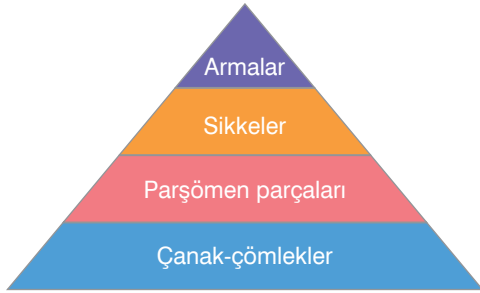
yargılarından hangilerine ulaşılabilir?

- A) Yalnız I
B) I ve II
C) I ve III
D) II ve III
E) I, II ve III

2. Aşağıdaki isimlerden hangisi öğretici tarih yazıcılığının öncüsü olarak kabul edilmektedir?

- A) Herodot
B) Tukidides
C) Aristoteles
D) Sokrates
E) Homeros

3. Şemada eski bir yerleşim bölgesinde yapılan kazılarda toprak katmanlarında bulunan kalıntılar verilmiştir.



Buna göre bu kalıntıların değerlendirilmesinde aşağıdaki bilim dallarından hangisi kullanılamaz?

- A) Filoloji
B) Paleografya
C) Heraldik
D) Etnografya
E) Nümismatik

4. Tarih dinamik bir bilim dalıdır. Doğru bilgilere ulaşılması için araştırma yapılması ve bulunan belgelerin incelenmesi gerekir. Bu sebeple tarih ile ilgili araştırmalarda birçok bilim dalından faydalanılır. Örneğin kronoloji bilimi sayesinde araştırmalardaki olay ve olgular arasında neden-sonuç ilişkisi kurulur.

Buna göre tarih araştırmaları ile ilgili

- I. Deney ve gözlem metodu kullanılır.
II. Kanıtlara dayalıdır.
III. Farklı bilim dallarının katkısı vardır.

yargılarından hangilerine ulaşamaz?

- A) Yalnız I
B) Yalnız II
C) I ve II
D) II ve III
E) I, II ve III

- 5.

Bilim dalı	Tanım
I. Kültürel Antropoloji	Etnolojik analiz yöntemlerine dayanarak kültürlerin gelişimini inceler.
II. Nümismatik	Sikke veya kâğıt paraları inceler.
III. Epigrafya	Yazıtları ve tarihi yapıtlardaki yazıları inceler.
IV. Arkeoloji	Kendine ait yöntemleri kullanarak ortaya çıkardığı kültürleri, farklı birçok bilim dalından yararlanarak inceler.
V. Psikoloji	Toplumların etkileşimini inceler.

Tabloda numaralanarak verilen tarihe yardımcı bilim dalları ve tanım eşleştirmelerinden hangisi yanlıştır?

- A) I
B) II
C) III
D) IV
E) V

6. "Sivas kurultayından sonra İstanbul hükümeti ile yapılan görüşmelerin bir yarar getirmeyeceği sonucuna vardık. Böylece 12 Eylül 1919'dan itibaren İstanbul hükümeti ile haberleşmemizi ve bağlantımızı kestik. 13 Eylül'den sonra Erzurum ve Sivas kurultaylarının almış oldukları karar gereği milletvekili seçimi hazırlıklarına başladık." (Mustafa Kemal Atatürk, Nutuk)

- I. Neden-sonuç
II. Deney ve gözlem
III. Yer ve zaman

Bu metinde yukarıda numaralanarak verilen ifadelerin hangileri belirtilmiştir?

- A) Yalnız I
B) I ve II
C) I ve III
D) II ve III
E) I, II ve III

7. Tarih bilimi araştırma yaparken belirli yöntemler kullanmaktadır. Bu yöntemlerden bazıları şunlardır:
- Elde edilen bilgiler bu aşamada toplanır ve yazıya geçirilir.
 - Sınıflandırılan kaynakların incelendiği aşamadır.
 - Araştırılacak konu ile ilgili kaynaklar bu aşamada tespit edilir.

Buna göre tanımlar ile kullanılan yöntemler aşağıdakilerin hangisinde doğru verilmiştir?

	I	II	III
A)	Tarama	Tahlil	Terkip
B)	Terkip	Tasnif	Tahlil
C)	Tenkit	Tarama	Tahlil
D)	Terkip	Tahlil	Tarama
E)	Tarama	Tasnif	Tahlil

8. Bir öğrenci Kurtuluş Savaşı ile ilgili ödevini hazırlarken asker hatıratı, o dönemde basılmış para, *Nutuk* eseri, TBMM'nin çıkardığı kanun taslağı ve Celal Erikan'ın *Kurtuluş Savaşı Tarihi* kitabından kaynakça olarak yararlanmıştır.

Buna göre aşağıdakilerden hangisi bu araştırmada birinci elden kaynak olarak gösterilemez?

- A) Tarihî para
B) *Nutuk* eseri
C) Kanun taslağı
D) Askerin hatıratı
E) *Kurtuluş Savaşı Tarihi* kitabı

9. Tarih biliminin özelliklerinden bazıları şunlardır:
- Tarih, insanların geçmiş faaliyetlerini inceler.
 - Tarihî olaylar belirli zaman ve mekânda meydana gelir fakat olayların sonuçları farklı coğrafyaları ve zamanları etkileyebilir.
 - Tarihî olaylar tekrarlanamaz.
 - Yeni bulunacak belgeler, bilgilerin değişmesine ve dönüşmesine etki eder.

Buna göre tarihî olaylar ile ilgili

- Deney ve gözlem metodu kullanılamaz.
- Kesin kanunları bulunmaz.
- Öznel bir yaklaşımla değerlendirme yapılır.

yargılarından hangilerine ulaşılabilir?

- A) Yalnız I
B) Yalnız II
C) I ve II
D) II ve III
E) I, II ve III

10. Osmanlı Devleti'nde padişahların ve devletlerin başarılarını şehnameci adı verilen kişiler kaleme almıştır. XVII. yüzyıldan sonra ise bu görevi adı verilen devlet tarihçileri devralmıştır ve görevin ilk temsilcisi Naima Efendi'dir.

Buna göre metinde boş bırakılan yere aşağıdakilerden hangisi getirilmelidir?

- A) Müderris
B) Nakkaş
C) Vakanüvis
D) Hattat
E) Müverrih

11. Şemada tarih yazıcılığının çeşitleri numaralanarak tanımları ise harflerle karışık şekilde verilmiştir.

1 Sosyal Tarih	Olaylar oluş sırasına göre aktarılır.	A
2 Araştırmacı Tarih	Toplum faaliyetleri incelenir.	B
3 Öğretici Tarih	Olaylar her alanda ayrıntılı şekilde incelenir.	C
4 Hikayeci Tarih	Geçmişte yaşanan olaylardan ders çıkarılır.	D
5 Kronik Tarih	Olaylar aktarılırken efsanelere ve hikâyelere yer verilir.	E

Buna göre şemadaki tarih çeşitleri ile tanımlarının doğru eşleştirilmiş hâli aşağıdakilerden hangisidir?

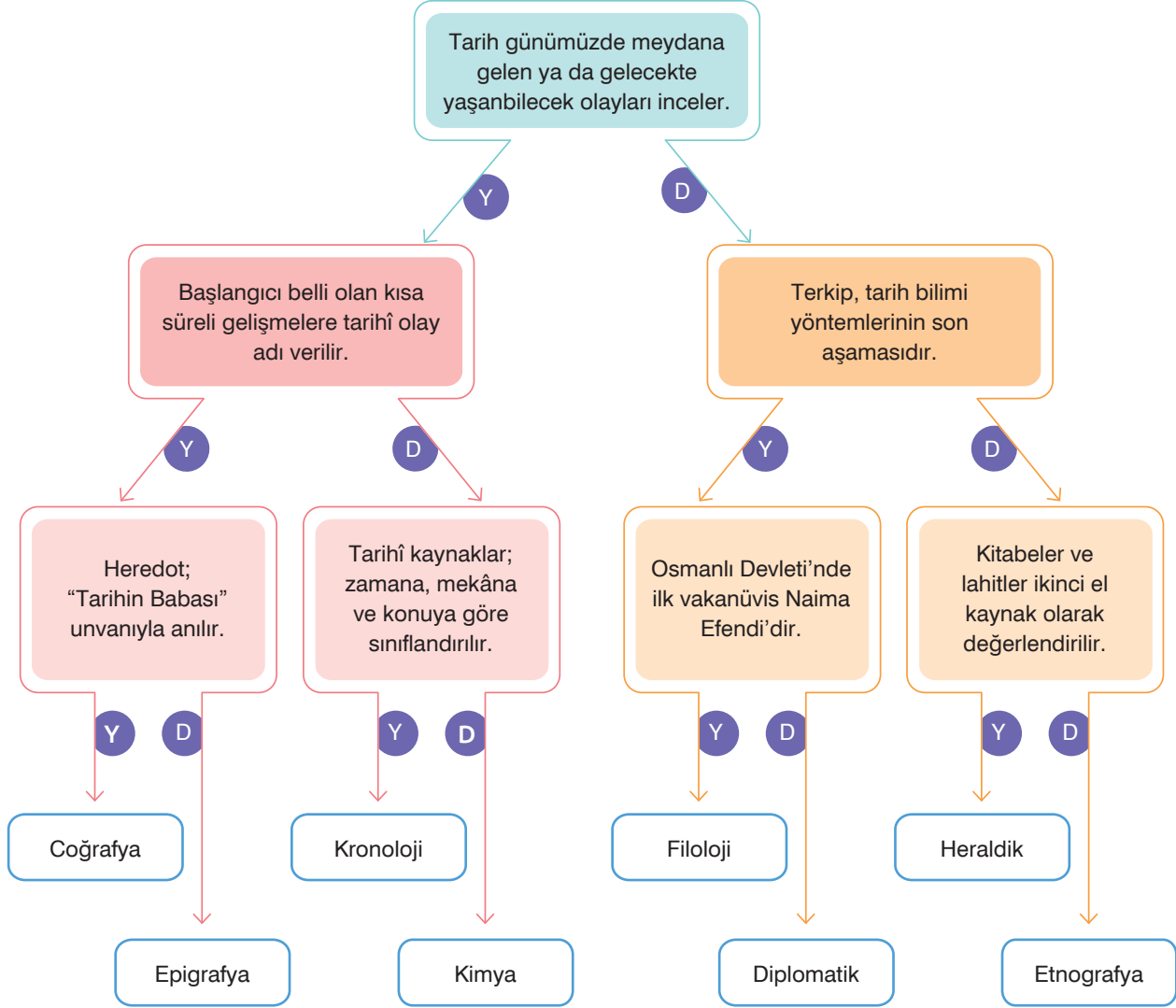
- A) 1-B, 2-C, 3-D, 4-E, 5-A
B) 1-B, 2-A, 3-C, 4-D, 5-E
C) 1-C, 2-D, 3-B, 4-A, 5-E
D) 1-E, 2-B, 3-A, 4-D, 5-C
E) 1-E, 2-D, 3-C, 4-B, 5-A

12. Aşağıdakilerden hangisi bir tarihçinin araştırmaları sırasında izlemesi gereken yollardan biri değildir?

- A) Olayları belgelerle sunmak
B) Okuyucuyu bir amaç doğrultusunda yönlendirmek
C) Kanıtları eleştiri süzgecinden geçirmek
D) Olayları incelerken tarafsız olmak
E) Olaylar arasında neden-sonuç ilişkisi kurmak



1. Şemada tarih bilimi ile ilgili bilgiler verilmiştir.



Buna göre şemadaki bilgiler doğru ya da yanlış olma durumuna göre değerlendirildiğinde aşağıdakilerden hangisine ulaşılır?

- A) Toplumların kullandıkları dillerin özelliklerini inceler.
 B) Üzerinde yazı bulunan anıtları inceler ve yazıları çözer.
 C) Toplumların gelenek göreneklerini ve yaşayışlarını inceler.
 D) Antlaşmalar, fermanlar ve beratlar gibi siyasi belgeleri inceler.
 E) Karbon 14 metodu ile tarihî eserlerin hangi döneme ait olduğunun tespitini yapar.

2. Bir tarihçi objektif tarih yazmak istiyorsa kendine birinci elden kaynakları rehber edinmelidir.

Buna göre II. Göktürkleri araştıran bir tarihçinin kullandığı birinci elden kaynak aşağıdakilerden hangisidir?

- A) Göç Destanı
 B) Kervansaraylar
 C) Orhun Abideleri
 D) Yenisey Yazıtları
 E) Kadeş Antlaşması

3. Kazı yapılacak alanların tespit edilme aşamalarından bazıları şunlardır:
- Çalışmaya başlayacak ekip, öncelikle eski haritalar ve varsa yazılı belgeleri araştırır.
 - Yöre halkı ile yapılan bilgi alışverişi ile o bölgede eskiden hangi yapıların bulunduğunu öğrenmeye çalışır.
 - Kazı yapılacak alanın daraltılması adına su kaynaklarına yakın ve yüksek yerler bulunur.
 - Çalışma ekibi GIS ve GPR adı verilen iki teknolojik yöntem ile kazı alanının mekânsal analizini, toprağın yüzeyinde ve altında var olabilecek mezar ya da bina temelleri gibi duvar kalıntılarını tespit eder.
 - Metal dedektör ile eski yapılarla ilişkili olabilecek çivi ve askerî ekipman gibi malzemeleri tespit eder.
 - En sonunda da yüzey araştırması, hava fotoğrafı ve uzaydan fotoğraflandırma yaparak ön değerlendirmeden kazı aşamasına geçer.

Buna göre özellikleri verilen ve tarihî araştırmalarda yararlanan bilim dalı aşağıdakilerden hangisidir?

- A) Arkeoloji B) Antropoloji C) Coğrafya
D) Kronoloji E) Paleografya

4. Tarihî bir olay incelenirken bir ya da birden fazla bilim dalından yararlanılabilir.



Buna göre görseldeki kaynakları inceleyen bir tarihçinin yararlandığı ortak bilim dalı aşağıdakilerden hangisidir?

- A) Heraldik B) Epigrafi C) Paleografya
D) Etnografya E) Nüsmatik

5. “Tarih doğrulanmış bir olgular kümesidir. Tıpkı bir balığın tablasındaki balıklar gibi, belgeler, yazıtlar vb. içinde olgular hazır dururlar. Bazı zamanlarda tarihçi onları alır, evine götürür, pişirir, canı nasıl istiyorsa o şekilde sofraya koyar.” (Edward Hallet Carr, *Tarih Nedir?*)

Buna göre

- I. Tarihçilerin kaynakları yetersiz kullanması
II. Öznel yorumlar yapılması
III. Objektiflikten uzak tutum sergilenmesi

yargılarından hangileri eleştirilmiştir?

- A) Yalnız I B) Yalnız II C) I ve II
D) II ve III E) I, II ve III

6. Tarihî olayların araştırılması için toplanan kaynakların kendi aralarında zamana, mekâna ve konuya göre sınıflandırılması kaynakların daha kolay incelenmesini sağlamıştır.

Buna göre aşağıdakilerin hangisinde kullanılan sınıflandırma ölçütü diğerlerinden farklıdır?

- A) Sanat Tarihi B) Siyasi Tarih
C) Kültür Tarihi D) Bilim Tarihi
E) Orta Çağ Tarihi

7. Başlangıcı ve bitişi belli olan gelişmelere “tarihî olay” bir olayın sonucunda ortaya çıkan ve uzun bir döneme yayılan gelişmelere ise “olgu” adı verilir. Tarih felsefesi; yaşanan bu olay ve olguların arasında neden-sonuç ilişkisi kurmaya, bu olaylardan ders çıkararak geleceği ön görme temellerine dayanmaktadır.

Buna göre

- I. Olaylar, olgulardan daha kısa sürede meydana gelmektedir.
II. Olaylar arasındaki bağ açığa çıkarılmaktadır.
III. Gelecek nesillere ışık tutmak amaçlanmaktadır.

yargılarından hangilerine ulaşılabilir?

- A) Yalnız I B) Yalnız II C) I ve II
D) II ve III E) I, II ve III



- Ay yılı esaslı takvimi **Sümerler**, Güneş yılı esaslı takvimi **Mısırlılar** bulmuştur.
- Türkler; **12 Hayvanlı Türk, Hicri, Celâli, Rumi** ve **Miladi Takvimi** kullanmışlardır.

1.

I

Güneş yılı
esaslı

Başkanlığını Ömer Hayyam'ın üstlendiği bir kurul tarafından Büyük Selçuklu Sultanı Melikşah adına hazırlanmıştır. Vergi ve maliye işlerinin düzenlenmesinde kullanılmıştır.

II

Ay yılı
esaslı

Hicret olayı başlangıç olarak kabul edilmiştir. Bir yıl 354 gündür. Türkler, Müslüman olduktan sonra bu takvimi kullanmaya başlamıştır.

III

Güneş yılı
esaslı

Hicret olayı başlangıç olarak kabul edilmiştir. Bir yıl 365 gün 6 saattir. Osmanlı Devleti'nde malî işleri düzenlemek amacıyla hazırlanmıştır.

IV

Güneş yılı
esaslı

Romalılar tarafından son hali verilmiştir. Hz. İsa'nın doğumu başlangıç olarak kabul edilmiştir. Türkiye bu takvimi 1926 yılında kullanmaya başlamıştır.

V

Güneş yılı
esaslı

Türklerin icat ettiği ve İslamiyet öncesi dönemde kullandıkları takvimdir. Her yıl bir hayvan ismiyle adlandırılmıştır.

Buna göre özellikleri numaralanarak verilen takvim isimleri aşağıdakilerden hangisidir?

	I	II	III	IV	V
A)	Rumi	Hicri	Celâli	Miladi	12 Hayvanlı
B)	Celâli	Hicri	Rumi	Miladi	12 Hayvanlı
C)	Rumi	12 Hayvanlı	Miladi	Celâli	Hicri
D)	Miladi	Hicri	Celâli	Rumi	12 Hayvanlı
E)	Celâli	12 Hayvanlı	Rumi	Miladi	Hicri

2. Tarihte kullanılan yüz yıllık zaman bölümlerine "yüzyıl" denir. Kullanılan bir tarihin yüzyılı belirtilirken sayı, üç haneli ise soldan birinci hane, dört haneli ise soldan ilk iki hane bir artırılır.

Buna göre aşağıdakilerden hangisinin **yüzyılı yanlış hesaplanmıştır?**

- A) MÖ 2589 → MÖ XXVI. yüzyıl
B) 215 → III. yüzyıl
C) MÖ 753 → MÖ LXXVI. yüzyıl
D) 1908 → XX. yüzyıl
E) 1453 → XV. yüzyıl

3. Tarih günümüzde toplumları, milletleri, kuruluşları etkileyen hareketlerden doğan, olayları zaman ve yer göstererek anlatan, bu olaylar arasındaki ilişkileri, daha önceki ve sonraki olaylarla bağlantılarını, karşılıklı etkilenmelerini ve milletlerin kurdukları medeniyetleri inceleyen bilim anlamına gelir. Tarihin tanımını Herodot "insanlığın başından geçenleri kaydetmek", İbn-i Haldun "insanlığın başından geçenlerin sebeplerini keşfetmek", Ahmet Cevdet Paşa ise "olan olayları değerlendirmek ve onlardan ders çıkarmak" olarak tanımlamıştır. Tarihin açıklaması farklı şekillerde yapılsa da düşünürlerin ortak noktası tarih biliminin sağladığı faydalar olmuştur.

Buna göre aşağıdakilerden hangisi altı çizili ifadeye örnek verilemez?

- A) Millî ve toplumsal bir kimliğin oluşmasını sağlar.
B) Farklı toplumlarda kullanılan dillerin öğrenilmesini sağlar.
C) Millî değerlerin gelecek nesillere aktarılmasında rol oynar.
D) Uygarlıkların oluşturduğu ortak değerlere sahip çıkmayı öğretir.
E) Olaylar arasında ilişki kurmayı ve yaşanan olayları sorgulayıp bilgiye ulaşmayı sağlar.

4. Olayların yaşandığı her dönemin kendine ait siyasi, sosyal, ekonomik ve dinî yapısı bulunmaktadır. Olayları yaşayan ya da bunların etkilerini hisseden toplumların kültürleri, değer yargıları ve yaşam tarzları birbirinden farklıdır. Bu yüzden tarih araştırmalarında, araştırmacının ya da yazarın ne anlatmak istediği önemli değildir. Önemli olan belgelerin ve bulguların ne anlatmak istediğidir. Örneğin I. Ahmet zamanında kullanılmaya başlanan Ekber-i Erşet usulü üzerine birçok makale yazılmıştır. Günümüz şartlarında uygulamaya konulamayacak olan bu sistem, o zamanda Osmanlı Devleti'ndeki taht kavgalarını önleme ve devletin ömrünü uzatma amacıyla uygulanmıştır.

Buna göre

- I. Tarihi olaylar incelenirken olayın geçtiği dönemin şartları ele alınmalıdır.
II. Geçmişte yaşanan bir olayın günümüz düşünce sistemi ve yargılarıyla eleştirilmesi doğru değildir.
III. Tarihi, sadece kendi döneminde gerçekleşen olayları araştırmalıdır.

yargılarından hangilerine ulaşılabilir?

- A) Yalnız I
B) I ve II
C) I ve III
D) II ve III
E) I, II ve III

5. Türklerin kullandığı takvimler şunlardır:

- I. 12 Hayvanlı
II. Hicri
III. Celâli
IV. Rumi
V. Miladi

Buna göre bu takvimlerin ait olduğu yıl sistemi aşağıdakilerin hangisinde doğru verilmiştir?

	Güneş	Ay
A)	I, II ve III	IV ve V
B)	I, II ve V	III ve IV
C)	II, III ve IV	I ve V
D)	II, III, IV ve V	I
E)	I, III, IV ve V	II

6. Aşağıdakilerden hangisinin oluş zamanı diğerlerine göre daha belirgindir?

- A) Feodalite, Orta Çağ'da başlamıştır.
B) Gazneliler, X. yüzyılda kurulmuştur.
C) 23 Nisan 1920'de TBMM açılmıştır.
D) Cumhuriyet, 29 Ekim'de ilan edilmiştir.
E) Tekerlek, günümüzden yaklaşık 8000 yıl önce icat edilmiştir.

7. Geçmişte toplumların çoğu kendi ihtiyaçlarına yönelik takvim oluşturmuştur. İbraniler yaratılış yılı olarak gördükleri MÖ 3761 yılını, Yunanlılar ilk olimpiyatların düzenlendiği MÖ 776 yılını, Romalılar şehirlerinin kuruluş yılı olan MÖ 753'ü, Müslümanlar Hicret olayını, Hristiyanlar ise İsa'nın doğumunu oluşturdukları takvimlerde başlangıç yılı olarak kabul etmişlerdir.

Buna göre

- I. Takvimlerin başlangıç tarihleri, toplumdan topluma değişim göstermiştir.
II. Aynı takvim, başka medeniyetler tarafından değiştirilerek kullanılmıştır.
III. Bütün medeniyetler aynı takvimi kullanmışlardır.

yargılarından hangilerine ulaşılabilir?

- A) Yalnız I
B) Yalnız II
C) I ve III
D) II ve III
E) I, II ve III



1. Tabloda yüzyıl hesaplamaları yapılırken kullanılan bilgiler verilmiştir.

Milattan önce (MÖ)				Milattan Sonra (MS)			
99-0 1. yüzyıl				0-99 1. yüzyıl			
99-75 1. yüzyılın ilk yarısı		49-0 1. yüzyılın ikinci yarısı		0-49 1. yüzyılın ilk yarısı		50-99 1. yüzyılın ikinci yarısı	
99-75 1. çeyrek	74-50 2. çeyrek	49-25 3. çeyrek	24-0 4. çeyrek	0-24 1. çeyrek	25-49 2. çeyrek	50-74 3. çeyrek	75-99 4. çeyrek
0 (MİLAT)							

Hz. İsa'nın doğumu "0" yani milat olarak kabul edilmektedir. Hz. İsa'nın doğumundan önceki dönemlere milattan önce (MÖ), sonraki dönemlere ise milattan sonra (MS) adı verilmektedir.

Buna göre tablodan yararlanılarak yapılan aşağıdaki hesaplamalardan hangisi doğrudur?

- A) 375 → IV. yüzyılın ikinci yarısının birinci çeyreği
 B) MÖ 1698 → MÖ XVII. yüzyılın ikinci yarısının dördüncü çeyreği
 C) 1512 → XVI. yüzyılın ilk yarısının ikinci çeyreği
 D) MÖ 2489 → MÖ XXV. yüzyılın ilk yarısının birinci çeyreği
 E) 2018 → XXI. yüzyılın ikinci yarısının üçüncü çeyreği
2. Tarih öğretmeni, öğrencisi Fatih'ten Rumi ve Hicri takvimin özelliklerini araştırmasını ve sonra iki takvim arasındaki benzerliklerin ve farkların neler olduğunu yazmasını istemiştir. Fatih'in hazırladığı ödev şu şekildedir:

Benzerlikler	
1.
2.
3.

Farklılıklar	
1.
2.
3.

Buna göre görselde boş bırakılan yerlere aşağıdakilerden hangisi getirilmelidir?

- | Benzerlikler | Farklılıklar |
|--|---|
| A) Ay yılı esaslı olmaları | Rumi takvimi Osmanlı'nın, Hicri takvimi Selçuklunun kullanması |
| B) Hicret'in başlangıç yılı kabul edilmesi | Rumi takvimde yılın 365 gün 6 saat, Hicri takvimde ise 354 gün olması |
| C) Güneş yılı esaslı olmaları | Rumi takvimi Türklerin İslamiyet'ten önce, Hicri takvimi ise sonra kullanması |
| D) İsa'nın doğumunun başlangıç yılı kabul edilmesi | Rumi takvimi Selçuklunun, Hicri takvimi Osmanlı'nın kullanması |
| E) Ay yılı esaslı olmaları | Rumi takvimde yılın 354, Hicri takvimde yılın 365 gün 6 saat olması |

3. Tarih öğrenmenin faydalarından biri insanların diğer bilim dallarını anlamasında onlara kültürel, sosyal ve entelektüel bir bakış açısı kazandırmasıdır. Örneğin siyaset bilimi ile ilgilenen bir kişi öncelikle uygarlıkların tarihini araştırmalı ve özümsemelidir. Kişi bu araştırmalarının sonucunda toplumların ve yönetim biçimlerinin gelişme amaçlarını da fark edebilir. Ya da Avrupa'daki yönetim sistemlerini öğrenmek isteyen bir kişi mutlaka feodalite kavramını ve tarihteki yerini bilmelidir.

Buna göre tarih bilimi ile ilgili

- Diğer bilim dallarından daha önemli olduğuna
- Okuyucusuna farklı bakış açıları kazandırdığına
- Farklı bilim dallarını araştırırken destek alındığına

yargılarından hangilerine ulaşılabilir?

- A) Yalnız I B) I ve II C) I ve III
D) II ve III E) I, II ve III

4. Geçmişini bilmek; bir anlamda kendini, benliğini ve milletini tanımaktır. Tarihini bilmeyen bir toplum, hafızasını kaybetmiş bir insana benzer. Geçmişini bilmek aynı zamanda çevremizi, komşularımızı, dünyamızı bilmek ve tanımaktır.

Bu metinde aşağıdakilerden hangisinin önemi vurgulanmıştır?

- A) Tarih türlerinin
B) Tarih öğrenmenin
C) Tarihin konusunun
D) Tarihin kaynaklarının
E) Tarihe yardımcı bilimlerin

5. Bir oluşun içinden geçtiği, geçmekte olduğu ve geçeceği süreye zaman adı verilir. İnsanlar yaşadıkları bu süreyi anlamlandırmak için bölümlere ayırmış ve ayırdıkları bu bölümlere takvim adını vermişlerdir. Bu insanların kurduğu medeniyetler Dünya'nın, Güneş'in ve Ay'ın hareketlerini izleyerek takvimlerin icadını sağlamıştır.

Buna göre aşağıdakilerden hangisi takvimlerin icadına katkıda bulunan medeniyetlerdir?

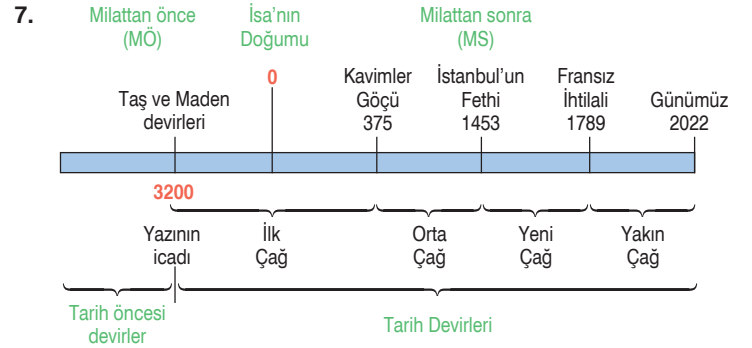
- A) Romalılar-Asurlular B) Hititler-Frigler
C) Sümerler-Mısırlılar D) İyonlar-Akadlar
E) Sümerler-Babiller

6. Tarih biliminin diğer bilim dalları ile ilişki içerisinde olmasında

- Kapsamı geniş olan konulara ışık tutması
- Sadece geleceği ilgilendiren konuları araştırması
- Çok uzun dönemleri içeren incelemeler yapması

durumlarından hangilerinin etkili olduğu söylenebilir?

- A) Yalnız I B) Yalnız II C) I ve III
D) II ve III E) I, II ve III



Milattan önceki tarihler günümüze uzaklaştıkça sayısal değer olarak artar, günümüze yaklaştıkça sayısal değer olarak azalır.

Buna göre yazının icadından günümüze kadar geçen sürenin hesaplanması aşağıdakilerden hangisinde doğru verilmiştir?

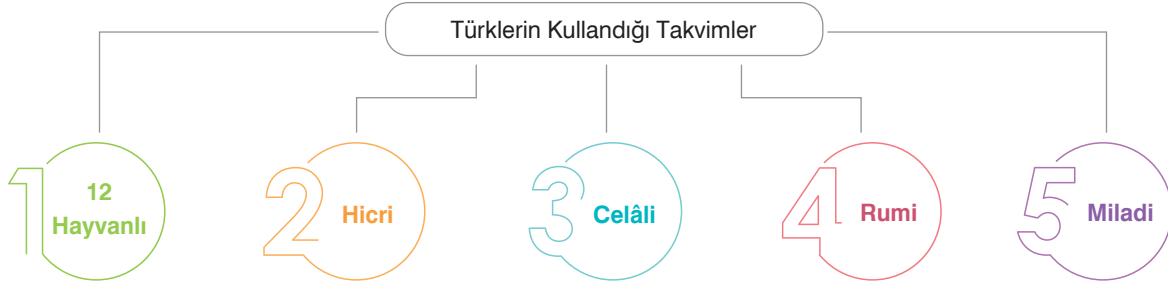
- A) Milattan önceki bir tarih ile milattan sonraki bir tarih arasındaki farkı bulmak için iki tarih toplanır.
B) Milattan sonraki tarihler arasındaki farkı bulmak için iki tarih birbirinden çıkarılır.
C) Milattan önceki tarihler arasındaki farkı bulmak için iki tarihin solundaki sayılara bir eklenir.
D) Milattan önceki bir tarih ile milattan sonraki bir tarih arasındaki farkı bulmak için iki tarih birbirinden çıkarılır.
E) Milattan sonraki tarihler arasındaki farkı bulmak için iki tarih toplanır.

8. Tarihte bilinen ilk ay yılı esaslı takvim aşağıdaki uygarlıkların hangisi tarafından geliştirilmiştir?

- A) Mısır B) Hitit C) Sümer
D) Lidya E) İyon



1.



Buna göre Türkler numaralanmış takvimlerden hangisini İslamiyet'i kabul etmelerinden önce kullanmıştır?

A) 1

B) 2

C) 3

D) 4

E) 5

2.

Bir toplumda yaşayan bireyin kişisel benliğinin oluşmasındaki etkenlerden biri sosyal hayattaki rolüdür. Bireylerin yaşadıkları sosyal rolleri, kendi milletlerinin tarihi içinde şekillenir. Bireyler milletlerin, milletler de tarihlerin içinde yer aldıkları için kendi tarihinden uzak yetişen bireyler millet bilincine sahip olmakta zorlanır. Bireyler tarihî olayların başrolündedir. Bu yüzden milletin tarihi, onu oluşturan bireylerin hayatıyla bir bütündür ve tarihin anlamlandırılması için bireylere ihtiyaç vardır. Sosyolog ve tarihçilerin birçoğunun ortak düşüncesi bireylerin milletleriyle, milletlerin de kendi tarihleriyle güçlendiği yönündedir.

Metne göre tarih bilimi ile ilgili

- I. Tarih bilgisi millet ile birey arasında bağ kurar.
- II. Toplumların birbirleriyle anlaşmaları için tarih bilincine ihtiyacı vardır.
- III. Millet bilincine sahip olan bireylerin tarih bilgisi vardır.

yargılarından hangileri söylenebilir?

A) Yalnız I

B) I ve II

C) I ve III

D) II ve III

E) I, II ve III

3.



Numaralanmış takvimlerden hangisi Türklerin kullandığı ilk güneş yılı esaslı takvimdir?

A) I

B) II

C) III

D) IV

E) V

4. Mustafa Kemal Atatürk "Türk evladı ecdadını tanıdıkça daha büyük işler yapmak için kendisinde kuvvet bulacaktır." sözüyle her milletin kendi tarihini bilmesinin ne kadar önemli olduğunu vurgulamıştır.

Buna göre Mustafa Kemal Atatürk'ün aşağıdaki sözlerinden hangisi bu düşüncesini tamamlayıcı özellik taşımaktadır?

- A) Geçmişini bilmeyen geleceğine yön veremez.
B) Akıl ve mantığın halledemeyeceği mesele yoktur.
C) Beni görmek demek, mutlaka yüzümü görmek değildir. Benim fikirlerimi, benim duygularımı anlıyorsanız ve hissediyorsanız bu kâfidir.
D) Az zamanda çok ve büyük işler yaptık. Bu işlerin en büyüğü, temeli Türk kahramanlığı ve yüksek Türk kültürü olan Türkiye Cumhuriyeti'dir.
E) Benim naçiz vücudum bir gün elbet toprak olacaktır fakat Türkiye Cumhuriyeti sonsuza dek yaşayacaktır. Ve Türk milleti güven ve mutluluğun kefil olan ilkelerle, uygarlık yolunda, tereddütsüz yürümeye devam edecektir.

5. I. Babil
II. Roma
III. Yunan
IV. Mısır
V. İyon

Numaralanmış uygarlıklardan hangisinin miladi takvimin şekillenmesine katkı sağladığı söylenemez?

- A) I B) II C) III D) IV E) V

6. **Aşağıdakilerden hangisi tarih öğrenmenin bireysel faydalarından biri değildir?**

- A) Özgüven kazandırması
B) Eleştirel bakış açısı kazandırması
C) Geçmiş anlama becerisi sağlaması
D) Empati kurmaya yardımcı olması
E) Eski yönetimlerden ders çıkarılmasını sağlaması

7. Tarih; karanlık bir yolda yürürken yolunu aydınlatması için aradığın bir fener, yolun sonuna ulaşman için kullandığın bir kılavuzdur.

Buna göre tarih öğretimiyle

- I. Sadece geçmişte yaşananlara göre hareket edilmesi
II. Geçmiş öğrenerek geleceğin aydınlatılması
III. Geleceğin şekillenmesi için geçmişte yaşananların göz önünde tutulması

durumlarından hangilerinin amaçlandığı söylenebilir?

- A) Yalnız I B) I ve II C) I ve III
D) II ve III E) I, II ve III

8. Güneş yılına dayalı ilk takvimiI..... bulmuştur. Dünya'nın Güneş çevresinde bir kez dönmesi ile bir güneş yılı oluşmaktadır. Bu takvim daha sonra İyonlar, Yunanlılar ve Romalılar tarafından geliştirilmiştir. Sezar döneminde yapılan çalışmalar sonucunda bu takvimeII..... adı verilmiştir.III..... adı verilen bugünkü hâlini ise Papa XIII. Gregor'un çabalarıyla almıştır.

Buna göre metinde boş bırakılan yerlere aşağıdakilerden hangisi getirilmelidir?

	I	II	III
A)	Mısırlılar	Miladi	Jülyen
B)	Mısırlılar	Jülyen	Miladi
C)	Sümerler	Jülyen	Hicri
D)	Mısırlılar	Miladi	Hicri
E)	Sümerler	Jülyen	Miladi

9. Tarih öğrenmenin faydalarından bazıları şunlardır:


- I. Millî bilincin oluşmasını sağlar.
II. Toplumların ortak değerlerine sahip çıkılmasına yardımcı olur.
III. Dünya barışının korunmasına katkı sağlar.
IV. Araştırma ve sonuca ulaşma becerisi kazandırır.
V. Toplumdaki insanların özgüven kazanmasını sağlar.

Buna göre numaralanmış faydalardan kaç tanesi tarih öğrenmenin evrensel katkılarına örnek verilebilir?

- A) 1 B) 2 C) 3 D) 4 E) 5



1. Görselde Türklerin kullandığı 12 Hayvanlı Türk takvimi verilmiştir.



Türklerin bilinen ilk takvimi olan 12 Hayvanlı Türk takvimi, güneş yılı esasına dayanmaktadır.

Buna göre 12 Hayvanlı Türk takvimi ile ilgili

- Yıllar sayı yerine hayvan isimleri ile anlatılmıştır.
- Mısır kültüründen etkilenilmiştir.
- Astronomi bilimine ilgi duyulmuştur.

yargılarından hangilerine ulaşılabilir?

- A) Yalnız I B) I ve II C) I ve III
D) II ve III E) I, II ve III

- 2.

Medeniyet	Tarih	Olay
Müslümanlar	622	Hicret
Hristiyanlar	0	Hz. İsa'nın doğumu
İbraniler	MÖ 3761	Yaratılış yılı
Yunanlılar	MÖ 776	İlk olimpiyatlar
Romalılar	MÖ 753	Roma şehrinin kuruluşu

Tablodan yola çıkılarak aşağıdaki sonuçlardan hangisine ulaşılabilir?

- Yazının icadı, medeniyetlerin dönüm noktası olmuştur.
- Tarihçiler, takvimlerin ayırımında görüş birliği sağlayamamıştır.
- Toplumlar sadece kendi takvimlerini kullanmışlardır.
- Takvimleri oluştururken toplumlar kendi uygarlıklarını etkileyen olayları başlangıç yılı olarak belirlemiştir.
- Toplumlar ihtiyaçlarına yönelik yenilikleri yapmaktan kaçınmışlardır.

3. Geçmişini iyi bilen toplumların geleceği ve atacağı adımlar daha güvenli olur.

Buna göre aşağıdakilerden hangisi Mustafa Kemal'in bu yargıyı destekler nitelikteki inkılaplarından biridir?

- Latin harflerinin kullanılmaya başlanması
- Cumhuriyet'in ilan edilmesi
- Tekke ve zaviyelerin kapatılması
- Halifeliğin kaldırılması
- Türk Tarih Kurumunun açılması

4. Tarihte yaşanan bazı gelişmeler, ortaya çıktıkları zamandan sonrasına ve farklı toplumlara etki eder. Medeniyetlere ait ortak değerlerin gelişmesinde farklı zamanlarda yaşayan toplumların katkısı olmuştur.

Metne göre aşağıdaki gelişmelerden hangisi bu duruma örnek gösterilebilir?

- Miladi takvimin temellerinin Mısır'da atılması, takvime son şeklini verenlerin ise Yunanlılar ve Romalılar olması
- Babililerin asma bahçelerini inşa etmesi
- Urartuların kral mezar odalarını oluşturması
- Orta Asya'daki Türklerin göçebe yaşam sürmesi
- Sümerlerin ve Hititlerin çok tanrılı inanca sahip olması

5. Türkler tarihleri boyunca birden fazla takvim kullanmışlardır. Kullandıkları takvimler esas alınan yıl sistemi, kullanım alanları ve kullanan devletlere göre değişim göstermiştir.

Osmanlı Devleti'nde mali işler için kullanılan takvimin özellikleri şu şekildedir:

- 1 yıl, 365 gün 6 saat olarak kabul edilmiştir.
- Hicret olayı takvimin başlangıç yılı sayılmıştır.
- Güneş yılı esasına dayandırılmıştır.

Buna göre özellikleri verilen takvim aşağıdakilerden hangisidir?

- A) Rumi B) Celâli C) Hicri
D) Miladi E) 12 Hayvanlı

9 TARİH

Soru Bankası

Tudem 9. sınıf Tarih Soru Bankası'nda beceri temelli yeni nesil sorularla zenginleştirilmiş ve farklı zorluk düzeylerindeki testlerden oluşan 8'i sınav föyü olmak üzere toplam **22 föy** yer almaktadır.

Her bir konu föyü, kavrama ve pekiştirme testlerinden oluşmaktadır:

KAVRAMA TESTLERİ'nde konuyu kavratıcı nitelikte kolay/orta zorluk düzeyinde sorular ve bu soruları çözmekte kılavuzluk edecek **bilgi, dikkat** ve **ipucu** kutuları;

PEKİŞTİRME TESTLERİ'nde kavranılan konuları pekiştirmeye yönelik orta/ileri zorluk düzeyindeki sorular yer almaktadır.

Sınav föyleri ise farklı amaçlar doğrultusunda oluşturulmuştur:

ÜNİTE DEĞERLENDİRME SINAVLARI, o ünitedeki kazanımları ölçmek amacıyla hazırlanmıştır ve her ünitenin sonunda yer almaktadır.

DÖNEM DEĞERLENDİRME SINAVLARI, birinci ve ikinci dönem kazanımları ile hazırlanmış sorulardan oluşmaktadır ve bu sınavlarla dönem değerlendirmesinin yapılması amaçlanmıştır.

Ayrıca testlerin **tamamı video çözümlü** olup sınav föylerinde **mobil analiz** özelliği bulunmaktadır.

