

3. SINIF

# Tüm Dersler

KILAVUZ

D E N E M E

Beceri Temelli Yeni Nesil Sorularla

**8 Adet  
55 Soruluk  
Deneme  
Sınavı**

**BlokTest®**

# 3. SINIF

# Tüm Dersler

Türkçe • Hayat Bilgisi • İngilizce • Matematik • Fen Bilimleri



## SINAVDAKİ SORULARIN DERSLERE GÖRE KONU ANALİZİ

SÖZEL	TÜRKÇE	Dinleme Kuralları, Harflerin Doğru Yazımı, Sözcükte ve Sözcük Gruplarında Anlam, Cümle Bilgisi, Okuduğunu Anlama
	HAYAT BİLGİSİ	Okulumuzda Hayat
	İNGİLİZCE	Greeting and Saluting, Introducing Oneself and Family Members, Naming Numbers
SAYISAL	MATEMATİK	Doğal Sayılar, Doğal Sayılarla Toplama İşlemi, Doğal Sayılarla Çıkarma İşlemi
	FEN BİLİMLERİ	Gezegemizi Tanıyalım, Beş Duyumuz, Kuvveti Tanıyalım

## ÖĞRENCİNİN DİKKATİNE!

- Bu kitapçıkta TÜRKÇE testinde 15 soru, HAYAT BİLGİSİ testinde 10 soru, İNGİLİZCE testinde 5 soru, MATEMATİK testinde 15 soru, FEN BİLİMLERİ testinde 10 soru olmak üzere toplam 55 soru vardır.
- Kitapçıkta soruların tümünü cevaplamak için önerilen süre 75 dakikadır.
- Cevaplarınızı, mobil ölçme optiklerindeki ilgili alanlara yuvarlağın dışına taşırmadan kodlayınız.
- Her sorunun tek bir doğru cevabı vardır. Birden fazla cevap işaretlenmişse o soru yanlış cevaplanmış sayılır.
- Soruların çözümü için size ayrıca boş kâğıt verilmeyecektir. Soru kitapçığınızın içindeki boş alanları çözümlerinizi için kullanabilirsiniz.
- Puanlama: Her bir ders testine ait ham puan; ilgili teste ait doğru cevap sayısından yanlış cevap sayısının üçte biri çıkarılarak hesaplanacaktır.

Adı Soyadı : .....

Sınıf - Şube - No : .....

Okulu : .....

# TÜRKÇE

1. Bu testte 15 soru vardır.

2. Cevaplarınızı, bu sayfanın altında Türkçe testi için ayrılan yere işaretleyiniz.

1. 1.



2.



3.



Numaralanmış görsellerle ifade edilen sözcüklerin sözlük sıralaması aşağıdakilerden hangisidir?

A) 1 - 3 - 2

B) 2 - 1 - 3

C) 2 - 3 - 1

D) 3 - 1 - 2

2. Aşağıdaki görsellerin hangisinde dinleme kurallarına uyulmamaktadır?

A)



B)



C)



D)



3.

	Dal	
Har	dal	

Şekildeki renkli kutulara “dal” hecesi gelecek ve her kutuya bir hece sığacak şekilde sözcük türetilcektir.

**Buna göre boş bırakılan yere aşağıdakilerden hangisi getirilebilir?**

A) Adalet

B) Dalgalı

C) Mandalsız

D) Adalı

QR Kodu		Cevaplarınızı Bu Bölüme İşaretleyiniz									
BlokTest		Soru	A	B	C	D	Soru	A	B	C	D
0		1					14				
1		2					15				
2		3					16				
3		4					17				
4		5					18				
5		6					19				
6		7					20				
7		8					21				
8		9					22				
9		10					23				
		11					24				
		12					25				
		13					26				

4. Likenler milyonlarca yıl önce kayalarda yetişen bitkilerdir. Zorluklara direnci yüksektir. Aylarca kurur, canlılığından eser kalmamış gibi görünür. Sonra havadan bile nem kaparak dirilir, yeşerir. Dünyada yayılma alanı en geniş bitkilerdir bunlar.

**Bu metinde likenlerle ilgili aşağıdakilerden hangisinin yanıtı yoktur?**

- A) Likenler zor hava koşullarına dayanır mı?
- B) Dünyanın hangi bölgelerinde yetişir?
- C) Likenler havadaki nemden yararlanabilir mi?
- D) Doğada ilk nerede yetişmiştir?

5.

Oturma durumundan dik duruma gelmek, doğrulmak

**Aşağıdakilerin hangisinde “kalkmak” sözcüğü verilen anlamaya uygun kullanılmıştır?**

- A) Misafirleri karşılamak için yerinden kalkmadı.
- B) Otobüs birazdan kalkacak, bu son uyarı.
- C) Haliya vurduğunda yoğun bir toz kalktı.
- D) O sabah biraz geç kalkmışım.

6.

- Sözcükler bir öncekinin son hecesiyle başlayacak
- Sözcükler sözlük sırasına göre dizilecek

Sözcük türetme oyununun kuralları kartta yazmaktadır.

**Buna göre aşağıdakilerin hangisinde türetilen sözcükler bu kurallara uygundur?**

- A) Muhtaç – Tarçın – Çingirak
- B) Anten – Tente – Temizlik
- C) Balkon – Konser – Sergi
- D) Çiçek - Çekmece - Merak

7. **Aşağıdaki cümlelerin hangisinde tek heceli bir sözcük yoktur?**

- A) Çarşamba günü aile yemeğinde toplanacağız.
- B) Benim cebimde birkaç tane temiz mendil var.
- C) Sahnede şarkı söylerken hep heyecanlanıyordu.
- D) Mozart'ın Türk Marşı adında eseri vardır.

8.

Uluslararası standartlarda uzun pistleri, kar kalitesi, teknik alt yapısı, beş yıldızlı otelleri ve eşsiz doğa manzaralarıyla öne çıkan Erçiyas Dağı, sunduğu imkânlarla kayak tutkunlarını kendine çekiyor.

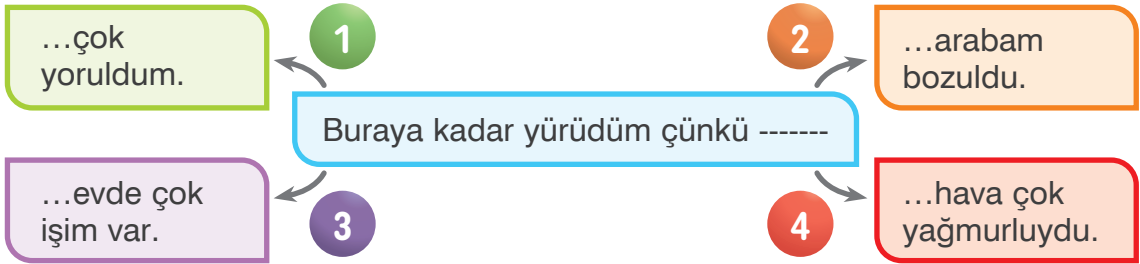
**ERCİYES PİSTLERİ**  
**KAYAK TUTKUNLARINI**  
**BEKLİYOR**

**1 saatte**  
26 BİN 750 kişi taşıma kapasitesi

Aşağıdakilerden hangisi bu metindeki altı çizili sözcüklerden birinin sözlük anlamı değildir?

- A) Belli bir alana sığabilecek kişi veya nesne sayısı  
B) Kar, su veya çim üzerinde kaymak için ayağa takılan araçlarla yapılan bir tür spor  
C) Yarış sporları için özel olarak düzenlenmiş yer, yarışlık  
D) Bütünü veya bir bölümü sürekli veya belli bir zaman için kiraya verilen, isteğe göre yemek de veren ev

9.



Bu cümle numaralanmış ifadelerden hangisiyle tamamlanabilir?

- A) 1                      B) 2                      C) 3                      D) 4

10. "Gemilerin dalgalara, akıntılara kapılarak yer değiştirmemesi için suya atılan, zincirle gemiye bağlı bulunan, ucu çengelli ağır demir araç."

Anlamı verilen sözcük, aşağıdaki cümlelerin hangisinde kullanılmıştır?

- A) Eline aldığı ağır çapayı taşımakta zorlanıyordu.  
B) Çıpanın sivri ucu, bir kayaya takılmıştı.  
C) Kapanları, geminin ambarına koymaya karar verdiler.  
D) Sırtına yüklendiği ağır demir kürek yüzünden yorulmuştu.

11, 12 ve 13. soruları parçaya göre yanıtlayın.

Evi yanan yaşlı adamdan geriye sadece bir eşek kalmıştı. Köylü, kimsesiz kalmış bu zavallı hayvana bakıyordu. Onu işe koşmaya kıyamıyorlardı. Bazen yanan evin civarında dertli dertli dolaştığını söyleyenler oluyordu. Aslında eşeğin dünyadan haberi yoktu. Yiyip içip yatıyordu.

**11. Eşek köye nereden gelmiştir?**

- A) Muhtara hediye edilmiş.
- B) Yaşlı adamdan geriye kalmış.
- C) Yaşlı adam köylüye teşekkür amacıyla hediye etmiş.
- D) Bir gün köyün civarında otlarken bulunmuş.

**12. Köylüler eşeğe nasıl davranmaktadır?**

- A) Onu bütün gün çeşitli işlerde çalıştırmaktadırlar.
- B) Kasabaya götürüp satmak istemektedirler.
- C) Ona bakmakta ve işe koşturmaktadırlar.
- D) Tembelliğinden dolayı ona kızmaktadırlar.

**13. Eşek olanlara karşı nasıl tepki vermektedir?**

- A) Sahibini özleyip evin civarında dolaşmaktadır.
- B) Her şeyden habersizce yiyip içmektedir.
- C) Bütün gün sadece uyumaktadır.
- D) Yemek yemeyi reddetmektedir.

**14. Aşağıdaki sözcüklerin hangisinde sırasıyla bir ünsüz, bir ünlü ve bir ünsüzden oluşan hece vardır?**

- A) Odacı
- B) Çamurlu
- C) Kovala
- D) Kira

**15. Aşağıdakilerin hangisinde yapısal özelliklerine uygun yazılan bir harf vardır?**

- A) Doğayı korumak tüm insanların vazifesidir.
- B) Başarının sırrı, hiçbir şartta yılmamaktır.
- C) Saatlerdir senden bir haber bekliyoruz.
- D) Öğretmenimizin masasına çiçekler bıraktık.

**TÜRKÇE TESTİ BİTTİ.**

# HAYAT BİLGİSİ

1. Bu testte 10 soru vardır.
2. Cevaplarınızı, bu sayfanın altında hayat bilgisi testi için ayrılan yere işaretleyiniz.

1.



Polis



Asker



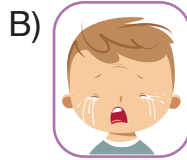
Bekçi

**Verilen meslekler aşağıdakilerden hangisini sağlamaya yöneliktir?**

- A) Güvenlik      B) Sağlık      C) Eğlence      D) Eğitim

2. Arkadaşları Umut'a hediye almışlardır.

**Bu durum karşısında Umut'un yüz ifadesi aşağıdakilerden hangisi olmalıdır?**



3.

Derya, okulun kuş bakışı görünümünü kabataslak ve ölçeksiz olarak kâğıt üzerine çizmiştir.

**Derya'nın bu çizimine verilen ad aşağıdakilerden hangisidir?**

- A) Plan  
B) Harita  
C) Kroki  
D) Tablo

BlokTest

Öğrenci No

Soru	A	B	C	D	Soru	A	B	C	D
1	<input type="radio"/>	<input type="radio"/>	<input type="radio"/>	<input type="radio"/>	14	<input type="radio"/>	<input type="radio"/>	<input type="radio"/>	<input type="radio"/>
2	<input type="radio"/>	<input type="radio"/>	<input type="radio"/>	<input type="radio"/>	15	<input type="radio"/>	<input type="radio"/>	<input type="radio"/>	<input type="radio"/>
3	<input type="radio"/>	<input type="radio"/>	<input type="radio"/>	<input type="radio"/>	16	<input type="radio"/>	<input type="radio"/>	<input type="radio"/>	<input type="radio"/>
4	<input type="radio"/>	<input type="radio"/>	<input type="radio"/>	<input type="radio"/>	17	<input type="radio"/>	<input type="radio"/>	<input type="radio"/>	<input type="radio"/>
5	<input type="radio"/>	<input type="radio"/>	<input type="radio"/>	<input type="radio"/>	18	<input type="radio"/>	<input type="radio"/>	<input type="radio"/>	<input type="radio"/>
6	<input type="radio"/>	<input type="radio"/>	<input type="radio"/>	<input type="radio"/>	19	<input type="radio"/>	<input type="radio"/>	<input type="radio"/>	<input type="radio"/>
7	<input type="radio"/>	<input type="radio"/>	<input type="radio"/>	<input type="radio"/>	20	<input type="radio"/>	<input type="radio"/>	<input type="radio"/>	<input type="radio"/>
8	<input type="radio"/>	<input type="radio"/>	<input type="radio"/>	<input type="radio"/>	21	<input type="radio"/>	<input type="radio"/>	<input type="radio"/>	<input type="radio"/>
9	<input type="radio"/>	<input type="radio"/>	<input type="radio"/>	<input type="radio"/>	22	<input type="radio"/>	<input type="radio"/>	<input type="radio"/>	<input type="radio"/>
10	<input type="radio"/>	<input type="radio"/>	<input type="radio"/>	<input type="radio"/>	23	<input type="radio"/>	<input type="radio"/>	<input type="radio"/>	<input type="radio"/>
11	<input type="radio"/>	<input type="radio"/>	<input type="radio"/>	<input type="radio"/>	24	<input type="radio"/>	<input type="radio"/>	<input type="radio"/>	<input type="radio"/>
12	<input type="radio"/>	<input type="radio"/>	<input type="radio"/>	<input type="radio"/>	25	<input type="radio"/>	<input type="radio"/>	<input type="radio"/>	<input type="radio"/>
13	<input type="radio"/>	<input type="radio"/>	<input type="radio"/>	<input type="radio"/>	26	<input type="radio"/>	<input type="radio"/>	<input type="radio"/>	<input type="radio"/>

4. Aşağıdaki sloganlardan hangisi kaynakları verimli kullanmayla ilgilidir?

A)

“ Emniyet kemeri,  
hayatta tutar! ”

B)

“ Su yoksa,  
hayat yok! ”

C)

“ Meyve yanımda,  
sağlığım yerinde! ”

D)

“ Güzel söyle,  
güzel duy! ”

5.

Hastalıklara karşı hayvanlara aşı yapmak

Verilen görev aşağıdaki mesleklerden hangisine aittir?

- A) Doktorluğa B) Hemşireliğe  
C) Veterinerliğe D) Eczacıluğa

6. Aşağıdakilerden hangisi okulun kazandırdığı becerilerden değildir?

- A) Planlı olmak  
B) Doğru karar vermek  
C) Sorgulayıcılık  
D) Bencillik

7. Bireyler arkadaş seçiminde,

1. Fiziksel görünüş
2. Özgün yetenekler
3. Olumlu davranışlar

özelliklerinden hangilerine dikkat etmelidir?

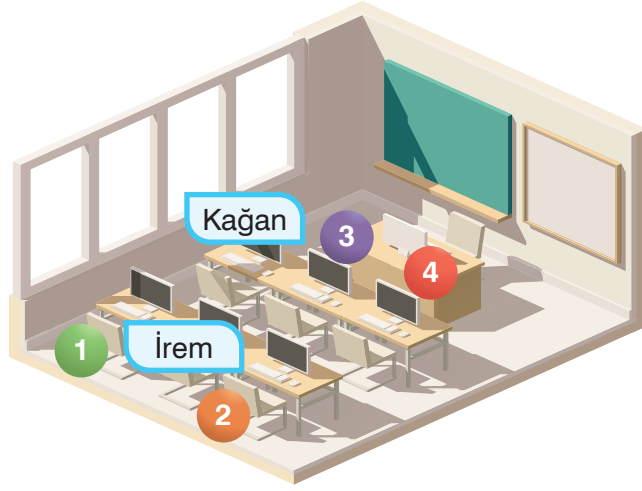
- A) Yalnız 3 B) 1 ve 2  
C) 2 ve 3 D) 1, 2 ve 3

8. Aşağıdakilerden hangisi kaynak kullanımında gereken özelliklerdendir?

- A) Çalışkan  
B) Tutumlu  
C) Sevecen  
D) Meraklı



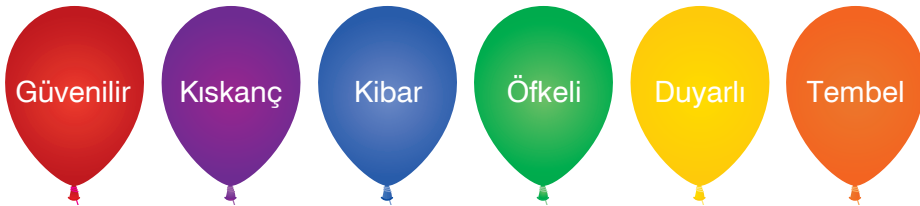
9. 3/A öğrencilerinin bilgisayar sınıfındaki konumları aşağıda gösterilmiştir. Uras; İrem'in yanında, Kağan'ın ise arkasında oturmaktadır.



**Buna göre Uras'ın oturduğu yer kaç numarayla gösterilmiştir?**

- A) 1                      B) 2                      C) 3                      D) 4

10. Nil, arkadaşında olması gereken özellikleri ana renklerdeki balonlara, olmasını istemediklerini ise ara renklerdeki balonlara yazmıştır.



**Buna göre aşağıdakilerden hangisini söyleyen kişi Nil'in istediği arkadaş olabilir?**

- A) Arkadaşım yeni bir şey aldığımda hemen gidip aynısını alırım.  
B) Oyunu kaybettiğimde çok sinirlenirim.  
C) Ödev yapmanın yararlı olduğunu düşünmüyorum.  
D) Çok iyi sır saklarım.

**HAYAT BİLGİSİ TESTİ BİTTİ.**

# İNGİLİZCE

1. Bu testte 5 soru vardır.
2. Cevaplarınızı, bu sayfanın altında İngilizce testi için ayrılan yere işaretleyiniz.

1. Eddie : \_\_\_\_\_  
Mandy : M - A - N - D - Y  
Hangi ifade konuşmayı doğru tamamlar?

- A) What's your name?
- B) Spell your name, please.
- C) How old are you?
- D) Who is your grandfather?

2. **8 + 5 = ?**

Yukarıda verilen işlemin sonucu kaçtır?

- A) Fourteen
- B) Sixteen
- C) Thirteen
- D) Fifteen

3. 1. Nice to meet you, too.  
2. Hi, my name is Linda.  
3. Hello, I am Robbie.  
4. Nice to meet you.

Numaralandırılmış ifadelerle anlamlı bir konuşma oluşturulduğunda doğru sıralama aşağıdakilerden hangisi olur?

- A) 4 / 2 / 1 / 3
- B) 3 / 2 / 4 / 1
- C) 2 / 1 / 3 / 4
- D) 1 / 2 / 4 / 3

4.

Hi! My name is Zeynep.  
I am eight years old.  
I am a student.  
This is my cat, Misket.

Zeynep aşağıdakilerden hangisinden bahsetmemiştir?

- A) Her name
- B) Her age
- C) Her school
- D) Her cat

5.

A L    H A    E   

Boşlukları tamamlayan harfler hangileridir?

- A) P / P / D
- B) P / B / T
- C) F / B / D
- D) D / T / P

İNGİLİZCE TESTİ BİTTİ.

Cevaplarınızı Bu Bölüme İşaretleyiniz									
Soru	A	B	C	D	Soru	A	B	C	D
1	<input type="radio"/>	<input type="radio"/>	<input type="radio"/>	<input type="radio"/>	14	<input type="radio"/>	<input type="radio"/>	<input type="radio"/>	<input type="radio"/>
2	<input type="radio"/>	<input type="radio"/>	<input type="radio"/>	<input type="radio"/>	15	<input type="radio"/>	<input type="radio"/>	<input type="radio"/>	<input type="radio"/>
3	<input type="radio"/>	<input type="radio"/>	<input type="radio"/>	<input type="radio"/>	16	<input type="radio"/>	<input type="radio"/>	<input type="radio"/>	<input type="radio"/>
4	<input type="radio"/>	<input type="radio"/>	<input type="radio"/>	<input type="radio"/>	17	<input type="radio"/>	<input type="radio"/>	<input type="radio"/>	<input type="radio"/>
5	<input type="radio"/>	<input type="radio"/>	<input type="radio"/>	<input type="radio"/>	18	<input type="radio"/>	<input type="radio"/>	<input type="radio"/>	<input type="radio"/>
6	<input type="radio"/>	<input type="radio"/>	<input type="radio"/>	<input type="radio"/>	19	<input type="radio"/>	<input type="radio"/>	<input type="radio"/>	<input type="radio"/>
7	<input type="radio"/>	<input type="radio"/>	<input type="radio"/>	<input type="radio"/>	20	<input type="radio"/>	<input type="radio"/>	<input type="radio"/>	<input type="radio"/>
8	<input type="radio"/>	<input type="radio"/>	<input type="radio"/>	<input type="radio"/>	21	<input type="radio"/>	<input type="radio"/>	<input type="radio"/>	<input type="radio"/>
9	<input type="radio"/>	<input type="radio"/>	<input type="radio"/>	<input type="radio"/>	22	<input type="radio"/>	<input type="radio"/>	<input type="radio"/>	<input type="radio"/>
10	<input type="radio"/>	<input type="radio"/>	<input type="radio"/>	<input type="radio"/>	23	<input type="radio"/>	<input type="radio"/>	<input type="radio"/>	<input type="radio"/>
11	<input type="radio"/>	<input type="radio"/>	<input type="radio"/>	<input type="radio"/>	24	<input type="radio"/>	<input type="radio"/>	<input type="radio"/>	<input type="radio"/>
12	<input type="radio"/>	<input type="radio"/>	<input type="radio"/>	<input type="radio"/>	25	<input type="radio"/>	<input type="radio"/>	<input type="radio"/>	<input type="radio"/>
13	<input type="radio"/>	<input type="radio"/>	<input type="radio"/>	<input type="radio"/>	26	<input type="radio"/>	<input type="radio"/>	<input type="radio"/>	<input type="radio"/>

Öğrenci No

0

1

2

3

4

5

6

7


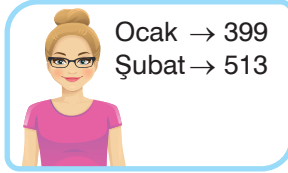
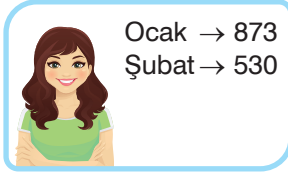
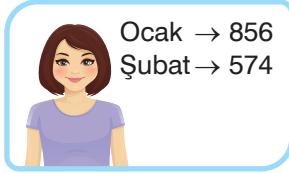
8

9

# MATEMATİK




1. Bu testte 15 soru vardır.
2. Cevaplarınızı, bu sayfanın altında matematik testi için ayrılan yere işaretleyiniz.

1. Aşağıda bir mağazada çalışan Defne, Eda, Figen ve Gonca'nın personel kartlarında bulunan fotoğrafları ile bu kişilerin ocak ve şubat ayında sattıkları ürün sayıları gösterilmiştir.



Ocak ayında en çok satışı Figen, şubat ayında en az satışı ise Eda yapmıştır.

**Buna göre Figen ve Eda'nın personel kartlarında bulunan fotoğrafları sırası ile aşağıdakilerden hangisinde verilmiştir?**



2. Aşağıda Erdi'nin aldığı ayakkabılar ve bu ayakkabılardan birinin fiyatı gösterilmiştir.



Spor Ayakkabı



Bot

Erdi'nin aldığı botun fiyatı, spor ayakkabının fiyatından 127 TL fazladır.

**Buna göre Erdi ayakkabılar için toplam kaç lira ödemiştir?**

- A) 443                      B) 697  
C) 707                      D) 824

BlokTest

Öğrenci No

Cevaplarınızı Bu Bölüme İşaretleyiniz														
Soru	A	B	C	D	Soru	A	B	C	D	Soru	A	B	C	D
1					14					17				
2					15					18				
3					16					19				
4					17					20				
5					18					21				
6					19					22				
7					20					23				
8					21					24				
9					22					25				
10					23					26				
11					24									
12					25									
13					26									

3.

$$(217 + 208) + 287$$

$$(287 + 217) + \blacksquare$$

Yukarıdaki işlemlerin sonuçları eşit olduğuna göre  $\blacksquare$  yerine yazılması gereken sayı kaçtır?

- A) 208                      B) 271  
C) 278                      D) 280

4.

$$33 - 41 - 49 - 57$$

Verilen örüntünün 57'den sonraki dört adımı aşağıdakilerden hangisidir?

- A) 65 - 73 - 81 - 89  
B) 65 - 73 - 77 - 83  
C) 63 - 71 - 79 - 87  
D) 64 - 71 - 78 - 85

5. Ece, aşağıda verilen rakamları birer kez kullanarak üç basamaklı tek doğal sayı yazacaktır.



Buna göre Ece kaç farklı sayı yazabilir?

- A) 4      B) 3      C) 2      D) 1

6. Yağmur, bir çıkarma işleminin sonucunu zihinden bulmak için aşağıdaki adımları izlemiştir.

$$1. \text{ Adım: } 70 - 30 = 40$$

$$2. \text{ Adım: } 3 - 0 = 3$$

$$3. \text{ Adım: } 40 + 3 = 43$$

Buna göre Yağmur'un zihinden yaptığı çıkarma işlemi aşağıdakilerden hangisidir?

- A) 70 - 33                      B) 73 - 43  
C) 70 - 43                      D) 73 - 30


7. 265'ten başlanarak ileriye doğru yüzer ritmik sayıldığında aşağıdakilerden hangisi söylenmez?

- A) 275                      B) 665  
C) 765                      D) 965

8. Aşağıdaki sayılardan hangisinin en yakın olduğu onluk ile en yakın olduğu yüzlük eşittir?

- A) 589                      B) 592  
C) 596                      D) 629

9. Arda, Berk, Cemal ve Zeynep iki bölümden oluşan bir bilgi yarışmasına katılmıştır. Aşağıda bu dört kişinin ilk bölümün sonundaki puanları gösterilmiştir.



**Buna göre aşağıdaki ifadelerden hangisi yanlıştır?**

- A) Arda ikinci bölümde 245 puan kazanırsa yarışma sonundaki puanının birer basamağında 0 rakamı bulunur.  
 B) Cemal'in ilk bölümün sonundaki puanının onlar ve yüzler basamağındaki rakamlarının basamak değerleri eşittir.  
 C) Zeynep'in ilk bölümün sonundaki puanının en yakın olduğu onluk 170'tir.  
 D) Berk ikinci bölümde 356 puan kazanırsa yarışma sonundaki puanı çift doğal sayı olur.
10. Bir okulun düzenlediği etkinliğin ilk gününde internet üzerinden üç sunum yapılmıştır. Aşağıda bu sunumların süreleri gösterilmiştir.



Bu etkinliğe katılan Ada tüm sunumları izlerken Bora Sağlıklı Yaşam ve Yardımlaşma sunumlarını izlemiştir. Her ikisi de bir sunum bittikten sonra 30 dk. mola verip diğer sunuma geçmiştir.

**Ada ve Bora'nın sunumları izlemeye başladıkları andan bitirdikleri ana kadar geçen süreler aşağıdakilerden hangisinde verilmiştir?**

	Ada	Bora
A)	529 dk.	331 dk.
B)	559 dk.	331 dk.
C)	589 dk.	391 dk.
D)	589 dk.	361 dk.

11. Bahar 24'ten başlayarak ileriye doğru altışar, İsmail ise 24'ten başlayarak ileriye doğru sekizer ritmik saymıştır.

Buna göre aşağıdaki sayılardan hangisini hem Bahar hem de İsmail söylemiştir?

- A) 64 B) 72 C) 84 D) 90

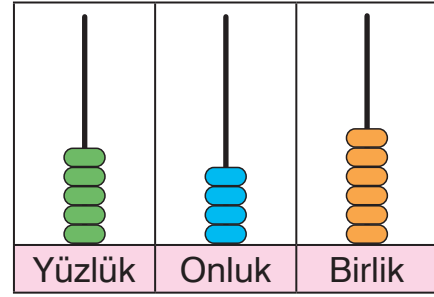
12. Aşağıdaki işlemlerden hangisinin sonucu çift doğal sayıdır?

- A)  $42 + 39$  B)  $21 + 36$   
C)  $23 + 38$  D)  $37 + 25$

13. Üç basamaklı rakamları farklı en büyük çift doğal sayı ile iki basamaklı en küçük doğal sayının toplamı kaçtır?

- A) 999 B) 998  
C) 997 D) 996

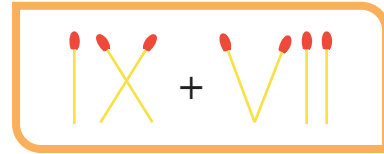
14.



Abaküste gösterilen sayının okunuşu aşağıdakilerden hangisidir?

- A) Beş yüz dört altı  
B) Beş yüz kırk altı  
C) Altı yüz kırk beş  
D) Beş yüz kırk beş

15. Kibritler kullanılarak yazılan Romen rakamları ile aşağıdaki toplama işlemi yapılmıştır.



Bu işlemin sonucunu Romen rakamlarıyla yazabilmek için kaç kibrit kullanılır?

- A) 3 B) 4 C) 5 D) 6

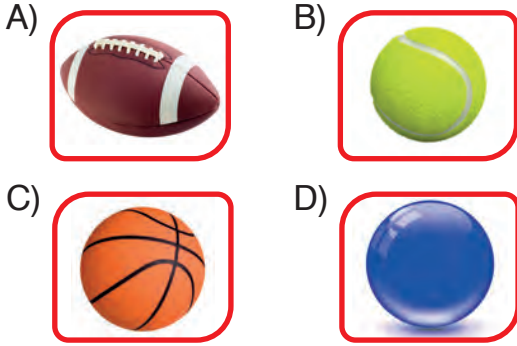
MATEMATİK TESTİ BİTTİ.

# FEN BİLİMLERİ

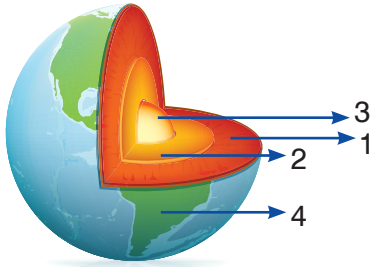
1. Bu testte 10 soru vardır.

2. Cevaplarınızı, bu sayfanın altında fen bilimleri testi için ayrılan yere işaretleyiniz.

1. Fen Bilimleri dersi için Dünya modeli yapmak isteyen Melis aşağıdakilerden hangisini kullanamaz?



2.



Yukarıda, Dünya'mızın katman modeli verilmiş ve bazı katmanları numaralandırılmıştır.


**Numaralandırılan katmanların isimleri aşağıdakilerden hangisinde yanlış verilmiştir?**

- A) 1 → Manto  
B) 2 → Su küre  
C) 3 → Çekirdek  
D) 4 → Yer kabuğu

3. Bir yerden yolculuğa başlayan kişinin hep aynı yöne gitmesi hâlinde başladığı yere varacağını söylemiş ve İspanya'dan dünya turuna çıkmıştır. Ama yolculuk sırasında hastalanmış ve hayatını kaybetmiştir.

**Bahsedilen Portekizli gemici aşağıdakilerden hangisidir?**



 BlokTest

Cevaplarınızı Bu Bölüme İşaretleyiniz

Soru	A	B	C	D	Soru	A	B	C	D
1	<input type="radio"/>	<input type="radio"/>	<input type="radio"/>	<input type="radio"/>	14	<input type="radio"/>	<input type="radio"/>	<input type="radio"/>	<input type="radio"/>
2	<input type="radio"/>	<input type="radio"/>	<input type="radio"/>	<input type="radio"/>	15	<input type="radio"/>	<input type="radio"/>	<input type="radio"/>	<input type="radio"/>
3	<input type="radio"/>	<input type="radio"/>	<input type="radio"/>	<input type="radio"/>	16	<input type="radio"/>	<input type="radio"/>	<input type="radio"/>	<input type="radio"/>
4	<input type="radio"/>	<input type="radio"/>	<input type="radio"/>	<input type="radio"/>	17	<input type="radio"/>	<input type="radio"/>	<input type="radio"/>	<input type="radio"/>
5	<input type="radio"/>	<input type="radio"/>	<input type="radio"/>	<input type="radio"/>	18	<input type="radio"/>	<input type="radio"/>	<input type="radio"/>	<input type="radio"/>
6	<input type="radio"/>	<input type="radio"/>	<input type="radio"/>	<input type="radio"/>	19	<input type="radio"/>	<input type="radio"/>	<input type="radio"/>	<input type="radio"/>
7	<input type="radio"/>	<input type="radio"/>	<input type="radio"/>	<input type="radio"/>	20	<input type="radio"/>	<input type="radio"/>	<input type="radio"/>	<input type="radio"/>
8	<input type="radio"/>	<input type="radio"/>	<input type="radio"/>	<input type="radio"/>	21	<input type="radio"/>	<input type="radio"/>	<input type="radio"/>	<input type="radio"/>
9	<input type="radio"/>	<input type="radio"/>	<input type="radio"/>	<input type="radio"/>	22	<input type="radio"/>	<input type="radio"/>	<input type="radio"/>	<input type="radio"/>
10	<input type="radio"/>	<input type="radio"/>	<input type="radio"/>	<input type="radio"/>	23	<input type="radio"/>	<input type="radio"/>	<input type="radio"/>	<input type="radio"/>
11	<input type="radio"/>	<input type="radio"/>	<input type="radio"/>	<input type="radio"/>	24	<input type="radio"/>	<input type="radio"/>	<input type="radio"/>	<input type="radio"/>
12	<input type="radio"/>	<input type="radio"/>	<input type="radio"/>	<input type="radio"/>	25	<input type="radio"/>	<input type="radio"/>	<input type="radio"/>	<input type="radio"/>
13	<input type="radio"/>	<input type="radio"/>	<input type="radio"/>	<input type="radio"/>	26	<input type="radio"/>	<input type="radio"/>	<input type="radio"/>	<input type="radio"/>

Öğrenci No

0	<input type="radio"/>	<input type="radio"/>	<input type="radio"/>	<input type="radio"/>
1	<input type="radio"/>	<input type="radio"/>	<input type="radio"/>	<input type="radio"/>
2	<input type="radio"/>	<input type="radio"/>	<input type="radio"/>	<input type="radio"/>
3	<input type="radio"/>	<input type="radio"/>	<input type="radio"/>	<input type="radio"/>
4	<input type="radio"/>	<input type="radio"/>	<input type="radio"/>	<input type="radio"/>
5	<input type="radio"/>	<input type="radio"/>	<input type="radio"/>	<input type="radio"/>
6	<input type="radio"/>	<input type="radio"/>	<input type="radio"/>	<input type="radio"/>
7	<input type="radio"/>	<input type="radio"/>	<input type="radio"/>	<input type="radio"/>
8	<input type="radio"/>	<input type="radio"/>	<input type="radio"/>	<input type="radio"/>
9	<input type="radio"/>	<input type="radio"/>	<input type="radio"/>	<input type="radio"/>

4. Teknolojinin henüz gelişmemiş olduğu zamanlarda yaşayan insanlar, Dünya'nın şekliyle ilgili farklı görüşler öne sürmüşlerdir.

**Buna göre Dünya'nın şeklinin küreye benzediğinin kesinliğini kanıtlayan aşağıdakilerden hangisidir?**



*Güneş doğarken önce bir kısmının görünmesi*



*Ay'ın yuvarlak bir şekilde görünmesi*



*Dünya'nın uzaydan çekilmiş fotoğrafları*



*Akşam saatlerinde Güneş'in batışı*

5. Öğretmen öğrencilerine “Göz sağlığını korumak için neler yapmalıyız?” şeklinde bir soru soruyor. Bütün öğrencileri doğru yanıt veriyor.

**Buna göre aşağıdakilerden hangisi öğrencilerin verdiği yanıtlardan biri olabilir?**

- A) Şiddetli sesler duyduğumuzda ağızımızı açmalıyız.
- B) Çok kuvvetli ışıkta ders çalışmamalıyız.
- C) Aşırı sıcak ve soğuk besinleri tüketmemeliyiz.
- D) Bilmediğimiz maddelerin tadına bakmamalıyız.

6. **Kulak sağlığının korunması için aşağıdakilerden hangisi yapılmamalıdır?**

- A) Gürültülü yerlerde bulunmaya özen göstermek
- B) Kulak temizliğine dikkat etmek
- C) Kulakları aşırı soğuktan korumak
- D) Pamuklu çubukları sadece kulak kepçesinin dışında kullanmak



7.



Aşağıdakilerden hangisi şekildedeki duyu organının görevlerinden değildir?

- A) Solunum yapmak
- B) Koku almak
- C) Havayı süzmek
- D) Tat almak

8.



Tatilden dönerken uçakla seyahat eden Mete'nin uçağı havalandıktan sonra nasıl bir hareket yapar?

- A) Yavaşlayan
- B) Döner
- C) Hızlanan
- D) Sallanan

9. Aşağıdaki canlılardan hangisi diğerlerine göre daha hızlıdır?

A)



B)



C)



D)



10. Aşağıdakilerden hangisi hareketli cisimleri durdurmanın neden olduğu tehlikelerdendir?

- A) Kalecinin ona doğru atılan topu eli ile yakalaması
- B) Bisikletlinin bisiklet tekerini eli ile durdurması
- C) Çocuğun rüzgârgülünü eli ile durdurması
- D) Öğrencinin masadan düşen silgiyi eli ile yakalaması

**FEN BİLİMLERİ TESTİ BİTTİ.**

# 3. SINIF

# Tüm Dersler

Türkçe • Hayat Bilgisi • İngilizce • Matematik • Fen Bilimleri



## SINAVDAKİ SORULARIN DERSLERE GÖRE KONU ANALİZİ

SÖZEL	TÜRKÇE	Harflerin Doğru Yazımı, Sözcükte ve Sözcük Gruplarında Anlam, Zıt Anımlı Sözcükler, Noktalama İşaretleri, Büyük Harflerin Kullanımı ve Yazım Yanlıřları
	HAYAT BİLGİSİ	Okulumuzda Hayat, Evimizde Hayat
	İNGİLİZCE	Greeting and Saluting, Introducing Oneself and Family Members, Describing Characters and People, Expressing Ability and Inability
SAYISAL	MATEMATİK	Doğal Sayılar, Doğal Sayılarla Toplama İşlemi, Doğal Sayılarla Çıkarma İşlemi
	FEN BİLİMLERİ	Gezegemizi Tanıyalım, Beş Duyumuz, Kuvveti Tanıyalım, Maddeyi Tanıyalım

## ÖĞRENCİNİN DİKKATİNE!

- Bu kitapçıkta TÜRKÇE testinde 15 soru, HAYAT BİLGİSİ testinde 10 soru, İNGİLİZCE testinde 5 soru, MATEMATİK testinde 15 soru, FEN BİLİMLERİ testinde 10 soru olmak üzere toplam 55 soru vardır.
- Kitapçıkta soruların tümünü cevaplamak için önerilen süre 75 dakikadır.
- Cevaplarınızı, mobil ölçme optiklerindeki ilgili alanlara yuvarlağın dışına taşırmadan kodlayınız.
- Her sorunun tek bir doğru cevabı vardır. Birden fazla cevap işaretlenmişse o soru yanlış cevaplanmış sayılır.
- Soruların çözümü için size ayrıca boş kâğıt verilmeyecektir. Soru kitapçığınızın içindeki boş alanları çözümlerinizi için kullanabilirsiniz.
- Puanlama: Her bir ders testine ait ham puan; ilgili teste ait doğru cevap sayısından yanlış cevap sayısının üçte biri çıkarılarak hesaplanacaktır.

Adı Soyadı : .....

Sınıf - Şube - No : .....

Okulu : .....

# TÜRKÇE

1. Bu testte 15 soru vardır.
2. Cevaplarınızı, bu sayfanın altında Türkçe testi için ayrılan yere işaretleyiniz.

1. Pantolonunun ıslak paçalarını te-laşla kıvırdı.

**Bu cümledeki altı çizili sözcüğün zıt anlamlısı aşağıdakilerin hangisinde kullanılmıştır?**

- A) Üzerine kuru bir şeyler giy, üşüteceksin.  
B) Kuru patlıcanlardan yapılan dolmayı severim.  
C) Kapının önünde duran kuru meşe ağacına hüzünle baktı.  
D) Kuru bir selam bile vermedi.

2. Aşağıdakilerin hangisinde “doldurmak” sözcüğü cümleye “yaşını, yılını doldurmak” anlamı katmıştır?

- A) Zaman doldurmak için bir kursa gitmelisin.  
B) On yaşını dolduran herkes bu yarışmaya katılabilir.  
C) Aracın deposunu doldurduğu hâlde araç çalışmıyor.  
D) O, kesesini dolduracağından emin olmasa bu işi yapmazdı.

3. 1. Soğuk - Ilık  
2. Yaşlı - Çocuk  
3. Düşünceli - Düşüncesiz  
4. Almak - Vermek

**Numaralanmış sözcük çiftlerinden hangisi zıt anlamlıdır?**

- A) 1 B) 2 C) 3 D) 4

4. Aşağıdaki cümlelerin hangisinde zıt anlamlı sözcükler birlikte kullanılmamıştır?



- A) Bu hatanı ilk ve son kez görmezden geliyorum.  
B) Sınavı kazanıp kazanmayacağını tahmin edemiyorum.  
C) Burada gündüz hava sıcakken gece birden soğuyor.  
D) Hasta olduğunda sağlıklı zamanlarının kıymetini anlamıştı.

5. Aşağıdaki cümlelerin hangisinde yapısal özelliğine uygun yazılmamış bir harf vardır?

- A) Görevliler adamı dışarı çıkardı.  
B) Ağaçtan dökülen armutları biz topladık.  
C) Ahşap bina neredeyse yıkılacak, yok olacaktı.  
D) Birlikten kuvvet doğduğunu her zaman hatırlamalısınız.

Cevaplarınızı Bu Bölüme İşaretleyiniz														
Soru	A	B	C	D	Soru	A	B	C	D	Soru	A	B	C	D
1	<input type="radio"/>	<input type="radio"/>	<input type="radio"/>	<input type="radio"/>	14	<input type="radio"/>	<input type="radio"/>	<input type="radio"/>	<input type="radio"/>	27	<input type="radio"/>	<input type="radio"/>	<input type="radio"/>	<input type="radio"/>
2	<input type="radio"/>	<input type="radio"/>	<input type="radio"/>	<input type="radio"/>	15	<input type="radio"/>	<input type="radio"/>	<input type="radio"/>	<input type="radio"/>	28	<input type="radio"/>	<input type="radio"/>	<input type="radio"/>	<input type="radio"/>
3	<input type="radio"/>	<input type="radio"/>	<input type="radio"/>	<input type="radio"/>	16	<input type="radio"/>	<input type="radio"/>	<input type="radio"/>	<input type="radio"/>	29	<input type="radio"/>	<input type="radio"/>	<input type="radio"/>	<input type="radio"/>
4	<input type="radio"/>	<input type="radio"/>	<input type="radio"/>	<input type="radio"/>	17	<input type="radio"/>	<input type="radio"/>	<input type="radio"/>	<input type="radio"/>	30	<input type="radio"/>	<input type="radio"/>	<input type="radio"/>	<input type="radio"/>
5	<input type="radio"/>	<input type="radio"/>	<input type="radio"/>	<input type="radio"/>	18	<input type="radio"/>	<input type="radio"/>	<input type="radio"/>	<input type="radio"/>	31	<input type="radio"/>	<input type="radio"/>	<input type="radio"/>	<input type="radio"/>
6	<input type="radio"/>	<input type="radio"/>	<input type="radio"/>	<input type="radio"/>	19	<input type="radio"/>	<input type="radio"/>	<input type="radio"/>	<input type="radio"/>	32	<input type="radio"/>	<input type="radio"/>	<input type="radio"/>	<input type="radio"/>
7	<input type="radio"/>	<input type="radio"/>	<input type="radio"/>	<input type="radio"/>	20	<input type="radio"/>	<input type="radio"/>	<input type="radio"/>	<input type="radio"/>	33	<input type="radio"/>	<input type="radio"/>	<input type="radio"/>	<input type="radio"/>
8	<input type="radio"/>	<input type="radio"/>	<input type="radio"/>	<input type="radio"/>	21	<input type="radio"/>	<input type="radio"/>	<input type="radio"/>	<input type="radio"/>	34	<input type="radio"/>	<input type="radio"/>	<input type="radio"/>	<input type="radio"/>
9	<input type="radio"/>	<input type="radio"/>	<input type="radio"/>	<input type="radio"/>	22	<input type="radio"/>	<input type="radio"/>	<input type="radio"/>	<input type="radio"/>	35	<input type="radio"/>	<input type="radio"/>	<input type="radio"/>	<input type="radio"/>
10	<input type="radio"/>	<input type="radio"/>	<input type="radio"/>	<input type="radio"/>	23	<input type="radio"/>	<input type="radio"/>	<input type="radio"/>	<input type="radio"/>	36	<input type="radio"/>	<input type="radio"/>	<input type="radio"/>	<input type="radio"/>
11	<input type="radio"/>	<input type="radio"/>	<input type="radio"/>	<input type="radio"/>	24	<input type="radio"/>	<input type="radio"/>	<input type="radio"/>	<input type="radio"/>	37	<input type="radio"/>	<input type="radio"/>	<input type="radio"/>	<input type="radio"/>
12	<input type="radio"/>	<input type="radio"/>	<input type="radio"/>	<input type="radio"/>	25	<input type="radio"/>	<input type="radio"/>	<input type="radio"/>	<input type="radio"/>	38	<input type="radio"/>	<input type="radio"/>	<input type="radio"/>	<input type="radio"/>
13	<input type="radio"/>	<input type="radio"/>	<input type="radio"/>	<input type="radio"/>	26	<input type="radio"/>	<input type="radio"/>	<input type="radio"/>	<input type="radio"/>	39	<input type="radio"/>	<input type="radio"/>	<input type="radio"/>	<input type="radio"/>

6.



Kağan, doğayı çok sever. Sürekli bitki ve hayvanları inceler. Annesinin bahçelerinde yetiştirdiği renk renk çiçeklerin kokusuna bayılır. Bu bahçede kedileri ve köpekleriyle oynar.

**Numaralanmış görsellerden hangileri bu metinde anlatılanlarla ilgilidir?**

- A) Yalnız II      B) I ve II      C) I ve III      D) I, II ve III

7. Aşağıdakilerin hangisinde satır sonundaki sözcük yanlış bölünmüştür?

A) ..... tor-  
navida.....

B) ..... kalab-  
alık.....

C) ..... hasta-  
ne.....

D) ..... hanı-  
meli.....

8. Aşağıdaki cümlelerin hangisinde “atmak” sözcüğü verilen anlamına uygun kullanılmamıştır?

	Anlam	Cümle
A)	Yapılmış kötü bir işi bir başkasına yüklemek	Suçu ona atarak bu işten kurtulacağını düşündü.
B)	Sıkıntı dolayısıyla giyilen bir şeyi çıkarmak	Sıcak basınca önce ceketini sonra kazağını attı.
C)	Çıkarmak, dışarıya vermek	Odaya bir de kilim attın mı çok güzel olacak.
D)	Bir kimsenin ilişkisini kesmek	Disiplin suçları nedeniyle onu okuldan atmışlar.

9.

Kumluk, susuz ve ıssız geniş arazi

**Anlamı verilen sözcük aşağıdakilerin hangisinde kullanılmıştır?**

- A) Bozkırın ortasındaki bir köyde doğmuş bu yazar.  
 B) Çölde develerle yolculuk yapan kervanlar varmış.  
 C) Tarlanın yarısını büyük oğluna miras olarak bırakmış.  
 D) Kumsalda ateş yakmışlar.

10.

- Buğra'nın boyu bu yıl ne kadar da çok uzadı.
- Film çok uzayınca hepimizin uykusu geldi.
- Annemin baktığı sarmaşık iyice uzadı.
- Kadın inat ettikçe, alıcının ısrarları da uzadı.

**Bu cümlelerde "uzamak" sözcüğü kaç farklı anlamda kullanılmıştır?**

- A) 1      B) 2      C) 3      D) 4

**11 ve 12. soruları şiire göre yanıtlayın.**

Şiir sabahleyin horozların ötüşüdür.  
 Sessiz türküleriyle,  
 Açılmasıdır çiçeklerin.  
 Annenin sıcak elidir alnında,  
 Sofranda alın teridir babanın.

Aynaya bak,  
 Yüreğinden gelen  
 Aydınlık gülüşündür şiir.  
 Şiir sensin çocuğum.

Özcan YILDIRIM

**11. Bu şiir için en uygun başlık aşağıdakilerden hangisidir?**

- A) Şiir ve Bahar  
 B) Şiir Nedir?  
 C) Çocuğun Şiiri  
 D) Sessiz Türküler

**12. Şiir, aşağıdakilerden hangisine benzetilmemiştir?**

- A) Annenin alın terine  
 B) Yüreğinden gelen aydınlık gülüşe  
 C) Sabahleyin horozların ötüşüne  
 D) Çiçeklerin sessiz türkülerle açılmasına


13. Aşağıdaki cümlelerin hangisinde noktalama ile ilgili bir yanlışlık yapılmıştır?

- A) İşten izin alsam da oraya ancak 13:30'da gelebilirim.  
 B) Görevli, bu büyük paketi asansörle 5. kata çıkardı.  
 C) Çocuklar Barış Apt. önünde bağıra çağıra oynuyorlardı.  
 D) Şunu asla unutmayın: Sağlık en kıymetli hazinenizdir.

14.

1 Kasabadaki şenlik kalabalığı, hepimizi boğuyordu.

2 Bir sonbahar günü, deniz kıyısındaki taşlara oturuyordum.



3 Gece bastırınca kulübelerden cızlı ışıklar süzülür.


4 İlkbaharda okulumuzda şenlikler düzenleniyordu.


Numaralanmış cümlelerin hangisinde bu görselin çağrıştırdığı bir sözcük kullanılmıştır?


- A) 1 B) 2 C) 3 D) 4


15.

-----?-----









Dişlerimizi günde en az iki kere ve ikişer dakika boyunca fırçalamalıyız.

Ayrıca diş ipi kullanarak dişlerimizin arasını temizlemeliyiz.

Düzenli gargara yapmak diş ve diş etlerimizi güçlendirir.





Bu metinde “?” ile gösterilen yere getirmek için en uygun başlık aşağıdakilerden hangisidir?

- A) Dişler Neden Çürür? B) Diş ve Diş Eti Hastalıkları  
 C) Diş Tedavisindeki Yöntemler D) Diş Bakımı Nasıl Yapılmalı?


**TÜRKÇE TESTİ BİTTİ.**

# HAYAT BİLGİSİ

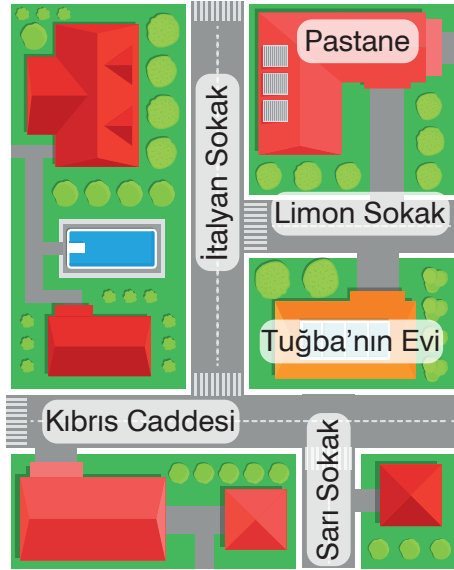
1. Bu testte 10 soru vardır.
2. Cevaplarınızı, bu sayfanın altında hayat bilgisi testi için ayrılan yere işaretleyiniz.

1.  Teneffüste arkadaşlarımla elim sende oynadım.  
 Kardeş okul projesi için kitap topladım.  
 Ailemle birlikte sıkça akraba ziyaretleri yaparım.  
 Olumlu iletişim kurmanın yollarını bilirim.

**Çiçeklerden hangisi sosyal yardımlaşma ve dayanışmaya örnektir?**

- A)  B)  C)  D) 

2.




**Verilen krokiye göre Tuğba'nın evinin adresi aşağıdakilerden hangisidir?**

- A) Kıbrıs Caddesi, İtalyan Sokak  
B) Pastane karşısı, Limon Sokak  
C) Kıbrıs Caddesi, Sarı Sokak  
D) Pastane yanı, İtalyan Sokak

3. Nisa, Esra'nın güvenini kazanmak istiyor. **Buna göre Nisa'nın aşağıdaki davranışlarından hangisi verilen amacına uygun olmaz?**

- A) Dürüstlük  
B) İkiyüzlülük  
C) Yardımseverlik  
D) Saygılı olmak

 BlokTest

Öğrenci No

Cevaplarınızı Bu Bölüme İşaretleyiniz														
Soru	A	B	C	D	Soru	A	B	C	D	Soru	A	B	C	D
1	<input type="radio"/>	<input type="radio"/>	<input type="radio"/>	<input type="radio"/>	14	<input type="radio"/>	<input type="radio"/>	<input type="radio"/>	<input type="radio"/>	27	<input type="radio"/>	<input type="radio"/>	<input type="radio"/>	<input type="radio"/>
2	<input type="radio"/>	<input type="radio"/>	<input type="radio"/>	<input type="radio"/>	15	<input type="radio"/>	<input type="radio"/>	<input type="radio"/>	<input type="radio"/>	28	<input type="radio"/>	<input type="radio"/>	<input type="radio"/>	<input type="radio"/>
3	<input type="radio"/>	<input type="radio"/>	<input type="radio"/>	<input type="radio"/>	16	<input type="radio"/>	<input type="radio"/>	<input type="radio"/>	<input type="radio"/>	29	<input type="radio"/>	<input type="radio"/>	<input type="radio"/>	<input type="radio"/>
4	<input type="radio"/>	<input type="radio"/>	<input type="radio"/>	<input type="radio"/>	17	<input type="radio"/>	<input type="radio"/>	<input type="radio"/>	<input type="radio"/>	30	<input type="radio"/>	<input type="radio"/>	<input type="radio"/>	<input type="radio"/>
5	<input type="radio"/>	<input type="radio"/>	<input type="radio"/>	<input type="radio"/>	18	<input type="radio"/>	<input type="radio"/>	<input type="radio"/>	<input type="radio"/>					
6	<input type="radio"/>	<input type="radio"/>	<input type="radio"/>	<input type="radio"/>	19	<input type="radio"/>	<input type="radio"/>	<input type="radio"/>	<input type="radio"/>					
7	<input type="radio"/>	<input type="radio"/>	<input type="radio"/>	<input type="radio"/>	20	<input type="radio"/>	<input type="radio"/>	<input type="radio"/>	<input type="radio"/>					
8	<input type="radio"/>	<input type="radio"/>	<input type="radio"/>	<input type="radio"/>	21	<input type="radio"/>	<input type="radio"/>	<input type="radio"/>	<input type="radio"/>					
9	<input type="radio"/>	<input type="radio"/>	<input type="radio"/>	<input type="radio"/>	22	<input type="radio"/>	<input type="radio"/>	<input type="radio"/>	<input type="radio"/>					
10	<input type="radio"/>	<input type="radio"/>	<input type="radio"/>	<input type="radio"/>	23	<input type="radio"/>	<input type="radio"/>	<input type="radio"/>	<input type="radio"/>					
11	<input type="radio"/>	<input type="radio"/>	<input type="radio"/>	<input type="radio"/>	24	<input type="radio"/>	<input type="radio"/>	<input type="radio"/>	<input type="radio"/>					
12	<input type="radio"/>	<input type="radio"/>	<input type="radio"/>	<input type="radio"/>	25	<input type="radio"/>	<input type="radio"/>	<input type="radio"/>	<input type="radio"/>					
13	<input type="radio"/>	<input type="radio"/>	<input type="radio"/>	<input type="radio"/>	26	<input type="radio"/>	<input type="radio"/>	<input type="radio"/>	<input type="radio"/>					

4. Aşağıdakilerden hangisi büyük-  
anne ve büyükbabalarının çocukluklarında oynadıkları oyun-  
cıklardan biri olabilir?

A)



B)



C)



D)



5. Aşağıdakilerden hangisi mut-  
fakta kullanılan teknolojik ürün-  
lerden değildir?

A) Ütü

B) Bulaşık makinesi

C) Fırın

D) Ocak

6. Ali'nin alışveriş listesindeki,

1. Mont

2. Kalem

3. Top

ürünlerinin temel ihtiyaçtan is-  
teğe doğru sıralaması aşağıda-  
kilerden hangisidir?

A) 1 - 2 - 3

B) 2 - 1 - 3

C) 2 - 3 - 1

D) 3 - 2 - 1

7. Aşağıdakilerden hangisi kay-  
nakları tasarruflu kullanmaya  
yönelik değildir?

A) Sensörlü çeşme kullanmak

B) Bayat ekmekleri kızartmak

C) Gereksiz yanan ışığı kapatmak

D) Bulaşıkları elde yıkamak

8. Bina, köprü, baraj yapıların inşa-  
sında planı yapan ve uygulayan  
mühendislerdir.

Verilen bilgi aşağıdaki mühen-  
dislik alanlarından hangisine  
aittir?

A) Ziraat

B) Bilgisayar

C) İnşaat

D) Gıda



9. Defne, okulundaki dilek kutusuna aşağıdaki listeyi atmıştır.

### İsteklerim ve İhtiyaçlarım

- Satranç kulübü kurulması
- Kantin ürünlerinin fiyatlarının düşürülmesi
- Okul temizliğine özen gösterilmesi

**Defne'nin listesi incelendiğinde okullarda dilek kutusu bulundurulmasının yararları arasında aşağıdakilerden hangisi yer almaz?**

- A) Düşünceyi açıklama özgürlüğüne imkân tanır.  
 B) Öğrencilerin okuldaki etkinliğini artırır.  
 C) Velilerin bilinçlenmesini sağlar.  
 D) Öğrencilerin sorunlara çözüm üretmesine olanak tanır.

10.

SERHAT'IN EVİNDE İŞ BÖLÜMÜ	
Evdeki İşler	Üstlenen Kişi
Bulaşıkları yıkamak	Annesi
Yemek yapmak	Annesi
Alışverişe çıkmak	Babası
Temizlik yapmak	Annesi
Oyuncakları toplamak	Serhat
Çöpleri toplamak	Annesi
Eşyaları katlamak	Ağabeyi

**Tabloya göre Serhat'ın evindeki iş bölümü hakkında aşağıdakilerden hangisi söylenebilir?**

- A) Sorumluluğun büyük bölümü anneye yüklenmiştir.  
 B) Tüm aile üyeleri iş bölümü yapmaya istekli olmuştur.  
 C) Babaları, Serhat ve ağabeyinden daha fazla sorumluluk almıştır.  
 D) Aile üyeleri arasındaki iş dağılımını anne yapmıştır.

**HAYAT BİLGİSİ TESTİ BİTTİ.**

# İNGİLİZCE

1. Bu testte 5 soru vardır.

2. Cevaplarınızı, bu sayfanın altında İngilizce testi için ayrılan yere işaretleyiniz.

1. short fast run strong

Verilen sözcükler arasında belli bir ilişki vardır.


**Bu ilişkinin dışında kalan sözcük hangisidir?**

- A) short                      B) fast  
C) run                         D) strong

2. \_\_\_\_\_ are my sisters.  
**Cümleyi doğru tamamlayan ifade hangisidir?**

- A) She                         B) He  
C) They                        D) That

3. Who can fly a kite?



- 4.



**Can she draw and color a picture?**

- A) Yes, she can.  
B) No, she can.  
C) Yes, she is.  
D) No, she isn't.

- 5.

# 20

**Verilen sayının doğru yazılışı hangisidir?**

- A) Twelve                      B) Eleven  
C) Twenty                      D) Ten

**İNGİLİZCE TESTİ BİTTİ.**

Cevaplarınızı Bu Bölüme İşaretleyiniz														
Soru	A	B	C	D	Soru	A	B	C	D	Soru	A	B	C	D
1	<input type="radio"/>	<input type="radio"/>	<input type="radio"/>	<input type="radio"/>	14	<input type="radio"/>	<input type="radio"/>	<input type="radio"/>	<input type="radio"/>	27	<input type="radio"/>	<input type="radio"/>	<input type="radio"/>	<input type="radio"/>
2	<input type="radio"/>	<input type="radio"/>	<input type="radio"/>	<input type="radio"/>	15	<input type="radio"/>	<input type="radio"/>	<input type="radio"/>	<input type="radio"/>	28	<input type="radio"/>	<input type="radio"/>	<input type="radio"/>	<input type="radio"/>
3	<input type="radio"/>	<input type="radio"/>	<input type="radio"/>	<input type="radio"/>	16	<input type="radio"/>	<input type="radio"/>	<input type="radio"/>	<input type="radio"/>	29	<input type="radio"/>	<input type="radio"/>	<input type="radio"/>	<input type="radio"/>
4	<input type="radio"/>	<input type="radio"/>	<input type="radio"/>	<input type="radio"/>	17	<input type="radio"/>	<input type="radio"/>	<input type="radio"/>	<input type="radio"/>	30	<input type="radio"/>	<input type="radio"/>	<input type="radio"/>	<input type="radio"/>
5	<input type="radio"/>	<input type="radio"/>	<input type="radio"/>	<input type="radio"/>	18	<input type="radio"/>	<input type="radio"/>	<input type="radio"/>	<input type="radio"/>					
6	<input type="radio"/>	<input type="radio"/>	<input type="radio"/>	<input type="radio"/>	19	<input type="radio"/>	<input type="radio"/>	<input type="radio"/>	<input type="radio"/>					
7	<input type="radio"/>	<input type="radio"/>	<input type="radio"/>	<input type="radio"/>	20	<input type="radio"/>	<input type="radio"/>	<input type="radio"/>	<input type="radio"/>					
8	<input type="radio"/>	<input type="radio"/>	<input type="radio"/>	<input type="radio"/>	21	<input type="radio"/>	<input type="radio"/>	<input type="radio"/>	<input type="radio"/>					
9	<input type="radio"/>	<input type="radio"/>	<input type="radio"/>	<input type="radio"/>	22	<input type="radio"/>	<input type="radio"/>	<input type="radio"/>	<input type="radio"/>					
10	<input type="radio"/>	<input type="radio"/>	<input type="radio"/>	<input type="radio"/>	23	<input type="radio"/>	<input type="radio"/>	<input type="radio"/>	<input type="radio"/>					
11	<input type="radio"/>	<input type="radio"/>	<input type="radio"/>	<input type="radio"/>	24	<input type="radio"/>	<input type="radio"/>	<input type="radio"/>	<input type="radio"/>					
12	<input type="radio"/>	<input type="radio"/>	<input type="radio"/>	<input type="radio"/>	25	<input type="radio"/>	<input type="radio"/>	<input type="radio"/>	<input type="radio"/>					
13	<input type="radio"/>	<input type="radio"/>	<input type="radio"/>	<input type="radio"/>	26	<input type="radio"/>	<input type="radio"/>	<input type="radio"/>	<input type="radio"/>					

# MATEMATİK

1. Bu testte 15 soru vardır.
2. Cevaplarınızı, bu sayfanın altında matematik testi için ayrılan yere işaretleyiniz.

1. Aşağıdaki kutunun içinde, üzerinde birer rakam yazan sekiz top bulunmaktadır.




Akın, bu kutudaki topların üzerinde yazan rakamlarla oluşturulabilecek üç basamaklı rakamları farklı en küçük tek sayıyı oluşturmuştur. Berna ise Akın'ın kullanmadığı topların üzerinde yazan rakamlarla oluşturulabilecek üç basamaklı rakamları farklı en büyük çift sayıyı oluşturmuştur.

**Buna göre Berna'nın oluşturduğu sayı, Akın'ın oluşturduğu sayıdan kaç fazladır?**

- A) 850                      B) 854                      C) 871                      D) 873

2. Aşağıda bazı beyaz eşyaların kütleleri gösterilmiştir.



128 kg



72 kg



42 kg

Metin, bu beyaz eşyaları taşıma kapasitesi 350 kg olan bir asansöre yükledikten sonra kendisi de asansöre binmiştir. Fakat asansör, taşıma kapasitesi 16 kg aştığından çalışmamıştır.

**Buna göre Metin'in kütlesi kaç kilogramdır?**

- A) 92    B) 94    C) 122    D) 124

Cevaplarınızı Bu Bölüme İşaretleyiniz														
Soru	A	B	C	D	Soru	A	B	C	D	Soru	A	B	C	D
1					14					17				
2					15					18				
3					16					19				
4					17					20				
5					18					21				
6					19					22				
7					20					23				
8					21					24				
9					22					25				
10					23					26				
11					24									
12					25									
13					26									

3. Aşağıda her birinde bir rakam yazan kartlar verilmiştir.

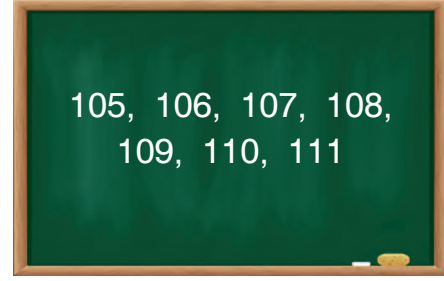


Esra, bu kartlardaki rakamları birer kez kullanarak oluşturulabilecek üç basamaklı en küçük ve en büyük doğal sayıyı defterine yazmıştır.

**Buna göre Esra'nın defterine yazdığı sayıların toplamı kaçtır?**

- A) 747                      B) 907  
C) 927                      D) 990
4. Kenan, 36'dan başlayarak ileriye doğru 3 adım altışar ritmik sayıyor. Daha sonra son söylediği sayıdan başlayarak ileriye doğru 4 adım yedişer ritmik sayıyor.
- Buna göre Kenan'ın en son söylediği sayı kaçtır?**
- A) 49    B) 61    C) 75    D) 82
5. Meltem 320 sayfalık bir kitabın ilk gün 89 sayfasını, ikinci gün 105 sayfasını ve üçüncü gün 97 sayfasını okumuştur.
- Buna göre Meltem'in bu kitaptan okumadığı kaç sayfa kalmıştır?**
- A) 29    B) 31    C) 39    D) 41

6. Sedef Öğretmen tahtaya aşağıdaki doğal sayıları yazmıştır.



Daha sonra Ekin'den bu doğal sayılardan tek olanları, Filiz'den ise bu doğal sayılardan çift olanları toplamasını istemiştir.

**Buna göre Ekin'in bulduğu sonuç, Filiz'in bulduğu sonuçtan kaç fazladır?**

- A) 8                              B) 18  
C) 108                          D) 208
7. Aşağıda Esin'in bir toplama işleminin sonucunu zihinden bulmak için izlediği adımlar verilmiştir.

**1. Adım:**  $36 + 4 = 40$

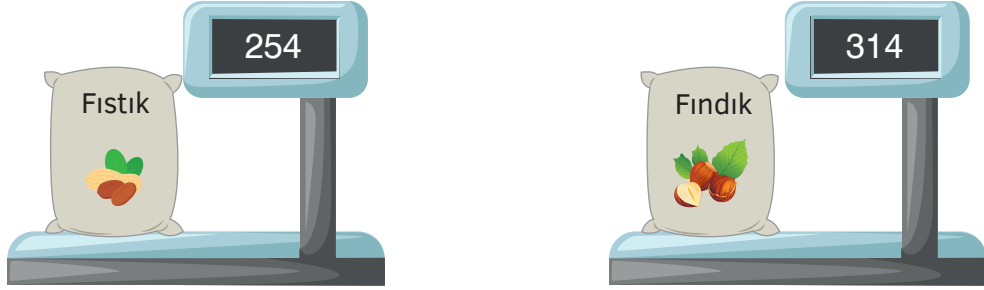
**2. Adım:**  $40 + 29 = 69$

**3. Adım:**  $69 - 4 = 65$

**Buna göre Esin'in zihinden yaptığı toplama işlemi aşağıdakilerden hangisidir?**

- A)  $36 + 25$                       B)  $36 + 29$   
C)  $40 + 25$                       D)  $40 + 36$

8. Bir kuru yemişçi, içinde fıstık ve fındık bulunan çuvalların kütlelerini ölçüm sonucunu kilogram cinsinden gösteren bir tartı ile aşağıdaki gibi ölçmüştür.

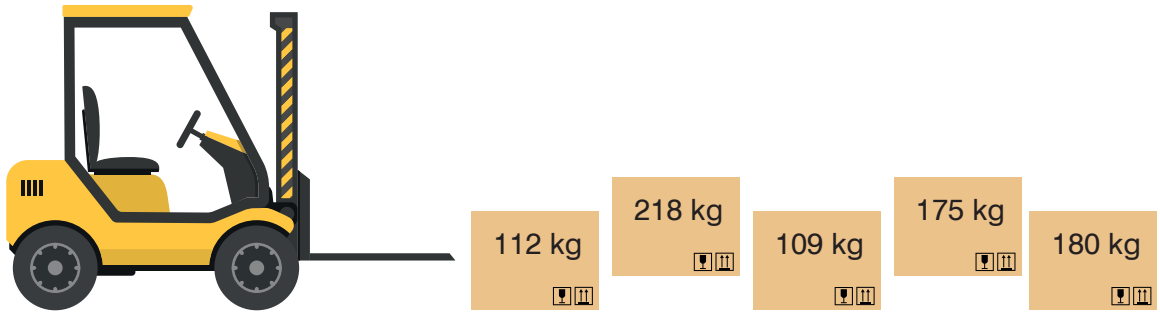


Bu kuru yemişçi ölçüm işleminden sonra 112 kilogram fıstık, 148 kilogram fındık satmıştır.

**Buna göre son durumda fıstık ve fındık çuvallarının toplam kütlesi kaç kilogramdır?**

- A) 276                      B) 308                      C) 318                      D) 376
9. Fork-lift, ağır yükleri kaldırarak bir araca ya da rafa yüklemek için kullanılan bir çeşit iş makinesidir.

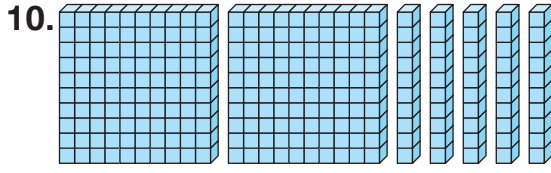
Aşağıda bir fork-lift ile bu fork-lifte yüklenecek kolilerin kütleleri verilmiştir.



Bu fork-lift tek seferde en fazla 400 kg yük taşıyabilmektedir.

**Buna göre bu fork-lift ile koliler en az kaç seferde taşınır?**

- A) 2                      B) 3                      C) 4                      D) 5



Onluk taban bloklarıyla gösterilen sayının okunuşu aşağıdakilerden hangisidir?

- A) Yüz on beş
- B) İki yüz beş
- C) İki yüz elli
- D) Beş yüz yirmi

11. Bir çiftlikte 132 horoz ve horozlardan 127 fazla tavuk vardır.

Buna göre bu çiftlikteki horoz ve tavukların sayısının toplamı kaçtır?

- A) 391
- B) 386
- C) 381
- D) 259

12. Üç basamaklı rakamları farklı en küçük tek doğal sayı ile iki basamaklı en büyük çift doğal sayının toplamı kaçtır?

- A) 198
- B) 199
- C) 200
- D) 201

13.

$$718 - 431$$

Can, yukarıdaki işlemin sonucunu sayıları en yakın onluğa yuvarlayarak tahmin etmiştir.

Buna göre Can'ın tahmini, işlem sonucundan kaç fazladır?

- A) 1
- B) 3
- C) 5
- D) 7

14.

$$\begin{array}{r} 5 \blacksquare 6 \\ + 187 \\ \hline 763 \end{array}$$

Verilen toplama işlemini sağlayan  $\blacksquare$  değeri kaçtır?

- A) 6
- B) 7
- C) 8
- D) 9

15.



Verilen sayı örüntüsüne göre  $\blacktriangle$  yerine yazılması gereken sayı kaçtır?

- A) 71
- B) 70
- C) 69
- D) 68

MATEMATİK TESTİ BİTTİ.

## FEN BİLİMLERİ

1. Bu testte 10 soru vardır.
2. Cevaplarınızı, bu sayfanın altında fen bilimleri testi için ayrılan yere işaretleyiniz.


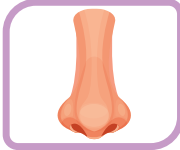

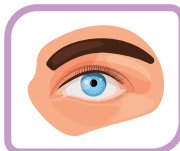
1. Banu Öğretmen öğrencilerinden Dünya'nın yuvarlak olduğunu ispatlayan örnekler vermelerini istemiştir.

**Buna göre öğrenciler aşağıdaki örneklerden hangisini vermiş olamaz?**

- A) Uzaklaşan cisimlerin görüntüsünün zamanla küçülmesi
- B) Yaklaşan bir geminin önce direği ve bacasının, sonra güvertesinin görülmesi
- C) Sürekli aynı yöne giden uçağın kalktığı yerden tekrar aynı yere gelmesi
- D) Uzaydan çekilen fotoğraflarda Dünya'nın küreye benzer şekilde görünmesi

2. Koku alma duyu organımızdır. Aynı zamanda solunum yaparak dışarıdan temiz hava almamızı sağlar.

**Verilen bilgide yer alan duyu organı aşağıdakilerden hangisidir?**


- A)  B) 
- C)  D) 

3.



**Verilen duyu organıyla ilgili aşağıdakilerden hangisi yanlıştır?**

- A) Başımızın her iki yanında bulunur.
- B) İşitmeyi sağlar.
- C) Sivri uçlu cisimlerle temizlenmelidir.
- D) Çok sıcak ve soğuktan korunmalıdır.

 BlokTest

Öğrenci No

Cevaplarınızı Bu Bölüme İşaretleyiniz														
Soru	A	B	C	D	Soru	A	B	C	D	Soru	A	B	C	D
1					14					17				
2					15					18				
3					16					19				
4					17					20				
5					18					21				
6					19					22				
7					20					23				
8					21					24				
9					22					25				
10					23					26				
11					24									
12					25									
13					26									

4.



Aşağıdakilerden hangisi verilen sandalye ile aynı hareketi yapar?

A)



Saat

B)



Tahterevalli

C)



Bebek arabası

D)



Dönme dolap

5. Aşağıdakilerin hangisinde yapılan hareket diğerlerinden farklıdır?

A)



Yarışa başlayan sporcu

B)



Yokuş aşağı inen bisikletli

C)



Kalkışa geçen uçak

D)



İstasyona yaklaşan tren

6.

1. Futbolda top iki takım arasında gidip gelerek yön değiştirme hareketi yapar.
2. Hareket halindeki otomobillerin tekerleği sallanma hareketi yapar.
3. Vantilatörün pervanesi dönme hareketi yapar.

Hareketle ilgili yukarıda verilen numaralanmış bilgilerden hangileri yanlıştır?

A) Yalnız 2

B) 1 ve 2

C) 1 ve 3

D) 1, 2 ve 3



7.



Verilen madde ile ilgili aşağıdaki özelliklerden hangisi yanlıştır?

- A) Pürüzsüz      B) Esnek  
C) Kırılğan      D) Yumuşak

8. Aşağıdaki maddelerden hangisi diğerlerinden daha kırılğandır?



9.



Yukarıdaki maddeyi tanımlarken hangi duyu organları kullanılır?

- A) Burun, kulak, deri  
B) Dil, burun, göz  
C) Kulak, göz, burun  
D) Kulak, deri, göz

10.



Mete ve Tuna laboratuvarında yaptıkları deneyde aşağıdaki kurallardan hangisine uyumamışlardır?

- A) Laboratuvarında açık alevle çalışılmaz.  
B) Laboratuvar çalışması sırasında önlük giyilmelidir.  
C) Laboratuvar temizliğine dikkat edilmelidir.  
D) Laboratuvarında çalışan kişiler eldiven takmalıdır.

**FEN BİLİMLERİ TESTİ BİTTİ.**

# 3. SINIF

# Tüm Dersler

Beceri Temelli  
Yeni Nesil Sorularla

8 Adet 55 Soruluk Deneme Sınavı

## TÜM DERSLER KILAVUZ DENEME SINAVLARI VE İÇERDİĞİ ÜNİTELER

Ders Adı	Deneme 1	Deneme 2	Deneme 3	Deneme 4	Deneme 5	Deneme 6	Deneme 7	Deneme 8
Türkçe	1-2-3 7-8	2-3-4 13-8	3-4-5-7-8-9- 10-13	3-4-5-6-7-8- 13-14	3-4-5-6-7-8- 13-14	3-4-5-6-7- 8-9-10-11- 13-14	3-4-6-7-8- 9-10-11-12- 13-14	3-4-5-6-7-8- 9-10-11-12- 13-14
Hayat Bilgisi	1	1-2	1-2-3	1-2-3	1-2-3-4	1-2-3-4-5	1-2-3-4-5-6	1-2-3-4-5-6
İngilizce	1-2	1-2-3	1-2-3-4-5	1-2-3-4-5-6	1-2-3-4-5- 6-7	1-2-3-4-5-6- 7-8-9-10	1-2-3-4-5-6- 7-8-9-10	1-2-3-4-5-6- 7-8-9-10
Matematik	1	1-2	1-2-3	1-2-3	1-2-3-4	1-2-3-4-5	1-2-3-4-5-6	1-2-3-4-5-6
Fen Bilimleri	1-2-3	1-2-3-4	1-2-3-4	1-2-3-4-5	1-2-3-4-5	1-2-3-4-5-6	1-2-3-4-5- 6-7	1-2-3-4-5- 6-7

## DERSLERDEKİ ÜNİTE VE KONU NUMARALARININ KAPSAMLARI

Türkçe	1. Dinleme Kuralları	8. Okuduğunu Anlama
	2. Harflerin Doğru Yazımı	9. Metin Türleri
	3. Sözcükte ve Sözcük Gruplarında Anlam	10. Gerçek ve Hayalî Ögeler
	4. Zıt Anlamlı Sözcükler	11. Oluş Sırası
	5. Eş Anlamlı Sözcükler	12. Görsel Okuma
	6. Eş Sesli Sözcükler	13. Noktalama İşaretleri
	7. Cümle Bilgisi	14. Büyük Harflerin Kullanımı ve Yazım Yanlışları
Hayat Bilgisi	1. Okulumuzda Hayat	4. Güvenli Hayat
	2. Evimizde Hayat	5. Ülkemizde Hayat
	3. Sağlıklı Hayat	6. Doğada Hayat
İngilizce	1. Greeting	6. My House
	2. My Family	7. In My City
	3. People I Love	8. Transportation
	4. Feelings	9. Weather
	5. Toys and Games	10. Nature
Matematik	1. Doğal Sayılar - Doğal Sayılarla Toplama İşlemi - Doğal Sayılarla Çıkarma İşlemi	4. Kesirler - Zaman Ölçme - Paralarımız - Tartma
	2. Doğal Sayılarla Toplama İşlemi - Doğal Sayılarla Çıkarma İşlemi - Veri Toplama ve Değerlendirme	5. Geometrik Cisimler ve Şekiller - Geometrik Örüntüler - Geometride Temel Kavramlar - Uzamsal İlişkiler
	3. Doğal Sayılarla Çarpma İşlemi - Doğal Sayılarla Bölme İşlemi	6. Uzunluk Ölçme - Çevre Ölçme - Alan Ölçme - Sıvı Ölçme
Fen Bilimleri	1. Gezegenimizi Tanıyalım	5. Çevremizdeki Işık ve Sesler
	2. Beş Duyumuz	6. Canlılar Dünyasına Yolculuk
	3. Kuvveti Tanıyalım	7. Elektrikli Araçlar
	4. Maddeyi Tanıyalım	