

# HAYAT BİLGİSİ

# 2

## DİNAMİK SORU BANKASI

4 Deneme Sınavı  
Föyü ile birlikte

- Yeni nesil sorular
- Destekleyici sütunlar
- Video çözümler
- Anahtar sorular
- Çözümlü sorular

10 Föy



## 2. SINIF HAYAT BİLGİSİ

## FÖY PLANI

NO	KONU
Föy-1	Okulumuzda Hayat
<b>Föy-2</b>	<b>Deneme Sınavı</b>
Föy-3	Evimizde Hayat
Föy-4	Sağlıklı Hayat
<b>Föy-5</b>	<b>Deneme Sınavı</b>
Föy-6	Güvenli Hayat
Föy-7	Ülkemizde Hayat
<b>Föy-8</b>	<b>Deneme Sınavı</b>
Föy-9	Doğada Hayat
<b>Föy-10</b>	<b>Deneme Sınavı</b>
FÖY-11	YANITLAR

## Test 1: Okulum ve Ben

1.

## ANAHTAR SORU

Aşağıdaki bilgi grafiğinde bir öğrenciye ait okul malzemeleri harflerle gösterilmiştir. Pazartesi günü ders programı verilmiştir.

## OKUL MALZEMELERİM



## DERS PROGRAMIM

1. Ders	Hayat Bilgisi
2. Ders	Türkçe
3. Ders	Türkçe
4. Ders	Matematik
5. Ders	Görsel Sanatlar
6. Ders	Oyun ve Fiziki Etkinlikler

Buna göre öğrencinin pazartesi günkü okul çantası hazırlığıyla ilgili aşağıdakilerden hangisini yapması doğru olmaz?

- A) A, B, G'de bulunan kitapları çantasına koymalıdır.
- B) C ve D'deki malzemeler yalnızca 2 ve 3. dersi için gereklidir.
- C) 5. dersi için E ve H'deki malzemelere ihtiyacı vardır.
- D) 6. ders için F'deki malzemeye gerek duyar.

## ÇÖZÜM

C ve D'deki malzemeler okul için temel ihtiyaçlarımızdandır. Defter ve kalemleri Türkçe dersinin yanında matematik ve hayat bilgisi dersinde de kullanırız.

YANIT: B

## DİKKAT

Fiziksel farklılıklar **dış görünüşle ilgilidir.**

Bunlar arasında;

- Göz, saç ve ten rengi
- Boy uzunluğu
- Kilo yer alır.



Bu soruyu çözmekte zorlanıyorsan

**kendi gelişim**

**sürecine bakmalısın.**

Doğduğun andan şu anki zamana kadar boyunda, kilonda, ayakkabı numaranda ve kimlik kartı bilgilerinde bir değişim olup olmadığını sorgulamalısın.

**Bu sorgulama sonucunda bazı özelliklerinin yaşa bağlı olarak arttığını göreceksin.**

2.

Aşağıdaki listeye Deren'in bazı fiziksel özellikleri yazılmıştır.



Deren

DEREN'İN FİZİKSEL ÖZELLİKLERİ

Sarı saçlıdır.

Beyaz tenlidir.

Saçları uzundur.

Mavi gözlüdü.

Saçları kıvrıktır.

**Deren'le ilgili yazılan fiziksel özelliklerden kaçısı doğrudur?**

A) 2

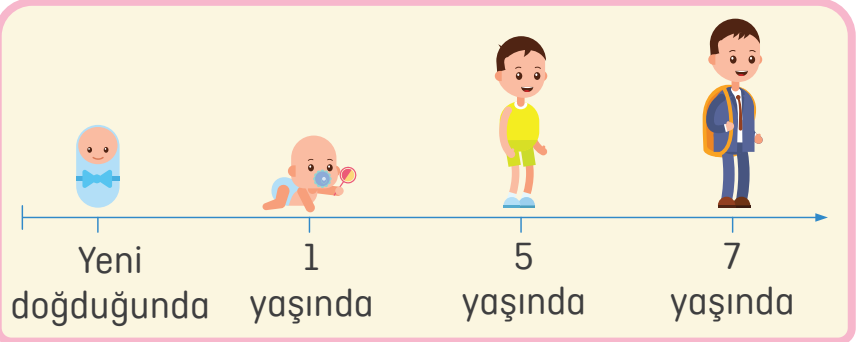
B) 3

C) 4

D) 5

3.

KOLAYCA ÇÖZELİM



Yukarıda Efe'nin yaşı büyüdükçe yaşadığı fiziksel değişim gösterilmiştir.

**Buna göre Efe'nin büyüdükçe aşağıdaki özelliklerinden hangisinin değiştiği söylenemez?**

A) Boy uzunluğunun

B) Kilosunun

C) Ayakkabı numarasının

D) Kimlik bilgisinin

4.

## ÇÖZÜMÜ YANITLARDA

Seda, babasının işi nedeniyle taşındıkları için 2. sınıfa başladığında başka bir okula geçiş yaptı. Yeni sınıfında arkadaşlarına ve öğretmenine karşı oldukça çekingen davrandı. Gün sonunda öğretmeni, "Geçen yıl sınıfımızla ilgili kararları birlikte belirlemiştik. Bunları tekrar etmekte fayda görüyorum. Sınıfımızla ilgili konularda görüşlerinizi ifade etmelisiniz. Eğer konuşmazsanız ne düşündüğünüzü ben ya da arkadaşlarınız bilemeyebilir. Bu açıdan iletişim kurmanız oldukça önemli." sözlerini söyledi. Öğretmenini dinleyen Seda, ilerleyen günlerde konuşmaya daha istekli görünmeye başladı.

**Verilen metin sınıf kurallarının aşağıdaki özelliklerden hangisine sahip olduğunu gösterir?**

- A) Her öğrencinin düşüncelerini ifade etmesiyle oluştuğu
- B) Öğrencileri grup çalışmalarına yönlendirdiği
- C) Nezaket ifadelerini yaygınlaştırdığı
- D) Öğretmenin düşüncelerine göre şekillendiği

**5. Aşağıdakilerden hangisi ilgi ve yetenek farklılığıyla ilgilidir?**

A)



Güler yüzlü ve yardımsever biri olduğumu düşünüyorum.

B)



Resim yapmayı seviyorum ve yaptığım resimler arkadaşlarım tarafından beğeniliyor.

C)



Görme sorunu yaşadığım için gözlük kullanıyorum.

D)



İnsanlarla konuşurken kırıcı olmamaya özen gösteriyorum.

**6. Aşağıdakilerden hangisi sınıf kurallarından biri olamaz?**

- A) Zil çalınca derse hazırlık yapmak
- B) Konuşmak için söz istemek
- C) Öğretmeni dinlemek
- D) Yüksek sesle konuşmak

7.

Cansu Eda'yla kitabını paylaşmıştır.

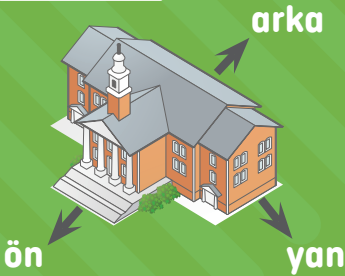
**Bu durumda Eda Cansu'ya aşağıdakilerden hangisini söylemelidir?**

- A) Teşekkür ederim.
- B) Özür dilerim.
- C) Rica ederim.
- D) Lütfen.



Bu soruyu çözmekte zorlanıyorsan kendi okul çevreni gözlemlemelisin. Okulunun sağında, solunda, önünde, arkasında hangi yapılar olduğunu fark edersen yer tarifiyle ilgili soruları kolayca çözebilirsin.

### ÖRNEK

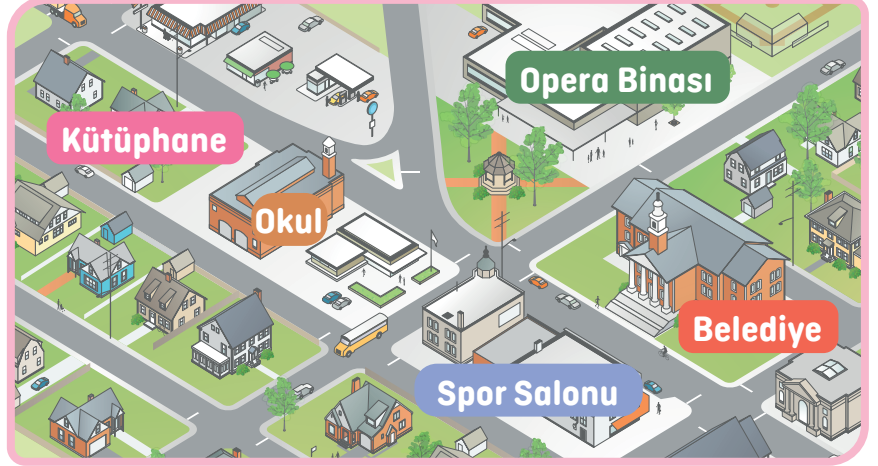


### HATIRLA

**İhtiyaçlarını** karşılamak için etrafında bulunan market, eczane gibi yerlere gittiğini hatırlamalısın.



### KOLAYCA ÇÖZELİM



**Aşağıdakilerden hangisi okulun yerini tarif etmek için kullanılamaz?**

- A) Kütüphanenin yanında
- B) Belediyenin arkasında
- C) Opera binasının karşısında
- D) Spor salonunun yanında



Selim Bey, yaz tatilinde torunu Seher'i görebilmek için İzmir'e gitti. Birlikte vakit geçirebilmek için torunuyla dışarıya çıktıklarında çevreyi pek tanımadığını fark etti. Bunu torunuyla paylaştığında Seher, "Dedeciğim evimizin hemen arkasında çocuk parkı var. Oyun oynamam için oraya gidebiliriz. Eğer ilaca ihtiyacın olursa karşımızda eczane var. Yiyecek almak için ise hemen yanımızdaki markete gidebiliriz." şeklinde açıklama yaptı.

**Buna göre yakın çevremizi tanımak aşağıdaki kolaylıklardan hangisini sağlar?**

- A) Gereksinimlerimizi karşılamamızı
- B) Derslerde başarılı olmamızı
- C) Ailemizle iyi geçinmemizi
- D) Sınıf içi etkinliklere katılmamızı

3.

## ÇÖZÜMÜ YANITLARDA

Bir kaynağı dikkatli kullanma ve idareli harcama işine tasarruf denir.

**Buna göre aşağıdakilerden hangisi okul kaynaklarını tasarruflu kullanmaya yönelik kurallara örnek oluşturur?**

- A) Farklı düşüncede olan arkadaşlarımıza nazik davranmalıyız.
- B) Tuvaletlerdeki muslukları işimiz bitince kapatmalıyız.
- C) Grup çalışmalarında iş birliği yapmaya özen göstermeliyiz.
- D) Ders sırasında başkalarını rahatsız edecek davranışlardan kaçınmalıyız.

4.

Can, kış aylarındayken teneffüste sınıfı havalandırdıktan sonra ısı kaybını önlemek için kapı ve pencereleri kapatır.

**Buna göre Can'la ilgili aşağıdakilerden hangisi söylenemez?**

- A) Sorumluluk sahibidir.
- B) Kaynakları bilinçli kullanır.
- C) Özenli biridir.
- D) Derslerinde başarılıdır.

5.



**Verilenlerden kaç grup çalışmalarında gerekli olanlar arasında yer alır?**

- A) 1
- B) 2
- C) 3
- D) 4

6.

## OKULDA SU TASARRUFU





Lavabo, musluk ve gider kontrolleri düzenli olarak yapılmalıdır.

Okul bahçesindeki ağaç ve bitkiler gün batımında doğru sulanmalıdır.

**Okulda bu tasarrufların sağlanması aşağıdakilerden hangisinin kontrolü altındadır?**

- A) Öğretmen
- B) Veli
- C) Okul müdürü
- D) Öğrenci

### TANIM

**Grup çalışması** 2-8 öğrencinin bir araya gelerek bir konuyu araştırmak veya bir ürün ortaya koymak için yaptığı çalışmalardır. Bu çalışmaların amacı **sosyalleşmemizi sağlamak ve bize birlikte çalışma alışkanlığı kazandırmaktır.**

### ÖĞREN

**Grup çalışmalarının gereklilikleri arasında,**

- **Sorumluluk** almak
- **Anlayışlı** olmak
- **İş birliği** yapmak vardır.



**Yardımlaşmanın** grup çalışmalarının kurallarından biri olduğunu bilmelisin.

7. Grup çalışmalarında öğrencilerin benimsemesi gereken bazı özellikler vardır. Bu özelliklerden bazıları tanımlarıyla eşleştirilecektir.

- |                  |   |
|------------------|---|
| ● Dürüstlük      | ● İyilikseverlik, hayırseverlik                     |
| ● Yardımseverlik | ● Bir kimseye karşı dikkatli özenli ölçülü davranma |
| ● Saygı          | ● Olacak bir şeyi telaş göstermeden bekleme         |
| ● Sabır          | ● Doğru olana yakışır davranış, doğruluk            |

Bu eşleştirme için özellikler ve tanımlar arasına çizgiler çekilecektir.

**Buna göre eşleştirme çizgileri aşağıdakilerden hangisi gibi görünür?**

- A) 
- B) 
- C) 
- D) 



8.

### KOLAYCA ÇÖZELİM

Sevgili günlük,  
Bugün okulda grup çalışması yaptık. [1] Grupta iş birliği yapmaya istekli olanlar vardı. [2] Düşüncelerini ağılayarak kabul ettirmeye çalışanlar da oldu. [3] Bazıları tüm görevleri tek başına yapmak istedi. [4] Sorumluluklarını yerine getirmeyen arkadaşlarım da vardı.

**Numaralanmış cümlelerden hangisi grup çalışmalarına uygun bir davranış içerir?**

- A) 1                      B) 2                      C) 3                      D) 4



1. Aşağıdakilerden hangisi okul ihtiyaçlarımızdan biri değildir?



2. Aşağıdakilerden hangisi arkadaşlarımızla ilişkilerimizi olumlu etkileyen davranışlardan biridir?

- A) Sevecenlik      B) Uyumsuzluk  
C) Alınganlık      D) Mızızlık

3.



- a. Kolay gelsin.  
b. Afiyet olsun.  
c. Geçmiş olsun.

Görsellerin uygun ifadelerle eşleştirilmesi aşağıdakilerin hangisinde yer alır?

- A) 1-a, 2-b, 3-c      B) 1-b, 2-a, 3-c  
C) 1-b, 2-c, 3-a      D) 1-c, 2-a, 3-b

4.



Annesi doğum gününde Selin'e hediye almıştır.

Bu durumda nezaket kurallarına göre Selin'in aşağıdakilerden hangisini söylemesi gerekir?

- A) Lütfen.      B) Rica ederim.  
C) Teşekkürler.      D) Tebrik ederim.

## ÖĞREN

**Oyun oynarken uymamız gereken kurallar şunlardır:**


- Kuralları kendi isteğimize göre değiştirmeye çalışmamalıyız.
- Oyun arkadaşlarımıza karşı **adil** davranmalıyız.
- Takım arkadaşlarımızla **iş birliği** içinde olmalıyız.
- **Nezaket ifadelerini** kullanarak konuşmalıyız.
- Öfkemizi kontrol etmeliyiz.
- Arkadaşımıza zarar verebilecek davranışlardan kaçınmalıyız.
- Kaybetmenin de kazanmak kadar doğal olduğunu bilmeli, kazanan arkadaşımızı **tebrik** etmeliyiz.

5.

VIDEO ÇÖZÜM



Yağmur ve Uğur oyun oynarken aşağıdaki davranışları sergilemiştir.



**Yağmur ve Uğur'un numaralanmış davranışlarının olumlu ve olumsuz olarak gruplandırılması aşağıdakilerin hangisinde yer alır?**

	<u>Olumlu</u>	<u>Olumsuz</u>
A)	1, 3, 4	2, 5, 6
B)	1, 5, 6	2, 3, 4
C)	2, 3, 6	1, 4, 5
D)	3, 4, 5	1, 2, 6

6.

### ÇÖZÜMÜ YANITLARDA

Erdem ve Alp teneffüste voleybol oynarken yanlarına Nil gelmiştir. Erdem ve Alp Nil'e kızların voleybol oynayamayacağını söyleyerek onu aralarına almamışlardır.

**Buna göre Erdem ve Alp'le ilgili aşağıdakilerden hangisi söylenebilir?**

- A) Nil'le iş birliği yapmışlardır.
- B) Nil'in bireysel farklılığına saygı göstermemişlerdir.
- C) Nil'e fiziksel zarar vermişlerdir.
- D) Nil' karşı nezaket ifadeleri kullanmışlardır.

**7. Aşağıdakilerden hangisi iyi bir dinleyicinin özellikleri arasında yer almaz?**

- A) Katılmadığı düşünceleri de saygıyla dinler.
- B) Konuşan kişiyle göz teması kurar.
- C) Konuşan kişinin sözünü kesmez.
- D) Karşısındaki kişi konuşurken başka şeyler düşünür.

**8. Okulda arkadaşlarımızla oyun oynarken aşağıdakilerin hangisinden kaçınmalıyız?**

- A) Neşeli zaman geçirmekten
- B) Saygılı olmaktan
- C) Kaba davranışlar sergilemekten
- D) Nazik ifadeler kullanmaktan

**9.** Okula geldiğimde öğle yemeğimi evde unuttuğumu fark ettim. Kendimi biraz da hasta hissediyordum. Burnum akıyordu. Ders başladığında kalemimi de yanıma almadığımı gördüm.

**Bu durumda Buket'in kantinden aşağıdakilerden hangisini almasına gerek yoktur?**

A)



B)



C)



D)



## TANIM

Seçeneklerde geçen yön ifadelerinden bazılarının anlamı şu şekildedir:

- **Karşı:** Bir yerin ön yüzünün ilerisi.
- **Yan:** Bir yerin ön, arka, alt ve üst dışında kalan bölümü.

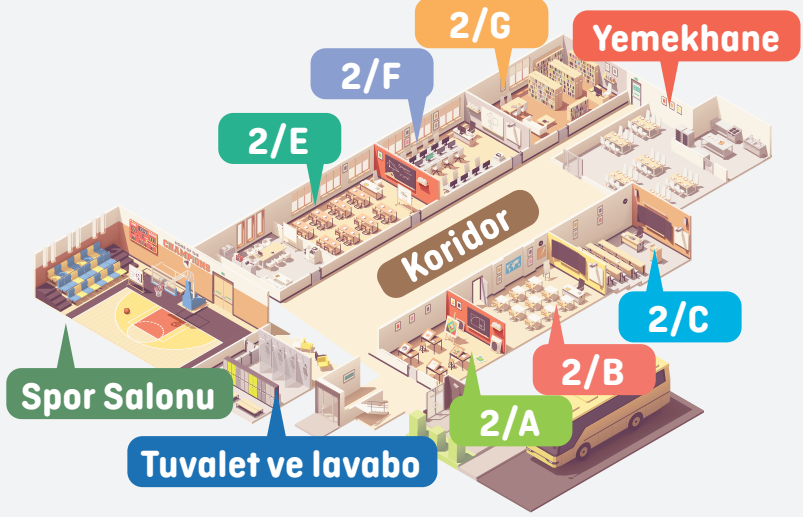
## DİKKAT

Okulunun çevresindeki yapıların ve kurumların yerlerini, cadde ve sokakların ismini bilersen **okulunun yerini sıkıntı çekmeden tarif edebilirsin.**



Bu soruyu çözmekte zorlandysan "Okulumun Yeri ve Konumu" konusunu tekrar etmelisin.

1.

VIDEO  
ÇÖZÜM

**2/B'nin konumuyla ilgili aşağıdakilerden hangisi söylenemez?**

- 2/E, 2/F ve 2/G'ye göre koridorun karşısında yer almaktadır.
- 2/B öğrencilerinin spor salonu ile tuvalet ve lavaboya ulaşabilmeleri için sınıftan çıkınca sola dönmeleri gerekmektedir.
- 2/B öğrencilerinin yemekhaneye ulaşabilmeleri için sınıftan çıkınca sağa dönmeleri gerekmektedir.
- 2/A ve 2/C sınıflarının sağ tarafında yer almaktadır.

2.

## KOLAYCA ÇÖZELİM

Okulumuzun çevresini tanımak okulumuzun yerini tarif ederken bize ..... sağlar.

**Verilen cümledeki boşluğa aşağıdakilerden hangisi getirilebilir?**

- kolaylık
- başarı
- güçlük
- öz denetim

3.

## ÇÖZÜMÜ YANITLARDA

Oyun oynarken yanlışlıkla bir arkadaşınızın yere düşmesine sebep olduğunuzu düşünün.

**Bu durum karşısında nezaket kuralları çerçevesinde,**

1. Önüme geçtiğin için hatalısın.
2. Seni uyardığım için benim bir suçum yok.
3. Özür dilerim canını acıtmak istememiştim.

**ifadelerinden hangilerini kullanmanız doğru olmaz?**

- A) Yalnız 3                      B) 1 ve 2  
C) 2 ve 3                        D) 1, 2 ve 3

4.

- Sınıf başkanını öğretmenin seçmesi
- Gündüz vakti sınıfta lambaların açık bırakılması
- Farklı düşüncelere saygılı olunması
- Grup çalışmalarında dayanışmaya önem verilmesi
- Sınıf kitaplığındaki kitapların özenli kullanılması
- Sıraların üstünün çizilmesi

**Verilenlerden kaç tane doğru davranışlar arasında yer alır?**

- A) 3                                  B) 4  
C) 5                                  D) 6

5. Aşağıdakilerden hangisi okul kaynaklarından biri değildir?

A)



B)



C)



D)



6. Kuralların uygulandığı bir okulda aşağıdakilerden hangisinin gelişmesi beklenir?

- A) Gürültünün  
B) Hoşgörünün  
C) Gruplaşmaların  
D) Karmaşıklığın

## DİKKAT

Okul çantamıza o güne ait olmayan ders araç gereçlerini koymak **gereksiz yere çantamızı ağırlaştırır**. Bu nedenle dersler için gerekli olan malzemeleri bilmelisin. **Okul çantasına o günkü ders programında yer alan derslerin kitaplarını ve bu derse ait araç gereçleri koymalısın. Örneğin**, görsel sanatlar dersinin olduğu gün resim defterini ve boya kalemlerini yanına almalısın.

## HATIRLA

**Flüt, melodika** gibi müzik aletlerinin müzik dersinde kullanıldığını hatırlamalısın.

7.



- a. Türkçe  
b. Görsel Tasarım  
c. Hayat Bilgisi  
d. Matematik  
e. Beden Eğitimi  
f. Müzik

**Görselleri verilen ders araçlarının ilgili olduğu derslerle eşleştirilmesi aşağıdakilerin hangisinde yer alır?**

- A) 1- f, 2- b, 3-a, 4-c, 5-d, 6-e  
B) 1- e, 2- b, 3-a, 4-c, 5-d, 6-f  
C) 1- f, 2- a, 3-b, 4-c, 5-e, 6-d  
D) 1- c, 2- b, 3-f, 4-a, 5-d, 6-e

8.

Yanda Nil'in pazartesi gününe ait ders programı verilmiştir.

1. Ders	Hayat Bilgisi
2. Ders	Türkçe
3. Ders	Türkçe
4. Ders	Matematik
5. Ders	Matematik
6. Ders	Görsel Sanatlar

**Verilen ders programına göre Nil'in aşağıdakilerden hangisini çantasına koyması gerekir?**

- A) Eşofman  
B) Melodika  
C) Boya kalemi  
D) Flüt

9.



Ecem

Bu yıl 2. sınıfa başlayacağım.



Serhat

Boyum sınıftaki arkadaşlarıma göre uzun ve ben 28 kiloyum.



Suzan

Büyüyünce bilgisayar mühendisi olmak istiyorum.



Güven

Dans etmeyi çok seviyorum.

**Yukarıdaki öğrencilerden hangisi fiziksel özelliklerine ait bir bilgi vermiştir?**

- A) Serhat                      B) Ecem  
C) Suzan                        D) Güven

**10. Aşağıdakilerden hangisi ilgi ve yetenek alanını örneklerdir?**

- A) Kısa boylu olmak  
B) Zayıf olmak  
C) Ela gözlü olmak  
D) Bale yapmak

**11. Sınıf kuralları belirlenirken,**

1. Herkes düşüncesini dile getirmelidir.
2. Öğretmen belirlemeli ardından öğrencilere aktarmalıdır.
3. Öğrenciler arası etkileşimi artırıcı nitelikte olmalıdır.

**özelliklerinden hangilerine dikkat edilmelidir?**

- A) 1 ve 2                      B) 1 ve 3  
C) 2 ve 3                      D) 1, 2 ve 3

**12. Yanlışlıkla çarpıp düşürdüğümüz bir arkadaşımıza aşağıdakilerden hangisini söylersek nezaket kurallarına uymuş oluruz?**

- A) Yavaş olsana biraz!  
B) Önüne bak!  
C) Özür dilerim.  
D) Rica ederim.

**13. Aşağıdaki davranışlardan hangisi vücudumuzun zarar görmesine neden olur?**

- A) Gün içinde 2 litre su tüketmek  
B) Spor etkinliklerine katılmak  
C) Islak zeminde koşmak  
D) Sabah kahvaltısı yapmak

## DİKKAT

İnsanları birbirinden ayıran özelliklere **bireysel farklılık** denir. Bireysel farklılıklar dış görünüşümüzle ilgili olabileceği gibi **ilgi, yetenek ve ihtiyaçlarımızı** da kapsar.

## BİLİYOR MUSUN?

**Yeteneklerimiz doğuştan gelir.** İlerleyen yaşlarımızda edindiğimiz mesleklerin yeteneklerimize uygun olması başarımızı olumlu yönde etkiler. Hatta şirketler çalışanlarının yeteneklerini yönetmek için yöneticilerine eğitimler vermektedir.

1. Aşağıda Gözde, Özgür ve Gaye kendileriyle ilgili bilgiler vermiştir.



Gözde

Gözlerim ve saçlarım kahverengi. Pamuk adında bir kedim var. Pamuk ile oyun oynamayı ve ailemle yemek yapmayı çok seviyorum. Büyüyünce veteriner olmak istiyorum.

Bu ay tam sekiz yaşında olacağım. Günden güne boyum uzuyor ve kilo alıyorum. Gözlerim annemin gözleri gibi mavi. Okuldan eve dönünce bilgisayarda vakit geçirmeyi seviyorum. Gelecekte bilgisayar oyunu tasarımcısı olmayı istiyorum.



Özgür



Gaye

Kıvrık siyah saçlarım ve ela gözlerim var. Doğa resimleri çizmeyi seviyorum. En sevdiğim renk yeşil. İleride ressam olursam çok mutlu olacağımı düşünüyorum.

**Öğrencilerin verdiği bilgilerden hareketle aşağıdakilerden hangisini söylememiz yanlış olur?**

- A) Gözde ve Gaye'nin boş zamanlarında yapmaktan hoşlandıkları etkinlikler birbirinden farklıdır.  
B) Gözde fiziksel özelliklerinden, ilgi ve yetenek alanlarından bahsetmiştir.  
C) Özgür ve Gaye'nin fiziksel özellikleri birbirinden farklıdır.  
D) Gözde, Özgür ve Gaye ilgi alanlarına uygun meslek sahibi olmak istemektedir.



2.

## ÇÖZÜMÜ YANITLARDA

Oyun sonunda rakiplerimize karşı tavrımız aşağıdakilerden hangisi olmalıdır?

- A) Kazandıysak sevincimizi abartarak göstermeliyiz.
- B) Kazansak da kaybetsek de oyuncuları tebrik etmeliyiz.
- C) Kaybettiyssek tekrar oynamak için diretmeliyiz.
- D) Kaybettiyssek takım arkadaşlarımızı suçlamalıyız.

3.



Bu pankarta göre paramızı kullanırken aşağıdakilerden hangisine dikkat etmeliyiz?

- A) Temel ihtiyaçlarımızın karşılanmasına önem vermeliyiz.
- B) Canımızın çektiği tüm yiyecekleri almak için çabalamalıyız.
- C) İhtiyaçlardan önce isteklerimizi almalıyız.
- D) Biriktirmek yerine harcamayı tercih etmeliyiz.

4. Feriha ve Deniz kardeşir.



Feriha ve Deniz'in,

- 1. Saç renkleri
- 2. Boy uzunlukları
- 3. Ten renkleri

özelliklerinden hangileri farklıdır?

- A) Yalnız 2
- B) 1 ve 2
- C) 1 ve 3
- D) 2 ve 3

5. Aşağıdaki davranışlardan hangisi sınıf düzenini bozucu nitelik taşır?

- A) Sınıf malzemelerini özenli kullanmak
- B) Grup çalışmalarında sorumluluk üstlenmek
- C) Arkadaşlara dış görünüşleriyle ilgili isim takmak
- D) Öğretmenin verdiği görevleri yerine getirmek

## DİKKAT

- Okul, kütüphane ve Selin'in evi arasında bulunmaktadır.
  - Hastane girişi Güvercin Sokak'tan yapılmaktadır.
- Binaların kapılarının hangi sokak ya da caddeye baktığına dikkat etmelisin:**
- Selin'in evi, Leylak Sokak'a
  - Okul, Atatürk Caddesi'ne
  - Kütüphane, Çetin Sokak'a
  - Eczane ve Banka Sardunya Sokak'a bakmaktadır.

## ÖĞREN

Selin, okuldan sonra eczaneye gitseydi Atatürk Caddesi - Sardunya Sokak yolunu izleyecekti.

(6 ve 7. soruları aşağıdaki şekle göre yanıtlayın.)



VIDEO  
ÇÖZÜM



6. Okulun sol ve sağ tarafında yer alan binalar aşağıdakilerin hangisinde yer alır?

- A) Selin'in evi - Kütüphane
- B) Eczane - Hastane
- C) Banka - Kütüphane
- D) Selin'in evi - Eczane

7. Okuldan çıktıktan sonra hastaneye gidecek olan Selin sırasıyla aşağıdaki yollardan hangilerini kullanacaktır?

- A) Leylak Sokak - Sardunya Sokak
- B) Çetin Sokak - Atatürk Caddesi
- C) Çetin Sokak - Leylak Sokak
- D) Atatürk Caddesi - Güvercin Sokak

# DİNAMİK SORU BANKASI

## 2. SINIF / HAYAT BİLGİSİ

©Tudem Eğitim Hiz. San. ve Tic. AŞ  
1476/1 Sokak No: 10/51 Alsancak / Konak / İZMİR

**YAZARLAR:** Tudem Yazı Kurulu  
**DİZGİ VE GRAFİK:** Tudem Grafik Ekibi

**BASKI VE CİLT:** Ertem Basım Yayın Dağıtım San. Tic. Ltd. Şti.  
Eskişehir Yolu 40. km Başkent OSB 22. Cadde No: 6 Malıköy / ANKARA  
0 312 284 18 14

**ISBN:** 978-605-285-560-7

**YAYINEVİ SERTİFİKA NO:** 45041  
**MATBAA SERTİFİKA NO:** 48083

Tüm hakları saklıdır.  
Bu yayının hiçbir bölümü, telif hakkı sahibinin önceden yazılı izni olmaksızın tekrar üretilemez, bir erişim sisteminde tutulamaz, herhangi bir biçimde elektronik, mekanik, fotokopi, kayıt ya da diğer yollarla iletilemez.

[www.tudem.com](http://www.tudem.com)

### KİTABI VERİMLİ KULLANMAK İÇİN

Sol sayfalarda beceri temelli yeni nesil sorular ve bu soruların ilgili olduğu konularda destekleyici sütunlar yer almaktadır. Bu sütunlarda, “dikkat, tanım, hatırla, kolayca çözelim” gibi başlıklardaki kutular en büyük yardımcınız olacak.

**VIDEO**  
**Ç Ö Z Ü M**



Testlerde yer alan özel nitelikli bazı soruların video çözümüne, karekodu okutarak ulaşın.



#### ANAHTAR SORU

Konu ile ilgili öğretici nitelikteki soruların ayrıntılı çözümlerini inceleyin.



#### ÇÖZÜMÜ YANITLARDA

Testlerdeki ayırt ediciliği yüksek bazı soruların çözümlerine, yanıtlar föyünden ulaşın.

**NOT:**

Kitapta, ikişer deneme sınavı içeren 4 adet Deneme Sınavı Föyü bulunmaktadır. Bu sınavları çözdükten sonra “mobil ölçme” uygulamasıyla kontrol sağlayabilirsiniz.

# HAYAT BİLGİSİ

# 2

## DİNAMİK SORU BANKASI

### 10 Föy

## 4 Deneme Sınavı Föyü ile birlikte

Bu kitapta;

- Beceri Temelli Eğitim Modeli'ne uygun,
- Yeni nesil sorularla zenginleştirilmiş,
- "Bilgi"yi kullandıran,
- "Beceri"yi geliştiren,
- "Yeterlilik"i ölçen,
- Toplam 373 soru yer almaktadır.



[www.mobilolcme.com](http://www.mobilolcme.com)

App Store

Google Play

[www.tudem.com](http://www.tudem.com)

ISBN 978-605-285-560-7



9 786052 855607