

7.SINIF

Sosyal Bilgiler



40 Adet 10 Soruluk Deneme Sınavı

Beceri Temelli Yeni Nesil Sorularla

BlokTest®

Sosyal Bilgiler



1

Adı Soyadı :

Sınıf - Şube - No :

Okulu :

1. Sınavda Sosyal Bilgiler dersinden 10 Beceri Temelli Yeni Nesil Test Sorusu vardır.
2. Önce yanda verilen cevap formundaki öğrenci no bölümünü kodlayınız.
3. Cevaplarınızın cevap formuna işaretlenmiş olması gereklidir. Kitapçığa işaretlenmiş cevaplar geçersizdir.
4. Bu testte her sorunun bir tek doğru cevabı vardır. Bir soru için birden çok cevap yeri işaretlenmişse o soru yanlış cevaplanmış sayılır.
5. Cevaplamaya geçmeden önce üstteki alana adınızı, soyadınızı, sınıf ve şubenizi, numaranızı ve okulunuzu yazınız.
6. Kitapçığıtaki boş alanları müsvedde olarak kullanabilirsiniz.

BlokTest

Öğrenci No

Cevaplarınızı Bu Bölüme İşaretleyiniz									
Soru	A	B	C	D	Soru	A	B	C	D
1					14				
2					15				
3					16				
4					17				
5					18				
6					19				
7					20				
8					21				
9					22				
10					23				
11					24				
12					25				
13					26				

1. İletişim, tüm canlılar için olmazsa olmaz bir nitelik taşımaktadır. Kullanılan yöntemler birbirinden farklı da olsa, tüm canlılar duygu ve düşüncelerini anlatabilmek için iletişime geçerler. Özellikle insanlar düşünebilme, anlayabilme ve konuşabilme yeteneklerine sahip oldukları için diğer canlılardan daha farklı bir biçimde iletişimde bulunurlar.

Buna göre aşağıdakilerden hangisi söylenemez?

- A) İletişim, her canlı için büyük önem taşımaktadır.
 B) İnsanlar, diğer canlılardan daha farklı şekilde iletişime geçerler.
 C) Tüm canlılar, benzer şekilde iletişim kurarlar.
 D) Duygu ve düşüncelerimizi ifade edebilmek için iletişim kurarız.

2.

	Konuşma Cümleleri	İletişim Hataları
I.	Bunu bir daha yaparsan seni babana söylerim.	Tehdit etme
II.	Nerede kaldın bu saate kadar?	Sorgulama
III.	Sen tembelin birisin.	İsim takma
IV.	Okumak herkese nasip olmaz, kıymetini bil.	Gözdağı verme

Yukarıdaki tabloda bazı konuşma cümleleri ve bu ifadelerin neden olduğu iletişim hataları eşleştirilmiştir.

Bu eşleştirmelerden hangisi yanlış olarak verilmiştir?

- A) I B) II C) III D) IV

3.

BEN DİLİ

Bireyin karşılaştığı davranış ve durum karşısında kendi tepkisini, duygu ve düşüncesini açıklayan ifade şeklidir.

SEN DİLİ

Bireyin, mesajını aktarırken sonucu karşı tarafa yüklemeye çalıştığı, suçlayıcı ifade biçimidir.

Buna göre aşağıdaki ifadelerden hangisi ben dili kullanımına örnektir?

- A) Bu sabah seni serviste göremeyince merak ettim.
 B) Ne zaman görsem ders çalışmıyor, oturuyorsun.
 C) Arkadaşlarına haksızlık yapıyorsun.
 D) Bir kere de ben söylemeden bulaşıkları yıkasan!

4. 1 "Tatlı dil yılanı deliğinden çıkarır."
 2 "Söz gümüşse sükût altındır."
 3 "İğneyi kendine çuvaldızı başkasına batır."

Aşağıdakilerden hangisi verilen atasözleriyle ilgili değildir?

- A) Güzel söz söyleme
 B) Öz eleştiri
 C) Çatışma
 D) Dinleme

5. Karşımdakinin ne kadar akıllı ya da aptal, ne kadar iyi ya da kötü kalpli biri olduğunu ya da o anda neler düşündüğünü anlamak istediğimde, yüzüme elimden geldiğince karşımdakinin yüz ifadesini takınırım ve zihnimde ya da yüreğimde yüzümdeki ifadeye uygun hangi düşünce ve duyguların doğacağını beklerim.

(Edgar Allan Poe, *Bütün hikayeleri 1, İthaki yayınları, İstanbul, 2001*)

Bu metinde vurgulanan iletişim türü aşağıdakilerden hangisidir?

- A) Olumlu iletişim
 B) Sözsüz iletişim
 C) Kitle iletişimi
 D) Olumsuz iletişim

6. Medya, gazete, radyo, televizyon ve genel ağ gibi kitle iletişim araçlarının tümünü kapsayan genel bir terimdir. Özellikle genel ağın getirdiği özgür ve geniş alan kitlelerin seslerini duyurmasını kolaylaştırmıştır. Medyanın sosyal etkileşim ve iletişim gücü artmıştır.

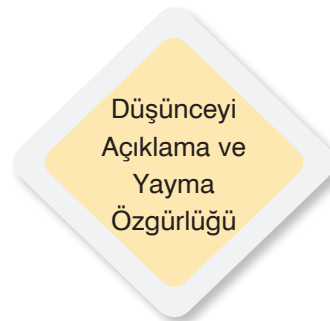
Bu gelişmeler günümüzde,

- I. Sosyal medya
 II. Dijital medya
 III. E-pazarlama

ifadelerinden hangilerini ortaya çıkarmıştır?

- A) Yalnız I
 B) I ve II
 C) II ve III
 D) I, II ve III

7.



Bu hak ve özgürlükler aşağıdakilerden hangisi ile daha çok ilgilidir?

- A) Doğru Türkçe kullanımı
 B) Medya okuryazarlığı
 C) Kitle iletişim özgürlüğü
 D) Din ve vicdan özgürlüğü

8. İletişim, her şeyden önce bilgi alışverişidir. Bu alışverişin gerçekleşmesinde kitle iletişim araçları da büyük bir etkiye sahiptir. Kitle iletişim araçları sayesinde bilgi, görüş ve düşüncelerimizi yayabilir, kamuoyu oluşturabilir ayrıca eğlenme, bilgilenme, haber alma ihtiyaçlarımızı da karşılayabiliriz. Televizyon, radyo ve sinema gibi araçlar aracılığıyla gerçekleşen kitle iletişiminde iletiler, toplumun farklı katmanlarından ve nüfus kümelerinden insanlara ulaştırılabilir.

Verilen açıklamaya getirilebilecek en uygun başlık aşağıdakilerden hangisidir?

- A) Geçmişten Günümüze Haberleşme
B) İletişimi Olumlu Etkileyen Davranışlar
C) İletişimin Gelişimi
D) Kitle İletişim Araçlarının Önemi

9. **ÖYKÜ:** Anne, konuşabilir miyiz?

ANNE: Sen önce ödevini yap da sonra konuşuruz.

ÖYKÜ: Söylediğimi duydun mu anne? Konuşmak istiyorum.

ANNE: Duydum. Sen beni duydun mu? Önce ödev sonra ne anlatacaksan anlat!

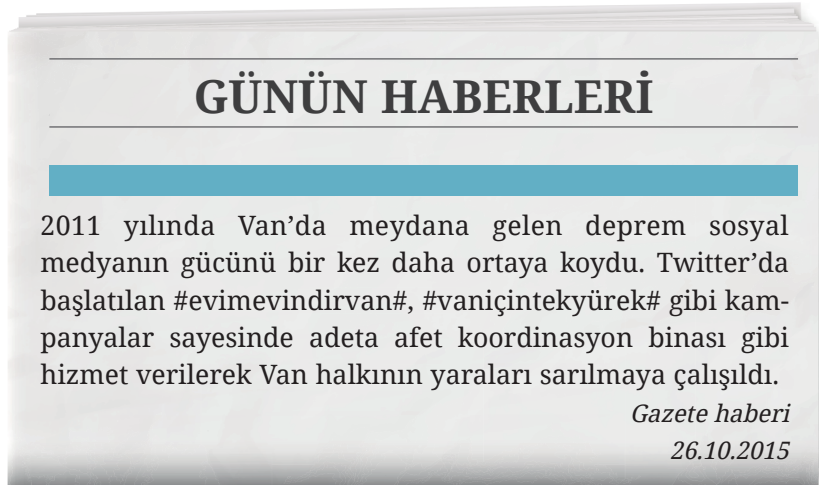
ÖYKÜ: Hep böyle yapıyorsun. Anlatacaklarıma bir kere de kulak versen.

ANNE: Senin hep anlatacakların var. Yine önemsiz bir şeydir nasıl olsa!

Verilen diyalogta yapılan iletişim hatası aşağıdakilerden hangisidir?

- A) Etkili dinlemenin gerçekleşmemesi ve ön yargılı davranma
B) Kendini doğru ifade edememe
C) Beden dilini etkili kullanamama
D) Eleştirilere açık olmama

- 10.



Verilen gazete haberine göre aşağıdakilerden hangisi söylenebilir?

- A) Depremi sadece sosyal medya duyurmuştur.
B) Kitle iletişim araçlarının kamuoyu oluşturmada önemi büyüktür.
C) Tüm vatandaşlar depremde zarar görenler için yardımda bulunmuştur.
D) Kitle iletişim araçları doğal afetler konusunda bilgi veren tek yetkilidir.

Sosyal Bilgiler



2

Adı Soyadı :

Sınıf - Şube - No :

Okulu :

1. Sınavda Sosyal Bilgiler dersinden 10 Beceri Temelli Yeni Nesil Test Sorusu vardır.
2. Önce yanda verilen cevap formundaki öğrenci no bölümünü kodlayınız.
3. Cevaplarınızın cevap formuna işaretlenmiş olması gereklidir. Kitapçığa işaretlenmiş cevaplar geçersizdir.
4. Bu testte her sorunun bir tek doğru cevabı vardır. Bir soru için birden çok cevap yeri işaretlenmişse o soru yanlış cevaplanmış sayılır.
5. Cevaplamaya geçmeden önce üstteki alana adınızı, soyadınızı, sınıf ve şubenizi, numaranızı ve okulunuzu yazınız.
6. Kitapçığıtaki boş alanları müsvedde olarak kullanabilirsiniz.

BlokTest

Öğrenci No

Cevaplarınızı Bu Bölüme İşaretleyiniz									
Soru	A	B	C	D	Soru	A	B	C	D
1	<input type="radio"/>	<input type="radio"/>	<input type="radio"/>	<input type="radio"/>	14	<input type="radio"/>	<input type="radio"/>	<input type="radio"/>	<input type="radio"/>
2	<input type="radio"/>	<input type="radio"/>	<input type="radio"/>	<input type="radio"/>	15	<input type="radio"/>	<input type="radio"/>	<input type="radio"/>	<input type="radio"/>
3	<input type="radio"/>	<input type="radio"/>	<input type="radio"/>	<input type="radio"/>	16	<input type="radio"/>	<input type="radio"/>	<input type="radio"/>	<input type="radio"/>
4	<input type="radio"/>	<input type="radio"/>	<input type="radio"/>	<input type="radio"/>	17	<input type="radio"/>	<input type="radio"/>	<input type="radio"/>	<input type="radio"/>
5	<input type="radio"/>	<input type="radio"/>	<input type="radio"/>	<input type="radio"/>	18	<input type="radio"/>	<input type="radio"/>	<input type="radio"/>	<input type="radio"/>
6	<input type="radio"/>	<input type="radio"/>	<input type="radio"/>	<input type="radio"/>	19	<input type="radio"/>	<input type="radio"/>	<input type="radio"/>	<input type="radio"/>
7	<input type="radio"/>	<input type="radio"/>	<input type="radio"/>	<input type="radio"/>	20	<input type="radio"/>	<input type="radio"/>	<input type="radio"/>	<input type="radio"/>
8	<input type="radio"/>	<input type="radio"/>	<input type="radio"/>	<input type="radio"/>	21	<input type="radio"/>	<input type="radio"/>	<input type="radio"/>	<input type="radio"/>
9	<input type="radio"/>	<input type="radio"/>	<input type="radio"/>	<input type="radio"/>	22	<input type="radio"/>	<input type="radio"/>	<input type="radio"/>	<input type="radio"/>
10	<input type="radio"/>	<input type="radio"/>	<input type="radio"/>	<input type="radio"/>	23	<input type="radio"/>	<input type="radio"/>	<input type="radio"/>	<input type="radio"/>
11	<input type="radio"/>	<input type="radio"/>	<input type="radio"/>	<input type="radio"/>	24	<input type="radio"/>	<input type="radio"/>	<input type="radio"/>	<input type="radio"/>
12	<input type="radio"/>	<input type="radio"/>	<input type="radio"/>	<input type="radio"/>	25	<input type="radio"/>	<input type="radio"/>	<input type="radio"/>	<input type="radio"/>
13	<input type="radio"/>	<input type="radio"/>	<input type="radio"/>	<input type="radio"/>	26	<input type="radio"/>	<input type="radio"/>	<input type="radio"/>	<input type="radio"/>

1.

1982 Anayasası;

MADDE 22. Herkes, haberleşme hürriyetine sahiptir. Haberleşmenin gizliliği esastır. Millî güvenlik, kamu düzeni, suç işlenmesinin önlenmesi, genel sağlık ve genel ahlâkın korunması veya başkalarının hak ve özgürlüklerinin korunması sebeplerinden biri veya birkaçına bağlı olarak usulüne göre verilmiş hâkim kararı olmadıkça haberleşme engellenemez ve gizliliğine dokunulamaz.

Anayasamızın 22. maddesine göre aşağıdakilerden hangisi söylenemez?

- A) Haberleşmenin gizliliğinin korunması için devlet gerekli tedbirleri almakla yükümlüdür.
- B) Haberleşme hürriyeti belli bir zümre, grup, aile ya da kişi için ayrıcalık içeremez.
- C) Ülke düzeni, asayiş ve sağlığının korunması gerekli olduğu şartlarda haberleşme hürriyeti sınırlandırılabilir.
- D) Devletin koruma altına aldığı tek özgürlük, haberleşme özgürlüğüdür.

2.

23.08.2020 tarihli gazetede ünlü şarkıcı Emre ATALIR'ın yeni şarkısında çalıntı yaptığı ve bir başka şarkının sözlerini kullandığını anlatan bir haber yapılmıştır. Hiçbir dayanak olmadan yapılan bu haber tamamen gerçek dışıdır. Kamuoyuna saygıyla duyurulur.

Av. Gökhan ÖNDER

Verilen gazete haberi aşağıdakilerden hangisine örnek oluşturur?

- A) Tekzip
- B) RTÜK
- C) Takip
- D) Sansür

3. Ülkemizde bir kişi, grup ya da kurum hakkında asılsız ve gurur kırıcı bir haber yayımlandığında bu yanlışın düzeltilmesini ve basın-yayın kuruluşlarından bununla ilgili gerekli bilgilendirmelerin yayınlanmasını istemek her Türk vatandaşının hakkıdır. Bu düzeltmeleri yapmayanlarla ilgili gerekli işlemlerin yapılması için yasal mercilere başvurulabilir.

Buna göre ülkemizle ilgili,

- I. Hukuk devletidir.
- II. Bu kurala sadece televizyonlar uymaktadır.
- III. Doğru ve dürüst habercilik desteklenmiştir.

yargılarından hangilerine ulaşılabilir?

- A) Yalnız I
- B) I ve III
- C) Yalnız II
- D) II ve III

4.

KORONAVİRÜS'TEN SONRA MEDYA'DA NELER DEĞİŞECEK?

- Medya sektörü teknolojiden daha fazla yararlanacak
- Devlet olgusunun güçlenmesine paralel olarak ulusal medya araçları önem kazanacak
- Uluslararası basın ve yayın organlarına ilgi azalacak
- Sosyal medyayı denetleme politikaları gündeme gelecek
- Resmî makamların bilgilendirmesi daha fazla dikkate alınacak

Buna göre medya araçlarının geleceğiyle ilgili aşağıdakilerden hangisi söylenebilir?

- A) Günümüzden farklı medya araçlarının kullanılacağı
- B) Dijital medyaya yönelik ilginin azalacağı
- C) Medyanın bilgilendirme işlevinde ulusal düzey önem kazanacağı
- D) Medyanın kamuoyu oluşturma gücü yetersiz hâle geleceği

5. Aydın, bu sabah okula servisle gitmemiştir. Okulda onu gören arkadaşı: “Bu sabah, seni göremeyince endişelendim.” demiştir.

Buna göre Aydın'ın arkadaşı ile ilgili aşağıdakilerden hangisi söylenebilir?

- A) Ben dilini kullanmıştır.
- B) Sen dilini kullanmıştır.
- C) Empati kurmuştur.
- D) Ön yargılı davranmıştır.

6. Ayça Öğretmen sosyal bilgiler dersinde öğrencilerinden gözlerini kapatmalarını istemiştir ve “Ormanda gezen küçük bir ceylan olduğunuzu hayal edin ve arkanızdan koşarak gelen kocaman bir aslanın size doğru yaklaştığını, saldırgan olduğunu sezdiğinizi düşünün.” sözlerini söyleyerek neler hissedeceklerini düşünmelerini istemiştir.

Ayça Öğretmen, öğrencilerinin aşağıdaki hangi kavram hakkında düşünmelerini istemiş olabilir?

- A) Hoşgörülü olma
- B) Uzlaşma
- C) Çatışma
- D) Empati

7. Empati, kişilerin olaylara, karşısındakinin bakış açısıyla bakabilmesi, karşısındaki kişinin duygularını ve düşüncelerini doğru olarak anlaması, anladığını karşısındakine ifade edebilmesidir.

Buna göre aşağıdakilerden hangisi empatiye örnek olamaz?

- A) Kardeşin bilgisayarını vermediği için öfkelenmesi.
- B) Ödevine su dökülmesi seni üzmesi.
- C) Çalışkan olduğun için kendini bir şey zannediyorsun.
- D) Sakatlandığın için moralin bozulmuş.

8. • Doğal olmak
• Kabul etmek ve saygılı olmak
• Empati kurmak
• Tutarlı ve güven verici olmak
• Akıcı ve açık bir dil kullanmak
• Somut konuşmak
• Uygun biçimde kendini açmak
• Ben dilini kullanmak
• Saygıyı temel olarak olduğu gibi davranmak
• Sözlü ve sözsüz iletişimdeki iletileri uyumlu kullanmak

Verilenlerin başlığı aşağıdakilerden hangisi olabilir?

- A) Olumsuz İletişimin Nedenleri
B) Etkili İletişim Yolları
C) İletişimde Dinlemenin Önemi
D) İletişimde Çatışma Yaratan Durumlar

9. İletişim, sanıldığı kadar kolay olmayan bir olgudur. Çünkü, iletişim kurarken insanlarla doğru paylaşımlarda bulunmak gerekir. İletişim doğru olarak kurulduğunda insanlar daha rahat anlaşır, problemler çözülür ve hedeflere daha çabuk ulaşılır.

Buna göre etkili bir iletişim için aşağıdakilerden hangisinin yapılması doğru olmaz?

- A) Mesajı net, kısa ve anlaşılır bir şekilde iletmek
B) Beden dilini doğru ve etkili kullanmak
C) Karşımızdaki kişiyle göz teması kurmaktan kaçınmak
D) Doğal ve saygılı davranmak

10.

Türkiye bir kez daha şap hastalığına teslim oldu. İlk olarak eylül ayında Van'da görülen ve hastalığın ithal ya da Suriye sınırından kaçak yollarla getirilen hayvanlarla ülkeye girdiği ve hızla yayıldığı ifade edildi. Asya 1 virüsü veya Nepal şapı olarak da adlandırılan virüs nedeniyle doğudan batıya, kuzeyden güneye ülkenin dört bir yanındaki hayvan pazarları kapatıldı. Bölgeye giriş-çıkışın bir süre yasaklandığı belirtildi.

Gazete haberi

Gazete haberi dikkate alındığında, bölgeye giriş çıkışların yasaklanması kararı ile ilgili olarak aşağıdakilerden hangisi söylenebilir?

- A) Yerleşme ve seyahat özgürlüğü hiçbir şekilde engellenemeyeceği için yanlıştır.
B) Toplumun ortak mal ve hakları korunmak istendiği için doğrudur.
C) Ekonomik gelişmeyi yavaşlatacağı için yanlıştır.
D) Salgın hastalıkların yayılması engellenmek istendiği için doğrudur.

Sosyal Bilgiler



3

Adı Soyadı :

Sınıf - Şube - No :

Okulu :

1. Sınavda Sosyal Bilgiler dersinden 10 Beceri Temelli Yeni Nesil Test Sorusu vardır.
2. Önce yanda verilen cevap formundaki öğrenci no bölümünü kodlayınız.
3. Cevaplarınızın cevap formuna işaretlenmiş olması gereklidir. Kitapçığa işaretlenmiş cevaplar geçersizdir.
4. Bu testte her sorunun bir tek doğru cevabı vardır. Bir soru için birden çok cevap yeri işaretlenmişse o soru yanlış cevaplanmış sayılır.
5. Cevaplamaya geçmeden önce üstteki alana adınızı, soyadınızı, sınıf ve şubenizi, numaranızı ve okulunuzu yazınız.
6. Kitapçıktaki boş alanları müsvedde olarak kullanabilirsiniz.

BlokTest

Öğrenci No

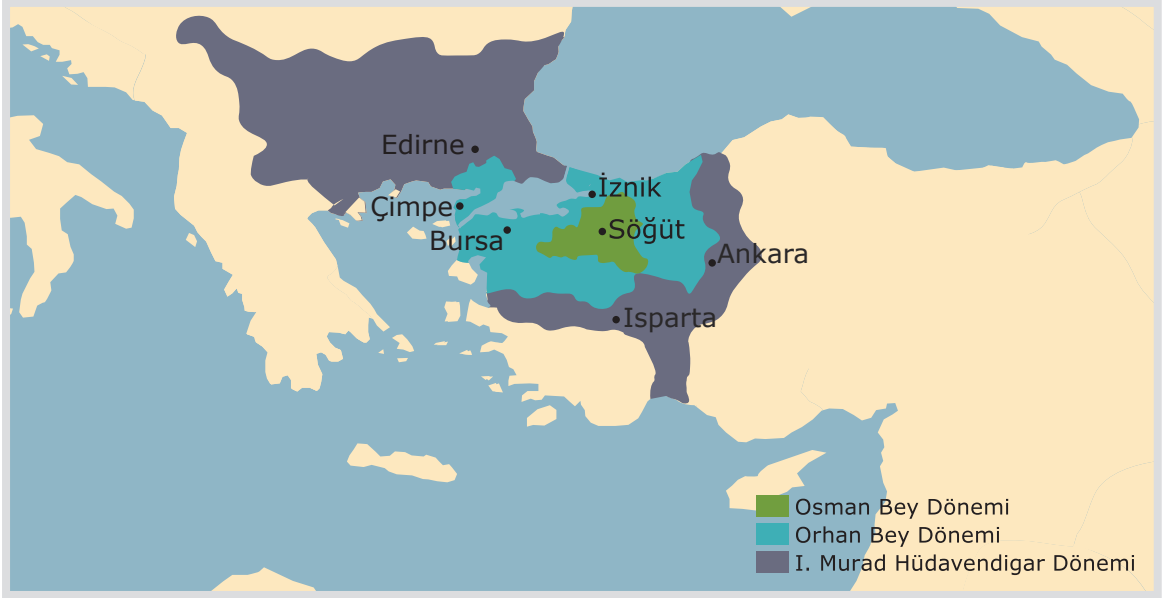
Cevaplarınızı Bu Bölüme İşaretleyiniz									
Soru	A	B	C	D	Soru	A	B	C	D
1					14				
2					15				
3					16				
4					17				
5					18				
6					19				
7					20				
8					21				
9					22				
10					23				
11					24				
12					25				
13					26				

1. Osmanlı Devleti, Rumeli’de bir yandan fetihler gerçekleştirirken bir yandan da fethettiği yerlere göçebe Türkmenleri yerleştirmiştir. Anadolu’da özellikle anlaşmazlık içinde bulunan aileler seçilmiş ve Rumeli’ye gönderilmiştir. Bu uygulama iskân politikası kapsamında yürütülmüştür.

Buna göre aşağıdakilerden hangisi iskân politikasının sonuçları ile ilgili değildir?

- A) Anadolu’da huzur ve güven ortamının oluşturulmuştur.
B) Göçebe Türkmenler yerleşik yaşama geçirilmiştir.
C) Fethedilen bölgelerdeki halka baskı uygulanmıştır.
D) Rumeli’de yeni fethedilen topraklarda kalıcılık sağlanmıştır.

2.



Osman Bey döneminde Karacahisar, Yarhisar; Orhan Bey döneminde, Bursa, İznik, İzmit; I. Murat döneminde Edirne alınmıştır.

Buna göre Osmanlı Devleti’nin kuruluş döneminde aşağıdakilerden hangisine önem verildiği söylenebilir?

- A) Sömürgeci bir politika izlemeye
B) Anadolu Türk siyasi birliğini sağlamaya
C) Deniz ticaretini kontrol altına almaya
D) Ülke topraklarını Bizans yönünde genişletmeye

3. Osmanlı Beyliği’nin yurt edindiği topraklar Bizans İmparatorluğu’nun büyük kent ve kasabaları ile komşuydu. Önemli ticaret yolları üzerindeki bu şehirlerle yapılan alışverişten Osmanlı Beyliği önemli gelir elde ediyordu.

Verilen bilgi Osmanlı Beyliği’nin kurulduğu coğrafyanın aşağıdaki özelliklerinden hangisine aittir?

- A) Siyasi B) Ekonomik C) Kültürel D) Etnik

4.



Ey devlet ve ikbal sahibi oğlum! Zalim olma. Âlemi adaletle şenlendir ve Allah için gaza ve cihadı terk etmeyerek beni şad et.



Osman Bey oğluna bu öğütünde Orhan Bey'in aşağıdaki özelliklerden hangisine sahip olması gerektiğini belirtmiştir?

- A) Dürüst B) Bilgili C) Adil D) Sabırlı

5.

- I. Şirket-i Hayriye'nin kurulması
II. Takvim-i Vekayi'nin yayımlanması

Verilen gelişmelerin ilgili olduğu alanlarla eşleştirilmesi aşağıdakilerin hangisinde doğru olarak yer alır?

- | I | II |
|---------------|------------|
| A) Ulaşım | Haberleşme |
| B) Sağlık | Eğitim |
| C) Haberleşme | Kültürel |
| D) Bankacılık | Haberleşme |

6.

“Osmanlı kültürü Avrupa'yı, Avrupa kültürü de Osmanlı'yı etkiledi.”

Aşağıdakilerden hangisi verilen görüşü desteklemez?

- A) Lale Devri'nde Avrupa'ya giden elçilerin gözlemleriyle, geleneksel Osmanlı divanlarının yerini sandalye ve koltukların alması
B) Osmanlı'da Avrupada'ki gibi bir din adamı sınıfı bulunmaması nedeniyle Reform hareketlerinin yaşanmaması
C) Doğu Avrupa'nın kiliselerinde, duvarların çoğunun Osmanlı halılarıyla süslenmesi
D) Avrupa'da Osmanlı kalıbıyla ve kesimiyle kaftanların dikilmesi

7.

“Osman Bey'i hâkim bilerek onun emrine uymak için Müslüman olmak şart değildi. Bazı Bizans köy ve kasabaları Osmanlı eline geçtikten sonra da kendi komutanlarının yönetiminde kalabiliyordu. Bizanslı Hristiyan halk, iç içe yaşadığı Türk halkına kolaylıkla uyabilecek kadar yakınlaşmıştı. Bir yandan akıncı gazilerin Bizanslı kadınlarla evlenmesi, bir yandan pazarlarda alışveriş yapılması halkın kaynaşmasını sağlıyordu.”

Buna göre aşağıdakilerden hangisine ulaşılabılır?

- A) Hoşgörü ve adalet politikası sayesinde huzurlu bir toplum oluşturulmuştur.
B) Ümmetçi bir anlayışa göre hareket edilmiştir.
C) Kültürel birliği sağlama yolunda önemli adımlar atılmıştır.
D) Farklılıklara karşı ayrımcı bir uygulama benimsenmiştir.

8. İstanbul'un fethinin nedenleri arasında,

- Bizans'ın sık sık Osmanlı şehzadelerini ve beylikleri Osmanlı üzerine kışkırtması
- İstanbul'un Bizans'ın elinde olmasının Osmanlı toprak bütünlüğünü bozması
- Karadeniz ticaret yolunun ve Boğazların kontrolünün sağlanmak istenmesi

yer alır.

Verilen açıklamada İstanbul'un fethine neden olan aşağıdaki etkenlerden hangisine değnilmemiştir?

- A) Askerî B) Coğrafi C) Siyasi D) Ekonomik

9.



Arap seyyah İbnî Batuta: "Orhan Bey, Türk hükümdarlarının en büyüğü olduğu gibi toprak, asker ve zenginlik bakımından da en üstünüdür. Yüz dolayında kalesi vardır. Zamanının çoğunu bu kaleleri kontrol etmekle geçirir. Aralıksız olarak Bizans ile savaşır ve kalelerini muhasara eder." demiştir.

İbnî Batuta'nın sözleri dikkate alındığında Osmanlı Devleti ile ilgili aşağıdakilerden hangisine ulaşılabilir?

- A) Bizans'ın politikalarına ters fetih hareketlerinde bulunmaktadır.
 B) Devletin, Orhan Bey döneminde çok fazla kalesi bulunmaktadır.
 C) Seyyahlar, Osmanlı ülkesini ziyaret edebilmektedir.
 D) Dönemin en güçlü devleti olmuştur.

10. Bu sistemde yeni fethedilen Hristiyan topraklarda gayrimüslim halkın birden fazla çocuğu varsa bu çocuklardan bir tanesi küçük yaşta devlet tarafından alınarak Müslümanlaştırılırdı ve Türk kültürü öğretilirdi. Bu sürecin ardından çocuklar askerlik çağına gelene kadar askerlik eğitimine tabi tutulurdu. Eğer çocuk kuvvetli ise Yeniçeri Ocağına gider ve asker olur; zeki ve yetenekli ise Enderun Mektebine giderek devlet adamı olurdu.

Verilen metinde aşağıdakilerden hangisi açıklanmıştır?

- A) Devşirme Sistemi B) Tımar Sistemi
 C) İskân Siyaseti D) Veraset Sistemi

Sosyal Bilgiler



4

Adı Soyadı :

Sınıf - Şube - No :

Okulu :

1. Sınavda Sosyal Bilgiler dersinden 10 Beceri Temelli Yeni Nesil Test Sorusu vardır.
2. Önce yanda verilen cevap formundaki öğrenci no bölümünü kodlayınız.
3. Cevaplarınızın cevap formuna işaretlenmiş olması gereklidir. Kitapçığa işaretlenmiş cevaplar geçersizdir.
4. Bu testte her sorunun bir tek doğru cevabı vardır. Bir soru için birden çok cevap yeri işaretlenmişse o soru yanlış cevaplanmış sayılır.
5. Cevaplamaya geçmeden önce üstteki alana adınızı, soyadınızı, sınıf ve şubenizi, numaranızı ve okulunuzu yazınız.
6. Kitapçığıtaki boş alanları müsvedde olarak kullanabilirsiniz.

BlokTest

Öğrenci No

Cevaplarınızı Bu Bölüme İşaretleyiniz									
Soru	A	B	C	D	Soru	A	B	C	D
1					14				
2					15				
3					16				
4					17				
5					18				
6					19				
7					20				
8					21				
9					22				
10					23				
11					24				
12					25				
13					26				

1. **İç etken:** Bir devletin kendi sınırları içinde onu etkileyen değişkenlerdir

Dış etken: Bir devletin sınırları ötesinde onu etkileyen değişkenlerdir.

- I. Şeyh Edebalı'nın kızını Osman Bey'e vermesi ahilerin nüfuzundan faydalanılmasını sağladı.
- II. Balkanlarda pek çok küçük prenslik vardı ve sürekli birbirleriyle savaş hâlindeydiler.
- III. Anadolu'daki göçebe Türkmenler, Rumeli'de fethedilen topraklara yerleştirilmişti.
- IV. Bizans siyasi olarak güçsüzleşmeye başlamıştı ve iç karışıklıklarla mücadele ediyordu.

Buna göre hangileri Osmanlı'nın kısa sürede büyümesini sağlayan dış etkenler arasında değerlendirilebilir?

- A) Yalnız I B) I ve II C) II ve IV D) III ve IV

2. İskân politikası ile;

- Göçebe Türkmenler yerleşik hayata geçirilmiş,
- Rumeli'de fethedilen toprakların Türkleşmesi hızlanmış,
- Bölgede yaşayan Hristiyan halka adil davranılmış,
- İssiz, harap, işlenmemiş topraklar değerlendirilerek işe yarar hâle getirilmiştir.

Verilen bilgi doğrultusunda Osmanlı Devleti'yle ilgili aşağıdaki yorumlardan hangisi yapılmaz?

- A) Fethedilen bölgelerde kalıcı olmak amaçlanmıştır.
 B) Hristiyan halka adaletsizliğin yapılmaması barış ortamı yaratılmasının önemsendiğini göstermektedir.
 C) Fethettiği bölgeleri geliştirmiş, desteklemiş ve bayındır hâle getirmiştir.
 D) Sadece Rumeli üzerine fetihler yaptığı için Anadolu'da hâkimiyet kuramamıştır.

3. Osmanlı Devleti kuruluş döneminde Balkanlarda yaptığı fetihler sonucunda birçok toprak elde etmiş ve bu bölgedeki halkı, vergiye bağlarken ibadetleri konusunda kısıtlama getirmemiştir. Kuruluşundan itibaren özenle takip ettiği iskân politikası ve güçlü askerî yapısı fethedilen bölgelerde kalıcılığı sağlamayı başarmıştır. İskân politikasıyla birlikte yürüttüğü istimâlet politikası da uzlaştırıcı fetih siyasetinin bir parçası olmuştur.

Buna göre Osmanlı Devleti ile ilgili,

- I. Gelirlerini artırmıştır.
- II. Hoşgörülü bir politika benimsemiştir.
- III. Balkanlar üzerinden Avrupa'daki topraklara yönelmiştir.

yargılarından hangilerine ulaşılabilir?

- A) Yalnız I B) Yalnız II C) I ve II D) I, II ve III

4. Orhan Bey Bursa'da yoksullar ve yolcular için bir imaret yaptırarak ücretsiz yemek verilmesini emretmiş ve imaretin açılış gününde bizzat kendi eliyle fakirlere yemek dağıtmıştır.

Buna göre Orhan Bey'in kişiliğinde ön plana çıkan özelliğin aşağıdakilerden hangisi olduğu söylenebilir?

- A) Dürüstlük B) Yardımseverlik C) Cesaret D) Savaşçılık

5.

İstanbul Fetih KRONOLOJİSİ

6 NİSAN
II. Mehmet'in otağı Topkapı önüne kuruldu. İstanbul, Haliç'ten Marmara'ya kadar kuşatıldı. İlk top atışları başladı.

9-18 NİSAN
Boğaz'daki surların bir bölümü ele geçirildi. Haliç'teki gemiler toplarla vuruldu. Baltaoğlu Süleyman Bey, Preys Adalarını aldı.

20-22 NİSAN
Osmanlı donanması, Bizans donanmasını yenilgiye uğrattı. II. Mehmet, 70 kadar gemiyi kızaklar üzerinde karadan geçirerek Haliç'e indirdi.

28 NİSAN
Haliç surları ateş altına alındı. Deniz tarafındaki surlar kuşatıldı. Bizans İmparatoru Konstantin'e Cenevizliler aracılığıyla koşulsuz teslim olma önerisi iletildi. İmparator, bu teklifi kabul etmedi.

12-16 MAYIS
Tekfur Sarayı ile Edirnekapı arasında büyük bir saldırı gerçekleştirildi. Haliç'teki zinciri kaldırmak için saldırı başlatıldı. Edirnekapı surlarının altından tüneller kazıldı. Ancak Bizanslılar bunu fark edip tüneli çökertti.

18-25 MAYIS
Topkapı yönünden saldırıya geçildi. II. Mehmet, son kez teslim olma teklifinde bulundu. Bu teklif de geri çevrildi.

26-29 MAYIS
İmparator Konstantin, halkı şehri savunmaya davet etti. 29 Mayıs'da II. Mehmet öğleye doğru Topkapı'dan şehre girdi. Doğruca Ayasofya'ya gitti ve onarımlarının yapılarak, mabedin camiye dönüştürülmesi için talimat verdi.

Şahi Topları

(Bilgi grafiği "trrhaber.com" adlı genel ağ adresinden alınmıştır.)

Verilen bilgi grafiğine göre,

- I. Osmanlı Devleti İstanbul'u hem kara hem de deniz yolu aracılığıyla kuşatmıştır.
- II. Bizans halkı Osmanlı ordusunun İstanbul şehrine girişini olumlu bir tutumla karşılamıştır.
- III. Osmanlı Devleti Bizans halkının dinî serbestliğini korumuştur.

İfadelerinden hangileri söylenebilir?

- A) Yalnız I B) I ve II C) II ve III D) I, II ve III

6. Fatih'in, Hristiyan halkı temsil etmesi için tayin ettiği patriğe verdiği yazıda şunlar yer almaktadır: "Kimse patriğe tahakküm etmesin. Kiliseler, camiye çevrilmeyecektir. Dügün ve definler ile sair adetler Rum kilisesi usul ve kaidelerine göre eskisi gibi yapılacaktır."

Fatih Sultan Mehmet'in yazısına göre aşağıdakilerden hangisinin benimsendiği söylenebilir?

- A) Merkezîyetçi yapının
B) Barışçılığın
C) Hukuka uygunluğun
D) Hoşgörünün

7. XV. yüzyılın sonlarına doğru Avrupalılar yeni deniz yolları ve kıtalar keşfetmek için harekete geçmişlerdir. Avrupa'yı Coğrafi Keşifler adı verilen bu gelişmeye iten pek çok neden vardır. Ancak temel neden XV. yüzyıla doğru Avrupalılar biber, tarçın, zencefil gibi baharatları çok kullanmaya başlamışlar ve Müslüman dünyasıyla temas, baharatı ve Doğu mallarını Avrupalılara tanıtmış, yemeklerine değişik bir tat kazandırmıştır. İpek, günlük ve altın da çok aranır hâle gelmiştir. Bu mallara aracısız ulaşabilmek Batı'yı Coğrafi Keşiflere itmiştir.

Verilen metin aşağıdakilerden hangisiyle tamamlanmalıdır?

- A) ekonomiktir. B) siyasidir. C) dinîdir. D) tekniktir.

8. Rönesans, kelime anlamıyla yeniden doğuş demektir.

Rönesans'ın ortaya çıkmasında aşağıdakilerden hangisinin etkili olduğu söylenemez?

- A) Doğu ile Batı arasındaki mücadelenin
B) Eski Yunan eserlerinin incelenmesinin
C) Matbaanın kullanılmasının yaygınlaşmasının
D) Burjuva sınıfının sanat ve bilimle uğraşanları desteklemesinin

9. Yeni Çağ'da Avrupa'da Dünya'nın şekli ile ilgili bilimsel gerçekler ortaya çıkmış bu durum Katolik kilisesine olan güveni azaltmış ve kilisenin eski gücünü kaybetmesine neden olmuştur.

Verilen gelişmenin sonucunda Avrupa'da aşağıdaki gelişmelerden hangisinin ortaya çıktığı söylenebilir?

- A) Rönesans B) Reform C) Sanayi İnkılabı D) Coğrafi Keşifler

10. **Gaza:** İslam dinini korumak veya yaymak amacıyla Müslüman olmayanlara karşı yapılan kutsal savaştır.

Buna göre aşağıdakilerden hangisi "gaza" olarak değerlendirilemez?

- A) Yıldırım Bayezid'in Niğbolu Savaşı'nda Haçlıları yenmesi
B) I. Murat'ın, Hamitoğullarından satın alma yoluyla toprak elde etmesi
C) Orhan Bey'in Maltepe Savaşı'nda Bizans'ı yenip İznik'i alması
D) II. Murat döneminde Haçlı orduları ile II. Kosova Savaşı'nın yapılması

7. SINIF Sosyal Bilgiler

40 Adet 10 Soruluk Deneme Sınavı

Beceri Temelli Yeni Nesil Sorularla



DENEME SINAVLARI KONULARI VE SORU SAYILARI

Deneme Sınavı No	Birey ve Toplum	Kültür ve Miras	İnsanlar, Yerler ve Çevreler	Bilim, Teknoloji ve Toplum	Üretim, Dağıtım ve Tüketim	Etkin Vatandaşlık	Küresel Bağlantılar
1-2	2x10						
3-4-5-6-7		5x10					
8	5	5					
9	4	6					
10-11-12-13-14			5x10				
15		6	4				
16		7	3				
17	1	5	4				
18	2	3	5				
19-20				2x10			
21	1	1	2	6			
22-23	2	2	2	4			
24-25-26-27					5x10		
28	1	2	2	1	4		
29	1	1	2	2	4		
30	1	1	1	1	6		
31-32						3x10	
33-34	1	1	2	1	2	3	
35-36-37							3x10
38	1	1	1	3	1	2	1
39	1	1	1	2	1	2	2
40	1	1	1	2	2	2	1



MOBİL ÖLÇME
BlokTest®

Kitapçık kapağındaki KAREKODU okut, sınav sonucu anında cep telefonunda!



www.mobilolcme.com



BlokTest® www.bloctest.com

