

# 5. sınıf

- Türkçe
- Matematik
- Fen Bilimleri
- Sosyal Bilgiler
- İngilizce

6 Deneme Sınavı

## Deneme Sınavı Seti

Yeni Nesil  
Sorularla

# 5. SINIF DENEME SINAVI



Türkçe - Matematik - Fen Bilimleri  
Sosyal Bilgiler - İngilizce

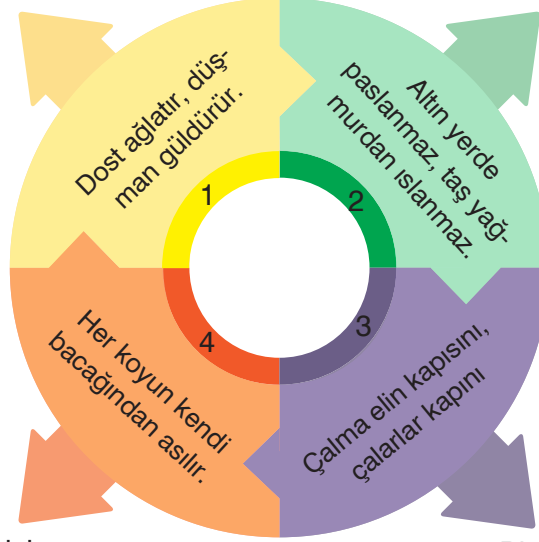
## **ÖĞRENCİNİN DİKKATİNE!**

1. Cevaplarınızı, cevap kâğıdındaki ilgili alanlara soru numarasını dikkate alarak yuvarlağın dışına taşırmadan kurşun kalemle kodlayınız.
2. Bu kitapçıkta testlerde yer alan her sorunun yalnızca bir doğru cevabı vardır. Bir soru için birden çok cevap yeri işaretlenmişse o soru yanlış cevaplanmış sayılacaktır.
3. Değiştirmek istediğiniz her cevabı, yumuşak bir silgiyle cevap kâğıdınızı örselemeden temizce siliniz ve yeni cevabınızı kodlayınız.
4. Soruların çözümü için size ayrıca boş kâğıt verilmeyecektir. Soru kitapçığının içindeki boş alanları çözümlerinizi için kullanabilirsiniz.
5. Bu kitapçıkta 20 Türkçe, 20 Matematik, 20 Fen Bilimleri, 10 Sosyal Bilgiler, 10 İngilizce sorusu vardır.

## TÜRKÇE TESTİ

- Bu testte 20 soru vardır.
- Cevaplarınızı, cevap kâğıdının Türkçe testi için ayrılan kısmına işaretleyiniz.

1. Dost olan kimsenin söylediği söz, acı da olsa insanın iyiliği içindir. Değerli kişi veya nesnelere, hiçbir durumda değerlerini ve niteliklerini kaybetmezler.



Bazı incelikli işler herkes tarafından yerine getirilemez.

Bir kimseye kötülük yapan aynı kötülüğe maruz kalır.

Yukarıdaki şekilde numaralanmış atasözlerinden hangisinin anlamı yanlış verilmiştir?

- A) 1 B) 2 C) 3 D) 4

2.

İSİM KÖKÜ

1. Kumluk  
2. ....  
3. Sulamak

FİİL KÖKÜ

1. Baskı  
2. Görmek  
3. ....

Yukarıdaki tabloda boş bırakılan yerlere hangi sözcükler getirilmelidir?

İSİM KÖKÜ

FİİL KÖKÜ

- A) Sevgi Dışlanmak  
B) Yakınlık Seçkin  
C) Askı Dalgıç  
D) Hastalanmak Yazlık

# TÜRKÇE TESTİ

19 ve 20. soruları aşağıdaki broşüre göre yanıtlayın.

	OYUN-SPOR	KÜLTÜR-SANAT
<p><b>YAZ OKULU</b> Bu yaz mutlaka gelmelisin</p> <p>Hafta içi her gün 09.00 -17.00</p> <p><b>05-14 YAŞ ARASI</b></p> <ul style="list-style-type: none"><li>- Anaokulu</li><li>- İlkokul</li><li>- Ortaokul</li></ul> <p><b>DENGE</b> YAZ KURSLARI</p>	<p><b>BİSİKLET</b></p> <p>Başlama Yaşı: 8 Çalışma Alanı: Kent ormanı</p> <p>Çalışma Günü: Pazartesi, Salı</p> <p><b>BADMİNTON</b></p> <p>Başlama Yaşı: 5 Çalışma alanı: Atatürk Lisesi</p> <p>Çalışma Günü: Cuma</p> <p><b>TENİS</b></p> <p>Başlama Yaşı: 10 Çalışma alanı: Şehir Tenis Kulübü</p> <p>Çalışma Günü: Çarşamba, Cuma</p> <p><b>HENTBOL</b></p> <p>Başlama Yaşı: 7 Çalışma alanı: Atatürk Spor Salonu</p> <p>Çalışma Günü: Pazartesi</p> <p><b>ATICILIK</b></p> <p>Başlama Yaşı: 6 Çalışma alanı: Atatürk Spor Salonu</p> <p>Çalışma Günü: Çarşamba</p> <p><b>JİMNASTİK</b></p> <p>Başlama Yaşı: 5 Çalışma alanı: Cumhuriyet Lisesi</p> <p>Çalışma Günü: Pazartesi, Salı</p> <p><b>VOLEYBOL</b></p> <p>Başlama Yaşı: 5 Çalışma alanı: Atatürk Spor Salonu</p> <p>Çalışma Günü: Perşembe, Cuma</p>	<p><b>GİTAR</b></p> <p>Başlama Yaşı: 4</p> <p>Çalışma Günü: Pazartesi, Salı, Perşembe</p> <p><b>EBRU</b></p> <p>Başlama Yaşı: 7</p> <p>Çalışma Günü: Çarşamba</p> <p><b>AHŞAP BOYAMA</b></p> <p>Başlama Yaşı: 10</p> <p>Çalışma Günü: Perşembe</p> <p><b>RESİM</b></p> <p>Başlama Yaşı: 5</p> <p>Çalışma Günü: Çarşamba, Perşembe, Cuma</p> <p><b>FELSEFE</b></p> <p>Başlama Yaşı: 11</p> <p>Çalışma Günü: Salı, Cuma</p> <p><b>YARATICI DRAMA</b></p> <p>Başlama Yaşı: 5</p> <p>Çalışma Günü: Pazartesi, Salı</p> <p><b>Kültürel ve sanatsal çalışmalar ana binamızda yapılacaktır.</b></p>

19. Yağmur ve kardeşi Çağla yaz okuluna gideceklerdir. Yağmur 12, Çağla 5 yaşındadır.

Buna göre aşağıdaki kurslardan hangisine birlikte katılamazlar?

- A) Resim B) Tenis  
C) Jimnastik D) Yaratıcı drama


20. Bu broşürden kurslarla ilgili aşağıdakilerin hangisine ulaşamaz?

- A) Nerede yapılacağına  
B) Yapılacağı günlere  
C) Kimlerin katılabileceğine  
D) Haftada kaç saat olduğuna

TÜRKÇE TESTİ BİTTİ.

## TÜRKÇE TESTİ

9, 10, 11 ve 12. soruları metne göre yanıtlayınız.



Gezegemizdeki bazı bitkiler o kadar dayanıklıdır ki ne oksijensiz kalmaya ne de yakıcı sıcaklara boyun eğerler. Bilim insanları buradan yola çıkarak olası bir iklim değişikliği karşısında gıda kıtlığı yaşanmaması için bir dizi deney yaptı. Bu deneyler, değişen hava koşullarına kolay uyum sağlayan bitkileri tespit etmek için yapıldı. Kaya gibi dayanıklı olan bu bitkiler, çok zor koşullarda hayatta kalabilmeliydi.

Yapılan araştırmalar sonucunda Mars'ta bile hayatta kalmayı başaracak iki inatçı bitki türü tespit edildi: Kaya mantarı olarak da bilinen yosun ve fotosentez yapabilen siyanobakteriler. Bu iki bitki türü için laboratuvar ortamında Mars'taki koşullar sağlandı ve bitkilerin yalnızca yaşama tutunmakla kalmadığı, aynı zamanda fotosenteze de devam ettiği tespit edildi.

9. Aşağıdaki cümlelerin hangisinde metinde koyu yazılmış cümledekiyle özdeş bir söz sanatı kullanılmıştır?

- A) Yaz aylarında zaman su gibi akıp geçirdi.
- B) Var ile yok arasında belli belirsiz bir çizgiydi.
- C) Resim benim için dünyalar kadar değerliydi.
- D) Rüzgârda sallanan ağaçlar bana adını fısıldadı.

10. Metindeki altı çizili cümlelerin anlam ilişkisi aşağıdakilerden hangisidir?

- A) Neden – sonuç
- B) Koşul – sonuç
- C) Amaç – sonuç
- D) Karşılaştırma

11. Aşağıdakilerden hangisi metnin ikinci paragrafındaki noktalama işaretlerinden birinin görevi değildir?

- A) Cümlelerin anlamca tamamlanmadığını belirtmek için kullanılır.
- B) Kendisinden sonra açıklama yapılacak cümleden sonra kullanılır.
- C) Özel isme gelen çekim ekini ayırmak için isim ve ek arasına getirilir.
- D) Eş görevli sözcükleri birbirinden ayırmak için kullanılır.


12. Aşağıdaki ses olaylarından hangisinin örneği, metnin son cümlesinde geçmemektedir?

- A) Ünsüz yumuşaması
- B) Ünsüz benzeşmesi
- C) Ünlü düşmesi
- D) Ünlü daralması

## MATEMATİK TESTİ

- Bu testte 20 soru vardır.
- Cevaplarınızı, cevap kâğıdının matematik testi için ayrılan kısmına işaretleyiniz.

1. Eski uygarlıklardan olan Maya uygarlığının sıfırdan dokuza kadar olan sayıları ifade etmek için kullandığı semboller ve bu sembollerin günümüzdeki karşılıkları aşağıda verilmiştir.



Aşağıda bu semboller kullanılarak 318 sayısının gösterimi verilmiştir.

318 → ●●● ● ●●●

Gösterimi şeklinde olan sayı ile ●●●● şeklinde olan sayı çarpılıyor.

**Buna göre bu işlemin sonucu aşağıdakilerden hangisine eşittir?**

- A) 378 045      B) 380 945      C) 381 005      D) 441 045

2. Aşağıda üzerlerinde iki basamaklı doğal sayıların yazılı olduğu 3 turuncu ve 3 mavi kart verilmiştir.



Bahar, turuncu renkli kartlardaki her sayıyı mavi renkli kartlardaki her bir sayı ile birer kez çarparak yeni sayılar elde ediyor. Bu şekilde elde ettiği sayıların her birini, bir karta bir sayı gelecek şekilde yeşil renkli kartlara yazıyor.

Bahar yeşil renkli kartları yan yana getirerek dokuz basamaklı sayılar oluşturacaktır.

**Buna göre Bahar aşağıda okunuşları verilen sayılardan hangisini oluşturamaz?**

- A) Dört yüz otuz yedi milyon dört yüz altmış bin iki yüz dokuz  
B) Dört yüz on sekiz milyon üç yüz seksen bin iki yüz  
C) İki yüz yirmi milyon dört yüz sekiz bin üç yüz seksen  
D) Yüz doksan milyon iki yüz yirmi bin sekiz yüz yetmiş dört

## MATEMATİK TESTİ

- Bu testte 20 soru vardır.
- Cevaplarınızı, cevap kâğıdının matematik testi için ayrılan kısmına işaretleyiniz.


1. Kara yolunda trafiğe çıkacak araçların, yolun yapısına zarar vermeden güvenle yol alması için yapı ve boyutlarına göre taşıyabilecekleri yük miktarları yasalara göre belirlenmektedir. Kemal Bey'in kamyonunun taşıyabileceği yük miktarı en fazla 11 500 kilogram olarak belirlenmiştir. Kemal Bey kamyonuna kütleleri toplamı 13 734 kilogram olan kasalar yüklemiştir. Bu kasalardan bazılarının kilogram cinsinden kütleleri aşağıdaki tabloda verilmiştir.

**Tablo:** Kamyondaki Kasalardan Bazılarının Kütleleri

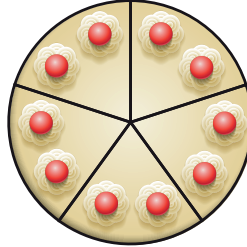
Kasalar	Kütle (kg)
1. Kasa	1518
2. Kasa	2235
3. Kasa	2130
4. Kasa	1894

**Kemal Bey kamyonundan bu kasalardan hangisini geri indirirse trafiğe çıkabilir?**


- A) 1. kasa                      B) 2. kasa                      C) 3. kasa                      D) 4. kasa
2. Bir pastanede her biri aynı büyüklükte olan çikolatalı, muzlu, çilekli ve böğürtlenli olmak üzere 4 çeşit pasta vardır. Bu pastalardan çikolatalı olanı eş büyüklükteki 8 dilime, muzlu olanı eş büyüklükteki 5 dilime, çilekli olanı eş büyüklükteki 12 dilime ve böğürtlenli olanı eş büyüklükteki 10 dilime aşağıdaki gibi ayrılmıştır.




Çikolatalı



Muzlu



Çilekli



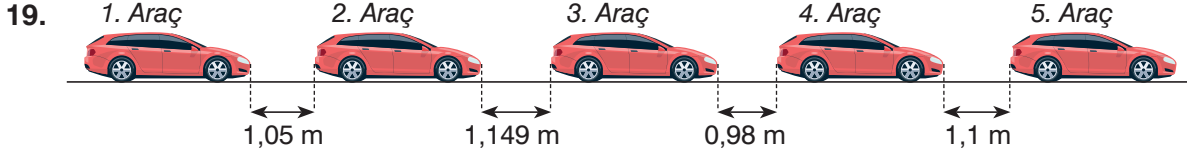
Böğürtlenli

Bu pastaneye gelen Ayla, bir dilim çikolatalı pasta; Banu, bir dilim muzlu pasta; Can, bir dilim çilekli pasta ve Doruk, bir dilim böğürtlenli pasta yemiştir.

**Buna göre aşağıdaki ifadelerden hangisi doğrudur?**

- A) Ayla, Banu, Can ve Doruk eşit miktarda pasta yemiştir.  
B) En az miktarda pastayı Doruk yemiştir.  
C) Ayla, Can'dan daha az miktarda pasta yemiştir.  
D) En fazla miktarda pastayı Banu yemiştir.

## MATEMATİK TESTİ



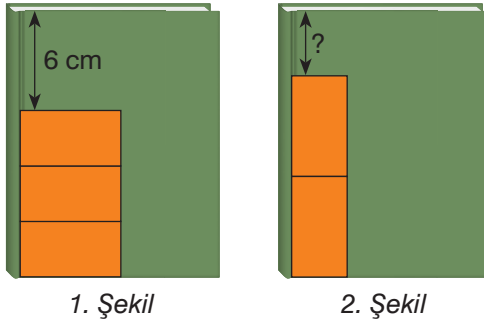
Aynı model araca sahip olan Ahmet, Burcu, Ceren, Demet ve Emre araçlarını bir yolun kenarına görseldeki gibi park etmiştir. Bu araçların kimlere ait olduğu ile ilgili aşağıdaki bilgiler veriliyor.

- 1. aracın sahibi Emre, 5. aracın sahibi ise Ceren'dir.
- Ortadaki araç Ahmet'e aittir.
- Ahmet'in aracı ile Demet'in aracı arasındaki mesafe, Burcu'nun aracı ile Ceren'in aracı arasındaki mesafeden fazladır.

**Buna göre aşağıdaki ifadelerden hangisi doğrudur?**

- A) Demet'in aracının Ahmet'in aracına olan mesafesi, Emre'nin aracına olan mesafesinden azdır.
- B) Burcu'nun aracının Ahmet'in aracına olan mesafesi, Ceren'in aracına olan mesafesinden fazladır.
- C) Ahmet'in aracının Demet'in aracına olan mesafesi, Burcu'nun aracına olan mesafesinden fazladır.
- D) Emre'nin aracı ile Demet'in aracı arasındaki mesafe, Burcu'nun aracı ile Ahmet'in aracı arasındaki mesafeden azdır.

20. Bir kitabın üst yüzü, kenar uzunlukları  $\frac{16}{5}$  cm ve  $\frac{29}{5}$  cm olan dikdörtgen biçimindeki kâğıtlarla kaplanacaktır.



Kâğıtlardan üç tanesi birer kenarları çakişacak biçimde 1. şekildeki gibi yerleştirildiğinde 6 cm'lik kısım açıkta kalıyor.

**Buna göre kâğıtlardan iki tanesi birer kenarları çakişacak biçimde 2. şekildeki gibi yerleştirildiğinde “?” ile gösterilen kısım kaç santimetre olur?**

- A) 20                      B)  $\frac{15}{2}$                       C) 4                      D)  $\frac{3}{2}$


**MATEMATİK TESTİ BİTTİ.**



## FEN BİLİMLERİ TESTİ

- Bu testte 20 soru vardır.
- Cevaplarınızı, cevap kâğıdının fen bilimleri testi için ayrılan kısmına işaretleyiniz.

1.



*Evrende bulunan birçok yıldızdan biri olan Güneş, Dünya'daki tüm yaşamın enerji kaynağıdır. Güneş'in çekim kuvvetinin etkisiyle yutulmamak için diğer gezegenler bu yıldız etrafında döner. Çekirdeğindeki çekim kuvveti oldukça fazladır ve burada nükleer tepkimeler meydana gelir. Çekirdekteki bu tepkimeler sonucunda açığa çıkan enerji ışık küre tabakasına ulaşır, atmosferinin olduğu taç küre tabakasını ileri doğru iter ve güneş ışığı olarak görülür.*

**Bir bilim dergisinden Güneş ile ilgili verilen bilgiyi okuyan Ekin aşağıdaki yorumlardan hangisi yapamaz?**

- A) Güneş'in ışık saçması kütle çekim kuvvetinin etkisiyle gerçekleşir.
- B) Güneş'in atmosferinin bulunduğu katman taç küredir.
- C) Canlıların enerji kaynağı Güneş'tir.
- D) Nükleer tepkimeler Güneş'in ışık küre katmanında meydana gelir.

2.



Güneş çok büyük bir yıldız olmasına rağmen, gökyüzüne bakıldığında Ay ile yaklaşık aynı boyutlarda gözlenir.

**Bunun nedeni aşağıdakilerden hangisidir?**

- A) Dünya'nın Güneş etrafında dolanması
- B) Güneş'in Dünya'ya çekim kuvveti uygulaması
- C) Ay'ın Dünya etrafında dolanması
- D) Güneş'in Dünya'ya Ay'dan daha uzak olması

3. Ay ile ilgili aşağıdaki bilgilerden hangisi yanlıştır?

- A) Ay'da ince bir atmosfer tabakası bulunduğundan hava olayları meydana gelir.
- B) Güneş'ten aldığı ışığı yansıtır.
- C) Dünya etrafındaki dolanmasını 27 günde tamamlar.
- D) Dünya etrafında dolanması ile evreleri oluşur.

4. • Çapı Dünya'nın 109 katıdır.  
• Gaz hâlde bulunur.  
• Yüzeyi çalkantılıdır.  
• Dünya'nın çevresinde dolanır.

**Güneş ile ilgili verilen bilgilerden kaç tanesi doğrudur?**

- A) 4      B) 3      C) 2      D) 1

5. I. Işık kaynağı olmayışı  
II. Gece gündüz sıcaklık farkının fazla oluşu  
III. Yüzeyinde gök cisimlerinin çarpması sonucu çukurların oluşması

**Verilenlerden hangileri Ay'da yaşam olmamasının nedenlerinden değildir?**

- A) Yalnız II      B) Yalnız III  
C) I ve III      D) I ve II

6.



**Dünya'dan Ay'a bakıldığında Ay'ın hep aynı yüzünün görülmesinin nedeni aşağıdakilerden hangisidir?**

- A) Ay'ın Dünya etrafında batıdan doğuya doğru dolanması
- B) Ay'ın kendi eksen etrafında dönüşü
- C) Ay'ın kendi eksen etrafında dönme ve Dünya etrafında dolanma süresinin eşit olması
- D) Ay'ın Güneş etrafında dolanması

7.



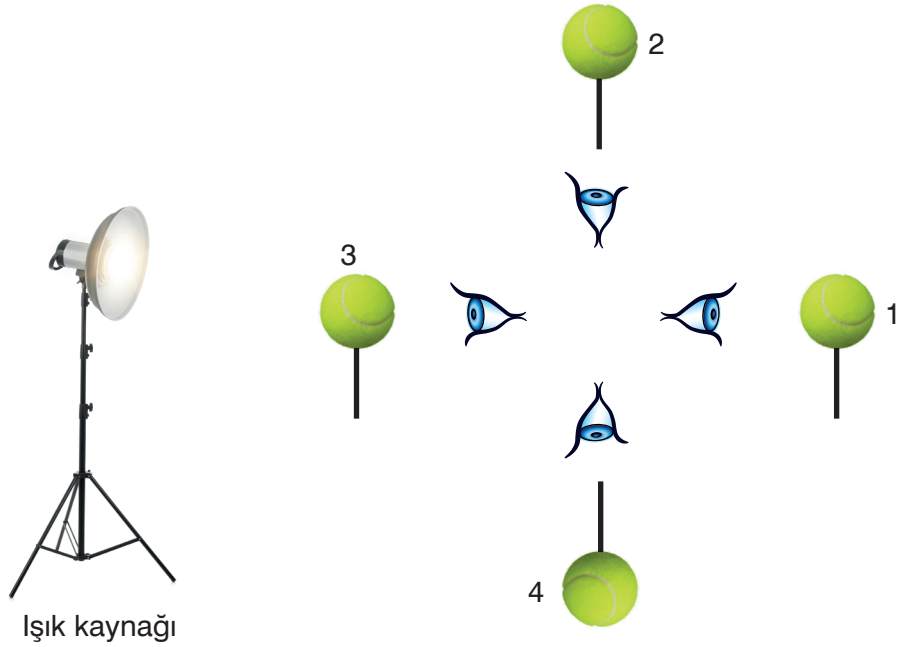
ABD'de Ay yolculuğu anısına basılan pul

**20 Temmuz 1969 yılında Apollo 11 uzay aracı ile Ay'a ilk ayak basan kişi aşağıdaki astronotlardan hangisidir?**

- A) Yuri Gagarin
- B) Neil Armstrong
- C) Pete Conrad
- D) Edwin Aldrin

## FEN BİLİMLERİ TESTİ

8.



Karanlık bir odanın ortasına lamba yerleştiren Fulya, Ay'ın evrelerini gözlemleyebileceği şekildeki düzeneği kuruyor. Topu tutarak kolayca yönlendirebilmek için içine çubuk yerleştiriyor.

**Buna göre Fulya verilen konumlardan şekildeki gibi topa baktığında Ay'ın hangi evrelerini gözlemler?**

	1	2	3	4
A)	Son dördün	Dolunay	İlk dördün	Yeni ay
B)	Hilal	İlk dördün	Dolunay	Son dördün
C)	Yeni ay	İlk dördün	Dolunay	Son dördün
D)	Dolunay	Son dördün	Yeni ay	İlk dördün

9.



**Ay'ın görseldeki evresi ile ilgili,**

- I. Ana evrelerden biridir.
- II. Yeni ay ve ilk dördün evreleri arasında gerçekleşir.
- III. Bu evrede Dünya, Güneş ile Ay arasındadır.

**yorumlarından hangileri yapılabilir?**

- A) Yalnız II      B) Yalnız III      C) I ve II      D) I ve III

## SOSYAL BİLGİLER TESTİ

5. Kadeş'te üslenen Hitit ordusu, yerleşimini Mısırlı gözcülerden tümüyle gizlemeyi başardı. Mısırlılar hiç kuşku duymaksızın yürüyüş düzeninde kente doğru ilerleyip çadırlarını kurmaya başladılar. Hitit ordusundan kalabalık bir arabalı birlik, görünmeden kentin arkasından dolanıp Asi Nehri'ni geçti ve Mısır koluna ezici bir güçle saldırıya geçti. Bir Mısır birliği başka yönden tam zamanında gelip Hititleri, Mısır ordugâhını yağmalarken yakalamasaydı, Mısır ordusu yok olmuştu. Talihin yardımıyla bu fırsattan yararlanan Mısır kralı, askerî güçlerinin geri kalan kısmını kurtardı ve çarpışmayı büyük bir zafer olarak gösterdi.

(Seton Lloyd, *Türkiye'nin Tarihi Bir Gezginin Gözüyle Anadolu Uygarlıkları, TÜBİTAK Popüler Bilim Kitapları, s. 42.*)

**Verilen açıklamadan Kadeş Savaşı'yla ilgili,**

- I. Hangi devletler arasında yaşandığı
- II. Sonucunda hangi antlaşmanın imzalandığı
- III. Kaç yıl sürdüğü

**bilgilerinden hangilerine ulaşılabilir?**

- A) Yalnız I                      B) I ve II                      C) I ve III                      D) II ve III

6. Babil hukuku olarak değerlendirilebilecek Hammurabi Yasaları 2,25 metre yüksekliğindeki bazalt bir dikmetaşa 49 sütun haline kazınmıştır. Bu yasaların kapsamı çok geniş olmamakla birlikte her biri şart kipinde cümlelerle yazılmıştır. Örneğin dikmetaşlarda, "Eğer bir kişi bir başkasını ölüm cezasına çarptıracak bir suçla itham eder ama kanıtlayamazsa suçlayan kişi ölüm cezası alır.", "Eğer bir kişi hırsızlık yapar ve yakalanırsa o kişi ölüme mahkum edilir. Hırsız yakalanmazsa soyulan kişi bir tanrı huzurunda neler kaybettiğini resmen ilan eder ve hırsızlığın meydana geldiği kent ve kentin reisi, kaybolan malın zararını kişiye öder." gibi yasalar yer almış ve bu yasalar göze göz, dişe diş ilkesiyle düzenlenmiştir. Hammurabi bu dikmetaşı yaptırma amacını şu sözlerle açıklamıştır: "Bunlar büyük kral Hammurabi'nin koyduğu adalet hükümleridir. Kuvvetlinin zayıfı ezmemesi, öksüze ve dula adil davranılması için, değerli sözlerimi dikmetaşıma kazıttım ve Babil'deki "Adalet Kralı" adlı heykelimin önüne diktirdim."

(Joan Oates, *Babil, Arkadaş Yayınevi, s.78, 79, 80. Düzenlenmiştir.*)

**Verilen açıklamaya göre Babil Kralı Hammurabi'yle ilgili aşağıdakilerden hangisi söylenemez?**

- A) Kendine özgü bir adalet anlayışı geliştirmiştir.
- B) Koyduğu yasaların gelecek kuşaklara aktarılması için çaba göstermiştir.
- C) Hukukta kısasa kısas anlayışını benimsemiştir.
- D) Anadolu'da yazılı dönemin ilk örneğini vermiştir.

## SOSYAL BİLGİLER TESTİ

5. I. Tarihî mekân: Geçmişte yaşamış insan topluluklarına ait kalıntıların bulunduğu yapı ve alanlardır.  
II. Tarihî eser: Geçmiş uygarlıklardan kalan kalıntı ve eserlerdir.  
III. Tarihî nesne: Geçmişten bizlere kalan ve tarihî değer taşıyan eşyalardır.

Verilen tanımların,



Göbeklitepe Antik Kenti/  
Şanlıurfa



Mama Hatun Kümbeti/  
Erzincan



Pazırık Halısı

görselleriyle eşleştirilmesi aşağıdakilerden hangisinde yer alır?

- A) I-a, II-b, III-c      B) I-b, II-a, III-c      C) I-b, II-c, III-a      D) I-c, II-a, III-b

6.

	Kültürel Unsur	Geçmişte	Günümüzde
I.	Halk oyunları	Horon, halay, zeybek, karşılama gibi oyunlar oynanırdı.	Halk oyunlarının yanında modern danslar da kültürün içine girmiştir.
II.	Düğünler	Evlerin önünde 2-3 gün süren düğünler yapılırdı.	Düğün salonlarında, sokaklarda gürültü yapılmasını önleyen 3-4 saatlik düğünler yapılmaya başlanmıştır.
III.	El sanatları	Dokumacılık, bakırcılık, çinicilik, ebru gibi el sanatları yaygındı.	Geleneksel el sanatları sanayileşmeyle birlikte yok olmaya başlamıştır.
IV.	Dini bayramlar	Aile büyükleri ve akrabalar ziyaret edilirdi.	Yüz yüze ziyaretlerin yanında telefon görüşmeleriyle de kutlamalar yapılmaya başlanmıştır.

Verilenlerden hangisi gündelik hayatımızdaki kültürel unsurların değişimine olumsuz bir örnek oluşturur?

- A) I      B) II      C) III      D) IV

## SOSYAL BİLGİLER TESTİ

- Bu testte 10 soru vardır.
- Cevaplarınızı, cevap kâğıdının sosyal bilgiler testi için ayrılan kısmına işaretleyiniz.

1. Gölcük ilçesi, 17 Ağustos 1999 Marmara Depremi'nin merkez üssü olması nedeniyle, afetten en çok zarar gören yerleşim yerlerinden biri oldu. Depremde çok sayıda can kaybı yaşandı, binaların büyük çoğunluğu zarar gördü ve bölge dışına göçler meydana geldi. Buna bağlı olarak da nüfus önemli ölçüde azaldı, halkın sosyal ve kültürel faaliyetlerini sürdürdüğü tesisler zarar gördü, ulaşım sorunları ortaya çıktı, kent içi alanlar kullanılamaz hale geldi. Ayrıca depremden sonra birçok kişide travma sonrası kaygı ve stres bozukluğu gibi ruhsal rahatsızlıklar ortaya çıktı.

**Verilen bilgede Marmara Depremi'yle ilgili aşağıdaki sorulardan hangisinin cevabı yoktur?**

- A) Deprem hangi insanları etkilemiştir?
- B) Depremın nedenleri nelerdir?
- C) Depremın insanlara etkileri nelerdir?
- D) Depremın sonuçları nelerdir?

2.



**Verilen haritada gösterilenler,**

- I. Anadolu
- II. Mezopotamya
- III. Avrupa

**medeniyetlerinden hangilerine aittir?**

- A) I ve II
- B) I ve III
- C) II ve III
- D) I, II ve III

## İNGİLİZCE TESTİ

- Bu testte 10 soru vardır.
- Cevaplarınızı, cevap kâğıdının İngilizce testi için ayrılan kısmına işaretleyiniz.

(For questions 1-5, choose the best option to fill in the blanks.)

(1-5. sorularda boşluklara uygun olan seçeneği işaretleyin.)

1. Sophia is from Barcelona so she is from \_\_\_\_\_ and she is \_\_\_\_\_.

- A) Spain / Spanian
- B) Italy / Italian
- C) Spain / Spanish
- D) Italian / Italy

2. Joey: Where are you?

Soul: \_\_\_\_\_.

Joey: \_\_\_\_\_?

Soul: Yes. I do some research for my science project.

- A) At the movie theater. / The cinema?
- B) I am in the classroom. / At school?
- C) At the museum. / The museum?
- D) I am at the school library. / The library?

3. I am from the U.S.A. so I am \_\_\_\_\_.

- A) British
- B) English
- C) American
- D) African

4. Mia: Who is in the \_\_\_\_\_?

Sam: My mother is. She wants to do shopping for dinner.

- A) grocery
- B) music store
- C) town center
- D) clothes shop

5.



Jackie: What are your favourite classes?

David: \_\_\_\_\_.

- A) I enjoy maths and drama lessons.
- B) I like science and art classes.
- C) I love art and music classes.
- D) My favourite classes are history and geography.

6. Which class do students need crayons and paper for?

Which one below is the correct answer of the given question?

(Aşağıdakilerden hangisi verilen sorunun doğru cevabıdır?)

- A) Art.
- B) Maths.
- C) Physical Education.
- D) Music.

7. I. I like maths classes because I like numbers and solving problems.

II. Maria enjoys science lessons because she loves doing experiments in the lab.

III. James is interested in acting so he hates drama classes.

IV. Samantha is fond of learning about the different countries around the world so her favourite class is geography.

Which one of the numbered sentences is incorrect?

(Numaralandırılmış cümlelerden hangisi yanlıştır?)

- A) I
- B) II
- C) III
- D) IV

## İNGİLİZCE TESTİ

(Answer questions 8-10 according to the drawing below.)

(8-10. soruları aşağıdaki krokiye göre cevaplayın.)



8. Which one below is correct?

(Aşağıdakilerden hangisi doğrudur?)

- A) The shopping center is on Green Road.
- B) The shopping center is next to the hospital.
- C) The book shop is opposite the school.
- D) The greengrocer is between the post office and the sports center.

9. Which one below is incorrect?

(Aşağıdakilerden hangisi yanlıştır?)

- A) The shopping centre is next to Cafe Tulip.
- B) The hospital is opposite the school.
- C) The sports centre is opposite the school.
- D) Diana's house is opposite Mike's house.

10. I. The book shop is next to the sports centre.

II. The post office is next to the tourist information office.

III. Tom's house is opposite Cafe Tulip.

IV. Diana's house is between the post office and Mike's house.

Which one of the numbered sentences is incorrect?

(Numaralandırılmış cümlelerden hangisi yanlıştır?)

- A) I
- B) II
- C) III
- D) IV

İNGİLİZCE TESTİ BİTTİ.



## İNGİLİZCE TESTİ

(Look at the visuals and read the text. Answer questions 8-10 according to them.)  
(Görsellere bakın ve metni okuyun. 8-10. soruları verilen bilgilere göre cevaplayın.)

Central Elementary School's principal Mr. Jameson makes a research about students. His research is about the favourite games and hobbies of the students at their school. Here are some of the results of his research.



Central Elementary School Students

8. Which sentence can be correct according to the research results?  
(Araştırma sonucuna göre aşağıdakilerden hangisi doğru olabilir?)

- A) Students only like doing origami.
- B) Students really enjoy playing chess.
- C) Students enjoy playing hide and seek a lot.
- D) Students dislike playing scrabble.

9. Which sentence cannot be correct according to the research results?  
(Araştırma sonucuna göre aşağıdakilerden hangisi doğru olamaz?)

- A) Playing scrabble is fun for students.
- B) Doing origami is enjoyable for students.
- C) Students love playing chess.
- D) Students love playing hide and seek.

10. Which cannot be one of the questions of the research?  
(Aşağıdakilerden hangisi araştırmanın sorularından biri olamaz?)

- A) Do you like playing chess?
- B) Is hide and seek an enjoyable game for you?
- C) Do you enjoy doing origami?
- D) Why do you like playing scrabble?

İNGİLİZCE TESTİ BİTTİ.