

# Fen Bilimleri 3

**KAZANIM SORU**  
**ODAKLI BANKASI**

Fen Bilimleri dersinin tüm konularını içeren,  
zorluk derecesine göre düzenlenmiş;

14 Kazanım Testi,

7 Kazanım Pekiştirme Testi,

3 Tekrar Testi,

7 Deneme Sınavı

Toplam 480 özgün ve nitelikli soru.

 **tudem**<sup>®</sup>

# 3.SINIF FEN BİLİMLERİ

## Kazanım Odaklı Soru Bankası

### KAZANIM ODAKLI SORU BANKASI 3.SINIF / FEN BİLİMLERİ

©Tudem Eğitim Hiz. San. ve Tic. AŞ  
1476/1 Sokak No: 10/51 Alsancak / Konak / İZMİR

**YAZARLAR:** Tudem Yazı Kurulu  
**DİZGİ VE GRAFİK:** Tudem Grafik Ekibi

**BASKI VE CİLT:** Ertem Basım Yayın Dağıtım San. Tic. Ltd. Şti.  
Eskişehir Yolu 40. km Başkent OSB 22. Cadde No: 6 Malıköy / ANKARA  
0 312 284 18 14

**ISBN:** 978-605-285-201-9  
**YAYINEVİ SERTİFİKA NO:** 45041  
**MATBAA SERTİFİKA NO:** 16031

Tüm hakları saklıdır.  
Bu yayının hiçbir bölümü, telif hakkı sahibinin önceden yazılı izni olmaksızın tekrar üretilemez, bir erişim sisteminde tutulamaz, herhangi bir biçimde elektronik, mekanik, fotokopi, kayıt ya da diğer yollarla iletilemez.

# İçindekiler

## 1 - Gezegenimizi Tanıyalım

Kazanım Testi 1 (Dünya'nın Şekli).....	6
Kazanım Testi 2 (Dünya'nın Yapısı) .....	8
Kazanım Pekiştirme Testi (Dünya'nın Şekli - Dünya'nın Yapısı) .....	10

## 2 - Beş Duyumuz

Kazanım Testi 1 (Duyu Organları ve Görevleri) .....	16
Kazanım Testi 2 (Duyu Organları ve Görevleri - Duyu Organlarının Sağlığı) .....	18
Kazanım Pekiştirme Testi (Duyu Organları ve Görevleri - Duyu Organlarının Sağlığı) .....	20
Tekrar Testi (Gezegenimizi Tanıyalım - Beş Duyumuz) .....	24

## 3 - Kuvveti Tanıyalım

Kazanım Testi 1 (Varlıkların Hareket Özellikleri) .....	30
Kazanım Testi 2 (Cisimleri Hareket Ettirme ve Durdurma) .....	32
Kazanım Pekiştirme Testi (Varlıkların Hareket Özellikleri - Cisimleri Hareket Ettirme ve Durdurma) .....	34

## 4 - Maddeyi Tanıyalım

Kazanım Testi 1 (Maddeyi Niteleyen Özellikler) .....	40
Kazanım Testi 2 (Maddenin Hâlleri) .....	42
Kazanım Pekiştirme Testi (Maddeyi Niteleyen Özellikler - Maddenin Hâlleri) .....	44
Tekrar Testi (Kuvveti Tanıyalım - Maddeyi Tanıyalım) .....	48

## 5 - Çevremizdeki Işık ve Sesler

Kazanım Testi 1 (Işığın Görmedeki Rolü - Işık Kaynakları) .....	54
Kazanım Testi 2 (Çevremizdeki Sesler - Sesin İşitmedeki Rolü) .....	56
Kazanım Pekiştirme Testi (Işığın Görmedeki Rolü - Işık Kaynakları - Çevremizdeki Sesler - Sesin İşitmedeki Rolü) .....	58

## 6 - Canlılar Dünyasına Yolculuk

Kazanım Testi 1 (Çevremizdeki Varlıkları Tanıyalım) .....	64
Kazanım Testi 2 (Ben ve Çevrem) .....	66
Kazanım Pekiştirme Testi (Çevremizdeki Varlıkları Tanıyalım - Ben ve Çevrem) .....	68

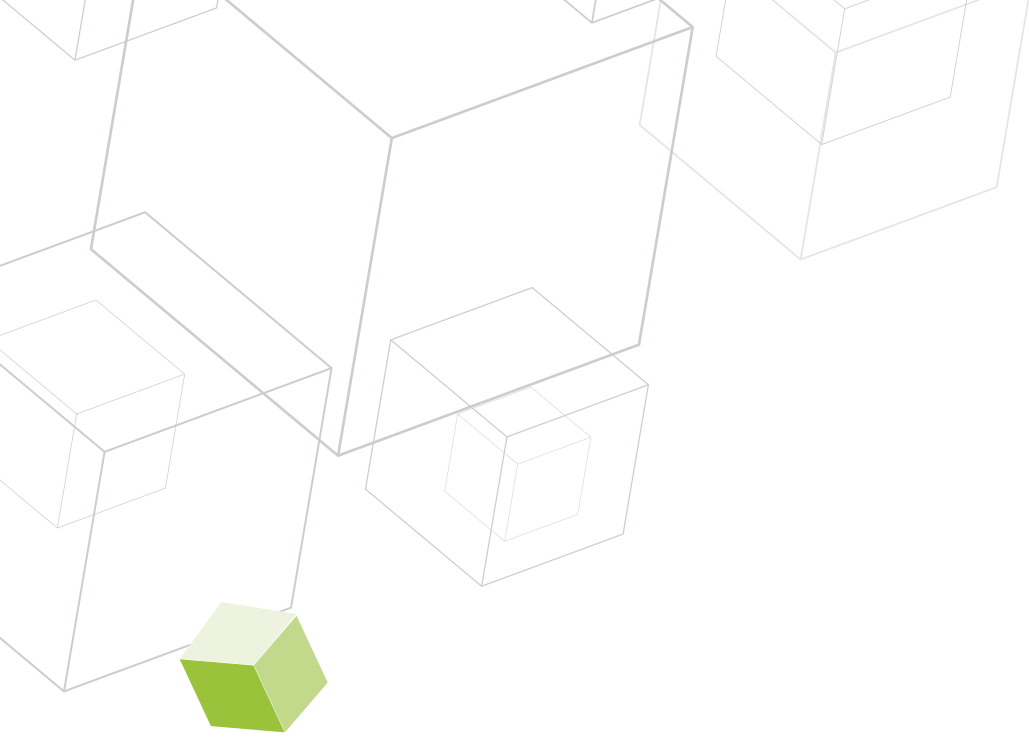
## 7 - Elektrikli Araçlar

Kazanım Testi 1 (Elektrikli Araç-Gereçler) .....	74
Kazanım Testi 2 (Elektrik Kaynakları - Elektrikli Güvenli Kullanımı) .....	76
Kazanım Pekiştirme Testi (Elektrikli Araç-Gereçler - Elektrik Kaynakları - Elektrikli Güvenli Kullanımı) .....	78
Tekrar Testi (Çevremizdeki Işık ve Sesler - Canlılar Dünyasına Yolculuk - Elektrikli Araçlar) .....	82

## Deneme Sınavları

1.Dönem Tekrar Testi - 1 (Gezegenimizi Tanıyalım - Beş Duyumuz - Kuvveti Tanıyalım - Maddeyi Tanıyalım) ....	86
1.Dönem Tekrar Testi - 2 (Gezegenimizi Tanıyalım - Beş Duyumuz - Kuvveti Tanıyalım - Maddeyi Tanıyalım) ...	90
2.Dönem Tekrar Testi - 1 (Çevremizdeki Işık ve Sesler - Canlılar Dünyasına Yolculuk - Elektrikli Araçlar .....	94
2.Dönem Tekrar Testi - 2 (Çevremizdeki Işık ve Sesler - Canlılar Dünyasına Yolculuk - Elektrikli Araçlar .....	98
Genel Tekrar Testi - 1 (Gezegenimizi Tanıyalım - Beş Duyumuz - Kuvveti Tanıyalım - Maddeyi Tanıyalım - Çevremizdeki Işık ve Sesler - Canlılar Dünyasına Yolculuk - Elektrikli Araçlar) .....	102
Genel Tekrar Testi - 2 (Gezegenimizi Tanıyalım - Beş Duyumuz - Kuvveti Tanıyalım - Maddeyi Tanıyalım - Çevremizdeki Işık ve Sesler - Canlılar Dünyasına Yolculuk - Elektrikli Araçlar) .....	106
Genel Tekrar Testi - 3 (Gezegenimizi Tanıyalım - Beş Duyumuz - Kuvveti Tanıyalım - Maddeyi Tanıyalım - Çevremizdeki Işık ve Sesler - Canlılar Dünyasına Yolculuk - Elektrikli Araçlar) .....	110

YANITLAR .....	114
----------------	-----



## Sevgili Öğrenci,

İyi bir eğitim almak, hayallerinizi gerçekleştirmek ve hedeflerinize ulaşmak için en gerekli unsurlardan biridir. Elinizdeki bu yayın, okulunuzdaki derslere yardımcı olacak temel ve seçici bir kaynaktır.

Bu kitapta her üniteyle ilgili kazanımlara yönelik kazanım testleri, pekiştirme ve tekrar testleri yer almaktadır. Bu testlerde çalıştığınız bir konuyu ne kadar kavradığınızı ölçecek ve merkezî sınavlarda konuyla ilgili ağırlıklı olarak yer verilen önemli bilgileri kavrayacaksınız. Bu testlerdeki "✓" işareti konmuş sorular çözümlüdür ve özel niteliklidir. Bu soruların "yanıtlar" kısmında yer alan çözümlerini mutlaka inceleyiniz. Ayrıca kitabın sonunda 4 adet dönem tekrar ve 3 adet genel tekrar testinden oluşan toplamda 7 adet deneme sınavı bulunmaktadır. Bu 7 testi kendinizi denemek amacıyla çözünüz. Çünkü bu denemeler gireceğiniz sınavlar için hazırlık niteliği taşımaktadır.

Hayatın her aşamasında başarılı olmanız dileğiyle...

**Yazı Kurulu**

# Gezegemizi Tanıyalım


## Ünite 1

<b>Konu</b>	<b>Testler</b>	<b>Kazanımlar</b>
Dünya'nın Şekli	Kazanım Testi 1	F.3.1.1.1. Dünya'nın şeklinin küreye benzediğinin farkına varır. F.3.1.1.2. Dünya'nın şekliyle ilgili model hazırlar.
Dünya'nın Yapısı	Kazanım Testi 2	F.3.1.2.1. Dünya'nın yüzeyinde karaların ve suların yer aldığını kavrar. F.3.1.2.2. Dünya'da etrafımızı saran bir hava katmanının bulunduğunu açıklar. F.3.1.2.3. Dünya yüzeyindeki kara ve suların kapladığı alanları model üzerinde karşılaştırır.
<b>Kazanım Pekiştirme Testi</b>		Dünya'nın Şekli - Dünya'nın Yapısı

## ◆◆ Kazanım Testi - 1

### Dünya'nın Şekli

1. Dünya'nın şekli aşağıdaki görsellerden hangisiyle benzerlik gösterir?



2. Çıktığı gemi yolculuğu sırasında devamlı batıya ilerleyerek, Hindistan'a ulaştığını sandı. Ancak ulaştığı yer Amerika kıtasıydı.

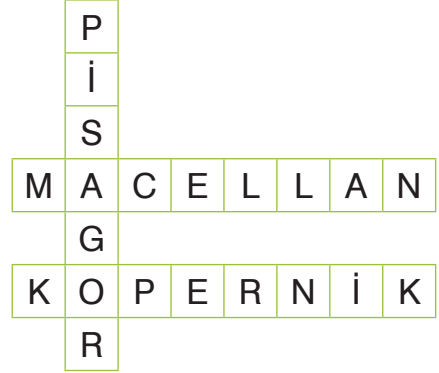
**Sözü edilen denizci aşağıdakilerden hangisidir?**

- A) Kristof Kolomb  
B) Macellan  
C) Pisagor

3. Dünya'nın yuvarlak olduğunu savunan ilk bilim insanı aşağıdakilerden hangisidir?

- A) Pisagor  
B) Aristo  
C) Darwin

4. ✓



**Aşağıdaki özelliklerden hangisi bulmacadaki bilim insanlarına ait değildir?**

- A) Dünya'nın çevresini dolaşan ilk denizcidir.  
B) Dünya'nın Güneş'in etrafında dolandığını öne süren ilk kişidir.  
C) İcat ettiği teleskopla gök cisimlerini incelemiştir.

5. Kıyıya yaklaşan bir geminin önce dumanı, sonra bacası en sonunda da gövdesi görünür.

**Verilen ifade aşağıdakilerden hangisinin kanıtıdır?**

- A) Dünya'nın yuvarlak olduğunun  
B) Dünya'nın Güneş etrafında döndüğünün  
C) Dünya'nın su ve karalarla kaplı olduğunun

6. Aşağıdaki ifadelerden hangisi Dünya'nın yuvarlak olduğunun kanıtı olamaz?

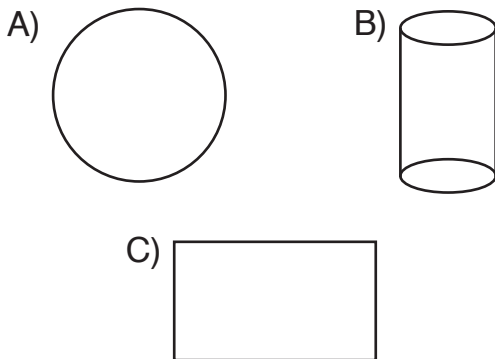
- A) İzmir'den kalkan bir uçağın sürekli batıya gittiğinde tekrar İzmir'e varması
- B) Yer kabuğundaki yüksekliklerin dağları, çukurlara dolan suların okyanusları oluşturması
- C) Hep aynı yöne giden bir sürücünün gökyüzünde farklı yıldızlar görmesi

7. Dünya'nın çevresini dolaşan ilk denizcidir. Bu seyahatleri sayesinde hem Dünya'nın yuvarlak olduğunu ispatlamış hem de Dünya'nın çevresinin uzunluğunu belirlemiştir.

**Bu parçada tanıtılan kişi aşağıdakilerden hangisidir?**


- A) Thales
- B) Galilei
- C) Macellan

8. Aşağıdakilerden hangisinin şekli Dünya'nın şekli ile benzerdir?



9. Aşağıdakilerden hangisi Dünya'nın yuvarlak olduğunun kanıtı değildir?

- A) Kıyıya yaklaşan bir geminin önce direğinin sonra gövdesinin görünmesi
- B) Uçağın sürekli batıya gittiğinde başlangıç noktasına dönmesi
- C) Yer kabuğundaki bazı kayaların ekonomik değere sahip olması

10.  I. Aynı yöne giden bir hareketlinin başladığı yere geri dönmesi

- II. Dünya'nın farklı noktalarında farklı zaman dilimlerinin yaşanması
- III. Denizlerin karalardan fazla yer kaplaması

**Yukarıda verilenlerden hangisi Dünya'nın şekliyle ilgilidir?**

- A) I
- B) II
- C) III



# Hayat 3 Bilgisi

KAZANIM SORU  
ODAKLI BANKASI

Hayat Bilgisi dersinin tüm konularını içeren,  
zorluk derecesine göre düzenlenmiş;

14 Kazanım Testi,

8 Kazanım Pekiştirme Testi,

3 Tekrar Testi,

1 Deneme Sınavı

Toplam 375 özgün ve nitelikli soru.

 **tudem**<sup>®</sup>

# 3. SINIF HAYAT BİLGİSİ

## Kazanım Odaklı Soru Bankası

### KAZANIM ODAKLI SORU BANKASI 3.SINIF / HAYAT BİLGİSİ

©Tudem Eğitim Hiz. San. ve Tic. AŞ  
1476/1 Sokak No: 10/51 Alsancak / Konak / İZMİR

**YAZARLAR:** Tudem Yazı Kurulu  
**DİZGİ VE GRAFİK:** Tudem Grafik Ekibi

**BASKI VE CİLT:** Ertem Basım Yayın Dağıtım San. Tic. Ltd. Şti.  
Eskişehir Yolu 40. km Başkent OSB 22. Cadde No: 6 Malıköy / ANKARA  
0 312 284 18 14

**ISBN:** 978-605-285-201-9  
**YAYINEVİ SERTİFİKA NO:** 45041  
**MATBAA SERTİFİKA NO:** 16031

Tüm hakları saklıdır.  
Bu yayının hiçbir bölümü, telif hakkı sahibinin önceden yazılı izni olmaksızın tekrar üretilemez, bir erişim sisteminde tutulamaz, herhangi bir biçimde elektronik, mekanik, fotokopi, kayıt ya da diğer yollarla iletilemez.

# İçindekiler

## 1 - Okulumuzda Hayat

Kazanım Testi 1 (Okulumuzda Hayat - Ben ve Arkadaşlarım) .....	6
Kazanım Testi 2 (Okulumuzda Hayat - Okulumuz) .....	8
Kazanım Testi 3 (İletişim Kurmak) .....	10
Kazanım Pekiştirme Testi 1 (Okulumuzda Hayat) .....	12
Kazanım Pekiştirme Testi 2 (Okulumuzda Hayat) .....	16

## 2 - Evimizde Hayat

Kazanım Testi 1 (Evimizde Hayat - Evim ve Adresim) .....	22
Kazanım Testi 2 (Evimizde Hayat - Ev Hâli) .....	24
Kazanım Pekiştirme Testi (Evimizde Hayat) .....	26
Tekrar Testi (Okulumuzda Hayat - Evimizde Hayat) .....	30

## 3 - Sağlıklı Hayat

Kazanım Testi 1 (Sağlıklı Hayat - Önce Sağlık) .....	36
Kazanım Testi 2 (Sağlıklı Hayat - Temizlik ve Hijyen) .....	38
Kazanım Pekiştirme Testi (Sağlıklı Hayat) .....	40

## 4 - Güvenli Hayat

Kazanım Testi 1 (Güvenli Hayat - Trafik İşaret ve Levhaları) .....	46
Kazanım Testi 2 (Güvenli Hayat - Acil Durum) .....	48
Kazanım Pekiştirme Testi (Güvenli Hayat) .....	50
Tekrar Testi (Sağlıklı Hayat - Güvenli Hayat) .....	54

## 5 - Ülkemizde Hayat

Kazanım Testi 1 (Ülkemizde Hayat - Ülkemi Tanıyorum) .....	60
Kazanım Testi 2 (Ülkemizde Hayat - Ülkeme Karşı Sorumluluklarım) .....	62
Kazanım Testi 3 (Ülkemizde Hayat - Hep Birlikte El Ele) .....	64
Kazanım Pekiştirme Testi - 1 (Ülkemizde Hayat) .....	66
Kazanım Pekiştirme Testi - 2 (Ülkemizde Hayat) .....	70

## 6 - Doğada Hayat

Kazanım Testi 1 (Doğada Hayat - Bitkiler ve Hayvanlar) .....	74
Kazanım Testi 2 (Doğada Hayat - Doğada İnsanın Rolü) .....	76
Kazanım Pekiştirme Testi (Doğada Hayat) .....	78
Tekrar Testi (Ülkemizde Hayat - Doğada Hayat) .....	82
Genel Tekrar Testi .....	86

<b>YANITLAR</b> .....	91
-----------------------	----



## Sevgili Öğrenci,

İyi bir eğitim almak, hayallerinizi gerçekleştirmek ve hedeflerinize ulaşmak için en gerekli unsurlardan biridir. Elinizdeki bu yayın, okulunuzdaki derslere yardımcı olacak temel ve seçici bir kaynaktır.

Bu kitapta her üniteyle ilgili kazanımlara yönelik kazanım testleri, pekiştirme ve tekrar testleri yer almaktadır. Bu testlerde çalıştığınız bir konuyu ne kadar kavradığınızı ölçecek ve merkezî sınavlarda konuyla ilgili ağırlıklı olarak yer verilen önemli bilgileri kavrayacaksınız. Bu testlerdeki "✓" işareti konmuş sorular çözümlüdür ve özel niteliklidir. Bu soruların "yanıtlar" kısmında yer alan çözümlerini mutlaka inceleyiniz. Ayrıca kitabın sonundaki genel tekrar testini konuların bitiminde kendinizi denemek amacıyla çözünüz. Çünkü bu denemeler ileride gireceğiniz sınavlar için hazırlık niteliği taşımaktadır.

Hayatın her aşamasında başarılı olmanız dileğiyle...

**Yayı Kurulu**

# Okulumuzda Hayat

## Ünite 1

Konu	Testler	Kazanımlar
Ben ve Arkadaşlarım	Kazanım Testi 1	HB.3.1.1. Güçlü yönlerini ve güçlendirilmesi gereken yönlerini fark eder. HB.3.1.2. Davranışlarının kendisini ve arkadaşlarını nasıl etkilediğini fark eder. HB.3.1.3. Arkadaşlarının davranışlarının kendisini nasıl etkilediğini fark eder.
Okulumuz	Kazanım Testi 2	HB.3.1.4. Arkadaşlık sürecinde dikkat edilmesi gereken hususları kavrar. HB.3.1.5. Sınıfının ve okulunun krokisini çizer. HB.3.1.6. Okulunun bireysel ve toplumsal katkılarını fark eder.
İletişim Kurmak	Kazanım Testi 3	HB.3.1.7. Okuldaki sosyal yardımlaşma ve dayanışmayla ilgili çalışmalara katılmaya istekli olur. HB.3.1.8. Okula ilişkin istek ve ihtiyaçlarını okul ortamında demokratik yollarla ifade eder. HB.3.1.9. Okul kaynaklarının etkili ve verimli kullanımına yönelik özgün önerilerde bulunur. HB.3.1.10. İlgi duyduğu meslekleri ve özelliklerini araştırır.
<b>Kazanım Pekiştirme Testi 1</b>		Ben ve Arkadaşlarım - Okulumuz
<b>Kazanım Pekiştirme Testi 2</b>		Okulumuz - İletişim Kurmak

## ◆◆ Kazanım Testi 1 - Okulumuzda Hayat

### Ben ve Arkadaşlarım

1. Her öğrencinin ilgi alanı farklıdır.

**Bu ifadeyi aşağıdakilerden hangisi örneklendirir?**

- A) Eda'nın müzikle, Ali'nin sporla uğraşması  
B) Ece'nin uzun, Ata'nın kısa boylu olması  
C) Ecri'nin sarı, Nur'un siyah saçlı olması

2. **Efe:** Basketbol oynamayı çok seviyorum.

**Tuana:** Resim yapmayı çok seviyorum.

**Metin:** Piyano çalmayı çok seviyorum.

**Öğrencilerin ifadelerine göre aşağıdakilerden hangisi söylenebilir?**

- A) Tuana her derste başarılıdır.  
B) Metin, Tuana ve Efe aynı sınıfa gitmektedir.  
C) Her birinin ilgi alanı farklıdır.

3. “Zayıf olduğumuz derste başarılarımızı arttırmak için, .....” cümlesindeki boşluğa aşağıdakilerden hangisi getirilmelidir?

- A) öğrencilerin zayıf yönleri yoktur.  
B) planlı ve düzenli çalışmalıyız.  
C) başarılı olduğumuz derslere daha çok çalışmalıyız.

4. Çok öfkelendiğimizde, .....

**Arkadaşlık ilişkilerimizde sorun yaşamamak için aşağıdakilerden hangisini yapmalıyız?**

- A) kötü sözler söylemeliyiz.  
B) sakinleşmeye çalışmalıyız.  
C) öfkelendiğimiz kişiyle bir daha konuşmamalıyız.

5. **Aşağıdaki davranış biçimlerinden hangisi doğrudur?**

- A) Okulda ve sınıfta herkese arkadaşlık kurmak için fırsat vermek  
B) Erkeklerin erkek öğrencilerle kızların kız öğrencilerle oynaması  
C) Sadece sıra arkadaşımızla konuşmak

6. 1. Daha çok arkadaşımız olur.  
2. Yeni insanlar tanırız.  
3. Herkes tarafından seviliriz.  
**Verilenlerden hangileri arkadaşlarımıza yansız davranmanın faydalarındandır?**

- A) Yalnız 1  
B) 2 ve 3  
C) 1, 2 ve 3

7. **Selin:** Uygun olmayan şakalar yapmak

**Derin:** Sorunları konuşarak çözmek

**Lara:** Hoşgörülü olmak

**Öğrencilerden hangisinin ifadesi arkadaşlık ilişkilerimizi olumsuz etkiler?**

- A) Selin      B) Lara      C) Derin

8. **Aşağıdaki kişilik özelliklerinden hangisi arkadaşımıza karşı duyduğumuz güveni sarsar?**

- A) Doğruluk  
B) Dürüstlük  
C) Bencillik

9.



**Resme göre arkadaşınızın size vurması aşağıdaki duygulardan hangisini yaşamanıza neden olur?**

- A) Heyecan  
B) Kızgınlık  
C) Şaşkınlık

10. Sınıf arkadaşınız özel eşyalarınıza zarar veriyor.

**Aşağıdaki davranışlardan hangisini yapmamız doğru olur?**

- A) Arkadaşınıza bağırarak  
B) Arkadaşınızı öğretmene şikayet etmek  
C) Arkadaşınızı yanlış davranışı konusunda uyarmak