

2.SINIF

Tüm Dersler

KILAVUZ

D E N E M E

Beceri Temelli Yeni Nesil Sorularla

8 Adet
50 Soruluk
Deneme
Sınavı

BlokTest[®]

2.SINIF

Tüm Dersler

Türkçe • Hayat Bilgisi • İngilizce • Matematik



SINAVDAKİ SORULARIN DERSLERE GÖRE KONU ANALİZİ

SÖZEL	TÜRKÇE	Harf ve Hece Bilgisi, Alfabe ve Sözlük Kullanımı, Sözcükte ve Söz Gruplarında Anlam, Zıt Anımlı Sözcükler, Cümle Bilgisi, Okuduğunu Anlama, Oluş Sırası
	HAYAT BİLGİSİ	Okulumuzda Hayat
	İNGİLİZCE	Telling People What We Know, Asking Someone's Name, Greeting and Meeting People
SAYISAL	MATEMATİK	Doğal Sayılar, Doğal Sayılarla Toplama İşlemi, Doğal Sayılarla Çıkarma İşlemi

ÖĞRENCİNİN DİKKATİNE!

- Bu kitapçıkta TÜRKÇE testinde 17 soru, HAYAT BİLGİSİ testinde 10 soru, İNGİLİZCE testinde 5 soru, MATEMATİK testinde 18 soru olmak üzere toplam 50 soru vardır.
- Kitapçıkta soruların tümünü cevaplamak için önerilen süre 75 dakikadır.
- Cevaplarınızı, mobil ölçme optiklerindeki ilgili alanlara yuvarlağın dışına taşırmadan kodlayınız.
- Her sorunun tek bir doğru cevabı vardır. Birden fazla cevap işaretlenmişse o soru yanlış cevaplanmış sayılır.
- Soruların çözümü için size ayrıca boş kâğıt verilmeyecektir. Soru kitapçığınızın içindeki boş alanları çözümlerinizi için kullanabilirsiniz.
- Puanlama: Her bir ders testine ait ham puan; ilgili teste ait doğru cevap sayısından yanlış cevap sayısının üçte biri çıkarılarak hesaplanacaktır.

Adı Soyadı :

Sınıf - Şube - No :

Okulu :

TÜRKÇE

1. Bu testte 17 soru vardır.
2. Cevaplarınızı, bu sayfanın altında Türkçe testi için ayrılan yere işaretleyiniz.

1.



Tuğra, kitabındaki manzara resmini boyamak istemektedir. Renklerin seçimini, sözcüklerin alfabedeki sırasına göre belirleyecektir.

Buna göre Tuğra'nın resmi boyarken 3. sırada kullanacağı renk aşağıdakilerden hangisidir?

- A) Kırmızı B) Sarı C) Mavi D) Mor

2.



Yukarıdaki görseller kutulara belli bir kurala göre yerleştirilmiştir.

Buna göre “?” olan yere aşağıdaki sözcüklerden hangisi getirilmelidir?

- A) Üzölmek B) Tasa C) Gülmek D) Sıkıntı

3. “Yapboz” sözcüğü ile ilgili aşağıdakilerden hangisi yanlıştır?

- A) 6 harften ve 2 heceden oluşmaktadır.
B) 2. hecesi, alfabenin 3. harfi ile başlamaktadır.
C) Ünsüz harf sayısı, ünlü harf sayısından fazladır.
D) Sözcüğün son harfi, alfabenin de son harfidir.

Cevaplarınızı Bu Bölüme İşaretleyiniz									
Soru	A	B	C	D	Soru	A	B	C	D
1	<input type="radio"/>	<input type="radio"/>	<input type="radio"/>	<input type="radio"/>	14	<input type="radio"/>	<input type="radio"/>	<input type="radio"/>	<input type="radio"/>
2	<input type="radio"/>	<input type="radio"/>	<input type="radio"/>	<input type="radio"/>	15	<input type="radio"/>	<input type="radio"/>	<input type="radio"/>	<input type="radio"/>
3	<input type="radio"/>	<input type="radio"/>	<input type="radio"/>	<input type="radio"/>	16	<input type="radio"/>	<input type="radio"/>	<input type="radio"/>	<input type="radio"/>
4	<input type="radio"/>	<input type="radio"/>	<input type="radio"/>	<input type="radio"/>	17	<input type="radio"/>	<input type="radio"/>	<input type="radio"/>	<input type="radio"/>
5	<input type="radio"/>	<input type="radio"/>	<input type="radio"/>	<input type="radio"/>	18	<input type="radio"/>	<input type="radio"/>	<input type="radio"/>	<input type="radio"/>
6	<input type="radio"/>	<input type="radio"/>	<input type="radio"/>	<input type="radio"/>	19	<input type="radio"/>	<input type="radio"/>	<input type="radio"/>	<input type="radio"/>
7	<input type="radio"/>	<input type="radio"/>	<input type="radio"/>	<input type="radio"/>	20	<input type="radio"/>	<input type="radio"/>	<input type="radio"/>	<input type="radio"/>
8	<input type="radio"/>	<input type="radio"/>	<input type="radio"/>	<input type="radio"/>	21	<input type="radio"/>	<input type="radio"/>	<input type="radio"/>	<input type="radio"/>
9	<input type="radio"/>	<input type="radio"/>	<input type="radio"/>	<input type="radio"/>	22	<input type="radio"/>	<input type="radio"/>	<input type="radio"/>	<input type="radio"/>
10	<input type="radio"/>	<input type="radio"/>	<input type="radio"/>	<input type="radio"/>	23	<input type="radio"/>	<input type="radio"/>	<input type="radio"/>	<input type="radio"/>
11	<input type="radio"/>	<input type="radio"/>	<input type="radio"/>	<input type="radio"/>	24	<input type="radio"/>	<input type="radio"/>	<input type="radio"/>	<input type="radio"/>
12	<input type="radio"/>	<input type="radio"/>	<input type="radio"/>	<input type="radio"/>	25	<input type="radio"/>	<input type="radio"/>	<input type="radio"/>	<input type="radio"/>
13	<input type="radio"/>	<input type="radio"/>	<input type="radio"/>	<input type="radio"/>	26	<input type="radio"/>	<input type="radio"/>	<input type="radio"/>	<input type="radio"/>

Öğrenci No

0	<input type="radio"/>	<input type="radio"/>	<input type="radio"/>	<input type="radio"/>
1	<input type="radio"/>	<input type="radio"/>	<input type="radio"/>	<input type="radio"/>
2	<input type="radio"/>	<input type="radio"/>	<input type="radio"/>	<input type="radio"/>
3	<input type="radio"/>	<input type="radio"/>	<input type="radio"/>	<input type="radio"/>
4	<input type="radio"/>	<input type="radio"/>	<input type="radio"/>	<input type="radio"/>
5	<input type="radio"/>	<input type="radio"/>	<input type="radio"/>	<input type="radio"/>
6	<input type="radio"/>	<input type="radio"/>	<input type="radio"/>	<input type="radio"/>
7	<input type="radio"/>	<input type="radio"/>	<input type="radio"/>	<input type="radio"/>
8	<input type="radio"/>	<input type="radio"/>	<input type="radio"/>	<input type="radio"/>
9	<input type="radio"/>	<input type="radio"/>	<input type="radio"/>	<input type="radio"/>

4. Koyun → Sürü
Gün → Asır
Asker → ?
Tane → Deste

Yukarıda eşleştirilmiş sözcükler arasında anlamca bir ilişki vardır.

Buna göre “?” olan yere aşağıdakilerden hangisi getirilmelidir?

- A) Ordu B) Askerler
C) Binbaşı D) Postal

5. Okul çantası spor ayakkabılarını aynı renk almış.

Kardeşimle hafta sonu arka sokaktaki parka gideriz.

Terliyen soğuk su içmeyi tercih etmiyorum.

Aşağıdaki sözcüklerden hangisi cümlelerdeki boşluklardan birine getirilemez?

- A) ile B) her
C) veya D) pek

6. **Aşağıdaki cümlelerin hangisinde tek başına anlamı olmayan bir sözcük kullanılmıştır?**

- A) Trafik ışıkları, trafiğin akışını düzenler.
B) Ben ve dayım sinemaya gideceğiz.
C) Hava çok soğuk, bu yüzden üşüyorum.
D) Arıların hayatını merak ettim, araştırma yapıyorum.

7. Okyanusta kaybolan insanlar birdenbire “Kara göründü!” diye bağırmaya başladılar. Artık kurtulmuşlardı.

Aşağıdakilerden hangisi, parçada geçen “kara” sözcüğünün ifade ettiği anlamdır?

- A) Siyah
B) Renk
C) Yön
D) Toprak parçası

8. 1. Mık - na - tıs

2. Kır - mız - ı

3. Top - lu - luk

4. Gü - lüm - se - mek

Numaralanmış sözcüklerden hangisi hecelerine yanlış ayrılmıştır?

- A) 1 B) 2 C) 3 D) 4

9. Meral Öğretmen öğrencilerinden ulaşım araçları konusunda bir dergi hazırlamalarını istemiştir. Dergide bulunması gereken özellikler aşağıda verilmiştir:

- Toplam 40 sayfadan oluşmalıdır.
- Üç bölümden fazla olmamalıdır.
- Başında içindekiler tablosu yer almalıdır.
- Sonunda kaynakça bulunmalıdır.

Meral Öğretmen, hazırlanan dergilerin önce içindekiler kısmını incelemiş ve hata yapan öğrencilerini uyarmıştır.

Buna göre, aşağıdaki tablolardan hangisini yapan öğrenci uyarılmamıştır?

A)

İçindekiler	
1. Kara yolu ulaşım araçları	1 – 10
2. Deniz yolu ulaşım araçları	11 – 20
3. Hava yolu ulaşım araçları	21 – 30
4. Kaynakça	31 – 40

B)

İçindekiler	
1. Ulaşım Nedir?	1 – 15
2. Ulaşım Türleri	16 – 38
3. Kaynakça	39 – 40

C)

İçindekiler	
1. Motosiklet	1 – 20
2. Otomobil	21 – 35
3. Kaynakça	36 – 50

D)

İçindekiler	
1. Yurt içi ulaşımı	1 – 25
2. Yurt dışı ulaşımı	26 – 34
3. Ulaşımın çevreye etkileri	35 – 40

10. 1. Bir an önce eve gidip dinlenmek istiyordum.
2. Eve dönüş yolunda yaralı bir köpek gördüm.
3. O gün okulda çok yoruldu.
4. Onu veteriner kliniğine götürdüm.

Numaralanmış cümlelerdeki olayların oluş sırası aşağıdakilerden hangisidir?

- A) 1 – 2 – 3 – 4
B) 2 – 4 – 1 – 3
C) 3 – 1 – 2 – 4
D) 4 – 2 – 3 – 1

11. Büyüklerim anlatıyor
Eski bayramların neşesini.
Bütün küsler barışmış,
Bayram geldiği gibi.

Bu dizelere getirilebilecek en uygun başlık, aşağıdakilerden hangisidir?

- A) Eski Bayramlar
B) Küslerin Barışması
C) Büyüklerin Anıları
D) Neşeli Günler

12. K İ A N Ü L E

Verilen harflerden oluşturulabilecek anlamlı bir sözcük, en fazla kaç heceli olur?

- A) 1 B) 2 C) 3 D) 4

13. Bu evin duvarları, perdelerinin aksine bembeyaz; mobilyaları ise tıpkı kapılar gibi kahverengiydi.

Bu ifadeye göre aşağıdakilerden hangisinin rengi yanlış verilmiştir?

- A) Duvar → Beyaz
B) Perde → Beyaz
C) Kapı → Kahverengi
D) Mobilya → Kahverengi

14. Ünlü harfler □, ünsüz harfler ○ ile gösterilirse “buzdolabı” sözcüğünün kodlaması aşağıdakilerden hangisi olur?


- A) □○○□○□□○○
B) □○□□○○□○○
C) ○□○○○□○□○○
D) ○□□○○□○○

15. Yarın pikniğe gidemeyecekmışiz çünkü

Bu cümle aşağıdakilerden hangisi ile tamamlanmalıdır?


- A) bize misafir gelecekmiş.
B) hava güzel olacakmış.
C) hepimiz gitmeyi istiyoruz.
D) hazırlıkları tamamladık.


16.

 Türkiye'nin başkentidir.
Ankara

 Doğu Karadeniz Bölgesi'nde yer alır ve çay üretimi yapılır.
Trabzon

 Türkiye'nin üçüncü büyük şehridir.
İzmir

 Ani Harabeleri tarihi öneme sahiptir.
Kars

 Dünya'daki ilk yazılı ticari anlaşma yapılmıştır.
Kayseri

 Kayısı üretimi çok yaygındır.
Malatya

Türkiye haritası üzerinde bazı illere ait özellikler verilmiştir.

Buna göre hangi illerin özelliğinde zıt anlamlı sözcük kullanılmıştır?

- A) İzmir-Ankara
B) Malatya-Kayseri
C) Trabzon-Kars
D) Ankara-Kars

17.



Ali, resim ödevi için yandaki resmi çizmiş ve resmin çağrıştırdıkları ile ilgili aşağıdaki yargılarda bulunmuştur:

1. Ağabeyimle biraz çiçek topladık.
2. Gökyüzünde onlarca yıldız parlıyordu.
3. Kuzenimle evimizin yanındaki tepelikte piknik yaptık.
4. Yemyeşil çimenlerin üzerinde oturmak harika bir duyguydu.

Buna göre numaralanmış yargılardan hangileri bu görselin çağrıştırdıkları ile ilgili değildir?

- A) Yalnız 1
B) 1 ve 3
C) 2 ve 3
D) 3 ve 4

TÜRKÇE TESTİ BİTTİ.

HAYAT BİLGİSİ

1. Bu testte 10 soru vardır.
2. Cevaplarınızı, bu sayfanın altında hayat bilgisi testi için ayrılan yere işaretleyiniz.

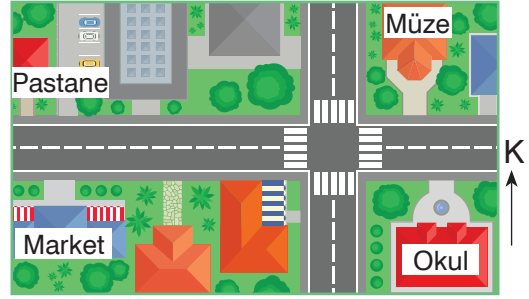
1. Selin, kâğıt katlama sanatı olan origamiye merak salmıştır. Kâğıttan birçok hayvan figürü yapmıştır. Bunları arkadaşı Eliz'e gösterdiğinde "Ne kadar saçma şeylerle uğraşıyorsun." şeklinde bir tepkiyle karşılaşmıştır. **Bu durum karşısında Selin aşağıdakilerden hangisini söylerse doğru davranmış olur?**

- A) Kışkırdığın için böyle konuşuyorsun.
- B) Sen yap da seninkileri de görelim.
- C) Benimle saygılı konuşmanı istiyorum.
- D) Düşüncen buysa bir daha arkadaşlık etmeyelim.

2. Yaptığımız bazı davranışlarla hem kendimize hem de başkalarına zarar veririz. **Aşağıdakilerden hangisi bu davranışlara örnek oluşturur?**


- A) Dersin düzenini bozmak
- B) Kahvaltı öğününü atlamak
- C) Okul kaynaklarını kullanmak
- D) Okul çantasını eksik hazırlamak

3. Aşağıda bir yerin tepeden görünümünü verilmiştir.



Buna göre verilenle ilgili aşağıdakilerden hangisi söylenemez?

- A) Market, müzenin çaprazındadır.
- B) Pastane ve okul karşılıklıdır.
- C) Müze, pastanenin sağındadır.
- D) Market, okulun solundadır.



BlokTest

Cevaplarınızı Bu Bölüme İşaretleyiniz

Soru	A	B	C	D	Soru	A	B	C	D
1	<input type="radio"/>	<input type="radio"/>	<input type="radio"/>	<input type="radio"/>	14	<input type="radio"/>	<input type="radio"/>	<input type="radio"/>	<input type="radio"/>
2	<input type="radio"/>	<input type="radio"/>	<input type="radio"/>	<input type="radio"/>	15	<input type="radio"/>	<input type="radio"/>	<input type="radio"/>	<input type="radio"/>
3	<input type="radio"/>	<input type="radio"/>	<input type="radio"/>	<input type="radio"/>	16	<input type="radio"/>	<input type="radio"/>	<input type="radio"/>	<input type="radio"/>
4	<input type="radio"/>	<input type="radio"/>	<input type="radio"/>	<input type="radio"/>	17	<input type="radio"/>	<input type="radio"/>	<input type="radio"/>	<input type="radio"/>
5	<input type="radio"/>	<input type="radio"/>	<input type="radio"/>	<input type="radio"/>	18	<input type="radio"/>	<input type="radio"/>	<input type="radio"/>	<input type="radio"/>
6	<input type="radio"/>	<input type="radio"/>	<input type="radio"/>	<input type="radio"/>	19	<input type="radio"/>	<input type="radio"/>	<input type="radio"/>	<input type="radio"/>
7	<input type="radio"/>	<input type="radio"/>	<input type="radio"/>	<input type="radio"/>	20	<input type="radio"/>	<input type="radio"/>	<input type="radio"/>	<input type="radio"/>
8	<input type="radio"/>	<input type="radio"/>	<input type="radio"/>	<input type="radio"/>	21	<input type="radio"/>	<input type="radio"/>	<input type="radio"/>	<input type="radio"/>
9	<input type="radio"/>	<input type="radio"/>	<input type="radio"/>	<input type="radio"/>	22	<input type="radio"/>	<input type="radio"/>	<input type="radio"/>	<input type="radio"/>
10	<input type="radio"/>	<input type="radio"/>	<input type="radio"/>	<input type="radio"/>	23	<input type="radio"/>	<input type="radio"/>	<input type="radio"/>	<input type="radio"/>
11	<input type="radio"/>	<input type="radio"/>	<input type="radio"/>	<input type="radio"/>	24	<input type="radio"/>	<input type="radio"/>	<input type="radio"/>	<input type="radio"/>
12	<input type="radio"/>	<input type="radio"/>	<input type="radio"/>	<input type="radio"/>	25	<input type="radio"/>	<input type="radio"/>	<input type="radio"/>	<input type="radio"/>
13	<input type="radio"/>	<input type="radio"/>	<input type="radio"/>	<input type="radio"/>	26	<input type="radio"/>	<input type="radio"/>	<input type="radio"/>	<input type="radio"/>

Öğrenci No

0	<input type="radio"/>	<input type="radio"/>	<input type="radio"/>	<input type="radio"/>
1	<input type="radio"/>	<input type="radio"/>	<input type="radio"/>	<input type="radio"/>
2	<input type="radio"/>	<input type="radio"/>	<input type="radio"/>	<input type="radio"/>
3	<input type="radio"/>	<input type="radio"/>	<input type="radio"/>	<input type="radio"/>
4	<input type="radio"/>	<input type="radio"/>	<input type="radio"/>	<input type="radio"/>
5	<input type="radio"/>	<input type="radio"/>	<input type="radio"/>	<input type="radio"/>
6	<input type="radio"/>	<input type="radio"/>	<input type="radio"/>	<input type="radio"/>
7	<input type="radio"/>	<input type="radio"/>	<input type="radio"/>	<input type="radio"/>
8	<input type="radio"/>	<input type="radio"/>	<input type="radio"/>	<input type="radio"/>
9	<input type="radio"/>	<input type="radio"/>	<input type="radio"/>	<input type="radio"/>

4.

Öğretmeni, ders programına uygun okul çantası hazırlamayan Can'a ödev vermiştir. Can'ın ödevi, "Pazartesi günü ders programındaki derslerin materyallerini içeren bir görsel bulmak" şeklindedir. Ödevini hazırlayan Can yandaki görseli öğretmenine göstermiştir.



Buna göre Can'ın pazartesi günü ders programında,

1. Görsel sanatlar
2. Matematik
3. Hayat bilgisi

derslerinden hangilerinin kesinlikle bulunduğu söylenebilir?

- A) 1 ve 2 B) 1 ve 3 C) 2 ve 3 D) 1, 2 ve 3

5. Aşağıdaki hangi çocuk fiziksel özelliğiyle ilgili bilgi vermiştir?

A)



Yavuz

Oryantiring sporunu çok merak ediyorum.

B)



Aleyna

Seyahat etmekten hoşlanırım.

C)



Okan

Matematik sorusu çözmeye bayılırım.

D)



Serenay

Kıvırcık saçlara ve koyu bir ten rengine sahibim.

6. Aşağıda 2/A sınıfında yaşanan bir an gösterilmiştir.



Buna göre 2/A sınıfındaki öğrencilerle ilgili aşağıdakilerden hangisi söylenebilir?

- A) Arkadaşlık ilişkileri zayıftır.
 B) Düzeni bozanlar vardır.
 C) Ders başarısı düşüktür.
 D) Herkes usludur.
7. Şule ile Ata grup çalışmasında aynı gruba düşmüşlerdir. Şule, Ata ile sorun yaşadığında bunu onunla konuşarak çözmeye çalışmıştır. Ata ise alay etmiş ve bencilce davranmıştır. **Buna göre aşağıdakilerden hangisine ulaşamaz?**

- A) Şule'nin iletişim beceresi, Ata'ninkinden daha yüksektir.
 B) Ata, insanlarla doğru ilişkiler kurmakta zorlanmaktadır.
 C) Şule, Ata ile olan sorununu çözüme kavuşturmuştur.
 D) Şule ve Ata arasında bireysel farklılıklar bulunmaktadır.

8. Aşağıda üç kardeşin görseli verilmiş ve kişiler numaralanmıştır.



Buna göre kişilerin,

- a. Uzun sarı saçları vardır.
 b. Açık bir ten rengine sahiptir ve erkektir.
 c. Yaşı en küçük olan kişidir.
- özellikleriyle eşleştirilmesi aşağıdakilerden hangisidir?**

- A) 1-a, 2-b, 3-c
 B) 1-b, 2-a, 3-c
 C) 1-b, 2-c, 3-a
 D) 1-c, 2-b, 3-a

9. **Aşağıdakilerden hangisi okula hazırlık aşamalarından biri değildir?**

- A) Oyun oynamak
 B) Ödev yapmak
 C) Okul çantası hazırlamak
 D) Diş fırçalamak

10. Aşağıda sınıf kuralları baykuşların karikatürize edilmesiyle gösterilmiştir.

SINIF KURALLARI

 Güvenli oyunlar oyna.		 İşlerini sıraya girerek hallet.	 Kendi sırasında otur.
 Koşmaktan ve zıplamaktan uzak dur.	 Sınıf temizliğinde diğer arkadaşlarına destek ol.		 Öğretmenini iyi dinle.
 Araç ve gereçlerin düzenini sağla.	 Akılcıca seçimler yap.	 Arkadaşlarına karşı paylaşımcı ol.
	 Derse katıl.	

Buna göre verilen boşluklara aşağıdakilerden hangisinin getirilmesi uygun olmaz?

- A) Teneffüs zamanında tuvalet ihtiyacını karşılamaya çalış.
- B) Ders sırasında yazdıklarını sonradan tekrar et.
- C) İyi arkadaşlık ilişkileri kurmaya özen göster.
- D) Harçlığını isteklerinden önce ihtiyaçlarını karşılamak için kullan.

HAYAT BİLGİSİ TESTİ BİTTİ.

İNGİLİZCE

1. Bu testte 5 soru vardır.

2. Cevaplarınızı, bu sayfanın altında İngilizce testi için ayrılan yere işaretleyiniz.

1. Aşağıdakilerden hangisi yanlıştır?

A)



B)



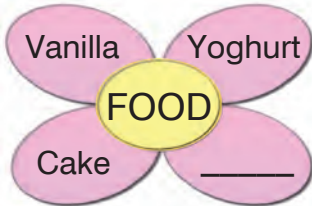
C)



D)



2.



Boş bırakılan yere uygun seçenek aşağıdakilerden hangisidir?

A) Lemon

B) Orchestra

C) Picnic

D) Office

3. Aşağıdakilerden hangisi yanlış yazılmıştır?

A) 1 → one

B) 2 → two

C) 3 → tree

D) 4 → four

4. Jim: Hello! _____

Mia: Hi! My name is Mia.

Boşluğa uygun olan hangisidir?

A) What is your name?

B) Yes, it is.

C) Thank you.

D) How are you?

5. balloon / camp / _____ /
electronics / _____ / gorilla

Boşlukları sırasıyla doğru tamamlayan aşağıdakilerden hangisidir?

A) dance / kangaroo

B) hotel / note

C) doctor / film

D) café / microphone

İNGİLİZCE TESTİ BİTTİ.

Cevaplarınızı Bu Bölüme İşaretleyiniz									
Soru	A	B	C	D	Soru	A	B	C	D
1	<input type="radio"/>	<input type="radio"/>	<input type="radio"/>	<input type="radio"/>	14	<input type="radio"/>	<input type="radio"/>	<input type="radio"/>	<input type="radio"/>
2	<input type="radio"/>	<input type="radio"/>	<input type="radio"/>	<input type="radio"/>	15	<input type="radio"/>	<input type="radio"/>	<input type="radio"/>	<input type="radio"/>
3	<input type="radio"/>	<input type="radio"/>	<input type="radio"/>	<input type="radio"/>	16	<input type="radio"/>	<input type="radio"/>	<input type="radio"/>	<input type="radio"/>
4	<input type="radio"/>	<input type="radio"/>	<input type="radio"/>	<input type="radio"/>	17	<input type="radio"/>	<input type="radio"/>	<input type="radio"/>	<input type="radio"/>
5	<input type="radio"/>	<input type="radio"/>	<input type="radio"/>	<input type="radio"/>	18	<input type="radio"/>	<input type="radio"/>	<input type="radio"/>	<input type="radio"/>
6	<input type="radio"/>	<input type="radio"/>	<input type="radio"/>	<input type="radio"/>	19	<input type="radio"/>	<input type="radio"/>	<input type="radio"/>	<input type="radio"/>
7	<input type="radio"/>	<input type="radio"/>	<input type="radio"/>	<input type="radio"/>	20	<input type="radio"/>	<input type="radio"/>	<input type="radio"/>	<input type="radio"/>
8	<input type="radio"/>	<input type="radio"/>	<input type="radio"/>	<input type="radio"/>	21	<input type="radio"/>	<input type="radio"/>	<input type="radio"/>	<input type="radio"/>
9	<input type="radio"/>	<input type="radio"/>	<input type="radio"/>	<input type="radio"/>	22	<input type="radio"/>	<input type="radio"/>	<input type="radio"/>	<input type="radio"/>
10	<input type="radio"/>	<input type="radio"/>	<input type="radio"/>	<input type="radio"/>	23	<input type="radio"/>	<input type="radio"/>	<input type="radio"/>	<input type="radio"/>
11	<input type="radio"/>	<input type="radio"/>	<input type="radio"/>	<input type="radio"/>	24	<input type="radio"/>	<input type="radio"/>	<input type="radio"/>	<input type="radio"/>
12	<input type="radio"/>	<input type="radio"/>	<input type="radio"/>	<input type="radio"/>	25	<input type="radio"/>	<input type="radio"/>	<input type="radio"/>	<input type="radio"/>
13	<input type="radio"/>	<input type="radio"/>	<input type="radio"/>	<input type="radio"/>	26	<input type="radio"/>	<input type="radio"/>	<input type="radio"/>	<input type="radio"/>

Öğrenci No

0

1

2

3

4

5

6

7


8

9

MATEMATİK

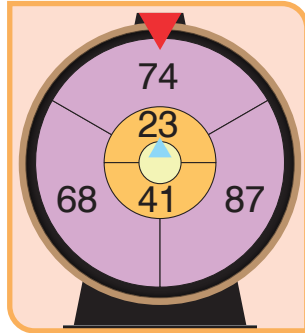
1. Bu testte 18 soru vardır.
2. Cevaplarınızı, bu sayfanın altında matematik testi için ayrılan yere işaretleyiniz.

1. Bir bahçenin belirli bir bölümünde bulunan mantarlar aşağıda gösterilmiştir.



Bilge, bahçenin bu bölümündeki mantarların tümünü toplamıştır. Buna göre Bilge'nin topladığı mantar sayısı ile ilgili aşağıdaki ifadelerden hangisi yanlıştır?

- A) Bir düzineden fazladır.
 - B) Yedi birlik ve bir onluktan oluşur.
 - C) Onlar basamağında 1 rakamı bulunur.
 - D) Rakamlarının sayı değerleri toplamı iki basamaklı bir sayıdır.
2. Cemal, birbirinden bağımsız dönebilen iki çarktan oluşan bir düzenek tasarlamıştır. Cemal'in tasarladığı bu düzenek aşağıda gösterilmiştir.



Cemal, bu düzeneği bir kez çevirip çarklar durduğunda kırmızı okun gösterdiği sayıdan mavi okun gösterdiği sayıyı çıkarmıştır.

Buna göre aşağıdakilerden hangisi Cemal'in bulduğu sonuç ola-
maz?


- A) 51
- B) 45
- C) 35
- D) 27

BlokTest

Öğrenci No

Cevaplarınızı Bu Bölüme İşaretleyiniz														
Soru	A	B	C	D	Soru	A	B	C	D	Soru	A	B	C	D
1	<input type="radio"/>	<input type="radio"/>	<input type="radio"/>	<input type="radio"/>	14	<input type="radio"/>	<input type="radio"/>	<input type="radio"/>	<input type="radio"/>	27	<input type="radio"/>	<input type="radio"/>	<input type="radio"/>	<input type="radio"/>
2	<input type="radio"/>	<input type="radio"/>	<input type="radio"/>	<input type="radio"/>	15	<input type="radio"/>	<input type="radio"/>	<input type="radio"/>	<input type="radio"/>	28	<input type="radio"/>	<input type="radio"/>	<input type="radio"/>	<input type="radio"/>
3	<input type="radio"/>	<input type="radio"/>	<input type="radio"/>	<input type="radio"/>	16	<input type="radio"/>	<input type="radio"/>	<input type="radio"/>	<input type="radio"/>	29	<input type="radio"/>	<input type="radio"/>	<input type="radio"/>	<input type="radio"/>
4	<input type="radio"/>	<input type="radio"/>	<input type="radio"/>	<input type="radio"/>	17	<input type="radio"/>	<input type="radio"/>	<input type="radio"/>	<input type="radio"/>	30	<input type="radio"/>	<input type="radio"/>	<input type="radio"/>	<input type="radio"/>
5	<input type="radio"/>	<input type="radio"/>	<input type="radio"/>	<input type="radio"/>	18	<input type="radio"/>	<input type="radio"/>	<input type="radio"/>	<input type="radio"/>	31	<input type="radio"/>	<input type="radio"/>	<input type="radio"/>	<input type="radio"/>
6	<input type="radio"/>	<input type="radio"/>	<input type="radio"/>	<input type="radio"/>	19	<input type="radio"/>	<input type="radio"/>	<input type="radio"/>	<input type="radio"/>	32	<input type="radio"/>	<input type="radio"/>	<input type="radio"/>	<input type="radio"/>
7	<input type="radio"/>	<input type="radio"/>	<input type="radio"/>	<input type="radio"/>	20	<input type="radio"/>	<input type="radio"/>	<input type="radio"/>	<input type="radio"/>	33	<input type="radio"/>	<input type="radio"/>	<input type="radio"/>	<input type="radio"/>
8	<input type="radio"/>	<input type="radio"/>	<input type="radio"/>	<input type="radio"/>	21	<input type="radio"/>	<input type="radio"/>	<input type="radio"/>	<input type="radio"/>	34	<input type="radio"/>	<input type="radio"/>	<input type="radio"/>	<input type="radio"/>
9	<input type="radio"/>	<input type="radio"/>	<input type="radio"/>	<input type="radio"/>	22	<input type="radio"/>	<input type="radio"/>	<input type="radio"/>	<input type="radio"/>	35	<input type="radio"/>	<input type="radio"/>	<input type="radio"/>	<input type="radio"/>
10	<input type="radio"/>	<input type="radio"/>	<input type="radio"/>	<input type="radio"/>	23	<input type="radio"/>	<input type="radio"/>	<input type="radio"/>	<input type="radio"/>	36	<input type="radio"/>	<input type="radio"/>	<input type="radio"/>	<input type="radio"/>
11	<input type="radio"/>	<input type="radio"/>	<input type="radio"/>	<input type="radio"/>	24	<input type="radio"/>	<input type="radio"/>	<input type="radio"/>	<input type="radio"/>	37	<input type="radio"/>	<input type="radio"/>	<input type="radio"/>	<input type="radio"/>
12	<input type="radio"/>	<input type="radio"/>	<input type="radio"/>	<input type="radio"/>	25	<input type="radio"/>	<input type="radio"/>	<input type="radio"/>	<input type="radio"/>	38	<input type="radio"/>	<input type="radio"/>	<input type="radio"/>	<input type="radio"/>
13	<input type="radio"/>	<input type="radio"/>	<input type="radio"/>	<input type="radio"/>	26	<input type="radio"/>	<input type="radio"/>	<input type="radio"/>	<input type="radio"/>	39	<input type="radio"/>	<input type="radio"/>	<input type="radio"/>	<input type="radio"/>

3.



Yukarıdaki resimde kaç tane arı vardır?

- A) 25 B) 26 C) 27 D) 30

4. Onlar basamağında 7, birler basamağında 5 olan sayının okunuşu aşağıdakilerden hangisidir?

- A) Yetmiş beş
B) Elli yedi
C) Beş yetmiş
D) Yetmiş yedi

5. 48'den başlayarak geriye doğru ikişer ritmik sayma yapıldığında söylenen 6. sayı kaçtır?

- A) 28 B) 34 C) 36 D) 38

6.

$$84 - 21$$

Verilen işlemin sonucu ile ilgili aşağıdakilerden hangisi doğrudur?

- A) Birler basamağında 6 rakamı vardır.
B) Onlar basamağındaki rakamın basamak değeri 3'dir.
C) En yakın olduğu onluk 60'tır.
D) Rakamlarının sayı değerleri toplamı 8'dir.

7. Aşağıda verilen sıralamalardan hangisi küçükten büyüğe doğru yapılmıştır?

- A) 78, 73, 70, 67
B) 90, 93, 97, 99
C) 18, 14, 10, 6
D) 82, 79, 71, 67

8. Aşağıdaki sayılardan hangisinin en yakın olduğu onluk, 42 sayısının en yakın olduğu onluk ile aynıdır?

- A) 38 B) 45 C) 47 D) 49


9. Aşağıda dört öğrencinin matematik sınavından aldıkları puanlar sınav kâğıtlarının üzerinde gösterilmiştir.



Öğretmen, bu sınavda en fazla puanı alan ilk iki öğrenciyi belirleyecektir.

Buna göre öğretmenin belirlediği öğrenciler aşağıdakilerin hangisinde verilmiştir?

- A) Ayça-Cem B) Ayça-Derya
C) Berke-Cem D) Berke-Derya
10. Yunus, yapraklarla iki ayrı kartona aşağıdaki gibi baskı çalışması yapmıştır.



Yunus, 1 ve 2. kartonlara yaptığı toplam baskı sayısını toplama işlemi yaparak hesaplamıştır.

Buna göre Yunus'un yaptığı işlem aşağıdakilerden hangisidir?

- A) $24 + 22 = 46$ B) $21 + 23 = 44$
C) $24 + 23 = 47$ D) $21 + 24 = 45$

11. Bir çıkarma işleminde çıkan sayı, eksilen sayıdan 24 eksiktir. **Eksilen sayı 73 olduğuna göre, çıkan sayı kaçtır?**

- A) 49 B) 52 C) 61 D) 97

12. İki basamaklı en büyük doğal sayı için aşağıdakilerden hangisi yanlıştır?

- A) Aynı rakamlardan oluşur.
 B) Onluk sayısı birlik sayısından fazladır.
 C) Rakamlarının sayı değerleri toplamı iki basamaklı bir sayıdır.
 D) Birler basamağındaki rakamının basamak değeri 9'dur.

13. 66 sayısının 25 fazlası olan sayının birler basamağında hangi rakam vardır?

- A) 9 B) 5 C) 3 D) 1

14. **Aşağıdaki işlemlerden hangisinin sonucu yanlıştır?**

- A) $23 + 52 = 75$
 B) $36 + 41 = 67$
 C) $64 + 25 = 89$
 D) $57 + 34 = 91$

15. $(14) (20) (26) (32) (\blacktriangle) (44) (\blacksquare) \dots$

Yukarıdaki sayı örüntüsünde \blacktriangle ve \blacksquare yerine sırasıyla hangi sayılar gelmelidir?

- A) 36 ve 50
 B) 38 ve 48
 C) 36 ve 48
 D) 38 ve 50

16. **Aşağıdaki sayılardan hangisinin en yakın olduğu onluk, diğerlerinden farklıdır?**

- A) 25 B) 28 C) 34 D) 36

17. Sedef, 2 Mart 2021'den başlayarak belirli günlerde spor yapmış ve bu günleri takviminde işaretlemiştir. Aşağıda Sedef'in spor yaptığı ilk günü işaretlediği takvimin Mart ayına ait kısmı verilmiştir.

Mart						
Pt	Sa	Ça	Pe	Cu	Ct	Pz
						1
2	3	4	5	6	7	8
9	10	11	12	13	14	15
16	17	18	19	20	21	22
23	24	25	26	27	28	29
30	31					

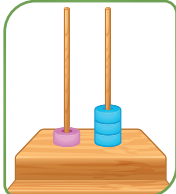
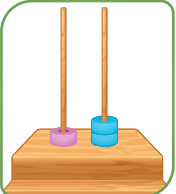
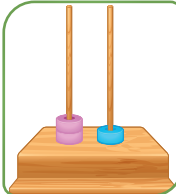
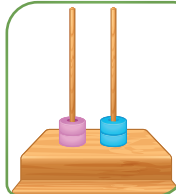
Sedef, spor yaptığı ilk günden başlayarak ileriye doğru üçer ritmik saydığında söylediği günlerde spora gitmiştir.

Sedef mart ayı boyunca takvimde kaç gün işaretlemiştir?

- A) 8 B) 9 C) 10 D) 11
18. Melis, doğum gününü kutlamak için bir parti düzenlemiştir. Bu parti için yaptığı pasta ve üzerinde bulunan mumlar aşağıda gösterilmiştir.



Buna göre Melis'in pastasının üzerinde bulunan mum sayısı aşağıdaki abaküslerin hangisi ile gösterilebilir?

- A)  B)  C)  D) 

MATEMATİK TESTİ BİTTİ.

2. SINIF

Tüm Dersler

Beceri Temelli
Yeni Nesil Sorularla

8 Adet 50 Soruluk Deneme Sınavı

TÜM DERSLER KILAVUZ DENEME SINAVLARI VE İÇERDİĞİ ÜNİTELER

Ders Adı	Deneme 1	Deneme 2	Deneme 3	Deneme 4	Deneme 5	Deneme 6	Deneme 7	Deneme 8
Türkçe	1-2-3-4-6-7-9	1-2-3-4-5-6-7-9	1-2-5-6-7-8-9-11-12	2-4-6-7-9-10-11-12	2-4-5-6-7-9-10-11-12	1-3-5-6-7-8-9-10-11-12	3-4-6-7-8-10-11-12	3-4-5-6-7-8-9-10-11-12
Hayat Bilgisi	1	1-2	1-2-3	1-2-3	1-2-3-4	1-2-3-4-5	1-2-3-4-5-6	1-2-3-4-5-6
İngilizce	1-2	1-2-3	1-2-3-4-5	1-2-3-4-5	1-4-6-7	3-5-7-8	3-5-6-7-8-9-10	2-3-5-8-9-10
Matematik	1	1-2	1-2	1-2-3	1-2-3-4	1-2-3-4	1-2-3-4-5	1-2-3-4-5-6

DERSLERDEKİ ÜNİTE VE KONU NUMARALARININ KAPSAMLARI

Türkçe	1. Harf ve Hece Bilgisi	7. Okuduğunu Anlama
	2. Alfabe ve Sözlük Kullanımı	8. Metin Türleri
	3. Sözcükte ve Söz Gruplarında Anlam	9. Oluş Sırası
	4. Zıt Anımlı Sözcükler	10. Görsel Okuma
	5. Eş Anımlı Sözcükler	11. Noktalama İşaretleri
	6. Cümle Bilgisi	12. Yazım Kuralları
Hayat Bilgisi	1. Okulumuzda Hayat	4. Güvenli Hayat
	2. Evimizde Hayat	5. Ülkemizde Hayat
	3. Sağlıklı Hayat	6. Doğada Hayat
İngilizce	1. Words	6. At the Playground
	2. Friends	7. Body Parts
	3. In the Classroom	8. Pets
	4. Numbers	9. Fruit
	5. Colors	10. Animals
Matematik	1. Doğal Sayılar-Doğal Sayılarla Toplama İşlemi-Doğal Sayılarla Çıkarma İşlemi	4. Doğal Sayılarla Çarpma İşlemi-Doğal Sayılarla Bölme İşlemi
	2. Doğal Sayılarla Toplama İşlemi-Doğal Sayılarla Çıkarma İşlemi-Sıvı Ölçme	5. Kesirler- Zaman Ölçme-Paralarımız
	3. Geometrik Cisimler ve Şekiller-Uzamsal İlişkiler-Geometrik Örüntüler	6. Veri Toplama ve Değerlendirme-Uzunluk Ölçme- Tartma

BlokTest® www.bloctest.com

ISBN: 978-625-7223-06-5



9 786257 223065