

6. SINIF

# Tüm Dersler



8 Adet 80 Soruluk Deneme Sınavı

*Beceri Temelli Yeni Nesil Sorularla*

**BlokTest®**

# 6. SINIF

# Tüm Dersler

Türkçe • Sosyal Bilgiler • Din Kültürü ve Ahlak Bilgisi • İngilizce  
Matematik • Fen Bilimleri



1

## SINAVDAKİ SORULARIN DERSLERE GÖRE KONU ANALİZİ

SÖZEL	TÜRKÇE	Sözcükte ve Sözcük Gruplarında Anlam, Cümlede Anlam, Okuduğunu Anlama ve Yorumlama, Biçim Bilgisi, Yazım Kuralları, Noktalama İşaretleri
	SOSYAL BİLGİLER	Birey ve Toplum - Kültür ve Miras
	DİN KÜLTÜRÜ VE AHLAK BİLGİSİ	Peygamber ve İlahi Kitap İnancı
SAYISAL	İNGİLİZCE	Simple Present Tense, Telling the Time, Days and Dates, Expressing Likes and Dislikes, Accepting and Refusing
	MATEMATİK	Doğal Sayılarla İşlemler, Çarpanlar ve Katlar
	FEN BİLİMLERİ	Güneş Sistemi ve Tutulmalar, Destek ve Hareket Sistemi, Sindirim Sistemi, Dolaşım Sistemi

### ÖĞRENCİNİN DİKKATİNE!

- Bu kitapçıkta TÜRKÇE testinde 20 soru, SOSYAL BİLGİLER testinde 10 soru, DİN KÜLTÜRÜ VE AHLAK BİLGİSİ testinde 5 soru, İNGİLİZCE testinde 5 soru, MATEMATİK testinde 20 soru, FEN BİLİMLERİ testinde 20 soru, olmak üzere toplam 80 soru vardır.
- Kitapçıkta soruların tümünü cevaplamak için önerilen süre 120 dakikadır.
- Cevaplarınızı, cevap kâğıdındaki ilgili alanlara yuvarlağın dışına taşırmadan kodlayınız.
- Her sorunun tek bir doğru cevabı vardır. Birden fazla cevap işaretlenmişse o soru yanlış cevaplanmış sayılır.
- Soruların çözümü için size ayrıca boş kâğıt verilmeyecektir. Soru kitapçığınızın içindeki boş alanları çözümlerinizi için kullanabilirsiniz.
- Puanlama: Her bir ders testine ait ham puan; ilgili teste ait doğru cevap sayısından yanlış cevap sayısının üçte biri çıkarılarak hesaplanacaktır.

Adı Soyadı : .....

Sınıf - Şube - No : .....

Okulu : .....

**BlokTest®**

1. Bu testte 20 soru vardır.
2. Cevaplarınızı, bu sayfanın altında Türkçe testi için ayrılan yere işaretleyiniz.

1. Çocuklar bazen sonuçlarını hiç hesaba katmadan kolayca yalan söyleyebilir. Hatta söylenen yalan, istemeden de olsa çocuğun bir başka çocuğa haksızlık etmesine neden olabilir. Hâl böyle olunca da amansız bir suçluluk duygusu gelir oturur çocuğun yüreğine. Yalanın sonucu olarak ortaya çıkan bu suçluluk duygusu, devasa bir kaya gibi ezer çocuğu. Ne gülüp oynamasına ne de huzurlu bir uyku uyumasına müsaade eder.

- ★ “Dikkate almamak” anlamına gelen bir deyim kullanılmıştır.
- Altı çizili cümledeki tüm sözcükler gerçek anlamda kullanılmıştır.
- “Ezmek” sözcüğü gerçek anlamıyla kullanılmıştır.
- ▲ “Yokken var olmak” anlamında bir deyim yer verilmiştir.
- ♥ “İzin vermek” anlamına gelen bir söz grubu kullanılmıştır.

Bu parçadaki sözcük ve sözcük grupları ile ilgili değerlendirmeler sembollerle gösterilmiştir.

**Buna göre bu değerlendirmelerden hangileri yanlıştır?**

- A) ★ ve ■                      B) ● ve ▲                      C) ● ve ■                      D) ▲ ve ♥
2. **Aşağıdaki cümlelerin hangisinde altı çizili sözcük gerçek anlamda kullanılmıştır?**

- A) O yılanın senin aklına girmesine izin vermemelisin.  
 B) Mahallenin tilki esnafı yeni taşınanları da kandıracaktı.  
 C) Canım oğlum, kuzum ne de çabuk büyüdün sen?  
 D) Maymunların kozmetik deneylerinde kullanılmasına karşıyım.


3. I. Haftaya kitabın basılacaktı.                      II. Doğrudan müdürle görüşmelisin.  
 III. Her şeyi tek tek öğretmene anlattım.                      IV. Köyün meydanında toplanılacak.  
**Numaralanmış cümlelerin hangisinde altı çizili sözcük iyelik eki almıştır?**

- A) I                      B) II                      C) III                      D) IV

4. Dağcı, doruk noktasına ulaşabilmek için hep önündeki ilk engeli aşmayı düşünür ve başını kaldırıp doruğa bakmaktan kaçınır. Doruğa bakmaz çünkü doruk noktasının uzaklığı onu ürkütecektir. Gözlerini aşağılara da çevirmez, uçurumun derinliği de onu korkutacaktır.

**Bu paragrafa göre aşağıdakilerden hangisi parçadaki düşünceyle çelişir?**

- A) İnsan, başarı için en büyük zorluğu tanımak zordur.  
 B) Gücümüzü yaşadığımız zorluklara göre kullanmalıyız.  
 C) Başarılı olmak için insanın kendini güvende hissetmesi gereklidir.  
 D) Her zorluk, o anki durumla değerlendirilmelidir.



BlokTest

Cevaplarınızı Bu Bölüme İşaretleyiniz

Soru	A	B	C	D	Soru	A	B	C	D
1	○	○	○	○	14	○	○	○	○
2	○	○	○	○	15	○	○	○	○
3	○	○	○	○	16	○	○	○	○
4	○	○	○	○	17	○	○	○	○
5	○	○	○	○	18	○	○	○	○
6	○	○	○	○	19	○	○	○	○
7	○	○	○	○	20	○	○	○	○
8	○	○	○	○	21	○	○	○	○
9	○	○	○	○	22	○	○	○	○
10	○	○	○	○	23	○	○	○	○
11	○	○	○	○	24	○	○	○	○
12	○	○	○	○	25	○	○	○	○
13	○	○	○	○	26	○	○	○	○


Öğrenci No

0	○	○	○	○
1	○	○	○	○
2	○	○	○	○
3	○	○	○	○
4	○	○	○	○
5	○	○	○	○
6	○	○	○	○
7	○	○	○	○
8	○	○	○	○
9	○	○	○	○

5.

I. Yakamozu, ay ışığının suya veya denize vurması olarak düşünenler yanılırlar.

II. Esasında yakamoz, ayın olduğu gecelerde görünmez ve bir ışık yansımından ziyade canlı bir organizmadır.



III. Milimetrik boyutlardaki bu canlılar bir araya gelir ve onlara dokunulduğunda karanlık çevrelerini bir anda aydınlık hâle getirir.

IV. Yakamoz olduğunda deniz yüzeyinde uzun floresan lambalar yanıyormuş gibi bir görüntü meydana gelir.

Numaralanmış cümlelerin hangisinde zıt anlamlı sözcükler bir arada kullanılmıştır?

- A) I                      B) II                      C) III                      D) IV

6.

- I. • Savaşa çağrı davullarını çalıyordu kabile.  
• Onun yardım davetini geri mi çevirdin?
- II. • Bu millet, özgürlük için varını yoğunu ortaya koydu.  
• Devlet, vatandaşını korumakla yükümlüdür.
- III. • Matem elbiselerinde siyah renk tercih edilir.  
• Ölüm için kırk gün yas tutulmuş.
- IV. • Tayyare fabrikası 1952'de kapatıldı.  
• Üzerimizden uçaklar geçiyordu.

Numaralanmış cümle çiftlerinin hangisinde eş anlamlı sözcükler kullanılmamıştır?

- A) I                      B) II                      C) III                      D) IV

7. İnsan, büyük işleri tek başına yapamaz. Başkasıyla iş birliği yapmalıdır.

Aşağıdaki cümlelerde kullanılan atasözlerinden hangisi bu anlamı karşılamaz?


- A) Ağaç yaprağıyla gürler.  
B) Bir elin nesi var, iki elin sesi var.  
C) Yalnız taş duvar olmaz.  
D) Bir dirhem et bin ayıp örter.

8. Aşağıdaki cümlelerin hangisinde virgül (,) diğerlerinden farklı bir görevde kullanılmıştır?

- A) Hızla kanatlı kapıdan içeri girdi, meraklı gözlerle onu süzenlere aldırmdan ilerledi.  
B) Ağaçları, çiçekleri kısacası doğayı çok sevdiği için geri dönüşümle ilgili bu projeyi yürütüyor.  
C) Yazdığı öykü, şiir ve denemeleri "Bütün Eserleri" serisi ile bir araya getirilecekti.  
D) Yanına çantasını, ceketini ve şemsiyesini almadan dışarı çıkamazdı çünkü hava kapalıydı.

9. Deyimler, genellikle gerçek anlamından az çok ayrı kullanılan, kendine özgü bir anlam taşıyan kalıplaşmış söz öbekleridir. Deyimlerin öğretiminde mecaz anlamdan kaynaklanan komik durumları vurgulayarak görsellerden yararlanmak, kolay ve kalıcı bir öğrenme sağlar. Bu nedenle günümüzde özellikle görsel zekâya hitap etmek ve öğrenmeyi kalıcı kılmak amacıyla deyimlerin öğretiminde karikatürlerden veya çeşitli görsellerden sıklıkla yararlanır.

Bir sınıfta kalıcı öğrenme için farklı yolları deneyen bir öğretmen, deyimler konusunu işlerken şu görselleri kullanmıştır:



Buna göre aşağıda anlamı verilen deyimlerden hangisinin görseli kullanılmamıştır?

- A) Birine, haberi olmadan kötü duruma düşürücü davranışta bulunmak  
 B) Çok yorulmak; güçsüz, dermansız kalmak  
 C) Ne yapsa, ne kadar çaba ve ustalık gösterse faydasız olmak  
 D) Çok zayıflamak
10. Yaşamak güzel şey doğrusu / Üstelik hava da güzelse;  
 Hele gücün kuvvetin yerindeyse, / Elin ekmek tutmuşsa bir de  
 Hele tertemizse gönlün, / Hele kar gibiyse alın.  
*Melih Cevdet ANDAY*  
 Bu şiirin ana duygusu aşağıdakilerden hangisidir?
- A) Gelecek kaygısı    B) Umut    C) Özlem    D) Yaşama sevinci
11. Meral okuldan çıktı ve evlerinin yanındaki ağaçlık yere doğru yürüdü. Meral'in düşüncesi şuydu: Bahçeden -varsa- çiçek toplayıp öğretmenine götürmek. Bahçeye geldi, baktı ki her taraf gelincik doluydu. Hemen eğildi ve gelinciği avucuyla kavradı, koparacaktı. Birden gelincik konuşmaya başladı: "Ne yapıyorsun sen? Beni niye koparacaksın?" dedi. Meral şaşırtmıştı, ne diyeceğini bilmiyordu.  
 Bu parçada yapılan söz sanatı aşağıdakilerden hangisidir?
- A) Benzetme    B) Konuşturma    C) Abartma    D) Kişileştirme
12. Söyledikleri, insanın iç dünyasının aynasıdır.  
 Aşağıdakilerin hangisi bu cümle ile yakın anlamlıdır?
- A) Kurduğumuz cümleler bizim ruhumuzu yansıtır.  
 B) Bazı konuşmaların nereye varacağını bilemeyiz.  
 C) Ne söylediğimiz değil nasıl söylediğimiz önemlidir.  
 D) Güzel konuşmak için sözlerimize dikkat etmeliyiz.

13.

“De” bulunma durumu eki olarak kullanıldığında eklendiği sözcüğe bitişik, bağlaç olarak kullanıldığında ayrı yazılır.

İkilemeler her zaman ayrı yazılır, aralarına herhangi bir noktalama işareti getirilemez.

Birleşme sırasında kelimelerinden hiçbiri veya ikinci kelimesi anlam değişikliğine uğramayan birleşik kelimeler ayrı yazılır.

**Aşağıdaki cümlelerin hangisi verilen yazım kurallarından herhangi birine örnek oluşturmaz?**

- A) Yıllardır yanımız da çalışıyordu.  
 B) Uğur böceğinin minicik ayakları vardı.  
 C) Koştukça yanakları kıp kırmızı oldu.  
 D) Buraya hava yoluyla aşağı-yukarı bir saatte gelir.

14. Üzerine esen ılık rüzgâr hoşuna gitmişti. Güneşin dimdik geldiği saatlerde yolculuk zor olduğundan bu saatte yola çıkmıştı. Her yer pusluydu. Ama o, bu hafif nemliliği seviyordu. Güneş nasılsa birazdan tamamen uyanacaktı.

**Bu paragraftaki ayrıntılara göre, kahramanın yola çıktığı zaman dilimi aşağıdakilerden hangisidir?**

- A) Gece yarısı                      B) Sabaha karşı                      C) Öğlen                      D) Akşam üzeri

15. Ezgi, bu projeyi bitirmek istiyordu. Bunun için gecesini gündüzüne katıp çalışıyordu. Her yeni proje, bir diğeri için fikir oluyordu. Ama biri bittiğinde kendini biraz nadasa çekiyordu ki sonrakini daha iyi araştırabilsin. Öğrenmek onun en büyük keyfiydi.

**Bu paragrafa göre Ezgi'yle ilgili aşağıdakilerden hangisi söylenemez?**

- A) Azimli ve işini titizlikle yapan biri olduğu  
 B) Yeni bir çalışmaya başlamadan önce biraz dinlendiği  
 C) Öğrenmeyi çok sevdiği ve öğrenmekten keyif aldığı  
 D) Bazen bir projeyi bitirmeden diğerine başladığı

16. Balık tutmaya giden Erman, o gün hiç balık tutamaz. Bu durumla ilgili şu cümleleri kurar:

- I. Hava çok rüzgârlı olduğu için balık yok.  
 II. Çok geç kaldığım için balık tutamadım.  
 III. Yem bittiği için hiç balık tutamadım.  
 IV. Balık tutmak için yine geleceğim.

**Buna göre Erman'ın kurduğu numaralanmış cümlelerin hangisinde neden-sonuç ilişkisi yoktur?**

- A) I                      B) II                      C) III                      D) IV

## 17, 18, 19 ve 20. soruları metne göre yanıtlayın.

“Folklor” Fransızca folk (halk) ve lore (bilgi) kelimelerinden oluşan ve Türkçeye Fransızcadan giren bir sözcüktür. Bir kültür dairesi, bir millet ya da bir bölge halkının gelenek, görenek, töre, sözlü edebiyat, inanç, mutfak, müzik, oyun ve diğer maddi ve manevi ürünlerini ve birikimlerini inceleyerek kaynak, evrilme, yayılım, değişim, etkileşimlerini inceleyen, sonuç, kuram ve kurallarını ortaya koyan bilim dalıdır. Folklor, ayırıcı değil birleştiricidir; insanlar ve toplumlar arasındaki sevgi bağını kurmaya ve **güçlendirmeye** çalışır. İnsanlar ve toplumlar birbirlerini ne denli iyi tanırlarsa aralarındaki anlaşmazlıklar o denli azalır, ortadan kalkar. Folklor çalışmaları bizi bu amaca yakınlaştırır. Kişi ve toplum olarak mayamızın hamurunu yoğurur; kötülüklerden, bencil duygulardan arındırır.

17. Bu metne göre aşağıdakilerden hangisi folklorun kişi ve toplum üzerindeki olumlu etkilerinden **değildir**?

- A) Sevgi bağını güçlendirir.
- B) Toplumlara barışa götürür.
- C) Millî değer ve bilinç oluşturur.
- D) Kötülükten ve bencil duygulardan uzaklaştırır.

18. Metindeki altı çizili “mayamızın hamurunu” sözünde, aşağıdaki eklerden hangisi vardır?

- A) Yapım eki
- B) Ayrılma hâl eki
- C) İyelik eki
- D) Yönelme hâl eki

19. Aşağıdakilerin hangisinde metindeki koyu yazılmış “güçlendirmeye” ile aynı ekleri almış bir sözcük kullanılmıştır?

- A) Bir sanat eserinin temel kaygısı, halkı bilinçlendirmek olmalıdır.
- B) Ülkemizi ağaçlandırmaya gereken önemi göstermek zorundayız.
- C) Okuduklarını anlamlandırmak için çaba sarf etti.
- D) Bu gelişmeyi ilgili birimlere bildirmeye gerek var mı, diye sordu.

20. Metinde numaralanmış sözcüklerden hangisi yapım eki **almamıştır**?

- A) I
- B) II
- C) III
- D) IV

TÜRKÇE TESTİ BİTTİ.



1. Bu testte 10 soru vardır.
2. Cevaplarınızı, bu sayfanın altında sosyal bilgiler testi için ayrılan yere işaretleyiniz.

1.

TANIM	Rol, bir grup ya da sosyal kurum içinde yer alan bireylerin sahip oldukları hak ve görevlerin neden olduğu davranış biçimleri olarak nitelendirilebilir.
DURUM	Toplumsal yaşamda mevcut olan her role ait birtakım davranış beklentileri vardır. Bu beklentiler hem toplum hem de o role sahip birey için aynıdır.

**Aşağıdakilerden hangisi bilgisi verilen sosyal rollerin özellikleri arasında yer almaz?**

- A) Bireyler farklı gruplar içinde farklı roller üstlenebilirler.
  - B) Roller, zamana ve mekâna göre değişiklik gösterebilir.
  - C) Bir kişinin sahip olduğu tüm rollerin gerektirdiği sorumluluklar aynıdır.
  - D) Bireysel özellikler rollerin belirlenmesinde etkilidir.
2. 2017 yılı "Dilimiz Kimliğimizdir" başlığıyla T.C. Cumhurbaşkanlığı tarafından Türk dili yılı olarak ilan edilmiştir. (Afişler "turkdiliyili.com" adresinden alınmıştır.)



**Aşağıdakilerden hangisinin bu çalışmanın hedeflerinden biri olduğu söylenemez?**

- A) Toplumsal kimliği korumak
- B) Türk kültürünü yeni nesillere aktarmak
- C) Türkçenin yanlış ve bozuk kullanılmasını önlemek
- D) Kültürün maddi unsurlarını geliştirmek

3. Bir kimse veya bir şeyle ilgili olarak belirli şart, olay ve görüntülere dayanarak önceden edinilmiş olumlu veya olumsuz yargı, peşin hükümlere ön yargı denir.

**Aşağıdakilerden hangisi ön yargılı tutumların geliştiği toplumlarda görülen durumlardan biri değildir?**

- A) İş birliği gerektiren etkinliklerde başarıya ulaşılması
- B) Toplumsal uyumun bozulması
- C) Bireysel farklılıkların göz ardı edilmesi
- D) Gruplar arasındaki temasın azalması

BlokTest

Öğrenci No

0	<input type="radio"/>	<input type="radio"/>	<input type="radio"/>	<input type="radio"/>
1	<input type="radio"/>	<input type="radio"/>	<input type="radio"/>	<input type="radio"/>
2	<input type="radio"/>	<input type="radio"/>	<input type="radio"/>	<input type="radio"/>
3	<input type="radio"/>	<input type="radio"/>	<input type="radio"/>	<input type="radio"/>
4	<input type="radio"/>	<input type="radio"/>	<input type="radio"/>	<input type="radio"/>
5	<input type="radio"/>	<input type="radio"/>	<input type="radio"/>	<input type="radio"/>
6	<input type="radio"/>	<input type="radio"/>	<input type="radio"/>	<input type="radio"/>
7	<input type="radio"/>	<input type="radio"/>	<input type="radio"/>	<input type="radio"/>
8	<input type="radio"/>	<input type="radio"/>	<input type="radio"/>	<input type="radio"/>
9	<input type="radio"/>	<input type="radio"/>	<input type="radio"/>	<input type="radio"/>

Cevaplarınızı Bu Bölüme İşaretleyiniz

Soru	A	B	C	D	Soru	A	B	C	D
1	<input type="radio"/>	<input type="radio"/>	<input type="radio"/>	<input type="radio"/>	14	<input type="radio"/>	<input type="radio"/>	<input type="radio"/>	<input type="radio"/>
2	<input type="radio"/>	<input type="radio"/>	<input type="radio"/>	<input type="radio"/>	15	<input type="radio"/>	<input type="radio"/>	<input type="radio"/>	<input type="radio"/>
3	<input type="radio"/>	<input type="radio"/>	<input type="radio"/>	<input type="radio"/>	16	<input type="radio"/>	<input type="radio"/>	<input type="radio"/>	<input type="radio"/>
4	<input type="radio"/>	<input type="radio"/>	<input type="radio"/>	<input type="radio"/>	17	<input type="radio"/>	<input type="radio"/>	<input type="radio"/>	<input type="radio"/>
5	<input type="radio"/>	<input type="radio"/>	<input type="radio"/>	<input type="radio"/>	18	<input type="radio"/>	<input type="radio"/>	<input type="radio"/>	<input type="radio"/>
6	<input type="radio"/>	<input type="radio"/>	<input type="radio"/>	<input type="radio"/>	19	<input type="radio"/>	<input type="radio"/>	<input type="radio"/>	<input type="radio"/>
7	<input type="radio"/>	<input type="radio"/>	<input type="radio"/>	<input type="radio"/>	20	<input type="radio"/>	<input type="radio"/>	<input type="radio"/>	<input type="radio"/>
8	<input type="radio"/>	<input type="radio"/>	<input type="radio"/>	<input type="radio"/>	21	<input type="radio"/>	<input type="radio"/>	<input type="radio"/>	<input type="radio"/>
9	<input type="radio"/>	<input type="radio"/>	<input type="radio"/>	<input type="radio"/>	22	<input type="radio"/>	<input type="radio"/>	<input type="radio"/>	<input type="radio"/>
10	<input type="radio"/>	<input type="radio"/>	<input type="radio"/>	<input type="radio"/>	23	<input type="radio"/>	<input type="radio"/>	<input type="radio"/>	<input type="radio"/>
11	<input type="radio"/>	<input type="radio"/>	<input type="radio"/>	<input type="radio"/>	24	<input type="radio"/>	<input type="radio"/>	<input type="radio"/>	<input type="radio"/>
12	<input type="radio"/>	<input type="radio"/>	<input type="radio"/>	<input type="radio"/>	25	<input type="radio"/>	<input type="radio"/>	<input type="radio"/>	<input type="radio"/>
13	<input type="radio"/>	<input type="radio"/>	<input type="radio"/>	<input type="radio"/>	26	<input type="radio"/>	<input type="radio"/>	<input type="radio"/>	<input type="radio"/>



4. Kültür, bir toplumun tarihsel gelişme sürecinde yarattığı maddi ve manevi değerlerin oluşturduğu unsurların tümünü ifade eder. Bu unsurların topluma ait bireyler arasında yarattığı bağlar millî kültürü oluşturur.

**Buna göre,**

- I. Büyüklerin elini öpmek
- II. Uluslararası yarışmalara katılmak
- III. Kilim dokumacılığıyla ilgilenmek

**İfadelerinden hangileri Türk millî kültürüyle ilgilidir?**

- A) I ve II                      B) I ve III                      C) II ve III                      D) I, II ve III

5. Orta Asya'da Türklerin yaşadığı bölgelerin yeryüzü şekilleri ve iklim yapısı Türkler üzerinde etkili olmuştur. İlk yurdun bozkırlarla kaplı olması tarım faaliyetlerinin yaygınlaşmasını engellemiştir. Bu nedenle Türkler hayvancılık ve ticaretle uğraşmışlar ve genelde göçebe hayat tarzını benimsemişlerdir.

**Verilen bilgilerden Orta Asya Türkleriyle ilgili çıkarılabilecek yargı aşağıdakilerden hangisidir?**

- A) Coğrafi şartlar, insanların ekonomik ve sosyal faaliyetlerini etkileyen unsurlardan biri olmuştur.
- B) Tarih boyunca siyasal nedenlerle yer değiştirmişlerdir.
- C) Egemenlik kurdukları bölgelerde varlıklarını güçlü ve disiplinli ordulara borçludurlar.
- D) Devletler arası ilişkilerde siyasi ve ekonomik çıkarlar ön planda tutulmuştur.

6.

1. Kuran kitap hâline getirildi.	2. İlk İslam Devleti'nin temelleri atıldı.	3. Kuzey Afrika'da Tunus'a kadar sınırlar genişledi.
4. İlk düzenli ordu kuruldu.	5. Bedir Savaşı'nda Müslümanlar galip geldi.	6. Hudeybiye Antlaşması imzalandı.

**Kutucuklardaki gelişmelerin yaşandığı dönemlerle doğru eşleştirmesi aşağıdakilerden hangisinde verilmiştir?**

	<u>Hız. Muhammed Dönemi</u>	<u>Dört Halife Dönemi</u>
A)	1, 2, 3	4, 5, 6
B)	1, 3, 4	2, 5, 6
C)	2, 3, 4	1, 5, 6
D)	2, 5, 6	1, 3, 4

7. Toplumsal yaşamda roller kendi aralarında birbirine bağlı ve uyumludur. Örneğin, öğretmen-öğrenci ilişkisinde öğrencilerin öğretmenlerden kendilerini eğitmeleri, sevgiyle yaklaşmaları, ders sürecinin eğlenceli geçmesini istediklerini görürüz. Öğretmenler ise öğrencilerin anlatılanları kavramalarını, yıl sonunda üstün başarı sağlamalarını beklemektedir.

**Buna göre aşağıdaki öğretmen ve öğrenci davranışlarından hangisi verilen durumdaki beklentileri karşılayacak nitelikte değildir?**

- A) Öğretmenin öğrencilerinin düşüncelerini dinleyerek saygı göstermesi
- B) Öğrencilerin okul ve sınıf kurallarına uygun hareket etmesi
- C) Öğretmenin öğrencilerinin sosyal aktivitelerini ikinci plana atması
- D) Öğrencilerin derslerine zamanında girmesi

8. • 1868 yılında kurulan Kızılay; afet, savaş gibi olağanüstü durumlarda yiyecek, içecek ve sağlık yardımı yapar.  
 • 1967 yılında kurulan Türk Eğitim Vakfı, devlet eğitimine katkıda bulunarak maddi durumu yetersiz öğrencilere burs verir.  
 • 1982 yılında kurulan Türk Silahlı Kuvvetleri Mehmetçik Vakfı, ülkemizin ve milletimizin güvenliği için canlarını hiçe sayarak görev yapan erbaş ve erlerden şehit olan veya herhangi bir nedenle hayatını kaybedenlerin bakmakla yükümlü oldukları yakınları ile gazi ve engelli Mehmetçiklere sosyal ve ekonomik destek sağlar.

**Aşağıdakilerden hangisi verilen kuruluşların ortak özelliklerinden biri olamaz?**

- A) Toplumsal iş birliği sonucunda ortaya çıkmışlardır.  
 B) Birlikte yaşamının meydana getirdiği ihtiyaçların doğal sonucu olan yardımlaşma ihtiyacını karşılamaktadırlar.  
 C) Toplumda birlik ve beraberliği artırarak dayanışma duygusunun oluşmasını sağlamışlardır.  
 D) Temel ihtiyaçların karşılanması amacıyla devlet tarafından kurulmuşlardır.
9. Aşağıdaki tabloda Orta Asya Türklerinin Çinlilere sattıkları ve onlardan aldıkları ürünler gösterilmiştir:

SATTIKLARI		ALDIKLARI	
			
<i>Hayvan derisi</i>	<i>Hayvansal gıda</i>	<i>Buğday</i>	<i>Pirinç</i>
			
<i>Canlı hayvan</i>	<i>Kösele ve çizme</i>	<i>Arpa</i>	<i>İpekli kumaşlar</i>

**Verilen tablodan Türkler ve Çinlilerle ilgili,**

- I. Uğraştıkları ekonomik faaliyet  
 II. Ticaret ürünleri  
 III. Siyasi ilişkileri

**bilgilerinden hangilerine ulaşılabilir?**

- A) Yalnız I                      B) I ve II                      C) I ve III                      D) I, II ve III
10. • Müslümanlar, Yahudiler ve putperestler barış içinde yaşayacaklardı.  
 • Medine'deki her topluluk kendi dinini yaşayabilecekti.  
 • Dışarıdan gelen saldırılara karşı Medine birlikte savunulacaktı.

**Medine Sözleşmesi'nin verilen maddelerine göre aşağıdakilerden hangisine ulaşılabilir?**

- A) Toplum barışı önemsenmiştir.  
 B) Herkesin kendi dinini yaymasına izin verilmiştir.  
 C) Can ve mal güvenliği sağlanmıştır.  
 D) Anlaşmazlık çözümlenmeye çalışılmıştır.

**SOSYAL BİLGİLER TESTİ BİTTİ.**

1. Bu testte 5 soru vardır.
2. Cevaplarınızı, bu sayfanın altında din kültürü ve ahlak bilgisi testi için ayrılan yere işaretleyiniz.

1. Yüce Allah göndermiş olduğu peygamberlerden bazılarının isimlerini Kur'an-ı Kerim'de bildirmiştir. Kur'an-ı Kerim incelendiğinde Allah'ın elçi olarak seçtiği ilk peygamberin Hz. Adem, son peygamberin ise Hz. Muhammed olduğu anlaşılır.

**Verilen metinde,**

- I. Nübüvvet
- II. Risalet
- III. Sıdk

**sözcüklerinden hangilerinin anlamını karşılayan ifadeler yer alır?**

- A) I ve II                      B) I ve III  
C) II ve III                    D) I, II ve III

2. Hz. Muhammed peygamber olmadan önce Mekkeli müşrikler ona "Muhammedü'l-Emin" ismini vermişlerdir.

**Bu durum peygamberlerin aşağıdaki özelliklerinden hangisiyle açıklanabilir?**

- A) Fetanet                      B) Emanet  
C) Tebliğ                        D) İsmet

3. Kur'an-ı Kerim'de Ahkâf suresinin 31. ayetinde Hz. Muhammed "Ey halkımız! Allah'ın davetçisine uyun ve ona iman edin ki, Allah günahlarınızı bağışlasın ve sizi acılı azaptan korusun." şeklinde nitelendirilmiştir.

**Verilen metin Kur'an-ı Kerim'le ilgili aşağıdakilerden hangisine kanıt oluşturur?**

- A) Değiştirilmeyen tek kutsal kitap olduğuna  
B) Arapça olarak gönderildiğine  
C) Peygamberlikle ilgili ispatlar içerdiğine  
D) Evrensel nitelik taşıdığına

4. Yüce Allah'ın kullarına olan merhametinin bir göstergesi de vahiyler göndermesidir.


**Buna göre Yüce Allah vahiy yoluyla aşağıdakilerden hangisini sağlamıştır?**

- A) İnsanları kendisine kulluk etmek için yarattığını bildirmeyi  
B) Evrende ölçülü bir düzen oluşturmayı  
C) Hz. Muhammed'in örnek davranışlarını göstermeyi  
D) Rahmet kavramını açıklamayı

5. • Tevrat  
• İncil  
• Zebur

**Aşağıdakilerden hangisi verilen ilahi kitaplardan birinin gönderildiği peygamberlerden değildir?**

- A) Hz. İsa                      B) Hz. Davud  
C) Hz. Musa                    D) Hz. İbrahim



BlokTest

Cevaplarınızı Bu Bölüme İşaretleyiniz

Soru	A	B	C	D	Soru	A	B	C	D
1	○	○	○	○	14	○	○	○	○
2	○	○	○	○	15	○	○	○	○
3	○	○	○	○	16	○	○	○	○
4	○	○	○	○	17	○	○	○	○
5	○	○	○	○	18	○	○	○	○
6	○	○	○	○	19	○	○	○	○
7	○	○	○	○	20	○	○	○	○
8	○	○	○	○	21	○	○	○	○
9	○	○	○	○	22	○	○	○	○
10	○	○	○	○	23	○	○	○	○
11	○	○	○	○	24	○	○	○	○
12	○	○	○	○	25	○	○	○	○
13	○	○	○	○	26	○	○	○	○

Öğrenci No

0	○	○	○	○
1	○	○	○	○
2	○	○	○	○
3	○	○	○	○
4	○	○	○	○
5	○	○	○	○
6	○	○	○	○
7	○	○	○	○
8	○	○	○	○
9	○	○	○	○

DİN KÜLTÜRÜ VE AHLAK BİLGİSİ TESTİ BİTTİ.

1. Bu testte 5 soru vardır.
2. Cevaplarınızı, bu sayfanın altında İngilizce testi için ayrılan yere işaretleyiniz.

1.

You see some information about students' daily routines.

	Linda	Jake	Jill
<b>School time</b>	8 a.m. - 1 p.m.	8.30 a.m. - 2 p.m.	9 a.m. - 2 p.m.
<b>Routines before dinner</b>	read comics, take a nap	do homework, read books	watch TV, help her mum
<b>Bed time</b>	9.30 p.m.	9 p.m.	10 p.m.

Which of the following is **not** true according to the information above?


(Verilen bilgilere göre aşağıdakilerden hangisi doğru değildir?)

- A) Linda starts school before Jake and Jill.
- B) Jake does homework before dinner.
- C) Jill goes to bed at ten o'clock.
- D) Jake goes to bed after Linda and Jill.

2. Which one below is different from the others?

(Aşağıdakilerden hangisi diğerlerinden farklıdır?)

- A)  I enjoy eating butter with some bread for breakfast.
- B)  My sister enjoys eating every kind of cheese for breakfast.
- C)  Honey and a slice of bread is my favourite food for breakfast.
- D)  Olives, especially green olives, are really delicious.



BlokTest

Cevaplarınızı Bu Bölüme İşaretleyiniz

Soru	A	B	C	D	Soru	A	B	C	D
1	<input type="radio"/>	<input type="radio"/>	<input type="radio"/>	<input type="radio"/>	14	<input type="radio"/>	<input type="radio"/>	<input type="radio"/>	<input type="radio"/>
2	<input type="radio"/>	<input type="radio"/>	<input type="radio"/>	<input type="radio"/>	15	<input type="radio"/>	<input type="radio"/>	<input type="radio"/>	<input type="radio"/>
3	<input type="radio"/>	<input type="radio"/>	<input type="radio"/>	<input type="radio"/>	16	<input type="radio"/>	<input type="radio"/>	<input type="radio"/>	<input type="radio"/>
4	<input type="radio"/>	<input type="radio"/>	<input type="radio"/>	<input type="radio"/>	17	<input type="radio"/>	<input type="radio"/>	<input type="radio"/>	<input type="radio"/>
5	<input type="radio"/>	<input type="radio"/>	<input type="radio"/>	<input type="radio"/>	18	<input type="radio"/>	<input type="radio"/>	<input type="radio"/>	<input type="radio"/>
6	<input type="radio"/>	<input type="radio"/>	<input type="radio"/>	<input type="radio"/>	19	<input type="radio"/>	<input type="radio"/>	<input type="radio"/>	<input type="radio"/>
7	<input type="radio"/>	<input type="radio"/>	<input type="radio"/>	<input type="radio"/>	20	<input type="radio"/>	<input type="radio"/>	<input type="radio"/>	<input type="radio"/>
8	<input type="radio"/>	<input type="radio"/>	<input type="radio"/>	<input type="radio"/>	21	<input type="radio"/>	<input type="radio"/>	<input type="radio"/>	<input type="radio"/>
9	<input type="radio"/>	<input type="radio"/>	<input type="radio"/>	<input type="radio"/>	22	<input type="radio"/>	<input type="radio"/>	<input type="radio"/>	<input type="radio"/>
10	<input type="radio"/>	<input type="radio"/>	<input type="radio"/>	<input type="radio"/>	23	<input type="radio"/>	<input type="radio"/>	<input type="radio"/>	<input type="radio"/>
11	<input type="radio"/>	<input type="radio"/>	<input type="radio"/>	<input type="radio"/>	24	<input type="radio"/>	<input type="radio"/>	<input type="radio"/>	<input type="radio"/>
12	<input type="radio"/>	<input type="radio"/>	<input type="radio"/>	<input type="radio"/>	25	<input type="radio"/>	<input type="radio"/>	<input type="radio"/>	<input type="radio"/>
13	<input type="radio"/>	<input type="radio"/>	<input type="radio"/>	<input type="radio"/>	26	<input type="radio"/>	<input type="radio"/>	<input type="radio"/>	<input type="radio"/>

Öğrenci No

0	<input type="radio"/>	<input type="radio"/>	<input type="radio"/>	<input type="radio"/>
1	<input type="radio"/>	<input type="radio"/>	<input type="radio"/>	<input type="radio"/>
2	<input type="radio"/>	<input type="radio"/>	<input type="radio"/>	<input type="radio"/>
3	<input type="radio"/>	<input type="radio"/>	<input type="radio"/>	<input type="radio"/>
4	<input type="radio"/>	<input type="radio"/>	<input type="radio"/>	<input type="radio"/>
5	<input type="radio"/>	<input type="radio"/>	<input type="radio"/>	<input type="radio"/>
6	<input type="radio"/>	<input type="radio"/>	<input type="radio"/>	<input type="radio"/>
7	<input type="radio"/>	<input type="radio"/>	<input type="radio"/>	<input type="radio"/>
8	<input type="radio"/>	<input type="radio"/>	<input type="radio"/>	<input type="radio"/>
9	<input type="radio"/>	<input type="radio"/>	<input type="radio"/>	<input type="radio"/>

(Answer questions 3 - 5 according to the invitation card below.)  
(3 - 5. soruları aşağıdaki davetiyeye göre cevaplayın.)



3. Complete the sentence.

(Cümleyi tamamlayın.)

The invitation card is for a / an \_\_\_\_\_.

- A) weekend party  
B) end of term party  
C) graduation party  
D) after class party

4. Complete the sentence.

(Cümleyi tamamlayın.)

The event will be \_\_\_\_\_.

- A) at the weekend  
B) at 7 o'clock  
C) on May twelve  
D) on Friday afternoon

5. Complete the sentence.

(Cümleyi tamamlayın.)


If students want to ask for more information, they should \_\_\_\_\_.

- A) contact Mary Johnson  
B) join the party  
C) leave class early  
D) speak to their teacher

İNGİLİZCE TESTİ BİTTİ.

1. Bu testte 20 soru vardır.
2. Cevaplarınızı, bu sayfanın altında matematik testi için ayrılan yere işaretleyiniz.



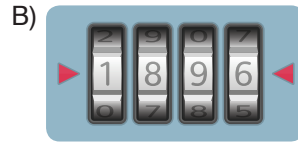

1. Bir kasada bulunan kilit 4 haneli bir şifre ile açılmaktadır. Bu şifre ile ilgili işlemler aşağıda gösterilen bölümde yapılmaktadır.



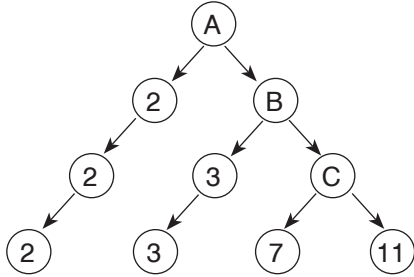
Bu kilidin şifresini belirlemek için kırmızı renkli üçgenlerin hizasındaki hanelere istenilen rakamlar çevrilerek getirilmektedir. Kilit üzerinde bulunan kontrol tuşuna basıldığında kilidin yazılımı bu rakamların soldan sağa doğru ilk ikisini ve son ikisini iki basamaklı birer doğal sayı olarak kabul etmekte ve eğer bu sayıların ortak bölenlerinden biri, üçgenlerin hizasındaki dört hanede bulunan sayıların toplamına eşitse şifreyi aktif duruma getirmektedir.

Kasası için bir şifre oluşturmak isteyen Begüm kırmızı renkli üçgenlerin hizasındaki hanelere istediği rakamları çevirerek getirmiş ve kilit üzerindeki kontrol tuşuna basmıştır.

**Kilit, Begüm'ün oluşturduğu şifreyi aktif duruma getirdiğine göre Begüm bu bölümün görünümü aşağıdakilerden hangisi gibi olduğunda kontrol tuşuna basmış olabilir?**



2. Aşağıda A sayısına ilişkin çarpan ağacı verilmiştir.



**Bu çarpan ağacına göre aşağıdaki ifadelerden hangisi doğrudur?**

- A)  $A = B \cdot C$
- B) B sayısının asal çarpanlarının sayısı 2'dir.
- C) C sayısının 2 tane doğal sayı böleni vardır.
- D) A sayısı 6'ya kalansız bölünür.

**BlokTest**

Cevaplarınızı Bu Bölüme İşaretleyiniz

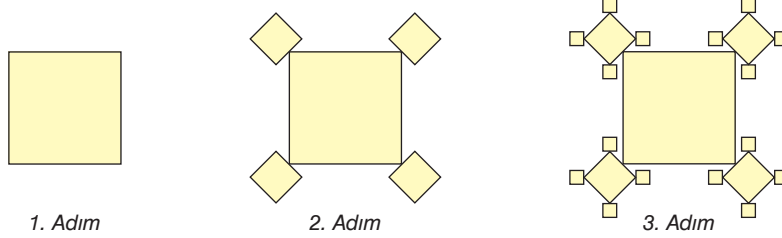
Soru	A	B	C	D	Soru	A	B	C	D
1					14				
2					15				
3					16				
4					17				
5					18				
6					19				
7					20				
8					21				
9					22				
10					23				
11					24				
12					25				
13					26				

Öğrenci No

0 1 2 3 4 5 6 7 8 9

3. Demir bilgisayarındaki çizim programını kullanarak tasarladığı bir desen için ilk olarak bir kare çizmiştir. 2. adımda 1. adımda çizdiği karenin tüm köşelerine birer tane kare çizmiş, 3. adımda ise en son çizdiği karelerin köşelerinin tümüne birer kare çizmiştir. Demir bu şekilde devam ederek 5. adımda desenini tamamlamıştır.

Demir'in ilk üç adımda elde ettiği şekiller aşağıda gösterilmiştir.



Buna göre Demir'in 5. adımda elde ettiği şekilde bulunan toplam kare sayısı aşağıdakilerden hangisine eşittir?

- A)  $1 + 4^2 + 4^3 + 4^4 + 4^5$       B)  $1 + 4^1 + 4^2 + 4^3 + 4^4$   
 C)  $4^1 + 4^2 + 4^3 + 4^4$       D)  $1 + 2^1 + 2^2 + 2^3 + 2^4$

4. Aşağıda 11'den 50'ye kadar olan doğal sayıların yazılı olduğu bir kart verilmiştir.

11	12	13	14	15	16	17	18	19	20
21	22	23	24	25	26	27	28	29	30
31	32	33	34	35	36	37	38	39	40
41	42	43	44	45	46	47	48	49	50

Deniz, önce bu kartta 3'ün katlarının yazılı olduğu kutucukları sarıya, ardından 5'in katlarının yazılı olduğu kutucukları kırmızıya ve son olarak 12'nin katlarının yazılı olduğu kutucukları da maviye boyuyor.

Sarı boyalı kutucuklar kırmızıya boyandığında turuncu, maviye boyandığında ise yeşil renk alıyor.

Buna göre son durumda turuncu ve yeşil renkli kutucuk sayıları aşağıdakilerin hangisinde doğru olarak verilmiştir?

	Turuncu	Yeşil
A)	4	3
B)	3	4
C)	3	3
D)	4	2



5.

**Tablo: I ve II. Lambaların Renklere Göre Yanma Süreleri**

Renk	I. Lamba	II. Lamba
Kırmızı	20 sn.	15 sn.
Sarı	5 sn.	5 sn.
Yeşil	30 sn.	20 sn.

Yukarıdaki tabloda iki trafik lambasındaki kırmızı, sarı ve yeşil renkli ışıkların saniye cinsinden yanma süreleri verilmiştir. Trafik lambaları sırasıyla; kırmızı, sarı, yeşil, sarı biçiminde yanmakta ardından tekrar kırmızıya dönüp aynı sırayı takip etmektedir.

**Buna göre iki trafik lambası aynı anda kırmızı yanmaya başladıktan kaç saniye sonra ikinci kez aynı anda kırmızı yanmaya başlar?**

- A) 90                      B) 180                      C) 270                      D) 360

6.  $a$ ,  $b$  ve  $n$  birer doğal sayı olmak üzere  $a^n$  üslü ifadesi,  $n$  tane  $a$  sayısının yan yana tekrarlı çarpımıdır.

$$a^n = \underbrace{a \cdot a \cdot a \cdot \dots \cdot a}_{n \text{ tane } a}$$

$a^n = b$  üslü ifadesinde  $a$ 'ya taban,  $n$ 'ye kuvvet veya üs,  $b$ 'ye bu üslü ifadenin değeri denir.

Semih'in oynadığı bir oyunda, üzerinde birer doğal sayı yazılı olan aşağıdaki 5 toptan, mavi renkli olan ile atış yapılarak diğer 4 toptan yalnız birinin vurulması gerekmektedir.



Oyuncunun puanı, mavi renkli topun üzerindeki sayı taban, bu topun vurduğu topun üzerindeki sayı kuvvet olacak şekilde yazılan üslü ifadenin değeri ile diğer üç sarı renkli topun üzerinde yazan sayılar çarpılarak hesaplanmaktadır.

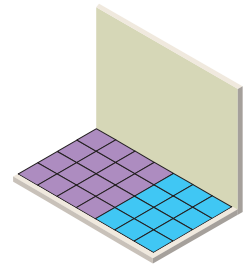
**Semih bir tane sarı renkli top vurduğunda puanı aşağıdakilerden hangisi olamaz?**

- A) 1944                      B) 810                      C) 200                      D) 180

7. 8 katlı bir apartmanın her katında 2 daire ve her dairede 1 banyo bulunmaktadır. Banyoların her birinin tabanı görseldeki gibi mor ve mavi renkli fayanslarla kaplanacaktır.

**Buna göre apartmandaki banyoların tabanlarına dönecek olan toplam fayans sayısı aşağıdaki işlemlerden hangisi ile hesaplanabilir?**

- A)  $8 \cdot 4 \cdot (4 + 3)$                       B)  $8 \cdot 2 \cdot 4 \cdot (4 + 3)$   
C)  $2 \cdot 4 \cdot (4 + 3)$                       D)  $8 \cdot 2 \cdot 7 \cdot (4 + 4)$



8. Şekildeki 3 x 3'lük kareye bazı üslü ifadeler yazılmıştır. Bu kare aynı satır, sütun ve köşegen üzerinde bulunan üslü ifadelerin değerleri toplamı birbirine eşit olacak şekilde doldurulacaktır.

	■	$2^2$
	$10^1$	
$2^4$	$2^3$	▲

Buna göre  $\blacktriangle \cdot \blacktriangle - \blacksquare$  işleminin sonucu kaç olur?

- A) 20                                      B) 24                                      C) 28                                      D) 32
9. Bir sayıyı oluşturan tüm rakamların sayı değerlerini birer kez kullanarak ve sadece toplama, çıkarma, çarpma, bölme ve üs alma işlemlerini yaparak sayının kendisi elde edilebiliyorsa böyle sayılara Friedman sayısı denir.

ÖRNEK:

25 sayısı  $5^2$  ifadesinin değerine eşit olduğundan bu sayı bir Friedman sayısıdır.

Buna göre aşağıdakilerden hangisi bir Friedman sayısı değildir?

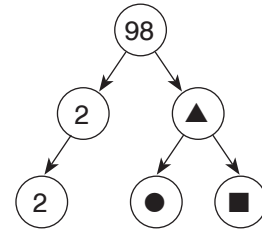
- A) 111                                      B) 121                                      C) 126                                      D) 343
10. Melis'in üç basamaklı bir doğal sayı olan okul numarası ile ilgili aşağıdaki bilgiler veriliyor.

- Yüzler basamağındaki rakam en küçük tek asal sayıdır.
- 10'a bölündüğünde 8 kalanını verir.
- 9'a kalansız bölünür.

Buna göre Melis'in okul numarası aşağıdakilerden hangisidir?

- A) 198                                      B) 342  
C) 378                                      D) 388

11.



Yukarıda 98 sayısına ilişkin çarpan ağacı verilmiştir.

Buna göre  $\blacktriangle + \bullet + \blacksquare$  işleminin sonucu kaçtır?

- A) 63                                      B) 67                                      C) 90                                      D) 98

# 6. SINIF Tüm Dersler

8 Adet 80 Soruluk Deneme Sınavı

Beceri Temelli Yeni Nesil Sorularla



## TÜM DERSLER KILAVUZ DENEME SINAVLARI VE İÇERDİĞİ ÜNİTELER

Ders Adı	Deneme 1	Deneme 2	Deneme 3	Deneme 4	Deneme 5	Deneme 6	Deneme 7	Deneme 8
Türkçe	1-2-3 4-8-9	1-2-3 4-5-8	1-2-3-4 5-7-8-10	1-2-3-4 5-6-7-8	1-2-3-5-6 7-8-9-10	1-2-3-4 5-6-7-8	1-2-3-5 7-9-10	1-2-3-4-5 6-7-8-10
Sosyal Bilgiler	1-2	1-2	1-2-3	1-2-3-4	1-2-3-4-5	1-2-3 4-5-6	1-2-3 4-5-6-7	1-2-3 4-5-6-7
Din Kültürü ve Ahlak Bilgisi	1	1-2	1-2	1-2-3	1-2-3	1-2-3-4	1-2-3-4-5	1-2-3-4-5
İngilizce	1-2	1-2-3	2-3-4	1-4-5	4-6-7	6-7-8	3-4-9	8-9-10
Matematik	1	1-2	1-2	1-2-3	1-2-3-4	1-2-3-4-5	1-2-3 4-5-6	1-2-3 4-5-6
Fen Bilimleri	1-2	1-2	1-2-3-4	1-2-3-4	1-2-3-4-5	1-2-3-4 5-6	1-2-3 4-5-6-7	1-2-3 4-5-6-7

## DERSLERDEKİ ÜNİTE VE KONU NUMARALARININ KAPSAMLARI

Türkçe	1. Sözcükte ve Sözcük Gruplarında Anlam	6. Zamirler
	2. Cümlede Anlam	7. Edat - Bağlaç - Ünlem
	3. Okuduğunu Anlama ve Yorumlama	8. Yazım Kuralları
	4. Biçim Bilgisi	9. Noktalama İşaretleri
	5. İsimler - Sıfatlar - İsim ve Sıfat Tamlamaları	10. Metin Türleri
Sosyal Bilgiler	1. Birey ve Toplum	5. Üretim, Dağıtım ve Tüketim
	2. Kültür ve Miras	6. Etkin Vatandaşlık
	3. İnsanlar, Yerler ve Çevreler	7. Küresel Bağlantılar
	4. Bilim, Teknoloji ve Toplum	
Din Kültürü ve Ahlak Bilgisi	1. Peygamber ve İlahi Kitap İnanç	4. Hz. Muhammed'in Hayatı
	2. Namaz	5. Temel Değerlerimiz
	3. Zararlı Alışkanlıklar	
İngilizce	1. Life	6. Occupations
	2. Yummy Breakfast	7. Holidays
	3. Downtown	8. Bookworms
	4. Weather and Emotions	9. Saving the Planet
	5. At the Fair	10. Democracy
Matematik	1. Doğal Sayılarla İşlemler - Çarpınlar ve Katlar - Kümeler	4. Cebirsel İfadeler - Veri - Toplama ve Değerlendirme - Veri Analizi
	2. Tam Sayılar - Kesirlerle İşlemler	5. Açılar - Alan Ölçme
	3. Ondalık Gösterim - Oran	6. Çember - Geometrik Cisimler - Sıvı Ölçme
Fen Bilimleri	1. Güneş Sistemi ve Tutulmalar	5. Ses ve Özellikleri
	2. Vücudumuzdaki Sistemler	6. Vücudumuzdaki Sistemler ve Sağlığı
	3. Kuvvet ve Hareket	7. Elektrik'in İletimi
	4. Madde ve Isı	