

2. SINIF

KOD 32

HAFTALIK DEĞERLENDİRME

TÜM DERSLER

Türkçe • Matematik • Hayat Bilgisi

32
HAFTA
+

4 HAFTALIK TEKRAR

Maarif
Modeli'ne
Uygun

KOLAY - ORTA
DÜZEY SORULAR

36
FÖY




Tamamı
Video
Çözümlü



Akıllı
Tahta
Uyumlu



mobil
analiz



tudem

TÜM DERSLER KOD 32
HAFTALIK DEĞERLENDİRME



Ad Soyad :

Sınıf : Numara :

1

HAFTALIK DEĞERLENDİRME

KONULAR

Türkçe

- Harf Bilgisi

Matematik



- Geometrik Cisimler

Hayat Bilgisi

- Arkadaşlık İlişkilerini Etkileyen Duygu, Düşünce ve Davranışlar

| TÜRKÇE | MATEMATİK | HAYAT BİLGİSİ |
|----------------|----------------|----------------|
| 1 (A) (B) (C) | 1 (A) (B) (C) | 1 (A) (B) (C) |
| 2 (A) (B) (C) | 2 (A) (B) (C) | 2 (A) (B) (C) |
| 3 (A) (B) (C) | 3 (A) (B) (C) | 3 (A) (B) (C) |
| 4 (A) (B) (C) | 4 (A) (B) (C) | 4 (A) (B) (C) |
| 5 (A) (B) (C) | 5 (A) (B) (C) | 5 (A) (B) (C) |
| 6 (A) (B) (C) | 6 (A) (B) (C) | 6 (A) (B) (C) |
| 7 (A) (B) (C) | 7 (A) (B) (C) | 7 (A) (B) (C) |
| 8 (A) (B) (C) | 8 (A) (B) (C) | 8 (A) (B) (C) |
| 9 (A) (B) (C) | 9 (A) (B) (C) | 9 (A) (B) (C) |
| 10 (A) (B) (C) | 10 (A) (B) (C) | 10 (A) (B) (C) |
| 11 (A) (B) (C) | 11 (A) (B) (C) | 11 (A) (B) (C) |
| 12 (A) (B) (C) | 12 (A) (B) (C) | 12 (A) (B) (C) |
| 13 (A) (B) (C) | 13 (A) (B) (C) | 13 (A) (B) (C) |
| 14 (A) (B) (C) | 14 (A) (B) (C) | 14 (A) (B) (C) |
| 15 (A) (B) (C) | 15 (A) (B) (C) | 15 (A) (B) (C) |

1. Aşağıdakilerden hangisinin adındaki ünlü harflerin sayısı, ünsüz harflerin sayısından fazladır?



2.

1 raket

2 komşu

3 kitaplık

Numaralanmış sözcüklerden hangilerinin ünlü sayısı eşittir?

A) 1 ve 2

B) 1 ve 3

C) 2 ve 3

3.






Görselle anlatılan sözcük için aşağıdakilerden hangisi doğrudur?

A) Ünlü bir harfle başlamaktadır.

B) İlk iki harfi ünsüzdür.

C) Üç tane ünlü harfi vardır.

4. Görseldeki hayvanlardan hangisinin adı, bir ünlü ve iki ünsüz harften oluşmaktadır?



5. Görseldeki varlığın adıyla ilgili yapılan değerlendirmeler şunlardır:



- İlk harfi ünlüdür.
- Baştan üçüncü harfi "n"dir.
- Ünlü harf sayısı, ünsüz harf sayısından azdır.

Bu değerlendirmelerden kaç tanesi doğrudur?

A) 1

B) 2

C) 3

6. Aşağıda bir sözcüğün harfleri karışık olarak verilmiştir.

SAKMA

Bu sözcikle ilgili görsel aşağıdakilerden hangisidir?


A)



B)



C)



7.

| | Sözcük | Ünlü Harfler | Ünsüz Harfler |
|---|----------|--------------|---------------|
| ■ | Çiçekçi | i, e, i | ç, ç, k, ç |
| ● | Portakal | o, a, a | p, r, t, k, l |
| ★ | Kahvaltı | a, a, ı | k, v, l, t |

Tabloda sembollerle gösterilen satırların hangisinde yanlışlık yapılmıştır?


A) ■

B) ●

C) ★

8. Aşağıdakilerden hangisinin adı, daha az harften oluşmaktadır?

A)



B)



C)



9. 1.



2.



3.



Numaralanmış görsellerden hangisinin adındaki tüm ünlü harfler aynıdır?

A) 1

B) 2

C) 3

10.



Alfabemizin 16. harfi nedir?



Alfabemizde "t" den sonra hangi harf gelir?



Alfabemizin son harfi hangisidir?

Çocukların sorulara verdiği cevaplar yan yana yazıldığında hangi meyvenin adına ulaşılır?

A) Muz

B) Nar

C) Dut

11. Aşağıdakilerden hangisi ünsüz harf ile başlayıp ünlü harf ile biter?

A) Ayrac

B) Takvim

C) Zimba

1. Aşağıdakilerden hangisi köşeli bir cisimdir?

A)



B)



C)



2. Aşağıdaki nesnelere hangisi köşeli nesnelere örnek olarak gösterilemez?

A)



B)



C)



3. Aşağıdaki nesnelere hangisi diğerlerinden farklı bir geometrik cisme benzerdir?


A)



B)



C)




4. Aşağıdaki varlıklardan hangisi küreye benzemektedir?


A)



B)



C)



5. Aşağıdaki ifadelerden hangisi doğrudur?

A) Küre yuvarlanabilir.

B) Kare prizmanın köşesi yoktur.

C) Kare prizmanın tüm görünen kısımları kare şeklindedir.

6. Aşağıdaki varlıklardan hangisi silindire benzemektedir?


A)



B)



C)




7. Aşağıdakilerden hangisi küp ve üçgen prizmanın ortak özelliklerinden biridir?

A) Köşelidir.

B) Yuvarlanabilir.

C) Tüm görünen kısımları üçgen biçimindedir.

8.



Verilen geometrik cisimlerden kaç tanesi dikdörtgen prizmadır?

A) 1

B) 2

C) 3

9.




Görseldeki varlık hangi geometrik cisme örnek olarak verilebilir?

A) Küp

B) Dikdörtgen prizma

C) Kare prizma

10.



Verilen geometrik cisme benzeyen nesne aşağıdakilerden hangisidir?

A)



B)



C)



1 ve 2. soruları aşağıdaki metne göre yanıtlayalım.

Can, zil çalar çalmaz bahçeye koştu. Bahçede öğrenciler sırayla kayıyordu. Can acele ettiği için sırada bekleyen Emre'nin önüne geçti. Emre bu duruma sinirlendi ve Can'ı uyardı. Can da sinirlenerek Emre'ye bağırdı. Zeynep, arkadaşlarının yanına gitti. Sakin ve nazik bir şekilde onlarla konuşarak hatalarını fark etmelerini sağladı. Sonunda Can ve Emre, sorunlarını konuşarak çözdüler.



1. Metinde Can hangi kurala uyumamıştır?

- A) Sınıf ve okulu temiz tutma
- B) Derslere zamanında girme
- C) Sıraya girme

2. Metne göre Can, Emre'ye aşağıdakilerden hangisini söylerse doğru davranmış olur?

- A) Derse geç kalmamak için sırada en öne geçmem gerekiyor.
- B) Özür dilerim, kurallara uymalı ve sıramı beklemeliydim.
- C) Sıra beklemekten hoşlanmadığım için en öne geçtim.

3. Arkadaşlık ilişkilerimizi geliştirmek için aşağıdakilerden hangisini yapmamız gerekir?

- A) Kimseyle fikir paylaşmamak
- B) Farklı fikirlere saygı duymak
- C) Sadece kendi düşüncemizi önemsemek

4. Aşağıdakilerden hangisi olumlu bir duygu, düşünce ya da davranışa örnek olarak gösterilebilir?

- A) Arkadaşına yardım etmek
- B) Başkalarına bağırmak
- C) Kurallara uymamak