

# 4.

## SINIF

4+4

I. DÖNEM  
SINAVI

II. DÖNEM  
SINAVI

# DENEME SINAVI SETİ

- TÜRKÇE
- MATEMATİK
- FEN BİLİMLERİ
- SOSYAL BİLGİLER
- İNGİLİZCE

70  
SORULUK

8 DENEME  
SINAVI

**BlokTest®**

## TÜRKÇE TESTİ

1. Bu testte 15 soru vardır.
2. Cevaplarınızı, cevap kâğıdında Türkçe testi için ayrılan yere işaretleyiniz.

1. Aşağıdaki atasözlerinden hangisi “İsteklerini uygun bir biçimde söylemesini bilen kimse, onları önünde sonunda elde eder.” anlamındadır?

- A) Ağız yer, yüz utanır.
- B) Açık ağız aç kalmaz.
- C) Ağızını açacağına gözünü aç.
- D) Ateş demekle ağız yanmaz.

2. Aşağıdakilerin hangisinde “inmek” sözcüğü diğerlerinden farklı bir anlamda kullanılmıştır?

- A) Paraşütle bu araziye indiler.
- B) Merdivenlerden yavaş yavaş ine-bildi.
- C) Fiyatını biraz inmeyince ceketi almadık.
- D) Alt kata asansörle inilmiyor.

3. Aşağıdaki cümlelerin hangisinde tek başına anlamı olmayan iki heceli bir sözcük vardır?

- A) Deniz ve güneşin tadını çıkarıyorum.
- B) Düğüne gelirim ama geç kalırım.
- C) İlk defa burada gördüm onu.
- D) Süre yetmeyince işini yarım bırakmak zorunda kaldı.

Güz ağaçları  
Altına dönüştürüp yapraklarını  
Savurganca ayaklarımızın altına serer  
Güz ağaçları  
Saçar dağıtır  
En güzel günlerini  
En yeşil anılarını


Ayla ÇINAROĞLU

(4 ve 5. soruları şiire göre yanıtlayın.)

4. Bu şiire getirilebilecek en uygun başlık aşağıdakilerden hangisidir?

- A) Güz Ağaçları
- B) Altın Yapraklar
- C) Yeşil Anılar
- D) Ağaçların Ölümü

5. Aşağıdaki görsellerden hangisi bu şiirin konusuyla ilgili değildir?



## TÜRKÇE TESTİ

Teselya'da gece eğlenceleri meşhurdu. Genç kızların parlak, mavi gözleri durgun denizlerde yansıyan kandiller gibiydi. Kışın ise kar eğlenceleri yapardı halk. Üzüm vakitleri bağ eğlenceleri olurdu. Kadınlar saçlarına renkli yazmalar takarlardı. Üzümlerin arasında başları, renkli kelebekler gibiydi. Tüm yıl süren bu türlü türlü eğlencelerin hepsine genç, yaşlı, kadın, erkek herkes katılırdı.

(6. ve 7. soruları parçaya göre yanıtlayın.)

6. Parçada geçen “deniz” sözcüğünün eş anlamlısı aşağıdakilerden hangisidir?

- A) Dere                      B) Göl  
C) Derya                     D) Okyanus

7. Yazar, kadınların başlarını neden renkli kelebeklere benzetmektedir?

- A) Üzümlerin arasında neşeyle doluştıkları için  
B) Başlarına renkli yazmalar taktıkları için  
C) Eğlencelerde hep birlikte dans ettikleri için  
D) Baharda eğlence düzenledikleri için

8. Bir mağazada kasiyer, müşterilere güler yüzlü davranır ve fazla para üstü verir. Müşterilerin tamamı kasiyeri uyarıp parayı iade eder. Kasiyer, daha sonra gelen müşterilere asık yüzlü, ilgisiz bir tutum takınır. Aynı şekilde para üstünü fazla verdiğinde bu müşterilerin hiçbiri onu uyarır.





**Aşağıdaki atasözlerinden hangisi bu parçadaki olayla ilgili değildir?**

- A) Tatlı dil yılanı deliğinden çıkarır.  
B) Dille düğümlenen dişle çözülmez.  
C) Ne doğrarsan aşına, o çıkar kaşığına.  
D) Hayır dile komşuna, hayır gele başına.

9.

Savaş	Sulh
Amaç	Barış
Gaye	Cenk

**Kutulardaki sözcüklerden eş anlamlı olanlar aynı renge boyandığında şeklin son hâli aşağıdakilerden hangisi olur?**

- A)                       C) 
- B)                       D) 

## TÜRKÇE TESTİ

6. Aşağıdaki cümlelerin hangisinde deyim, açıklamasıyla birlikte kullanılmamıştır?

- A) Ne olduğunu ondan öğrenmeye çalıştı, bir ağzını yokladı.
- B) Aslı faslı yok, uydurma haberlerle onu incitmek istiyorlar.
- C) Ortaklar, işleri yokuşa koştukları için zorlanıyoruz.
- D) Bugünden tezi yok, derhal işlerin başına geçiyorum.

7. Aşağıdakilerden hangisi bir paragrafın giriş cümlesi olabilir?

- A) Tüm bunlar tembelliğin sonuçlarıdır.
- B) Van Gölü, bölge halkı arasında "deniz" olarak adlandırılır.
- C) Tek seferde daha çok balık tutmanın yolunu arıyorlar.
- D) Kutup ayları da aç kalıyor.

8. Aşağıdakilerin hangisinde altı çizili sözcük ayraç içinde verilen anlamına uygun kullanılmamıştır?

- A) İnce temizlik yapacak bir temizlikçi arıyoruz. (Ayrıntılı)
- B) Bu esnek tavrı nedeniyle sözünü dinletemiyor. (Görüş ve tutumlarında katı olmayan)
- C) Bu nehrin denize ulaştığı yerde geniş bir ova vardır. (Elde etmek, erişmek)
- D) Başlarını sokacak bir çatı bile bulamadı kimi depremzedeler. (Barınılan, sığınılan yer)

9. Bu müziği oldum olası severim. Yumuşak melodilerden girişiyse ruhunu sararken birden yükselen tınıları insanda sarsıcı bir etki bırakıyor. Tadı damağınızda kalıyor.

**Bu parçada hangi duyu organımızla ilgili bir ayrıntıya yer verilmiştir?**

- A) Tatma
- B) Dokunma
- C) İşitme
- D) Koklama

10. I. Çünkü sıcak iklimlerin insanı da sıcak oluyor.  
II. Mesela Akdeniz insanı ne kadar candan.  
III. Soğuk iklimlerde ise insanlar daha mesafeli.  
IV. İklimin davranışlar üzerinde etkili olduğunu düşünüyorum.

**Numaralanmış cümlelerle anlamlı bir paragraf oluşturmak için sıralama aşağıdakilerden hangisi olmalıdır?**

- A) II - I - III - IV
- B) I - III - IV - I
- C) II - IV - I - II
- D) IV - II - I - III

11. İki kat yukarı çıktım. Buradan girişteki toprak yol çok net görülüyordu. Kenarlarında taş duvarlar yükseliyordu.  
**Bu metinde kaç tane eş sesli sözcük vardır?**

- A) 2
- B) 3
- C) 4
- D) 5

## MATEMATİK TESTİ

1. Bu testte 15 soru vardır.
2. Cevaplarınızı, cevap kâğıdında matematik testi için ayrılan yere işaretleyiniz.

1.

$$7125 - 2587$$

**Verilen çıkarma işleminin sonucu ile ilgili aşağıdakilerden hangisi söylenemez?**

- A) Birler bölümündeki rakamlarının toplamı 16'dır.
- B) Yüzler basamağındaki rakamı, onlar basamağındaki rakamından 2 eksiktir.
- C) Birler basamağındaki rakamı, yüzler basamağındaki rakamından 3 fazladır.
- D) Binler basamağındaki rakamının basamak değeri 4000'dir.

2.

$$\begin{array}{r} 3000 + 200 + 90 + 6 \\ + \quad \quad \quad 400 \\ \hline 3000 + 600 + 90 + 6 \end{array}$$

Verilen işlem çözümlene yoluyla zihinden toplama işlemi yapmak için kullanılmıştır.

**Zihinden yapılan bu işlem aşağıdakilerden hangisidir?**

- A)  $3296 + 400$
- B)  $3296 + 600$
- C)  $3496 + 200$
- D)  $3496 + 600$

3.

$$\begin{array}{l} 912 \div \blacksquare = 24 \\ \blacksquare \times 26 = \blacktriangle \end{array}$$

Yukarıdaki çarpma ve bölme işlemlerinde yer alan  $\blacksquare$  aynı sayıyı göstermektedir.

**Buna göre  $\blacktriangle$  değeri kaçtır?**

- A) 968
- B) 978
- C) 988
- D) 998

4.

$$\frac{8}{21} + \frac{\star}{21} + \frac{6}{21}$$

$\star$  sıfırdan farklı bir doğal sayıdır.

**Yukarıdaki işlemin sonucu basit kesir olduğuna göre  $\star$  yerine kaç farklı değer yazılabilir?**

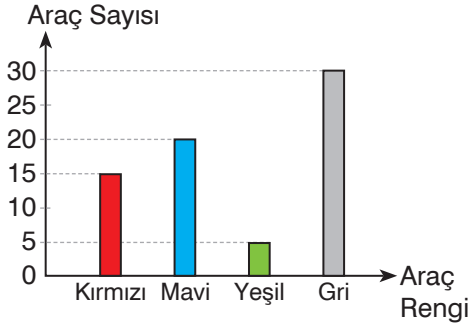
- A) 5
- B) 6
- C) 7
- D) 8

5. **Aşağıdaki yıllardan hangisinde şubat ayı 29 gün sürer?**

- A) 2019
- B) 2018
- C) 2017
- D) 2016

## MATEMATİK TESTİ

6. **Grafik: Otoparktaki Araçlar**

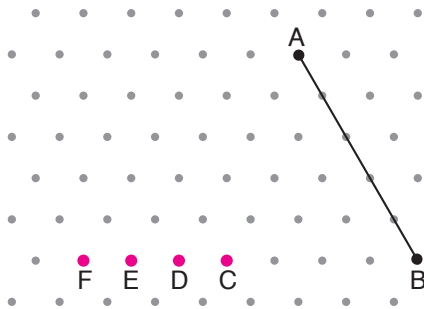


Grafikte, bir otoparktaki araçların renklerine göre sayıları gösterilmektedir.

**Buna göre aşağıdakilerden hangisi yanlıştır?**

- A) Otoparktaki gri araçların sayısı, kırmızı araçların sayısının 2 katıdır.  
 B) Otoparktaki araçların  $\frac{1}{3}$ 'ünün rengi mavidir.  
 C) Otoparktaki araçların  $\frac{3}{14}$ 'ünün rengi kırmızıdır.  
 D) Otoparktaki mavi araçların sayısı, kırmızı ve yeşil araçların toplam sayısına eşittir.

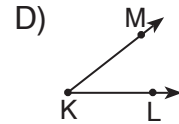
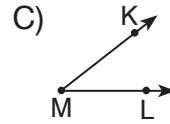
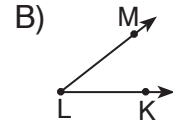
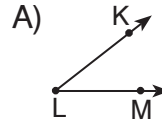
7.



**İzometrik kâğıttaki AB doğru parçası; C, D, E ve F noktalarından hangisi ile birleştirilirse bir eşkenar üçgen elde edilir?**

- A) C    B) D    C) E    D) F

8. **Aşağıdaki açılardan hangisinin kenarları KL ve KM ışınlarıdır?**



9. **Aşağıdaki harflerden hangisinin hem yatay hem dikey simetri doğrusu vardır?**

A) D

B) E

C) H

D) M

10.

$$900 \text{ cm} + 9 \text{ m} + 9 \text{ km}$$

**Verilen işlemin sonucu kaç metreye eşittir?**

A) 9909

B) 9180

C) 9099

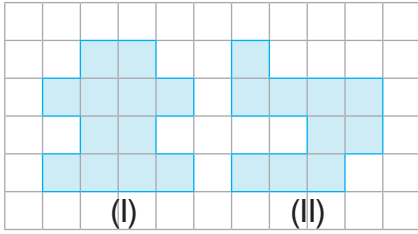
D) 9018

## MATEMATİK TESTİ

11. Aşağıdakilerden hangisinin çevre uzunluğu diğerlerinden farklıdır?

- A) Kısa kenar uzunluğu 18 cm ve uzun kenar uzunluğu 28 cm olan bir dikdörtgen
- B) Kısa kenar uzunluğu 14 cm ve uzun kenar uzunluğu 34 cm olan bir dikdörtgen
- C) Bir kenar uzunluğu 24 cm olan bir kare
- D) Kısa kenar uzunluğu 22 cm ve uzun kenar uzunluğu 26 cm olan bir dikdörtgen

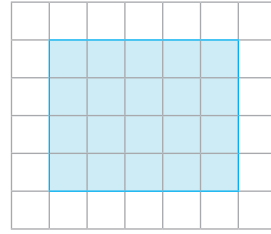
12.



Kareli kâğıtta verilen I ve II numaralı şekillere göre aşağıdaki ifadelerden hangisi yanlıştır?

- A) I. şeklin çevre uzunluğu 20 birimdir.
- B) II. şeklin alanı 10 birimkaredir.
- C) Şekillerin çevre uzunlukları eşittir.
- D) Şekillerin alanları eşittir.

13.



Kareli kâğıtta verilen dikdörtgenin alanının kaç birimkare olduğunu hesaplamak için aşağıdaki işlemlerden hangisi yapılamaz?

- A)  $4 \times 5$
- B)  $2 \times (5 + 4)$
- C)  $5 + 5 + 5 + 5$
- D)  $4 + 4 + 4 + 4 + 4$

14. Bir kutuda her biri çeyrek kilogram olan 27 tane bisküvi paketi vardır.

Kutu tartılınca 6 kg 860 g geldiğine göre kutu boşken kaç gramdır?

- A) 210
- B) 200
- C) 110
- D) 100

15. Aşağıdaki eşitliklerden hangisi yanlıştır?

- A)  $3 \text{ L } 650 \text{ mL} = 3650 \text{ mL}$
- B)  $5 \text{ L } 8 \text{ mL} = 5800 \text{ mL}$
- C)  $7090 \text{ mL} = 7 \text{ L } 90 \text{ mL}$
- D)  $8204 \text{ mL} = 8 \text{ L } 204 \text{ mL}$

MATEMATİK TESTİ BİTTİ.

## FEN BİLİMLERİ TESTİ

1. Bu testte 15 soru vardır.
2. Cevaplarınızı, cevap kâğıdında fen bilimleri testi için ayrılan yere işaretleyiniz.

1.



Altın



Gümüş



Bakır



Çinko

**Görseli verilen maddeler ile ilgili,**

- I. Farklı mineraller bulunduran kayalardandır.
- II. Ekonomik değerleri vardır.
- III. İşlenerek kullanılabilir hâle getirilirler.

**yorumlarından hangileri yapılabilir?**

- A) I ve II                      B) I ve III  
C) II ve III                     D) I, II ve III

2.



**Görseldeki bilim insanı ile ilgili,**

- I. Paleontologtur.
- II. Canlı kalıntıları üzerinde çalışmalar yapar.
- III. İncelediği canlıların tümünün günümüzdeki nesli tükenmiştir.

**ifadelerinden hangileri doğrudur?**

- A) Yalnız I                      B) Yalnız II  
C) I ve II                        D) I ve III

3. I. Kayaçlar, parçalanırsa daha küçük taneli hâle gelirler.  
II. Sıcaklık farkı şekillenmelerine neden olur.  
III. Bazıları inşaat, elektronik gibi sanayi alanlarında kullanılırlar.  
IV. Yeryüzünün su tabakasını oluşturlar.

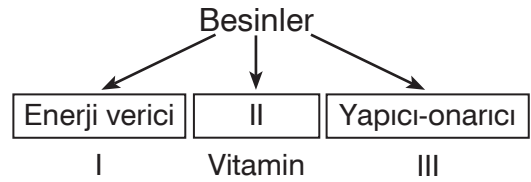
**Kayaçlar ile ilgili yukarıdaki bilgilerden hangisi yanlıştır?**

- A) IV      B) III      C) II      D) I

4. Fosiller ile ilgili aşağıdakilerden hangisi doğrudur?

- A) Kısa sürede oluşurlar.  
B) Canlının bir kısım ya da tamamı fosilleşmiş olabilir.  
C) Gelecek zaman ile ilgili bilgi verirler.  
D) Yalnızca hayvanlara ait olabilirler.

5.



**Şemada numaralanmış yerlere aşağıdakilerden hangileri yazılamaz?**

- I              II              III      
A) Vitamin      Su      Karbonhidrat  
B) Karbonhidrat      Düzenleyici      Protein  
C) Yağ      Düzenleyici      Protein  
D) Protein      Düzenleyici      Protein




## FEN BİLİMLERİ TESTİ

7. Aşağıdakilerden hangisi kuvvet etkisiyle gerçekleşmez?



*Dondurmanın erimesi*



*Elmanın ağaçtan düşmesi*



*Balonun saçı çekmesi*



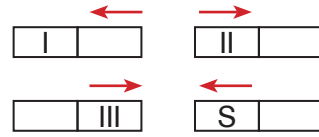
*Limonun sıkılması*

8. Hacmin birimi mL ya da L, kütlenin birimi g yada kg ile ifade edilebilir.

**Buna göre aşağıdaki eşitliklerden hangisi yanlıştır?**

- A) 1000 L = 1 mL  
 B) 1 kg = 1000 g  
 C) 1200 g = 1,2 kg  
 D) 30 L = 30 000 mL

9.



Şekildeki gibi hareket eden mıknatısların I, II ve III numaralı kutupları hangileri olabilir?

	I	II	III
A)	S	N	S
B)	N	S	N
C)	N	N	N
D)	S	S	N

10. • Alüminyum ve altın mıknatıs tarafından çekilir.   
 • Pusulanın ibresi mıknatıs özelliğlidir.   
 • At nalı, çubuk, halka mıknatıs çeşitlerindedir.

Yukarıdaki bilgilerden doğru olanların yanındaki kutucuklara D, yanlış olanlar için Y yazılacaktır.

**Buna göre kutucuklara yukarıdan aşağıya hangileri yazılmalıdır?**

- A) 

D
D
D

 B) 

D
Y
D

 C) 

Y
D
Y

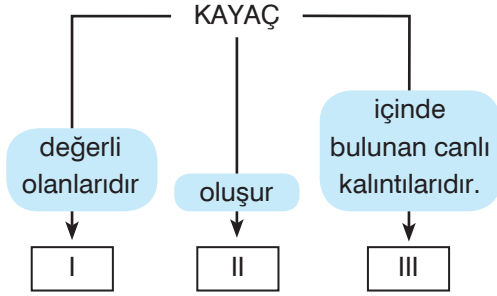
 D) 

Y
D
D

## FEN BİLİMLERİ TESTİ

1. Bu testte 15 soru vardır.
2. Cevaplarınızı, cevap kâğıdında fen bilimleri testi için ayrılan yere işaretleyiniz.

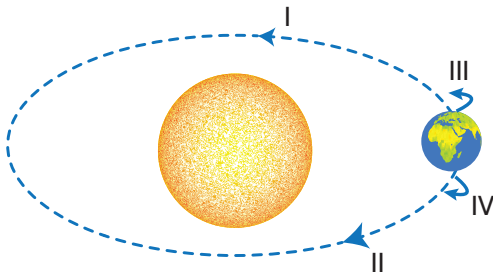
1.



Kavram haritasındaki numaralanmış yerlere aşağıdakilerden hangileri yazılmalıdır?

- |    | I       | II      | III     |
|----|---------|---------|---------|
| A) | Mineral | Maden   | Fosil   |
| B) | Maden   | Fosil   | Mineral |
| C) | Mineral | Fosil   | Maden   |
| D) | Maden   | Mineral | Fosil   |

2.



Dünya'da gece ve gündüz oluşumunu sağlayan hareket hangi numarayla gösterilmiştir?

- A) I      B) II      C) III      D) IV

3. Aşağıdakilerden hangisi bilinçli bir tüketicinin özelliği olamaz?

- A) Alışveriş yapmadan önce amacını belirler, plan yapar.  
B) Satın aldığı ürün ile ilgili haklarını bilir.  
C) Yüksek kalitedeki ürünleri uygun fiyata alır.  
D) Aldığı ürünün çevreye zararlı olup olmamasıyla ilgilenmez.

4. • Vücudumuzda yaralanan kısımların daha çabuk onarılmasını sağlar.  
• Vücudumuzun mikroplara karşı kendini korumasını sağlayan maddelerin yapısını oluşturur.

Sözü edilen besin içeriği aşağıdaki besinlerden hangisinde diğerlerine göre daha fazla bulunur?

- A) Makarna      B) Yumurta  
C) Elma      D) Zeytinyağı

5.

Sorular	Yanıtlar
1 Her besinde su ve mineraller bulunur mu?	Evet
2 Proteinler enerji verir mi?	Evet
3 Yağların tümü hayvansal kaynaklı mıdır?	Hayır
4 Sigara ve alkol bağımlılık yapar mı?	Hayır

Tabloda kaç numaralı sorunun yanıtı yanlış verilmiştir?

- A) 4      B) 3      C) 2      D) 1

## SOSYAL BİLGİLER TESTİ

1. Bu testte 15 soru vardır.
2. Cevaplarınızı, cevap kâğıdında sosyal bilgiler testi için ayrılan yere işaretleyiniz.

1. Yeni kimlik kartları on yıl boyunca geçerli olacağı için kimlik kartında son geçerlilik tarihi belirtilmiştir.

**Kimlik kartının yenilenmesiyle aşağıdakilerden hangisinin amaçlandığı söylenemez?**

- A) Vatandaşların kişisel bilgilerinde oluşan değişikliklerin güncellenmesi
- B) Teknolojideki gelişmelerin takip edilip aktarılabilmesi
- C) Kişinin hangi ülkenin vatandaşı olduğunun kanıtlanması
- D) Yeni güvenlik önlemlerinin yansıtılabilmesi

2. Hepimiz bugüne kadar pek çok olay yaşamışızdır. Ancak hayat öykümüz anlatılmak istense önemli gördüğümüz etkilendiğimiz, unutamadığımız olayları anlatırız. Bunu yaparken olayları oluş tarihlerine göre doğduğumuz andan günümüze doğru sıralarız.

**Verilen açıklamada altı çizili ifade aşağıdaki kavramlardan hangisini ifade etmektedir?**

- A) Kronoloji
- B) Zaman
- C) Tarih
- D) Öykü

3. Basketbol oynamayı çok seviyorum. Daha iyi basketbol oynayabilmek için hafta sonları kursa gidiyorum. İleride dünyaca ünlü bir basketbol takımında oynamak istiyorum.

**Bu açıklamayı yapan kişiyle ilgili,**

- I. Yetenekleri
- II. İlgisi
- III. Eğitim durumu

**gibi özelliklerinden hangilerine ulaşılabilir?**

- A) Yalnız I
- B) I ve II
- C) II ve III
- D) I, II ve III

4. 2017 yılında Ampute Futbol Millî Takımımız, İngiltere'yi 2 - 1 yenerek Avrupa Şampiyonu olmuştur.

**Buna göre bu oyuncularla ilgili,**

- I. Bedensel engelliliğin bir eksiklik değil sadece farklılık olduğunu göstermişlerdir.
- II. İnançlı ve azimli çalışmalarının sonucunu almışlardır.
- III. Engelli insanların moralini yükseltip onlara özgüven sağlamışlardır.

**yorumlarından hangileri yapılabilir?**

- A) Yalnız I
- B) I ve II
- C) II ve III
- D) I, II ve III

## SOSYAL BİLGİLER TESTİ

6. İnönü Savaşlarıyla Yunanlılara karşı başarı sağlanmıştır. Bunun ardından yeniden hücumla geçen Yunan ordusunun Kütahya - Eskişehir Savaşlarında bazı başarılar kazanması üzerine TBMM tarafından Mustafa Kemal'e yeni yetkiler verilmiştir.

**Bu bilgideki Mustafa Kemal'in yetkisi aşağıdakilerden hangisidir?**

- A) Başkomutanlık  
B) TBMM başkanlığı  
C) Milletvekilliği  
D) Cumhurbaşkanlığı

7. Millî Mücadele süreciyle ilgili aşağıdaki ifadelerden hangisi söylenemez?

- A) Ulusal birliğin sağlanması amacıyla Amasya, Erzurum ve Sivas'ta toplantılar yapılmıştır.  
B) Mustafa Kemal'in Samsun'a çıkmasıyla Kurtuluş Savaşı başlamıştır.  
C) Kurtuluş Savaşı Doğu, Güney ve Batı cephelerinde yaşanmıştır.  
D) Sakarya Savaşı'ndan sonra Mudanya Ateşkes Antlaşması imzalanmıştır.

8. Aşağıdaki Millî Mücadele Dönemi kahramanları ve savaştıkları yer eşleştirmelerinden hangisi doğru değildir?

Kahraman	Yer
A) Şahin Bey	Antep
B) Kazım Karabekir	İzmir
C) Ali Saip Bey	Urfa
D) Sütçü İmam	Maraş

9. Yön bulmada çeşitli yöntemler kullanılmaktadır.


**Bunlar arasında,**


- I. Pusula  
II. Kutup yıldızı  
III. Karınca yuvası


**gibi yöntemlerden hangileri yer alır?**


- A) Yalnız I  
B) I ve II  
C) II ve III  
D) I, II ve III

10. Aşağıdaki görsellerden hangisi doğal unsurlar arasında yer alır?

A)  Köprü

B)  Tünel


C)  Dağ

D)  Baraj

## SOSYAL BİLGİLER TESTİ

6. İnsanların beslenmesini sağlayan yiyecek ve içecek türlerinin hazırlanma, pişirilme, saklanma ve tüketilme biçimleri kişilerin ait olduğu toplumun mutfak kültürünü oluşturur. Ülkemizin de coğrafi konumu ve uzun tarihsel süreci nedeniyle köklü ve çok yönlü bir mutfak kültürü vardır.

**Buna göre aşağıdakilerden hangisi Türk mutfak kültürüne ait unsurlardan biri değildir?**



7. Mondros Ateşkes Antlaşması'nın imzalanmasının ardından başlayan işgaller yurdun çeşitli yerlerinde tepkiyle karşılanmıştır.

**Buna göre aşağıdakilerden hangisi işgallere karşı gösterilen tepkilerden biri değildir?**

- A) Kuvâ-yı Millîye birliklerinin kurulması  
B) Müdafaa-i Hukuk Cemiyetlerinin yaygınlaşması  
C) Mevcut rejimin değiştirilmesi  
D) Kongreler düzenlenmesi

8. Osmaniyeli Tayyar Rahmiye Hanım Adana'yı işgal eden Fransız kuvvetlerine karşı gönüllülerden kurduğu müfrezesinin başında Millî Mücadele'ye katıldı.

**Buna göre,**

- I. Güney Cephesi'nin Fransızlar tarafından işgal edildiği  
II. Kurtuluş Mücadelesi'nde erkeklerin yanında kahraman kadınların da görev aldığı  
III. Fransızların Ermenilerle iş birliği yaptığı

**bilgilerinden hangilerine ulaşılabilir?**

- A) Yalnız I  
B) I ve II  
C) II ve III  
D) I, II ve III

9. Aşağıdaki savaşların hangisinde kazanılan zaferden sonra TBMM tarafından Mustafa Kemal'e "Mareşal" rütbesi ve "Gazi" unvanı verilmiştir?

- A) Sakarya  
B) I. İnönü  
C) II. İnönü  
D) Eskişehir - Kütahya

## İNGİLİZCE TESTİ

1. Bu testte 10 soru vardır.
2. Cevaplarınızı, cevap kâğıdında İngilizce testi için ayrılan yere işaretleyiniz.

1.



Görseli verilen eşya ile ilgili hangisi söylenebilir?

- A) It is a computer.
- B) It is a television.
- C) It is a notebook.
- D) It is a school bag.

2. Resim ve cümle eşleştirmelerinden yanlış olan hangisidir?

A)



Raise your hand!

B)



Stand up!

C)




Write your name!

D)



Close the door!

3.



Resme uygun olan hangisidir?

- A) Write your name!
- B) Clean the board, please.
- C) Please come in.
- D) Be quiet, please.

4. **Jean** : Give me the book, please.

**Mark** : \_\_\_\_\_

**Jean** : Give me the book, please.

**Diyaloğu doğru tamamlayan ifade aşağıdakilerden hangisidir?**

- A) Here you are.
- B) Say that again, please.
- C) The book, please.
- D) Of course.

5. What nationality are you?

**Aşağıdakilerden hangisi verilen soruya uygun bir yanıt olamaz?**

- A) Turkey.
- B) German.
- C) Greek.
- D) English.

## İNGİLİZCE TESTİ

6. I am from the USA. I am \_\_\_\_\_.  
**Boşluğa uygun ifade hangisidir?**

- A) Turkish
- B) American
- C) English
- D) Spanish

7.



Four.

**Yukarıdaki yanıtı alabilmek için sorulması gereken soru hangisidir?**

- A) Where do you come from?
- B) What is your favourite lesson?
- C) What is your nationality?
- D) How many languages do you speak?

8. Where is İzmir?

**Verilen sorunun yanıtı aşağıdakilerden hangisidir?**

- A) It's in the east.
- B) It's in the north.
- C) It's in the west.
- D) It's in the south.

9. Thomas speaks Spanish and \_\_\_\_\_.

**Boşluğa uygun olan ifade hangisidir?**


- A) Mexico
- B) Italian
- C) Poland
- D) Portugal

10. Verilen eşleştirmelerden hangisi doğru değildir?

A)  pencil sharpener

B)  ruler

C)  notebook

D)  pen

**İNGİLİZCE TESTİ BİTTİ.**

## İNGİLİZCE TESTİ

1. Bu testte 10 soru vardır.
2. Cevaplarınızı, cevap kâğıdında İngilizce testi için ayrılan yere işaretleyiniz.

1.



I can \_\_\_\_\_ at the park.

**Resme göre boşluğa hangisi getirilmelidir?**

- A) slide                      B) jump  
C) swing                      D) run

2.

Mary likes cycling.

**İfadeye göre Mary hangisidir?**

A)



B)



C)



D)



3. **Bill** : Can you play the guitar?

**Jane** : \_\_\_\_\_

**Diyaloğu hangi ifade doğru tamamlamaz?**

- A) Yes, you can.  
B) No, I can't.  
C) Yes, I can.  
D) Yes, I can play the guitar.

4. **Nina** : Is this \_\_\_\_\_ bike?

**Tina** : No, it's Jill's bike.

**Diyaloğu doğru tamamlayan ifade hangisidir?**

- A) I'm                      B) you  
C) she                      D) your

5. **Phil** : \_\_\_\_\_

**Gina** : No, they aren't.

**Hangi ifade diyalogu doğru tamamlar?**

- A) Can you climb a tree?  
B) Are these your books?  
C) Is this his flute?  
D) Do you like diving?