

5. SINIF

KOD 32

SOSYAL BİLGİLER

32
HAFTA

4 HAFTALIK TEKRAR

KOLAY - ORTA
DÜZEY SORULAR

Alıştırma

Klasik Test

Yeni Nesil
Test

Çek-Kopar
Sayfalar

QR Kodlu
KONU ÖZETİ
HEDİYE



Tamamı
Video
Çözümlü



AKILLI
TAHTA
UYUMLU



mobİL
analiz

tudem



Konu
Özeti

Birey ve Toplum









Öğrendiklerimi Uyguluyorum

Hafta

1

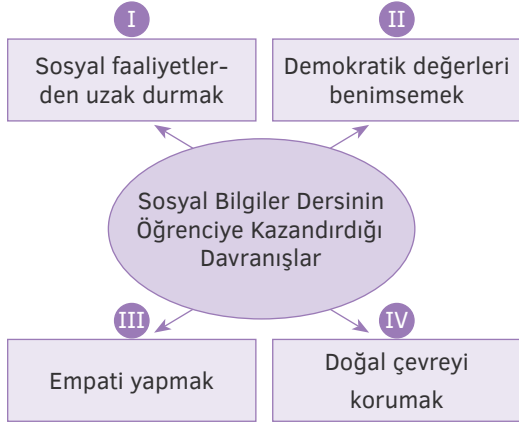
ALİŞTIRMA

Sosyal Bilgilerin içerdiği alanları aşağıdaki boşluklara yazın.





1.



Şemada numaralanmış ifadelerden hangisi kullanılamaz?

- A) I B) II C) III D) IV

2. Hak ve özgürlükler ile görev ve sorumlulukların kavranmasını sağlayan ders aşağıdakilerden hangisidir?

- A) Fen Bilimleri B) Sosyal Bilgiler
C) Türkçe D) Matematik

3. Sosyal Bilimler için aşağıdakilerden hangisi söylenemez?

- A) Bireyin sosyal çevresiyle olan ilişkilerini açıklamaya çalışır.
B) İnsan ve doğal çevre arasındaki etkileşimi açıklar.
C) İnsanların biyolojik yapısını ve genetik özelliklerini inceler.
D) Vatandaş olarak görev ve sorumluluk bilinci kazandırır.

4. Kerem Öğretmen, öğrencilerine “Sosyal Bilgiler dersinde öğrendiklerinizin size ne gibi faydaları oldu?” sorusunu yöneltmiştir.

Buna göre aşağıdakilerden hangisi bu soruya verilecek cevaplardan değildir?

- A) Ülkemi ilgilendiren konularda fikirler üretiyorum.
B) Kültürel mirası koruma konusunda duyarlıyım.
C) Haklarımı ve sorumluluklarımı biliyorum
D) Sorunları çözerken kendi çıkarlarımı doğrultusunda hareket ediyorum.

5. I. İnsan haklarının doğuştan ve vazgeçilmez olduğunu bilir.
II. Farklı düşüncelere sahip insanlara saygı gösterir.
III. Toplumsal nitelikte sorunlar karşısında kayıtsız kalır.

Verilenlerden hangileri Sosyal Bilgiler eğitimi almış öğrencilerin özellikleri arasında gösterilebilir?

- A) Yalnız II B) I ve II
C) I ve III D) I, II ve III

6. Aşağıdakilerden hangisi Sosyal Bilgiler dersinde yararlanılan bilimlerden biri değildir?

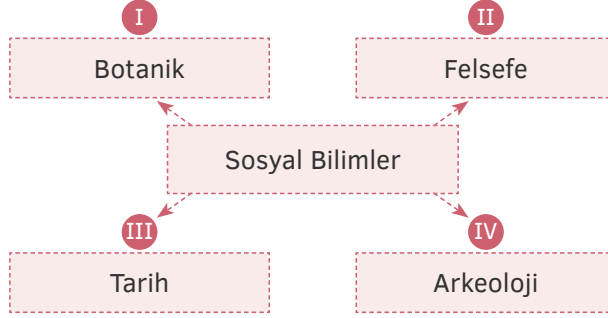
- A) Arkeoloji B) Biyoloji
C) Sosyoloji D) Tarih

Mobil Analiz'le QR kod okut!





1.



Verilen şemada numaralanmış ifadelerden hangisi kullanılamaz?

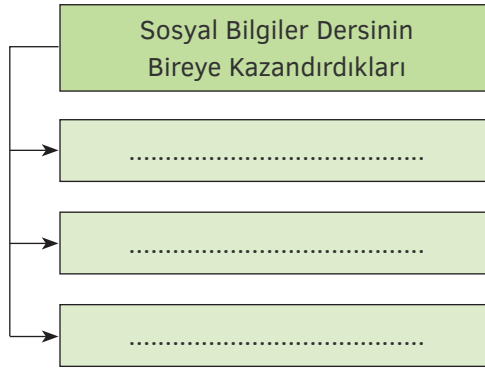
A) I

B) II

C) III

D) IV

2.



Diyagram aşağıdaki ifadelerden hangisi ile tamamlanamaz?

A) Sorumluluklarını bilen bir vatandaş olarak yetişmemizi sağlar.

B) Kültürel mirasın korunması gerektiğini kavratır.

C) Canlıları benzerlik ve farklılıklarına göre sınıflandırmayı öğretir.

D) İlgi, istek ve yeteneklerimizin farkına varmamızı sağlar.

3. Bireye yakın ya da uzak geçmişte yaşanmış olayları anlatarak ders çıkarmasını sağlayan ve insanlık geçmişi hakkında bilgi veren sosyal bilim dalı aşağıdakilerden hangisidir?

A) Tarih

B) Coğrafya

C) Arkeoloji

D) Psikoloji

4.



Yaşadığımız mahallede bir haftadır çöpler temizlenmiyor. Çöp kovalarında yer kalmadığı için artık komşularımız çöpleri dışarı bırakmak zorunda kalıyor. Bu durumun sonucunda çöplerin kokusu evlere kadar gelmeye başladı. Hatta kaldırımda yürünecek yer kalmadı.

Buna göre yaşanan sorun karşısında Sosyal Bilgiler eğitimi almış bir birey aşağıdakilerden hangisini gerçekleştirmelidir?

- A) Bu duruma tepki vermemelidir.
- B) Yaşadığı yerin belediyesine dilekçe yazmalıdır.
- C) Komşularının bahçelerine çöpleri geri atmalıdır.
- D) Aile bireyleri ile birlikte haftanın belirli günlerinde çöpleri toplamalıdır.

5. Sosyal Bilgiler; bireyler yetiştirmeyi hedefler.

Cümlede boş bırakılan yere aşağıdakilerden hangisi getirilemez?

- A) eleştiren ve sorgulayan
- B) demokratik değerleri benimseyen
- C) topluma ve çevreye duyarlı
- D) başkalarının hakkını gözetmeyen

6. • Vergileri zamanında ödemek
• Ülke yönetimine katkı sağlamak
• Seçimlerde oy kullanmak
• Askerlik görevini yerine getirmek
• Kanunlara uygun davranmak

Yukarıdakilerden kaç tanesi bireylerin etkin bir vatandaş olması için yapması gerekenler arasında gösterilebilir?

- A) 2
- B) 3
- C) 4
- D) 5

Mobil Analiz'le QR kod okut!



Dijital
Optik



Konu
Özeti

Birey ve Toplum

Olaylar ve Sonuçları

Hafta

2

ALİŞTIRMA

Aşağıdaki sorunların nedenlerini ve sonuçlarını boşluklara yazın.

Nedenleri

1.
2.
3.




Trafik Kazası

Sonuçları

1.
2.
3.

1.
2.
3.



Küresel Isınma

1.
2.
3.

1.
2.
3.



Erozyon

1.
2.
3.

1.
2.
3.



Göç

1.
2.
3.



1. 6. sınıf öğrencisi Şevval; araştıran, sorgulayan, çevresindeki olaylara farklı açılardan bakan ve eleştirebilen bir öğrencidir.

Buna göre Şevval hakkında aşağıdakilerden hangisi söylenemez?

- A) Belirli bir bilgi birikimi vardır.
B) Olayların altında yatan nedenleri önemsememektedir.
C) Çok boyutlu düşünmektedir.
D) Olayların değerlendirmesini yapmaktadır.

2. Bir olayın birden fazla sebebi ve sonucu olabilir. Bu nedenle olayları değerlendirirken...

Bu cümle aşağıdakilerden hangisi ile tamamlanamaz?

- A) çok boyutlu düşünmeliyiz.
B) olaydan etkilenen her unsuru göz önünde bulundurmalıyız.
C) eleştirel ve sorgulayıcı olmalıyız.
D) taraflı bir bakış açısına sahip olmalıyız.

3. Olayları çok boyutlu değerlendirmek için

- I. Geniş bakış açısı
II. Farklı fikirlere saygı
III. Olaylar arasında bağlantı kurma

özelliklerinden hangileri gereklidir?

- A) Yalnız I
B) I ve II
C) II ve III
D) I, II ve III

4. Bir olay ya da olgu değerlendirilirken aşağıdakilerden hangisi yapılmaz?

- A) Nedenlerinin araştırılması
B) Çözüm önerilerinin düşünülmesi
C) Sonuçların önemsenmemesi
D) Olayın tüm boyutlarının incelenmesi

5. Olaylar hakkında doğru bir değerlendirme yapabilmek için aşağıdaki yöntemlerden hangisi uygulanmalıdır?

- A) Olayın sadece nedenleri sorgulanmalıdır.
B) Olayın yalnız bizi etkileyen sonuçları incelenmelidir.
C) Olayın olumsuz etkilerine bakılmamalıdır.
D) Olayın bütün neden ve sonuçları araştırılmalıdır.

6. I. Olayların her zaman tek nedeni vardır.
II. Bir olay birden fazla sonuca yol açabilir.
III. Olayların değerlendirilmesi kişilere göre değişebilir.

Verilen ifadelerden hangileri doğrudur?

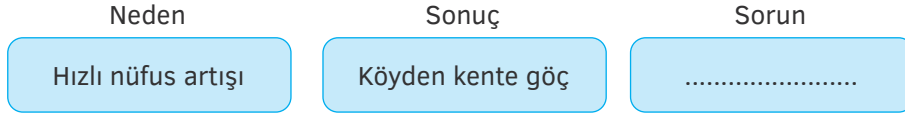
- A) Yalnız II
B) I ve III
C) II ve III
D) I, II ve III

Mobil Analiz'le QR kod okut!





1.



Şemada boş bırakılan yere aşağıdakilerden hangisi getirilemez?

- A) Çarpık kentleşme
B) Tarımda makineleşme
C) Çevre sorunları
D) Kültür çatışması

2. Aşağıdakilerin hangisinde kurulan neden-sonuç ilişkisi yanlıştır?

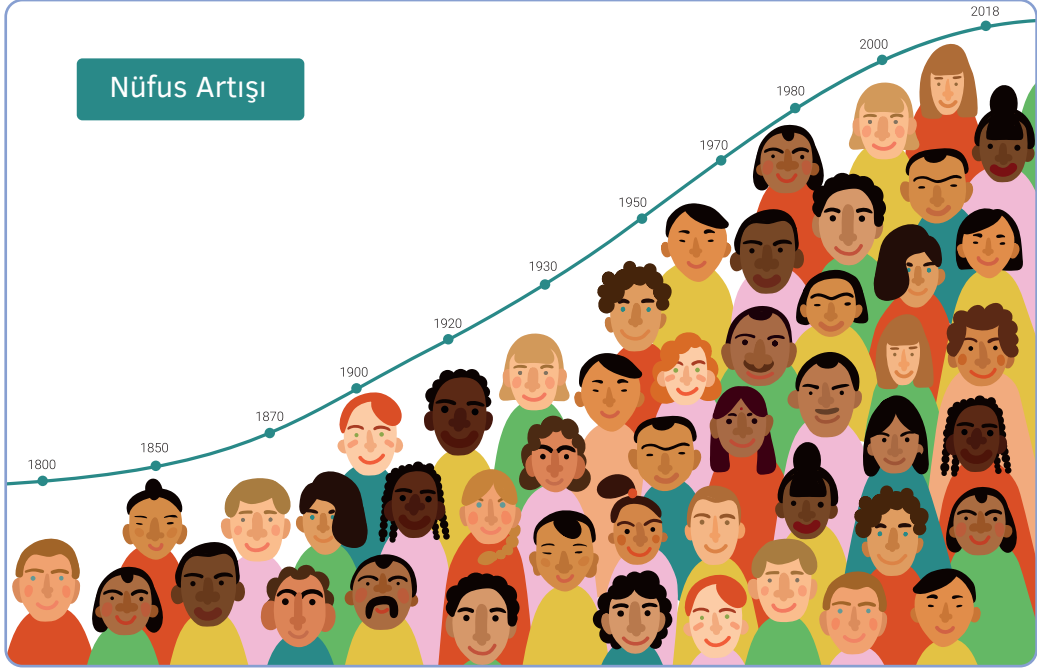
- A) Çevre kirliliğinin artması → Fosil yakıtların aşırı kullanılması
B) Pusulanın bulunması → Coğrafi keşiflerin başlaması
C) Devletler arası çıkar çatışmalarının artması → Savaşların yaşanması
D) Hızlı nüfus artışının olması → İşsizliğin artması

3. Doğal çevrenin bilinçsiz şekilde kullanımı ve fosil yakıtların aşırı tüketimi çevre kirliliğine yol açar. Bu durum bitki ve hayvan türlerini tehdit eder. Aynı zamanda ciddi sağlık sorunlarının başlamasına ve ekolojik dengenin bozulmasına yol açar.

Buna göre aşağıdakilerden hangisine ulaşamaz?

- A) Olayların birden fazla nedeni olabileceği göz önünde bulundurulmalıdır.
B) Olaylara tek açıdan değil, geniş bir çerçeveden bakmak gerekir.
C) Olaylar karşısında tüm insanlar aynı bakış açısına sahip olmalıdır.
D) Olayların sonuçlarının yeni olaylara yol açabileceği düşünülmelidir.

4.



Görseli verilen sorunun nedenleri ve sonuçları aşağıdakilerin hangisinde doğru verilmiştir?

Nedenleri

- A) Aile planlamasındaki yetersizlik
- B) Aşırı sıcaklar
- C) Devletlerin çıkar çatışması
- D) Eğitim hizmetlerinin artması

Sonuçları

- A) Doğal kaynakların hızla tükenmesi
- B) Eğitimin yetersiz kalması
- C) Orman varlığının yok olması
- D) Ekolojik dengenin bozulması

5. Olaylar ve sonuçları ile ilgili aşağıdakilerden hangisi yanlıştır?

- A) Aynı olay tüm insanları aynı şekilde etkiler.
- B) Bir olayın birden fazla sebebi olabilir.
- C) Bir olayın birçok alanda etkileri görülebilir.
- D) Bir olayın nedeni, başka bir olayın sonucu olabilir.

6. • Memlûk Devleti ne zaman yıkıldı?
• Halifelik unvanı ne zaman Osmanlı Devleti'ne geçti?

Bu sorulara bakılarak,

- I. Aynı olay birden fazla toplumu etkilemiştir.
 - II. Bahsedilen olaylar evrensel nitelik taşımaktadır.
 - III. Osmanlı ekonomik alanda büyüme göstermiştir.
- yargılarından hangisine ulaşılabilir?

- A) Yalnız I
- B) I ve II
- C) I ve III
- D) I, II ve III

Mobil Analiz'le QR kod okut!



Dijital
Optik



Konu
Özeti

Birey ve Toplum

Haklarımı ve Sorumluluklarımı Biliyorum

ALİŞTİRMA

Hafta

3

Aşağıdaki sorumlulukları evde, okulda ve toplumda yerine getirilmesi gerekenler olarak belirleyin. Yanlarındaki kutucuklara ait oldukları yerleri yazın.



A. Evde



B. Okulda



C. Toplumda

1 Yemeklere zamanında gelmek

.....

2 Otobüse sırayla binmek

.....

3 Okul araç gereçlerini dikkatli kullanmak

.....

4 Yaşlılara yardım etmek

.....

5 Odanı temiz tutmak

.....

6 Yeşil alanları korumak

.....

7 Öğretmenlerinin sözünü kesmemek

.....

8 Sınıf disiplini bozmamak

.....

9 Karşıdan karşıya geçerken yaya kaldırımını kullanmak

.....

10 Ödevlerini zamanında yapmak

.....



1. Pelin bir kurumda bilgisayar mühendisi olarak çalışmaktadır. Aynı zamanda bir eş, anne ve tiyatro kulübünde oyuncudur.

Buna göre Pelin ile ilgili aşağıdakilerden hangisi söylenemez?

- A) Farklı gruplarda farklı rolleri vardır.
B) Çalışan bir annedir.
C) Sosyal bir faaliyeti vardır.
D) Sorumluluklarını yerine getirmemektedir.

2. I. Konu ile ilgili etkinlikler yaptırmak
II. Sınıf düzenin sağlanmasında yardımcı olmak
III. Okul kurallarını belirlemek

Hangileri sınıf başkanının görev ve sorumlulukları arasında yer alır?

- A) Yalnız I
B) Yalnız II
C) I ve III
D) I, II ve III

3. “..... , bir işle ilgili sorumlulukların kişiler arasında dağıtılmasıdır.”

Cümledeki boşluğa aşağıdakilerden hangisi getirilmelidir?

- A) İş bölümü
B) Hoşgörü
C) Saygı
D) Sevgi

4. **En sevdiği arkadaşı Berk’in sokağı kirlettiğini gören Aziz aşağıdakilerden hangisini yapmalıdır?**

- A) Arkadaşını kırmamak için bu durumu görmezden gelmelidir.
B) Çöpü görülmeyecek bir yere saklamalıdır.
C) Arkadaşına yaptığının yanlış olduğunu söyleyip çöp kutusuna atmasını sağlamalıdır.
D) Arkadaşını öğretmenine şikâyet etmelidir.

5. I. Her grubun kendine ait kuralları vardır.
II. Her grubun görevi farklıdır.
III. İnsanların her grup içinde rolleri farklıdır.

Verilen ifadelerden hangileri doğrudur?

- A) Yalnız I
B) I ve II
C) II ve III
D) I, II ve III

6. **İşlerin daha kısa sürede ve daha etkili bir biçimde tamamlanması için aşağıdakilerden hangisi yapılmamalıdır?**

- A) İş birliği içinde olmalı
B) Takım çalışması yapmalı
C) Sorumluluklar yerine getirilmeli
D) İşleri başkasının yapması beklenmeli

Mobil Analiz'le QR kod okut!





1. I. Odasını temiz ve düzenli tutmak
II. Öğretmenin sözünü kesmemek
III. Çöpleri çöp kovasına atmak

Verilen sorumlulukların ait olduğu alanlar aşağıdakilerin hangisinde doğru verilmiştir?

	I	II	III
A)	Okul	Çevre	Ev
B)	Ev	Çevre	Okul
C)	Ev	Okul	Çevre
D)	Çevre	Okul	Ev

2.



Görüşleri, amaçları, çıkarları bir olan kişiler bütününe denir.



Genellikle devletle ilişkisi olan, topluma hizmet eden örgütlere denir.

Aşağıdaki birimlerden hangisi tanımları verilen iki kavrama da örnek gösterilebilir?

- A) Aile B) Hastane C) Sağlık Ocağı D) Yüzme kursu

3. Ali, Zeynep ve Senem ateşi beraber yaktı. Ali ve Senem çadırı kurarken Zeynep yiyecekleri hazırlamaya başladı. Üç arkadaş iş birliği yaparak işleri kolayca bitirdiler.

Parçada verilen iş birliği aşağıdakilerden hangisinde gerçekleşmiş olabilir?

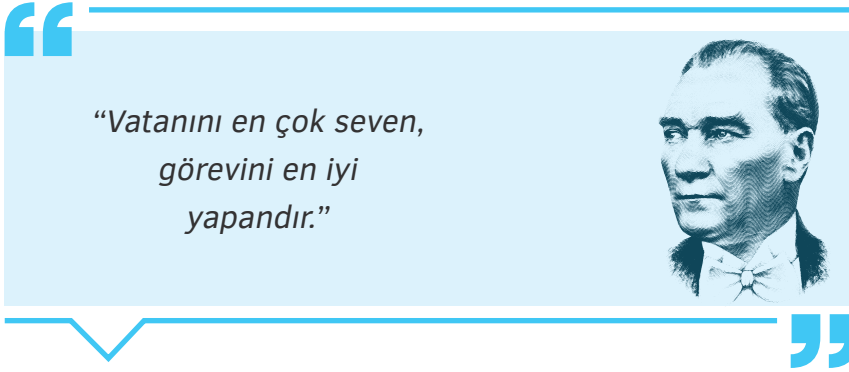
- A) Kampta B) Okulda C) Evde D) Sınıfta

4. Hakan'ın annesi aynı zamanda okulda onun Sosyal Bilgiler öğretmeni. Hakan sınıfta annesine, "öğretmenim" demek yerine yanlışlıkla "anne" demiştir.

Buna göre aşağıdakilerden hangisi söylenemez?

- A) Hakan, annesinin okulda öğretmeni olması nedeniyle rol çatışması yaşamıştır.
B) Hakan, anne ve öğretmen rollerini karıştırmıştır.
C) Hakan, annesinin öğretmen olmasından rahatsızdır.
D) Hakan'ın annesinin okuldaki rolü öğretmendir.

5.



Mustafa Kemal Atatürk verilen sözü ile aşağıdakilerden hangisini doğrudan vurgulamıştır?

- A) Askere gidilmesi gerektiğinin
B) İş sahibi olunması gerektiğinin
C) Düşünce ve ifade özgürlüğünün
D) Sorumluluk sahibi olmanın

6. Tabloda bazı gruplar ve bu gruplara ait roller verilmiştir.

Kişi	Grup	Rol
Ayşe	Tiyatro kulübü	Oyuncu
Ali	Günaltay ailesi	Abi
Sevgi	Reşit Paşa İlkokulu	Öğrenci
Tugay	Futbol kulübü	Amca

Tablodaki rollerden kaç tanesi doğru verilmiştir?

- A) 1 B) 2 C) 3 D) 4

Mobil Analiz'le QR kod okut!



Dijital
Optik



Konu
Özeti

Birey ve Toplum

Çocuk Hakları

ALİŞTİRMA

Aşağıdaki durumlara bağlı kalarak verilen soruları cevaplayın.



12 yaşındaki Ali, babası vefat ettikten sonra annesine ve kız kardeşine bakmak için okulu bırakıp çalışmak zorunda kalmıştır.



1. Bu durumda hangi çocuk hakları ihlal edilmiştir?

.....
.....

2. Ali'nin yaşamı nasıl etkilenmiştir?

.....
.....
.....
.....



Köylerindeki sağlık ocağına doktor atanmaması sonucunda Güneş olması gereken aşıyı olamamış ve hastalanmıştır.



1. Bu durumda hangi çocuk hakları ihlal edilmiştir?

.....
.....

2. Güneş'in yaşamı nasıl etkilenmiştir?

.....
.....
.....
.....



Zeynep'in okuldaki arkadaşları ailelerinden izin alarak mahallerindeki bahçede oyun oynamaya çıkmışlardır. Fakat Zeynep'in ailesi, kızlarının sadece ders çalışmasını istemiş ve arkadaşları ile vakit geçirmesine izin vermemiştir.



1. Bu durumda hangi çocuk hakları ihlal edilmiştir?

.....
.....
.....

2. Zeynep'in yaşamı nasıl etkilenmiştir?

.....
.....
.....



1. Çocuk haklarıyla ilgili aşağıdakilerden hangisi yanlıştır?

- A) Her çocuk düşüncesini özgürce açıklama hakkına sahiptir.
- B) Çocuklar cinsiyetleri nedeniyle ayrıma tabi tutulabilir.
- C) Her çocuğun oyun, eğlence ve kültürel etkinliklere katılma hakkı vardır.
- D) Zihnen ve bedenen engelli her çocuk aile ve devlet tarafından özel olarak korunmalıdır.

2. Aşağıdakilerden hangisi Çocuk Hakları Sözleşmesi'ne aykırı bir ifadedir?

- A) Çocukların görüşlerini dile getirme hakkı vardır.
- B) Çocuklara din ve vicdan hürriyeti verilemez.
- C) Hiçbir çocuğa ırkı yüzünden ayırım yapılamaz.
- D) Ülke yasalarının belirlediği yaş ve sınırların altındaki çocuklar işçi olarak çalıştırılmaz.

3. Her insan yaşına kadar çocuk sayılır ve Çocuk Haklarına Dair Sözleşme'de belirtilen bütün haklara sahiptir. Cümledeki boşluğa aşağıdakilerden hangisi getirilmelidir?

- A) 12 B) 15 C) 18 D) 20

4. I. Her çocuğun sıcak bir yuvaya ve bir aileye sahip olma hakkı vardır.
II. Her çocuğun kültürel ve sanatsal yaşama serbestçe katılma hakkı vardır.
III. Her çocuğun silahtan, savaştan ve uyuşturucu maddelerden korunma hakkı vardır.

Hangileri Çocuk Hakları Sözleşmesi'nde yer alır?

- A) Yalnız III B) I ve II
C) I ve III D) I, II ve III

5. Aşağıdakilerden hangisi çocukların korunması gereken durumlardan biri değildir?

- A) Zorunlu eğitim görmeleri
- B) Ağır işlerde çalışmaları
- C) Şiddet ve kötü muamele görmeleri
- D) Savaş ve çatışma ortamında yaşamaları

6. Her yıl bugün "Dünya Çocuk Hakları Günü" olarak kutlanmaktadır.

Cümlede bahsedilen tarih aşağıdakilerden hangisidir?

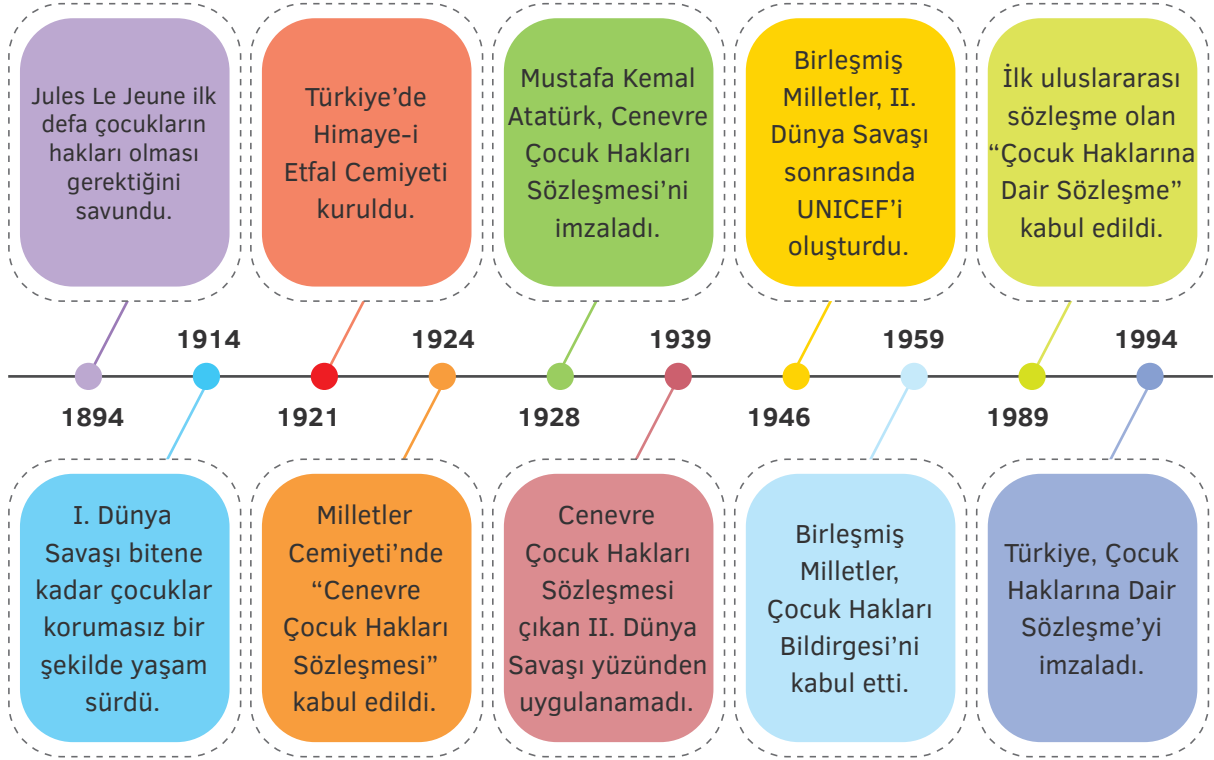
- A) 20 Kasım B) 1 Mayıs
C) 21 Eylül D) 8 Mart

Mobil Analiz'le QR kod okut!





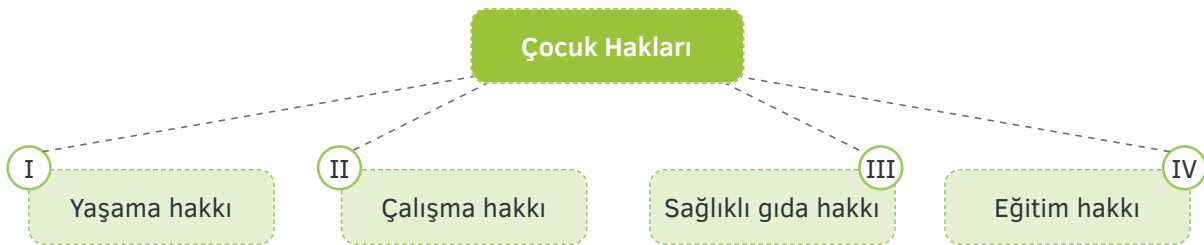
1.



Buna göre verilen tarih şeridinde en uygun başlık aşağıdakilerden hangisidir?

- A) Dünya Savaşlarının Toplumsal Etkileri
- B) Geçmişten Günümüze Çocuk Hakları
- C) Avrupa ve Türkiye'deki Sosyal Yaşam
- D) İfade ve Düşünce Özgürlüğündeki Değişim

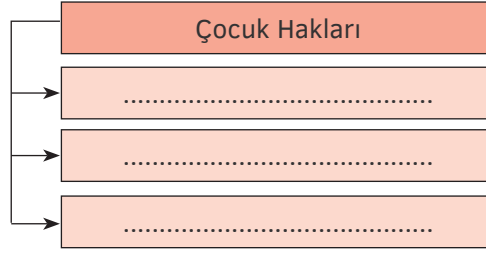
2.



Verilen şemada numaralanmış ifadelerden hangisi kullanılamaz?

- A) I
- B) II
- C) III
- D) IV

3.



Diyagramda boş bırakılan yerlere aşağıdakilerden hangisi getirilemez?

- A) Düşünce ve ifade özgürlüğü
C) Siyasi faaliyette bulunma hakkı

- B) Din ve vicdan özgürlüğü
D) Özel yaşamı saklı tutma hakkı

4. Çocuk haklarının korunması için kurulmuştur. Dünyanın her yerinde herhangi bir ayırım yapmadan çocuklara yardım etmektedir.

Sözü edilen kuruluş aşağıdakilerden hangisidir?

A)



B)



C)



D)



5. Müge Öğretmen, Çocuk Hakları konusunu bitirdikten sonra öğrencilerden akıllarında nelerin kaldığını defterlerine yazmalarını istemiştir. Aslan'ın yazdıklarının görseli şu şekildedir:

<p>I. Çocukların doğuştan sahip oldukları haklara çocuk hakları adı verilmektedir.</p>	<p>II. Birleşmiş Milletler 1989 yılında Çocuk Haklarına dair Sözleşme'yi imzalamıştır.</p>
<p>III. Çocuk hakları; renk, dil, din gibi farklılıkları gözetmeden uygulanmalıdır.</p>	<p>IV. Dünyanın her yerinde çocuklar haklarını, etkin ve eşit biçimde kullanabilmektedir.</p>

Buna göre Aslan yazdığı listenin kaçınıcı maddesinde yanlışlık yapmıştır?

A) I

B) II

C) III

D) IV

Mobil Analiz'le QR kod okut!

Dijital
Optik